



おうちで、やろう。

Study at home. 小学校受験の家庭学習教材

図形：回転 78

左の四角を右に1回～4回の中で何回か倒しました。右に倒した回数だけ下の四角の○を塗ります。

○		
●		●

➤

●		●
		○

➤

--	--	--	--	--

●		
		●
○		

➤

○		●
	●	

➤

--	--	--	--	--

○	○	
	●	●
		●

➤

	●	●
○	●	
○		

➤

--	--	--	--	--

	○	
	○	
○		●

➤

●		○
	○	
	○	

➤

--	--	--	--	--

●		
●		●
	○	○

➤

	●	●
○		
○	●	

➤

--	--	--	--	--

	●	○
	●	○

➤

○		○
●		●

➤

--	--	--	--	--

※1. このプリントは、しながわ・目黒こどもスクールのウェブサイトでダウンロードができます。無断複写・引用はご遠慮ください。
 ※2. このプリントを活用したオンライン授業のスケジュールは、しながわ・目黒こどもスクールのウェブサイトでご確認ください。



おうちで、やろう。

Study at home. 小学校受験の家庭学習教材

図形：回転 79

左の四角を右に1回～4回の中で何回か倒しました。右に倒した回数だけ下の四角の○を塗ります。

○		●	●	▽	
●		△			
○			○	●	○

→

↶ ● ● ● ○

		▽			△
●		●	●		●
△			△		

→

↶ ● ● ○ ○

	△		●	△	
▽	○	○		○	△
●		●	●	○	

→

↶ ● ○ ○ ○

		△		△	
△		○	○		△
	△				

→

↶ ● ● ○ ○

△				△	
	△	△		△	
		△	△		

→

↶ ● ● ● ○

		▽		△	
△		△	△		△
	△		△		

→

↶ ● ● ○ ○

※1. このプリントは、しながわ・目黒こどもスクールのウェブサイトからダウンロードできます。無断複写・引用はご遠慮ください。
 ※2. このプリントを活用したオンライン授業のスケジュールは、しながわ・目黒こどもスクールのウェブサイトでご確認ください。



おうちで、やろう。

Study at home. 小学校受験の家庭学習教材

図形：反転 13

左のお手本を上への矢印の向きに回して裏返した時の見え方を考えて、左の四角にかきます。

※1. このプリントは、しながわ・目黒こどもスクールのウェブサイトでダウンロードができます。無断複写・引用はご遠慮ください。
 ※2. このプリントを活用したオンライン授業のスケジュールは、しながわ・目黒こどもスクールのウェブサイトでご確認ください。



おうちで、やろう。

Study at home. 小学校受験の家庭学習教材

図形：反転 14

左のお手本を上への矢印の向きに回して裏返した時の見え方を考えて、左の四角にかきます。

※1. このプリントは、しながわ・目黒こどもスクールのウェブサイトでダウンロードができます。無断複写・引用はご遠慮ください。
 ※2. このプリントを活用したオンライン授業のスケジュールは、しながわ・目黒こどもスクールのウェブサイトでご確認ください。



おうちで、やろう。

Study at home. 小学校受験の家庭学習教材

図形：反転 15

左のお手本を上への矢印の向きに回して裏返した時の見え方を考えて、左の四角にかきます。

※1. このプリントは、しながわ・目黒こどもスクールのウェブサイトでダウンロードができます。無断複写・引用はご遠慮ください。
 ※2. このプリントを活用したオンライン授業のスケジュールは、しながわ・目黒こどもスクールのウェブサイトでご確認ください。


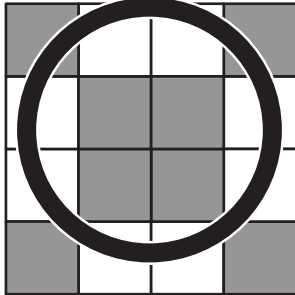


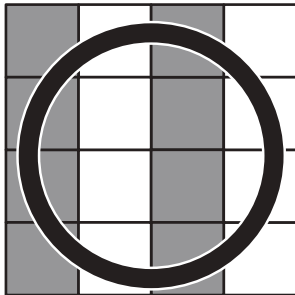
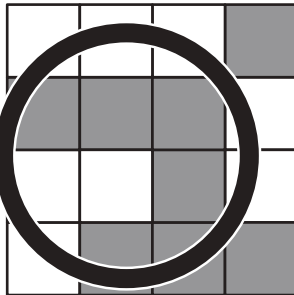


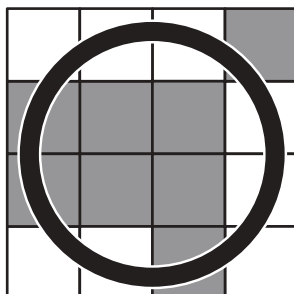


おうちで、よろう。

Study at home. 小学校受験の家庭学習教材

数量：広さ 14

それぞれの四角の白い部分と灰色の部分の広さを比べます。白い部分と灰色の部分の同じものをみつけて○をつけます。

※1. このプリントは、しながわ・目黒こどもスクールのウェブサイトでダウンロードができます。無断複写・引用はご遠慮ください。

※2. このプリントを活用したオンライン授業のスケジュールは、しながわ・目黒こどもスクールのウェブサイトでご確認ください。



おうちで、やろう。

Study at home. 小学校受験の家庭学習教材

推理：広さ 15

それぞれの四角の白い部分と灰色の部分の広さを比べます。白い部分と灰色の部分が同じものをみつけて○をつけます。

※1. このプリントは、しながわ・目黒こどもスクールのウェブサイトからダウンロードできます。無断複写・引用はご遠慮ください。

※2. このプリントを活用したオンライン授業のスケジュールは、しながわ・目黒こどもスクールのウェブサイトでご確認ください。



おうちで、やろう。

Study at home. 小学校受験の家庭学習教材

推理：広さ 16

それぞれの四角の白い部分と灰色の部分の広さを比べます。白い部分と灰色の部分が同じものをみつけて○をつけます。

※1. このプリントは、しながわ・目黒こどもスクールのウェブサイトからダウンロードできます。無断複写・引用はご遠慮ください。

※2. このプリントを活用したオンライン授業のスケジュールは、しながわ・目黒こどもスクールのウェブサイトでご確認ください。