







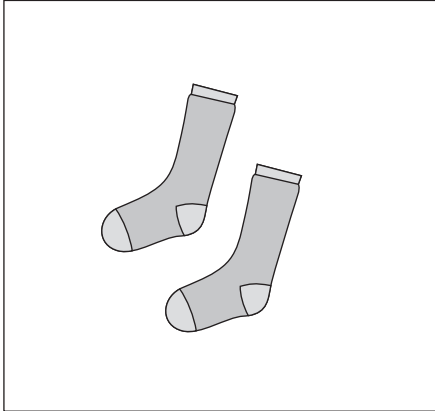


おうちで、やろう。

Study at home. 小学校受験の家庭学習教材

常識：仲間はずれ1

左の四角の中の絵と仲間でないものを、右の四角の中から見つけて○をつけます。
※理由も話してみましょう。



※1. このプリントは、しながわ・目黒こどもスクールのウェブサイトでダウンロードができます。無断複写・引用はご遠慮ください。
※2. このプリントを活用したオンライン授業のスケジュールは、しながわ・目黒こどもスクールのウェブサイトでご確認ください。

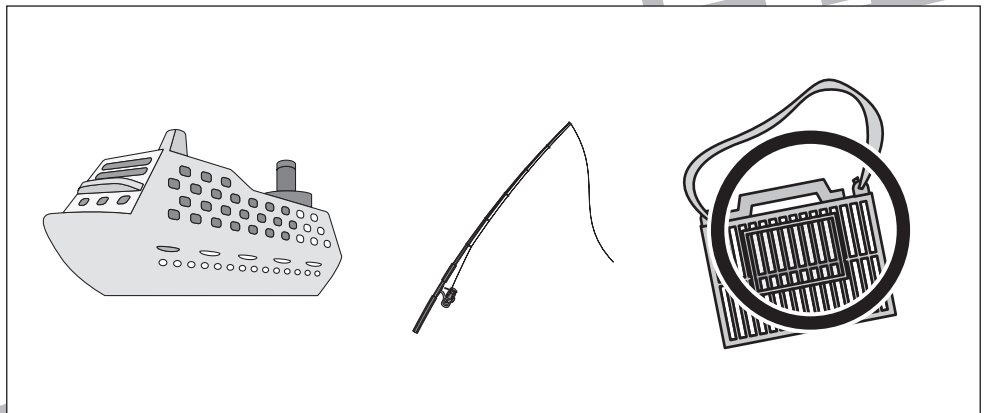






おうちで、やろう。

Study at home. 小学校受験の家庭学習教材

常識：仲間はずれ2

左の四角の中の絵と仲間でないものを、右の四角の中から見つけて○をつけます。
※理由も話してみましょう。



※1. このプリントは、しながわ・目黒こどもスクールのウェブサイトからダウンロードができます。無断複写・引用はご遠慮ください。

※2. このプリントを活用したオンライン授業のスケジュールは、しながわ・目黒こどもスクールのウェブサイトでご確認ください。






おうちで、やろう。

Study at home. 小学校受験の家庭学習教材

推理：左右1

下の絵で右手を見つけて○をつけます。



※1. このプリントは、しながわ・目黒こどもスクールのウェブサイトからダウンロードできます。無断複写・引用はご遠慮ください。

※2. このプリントを活用したオンライン授業のスケジュールは、しながわ・目黒こどもスクールのウェブサイトでご確認ください。




おうちで、やろう。

Study at home. 小学校受験の家庭学習教材

推理：左右2

下の絵で左手を見つけて○をつけます。



※1. このプリントは、しながわ・目黒こどもスクールのウェブサイトからダウンロードできます。無断複写・引用はご遠慮ください。

※2. このプリントを活用したオンライン授業のスケジュールは、しながわ・目黒こどもスクールのウェブサイトでご確認ください。



おうちで、やろう。

Study at home. 小学校受験の家庭学習教材

数量：計数4

四角の中の絵の数が8ではないものに○をつけます。

| | | |
|--|--|--|
| | | |
| | | |
| | | |
| | | |

※1. このプリントは、しながわ・目黒こどもスクールのウェブサイトからダウンロードできます。無断複写・引用はご遠慮ください。

※2. このプリントを活用したオンライン授業のスケジュールは、しながわ・目黒こどもスクールのウェブサイトでご確認ください。










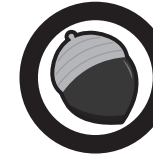


























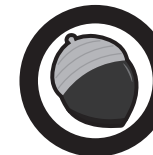



















おうちで、やろう。

Study at home. 小学校受験の家庭学習教材

数量：置き換え 1

上の太い四角が約束で、★のコインはどんぐり2つ、♥のコインはどんぐり3つと交換できます。このとき、リスはどんぐりをいくつかもらうことができますか。その数だけ、右の四角の中のどんぐりに○をつけます。



| | |
|---|--|
|    |           |
|    |           |
|     |           |
|     |           |

※1. このプリントは、しながわ・目黒こどもスクールのウェブサイトでダウンロードができます。無断複写・引用はご遠慮ください。

※2. このプリントを活用したオンライン授業のスケジュールは、しながわ・目黒こどもスクールのウェブサイトでご確認ください。







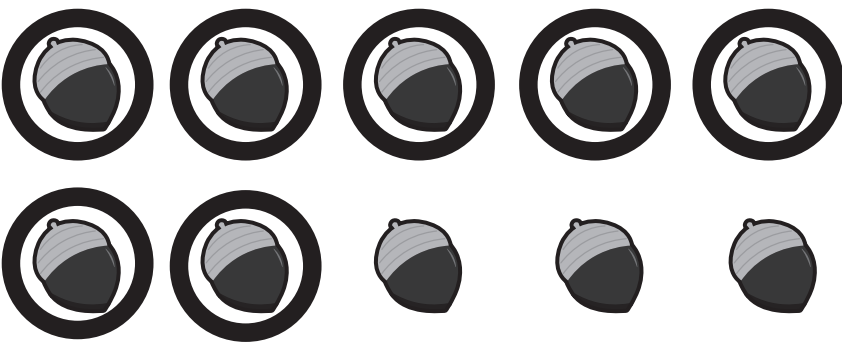



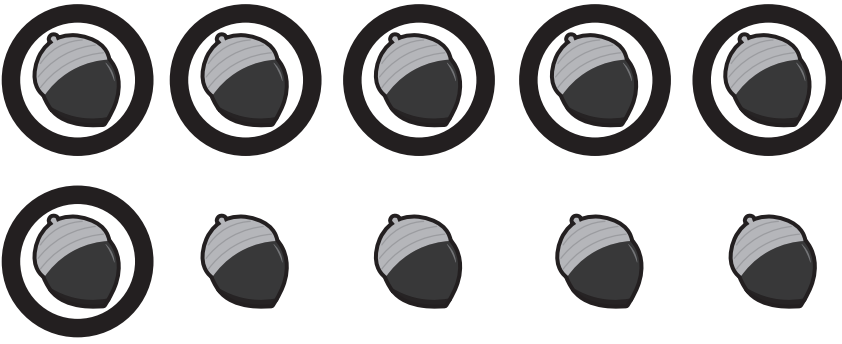









おうちで、やろう。

Study at home. 小学校受験の家庭学習教材

数量：置き換え2

上の太い四角が約束で、★のコインはどんぐり3つ、♥のコインはどんぐりつ4と交換できます。このとき、リスはどんぐりをいくつかもらうことができますか。その数だけ、右の四角の中のどんぐりに○をつけます。



| | |
|---|--|
|    |  |
|    |  |
|    |  |
|     |  |

※1. このプリントは、しながわ・目黒こどもスクールのウェブサイトでダウンロードができます。無断複写・引用はご遠慮ください。

※2. このプリントを活用したオンライン授業のスケジュールは、しながわ・目黒こどもスクールのウェブサイトでご確認ください。



おうちで、やろう。

Study at home. 小学校受験の家庭学習教材

数量：同数1

四角の中の絵の数が同じものに○をつけます。

| | | |
|--|--|--|
| | | |
| | | |
| | | |
| | | |

※1. このプリントは、しながわ・目黒こどもスクールのウェブサイトでダウンロードができます。無断複写・引用はご遠慮ください。

※2. このプリントを活用したオンライン授業のスケジュールは、しながわ・目黒こどもスクールのウェブサイトでご確認ください。