



おうちで、やろう。

Study at home. 小学校受験の家庭学習教材

図形：折り重ね 60

太い線で矢印の方向へ折り重ねた時の見え方を考えます。このとき、○がないマスはどこですか。その場所を考えてすぐ右の四角のマスを塗ります。もし間違えてしまったら、右端の四角のマスを塗りましょう。

①

②

③

④

※1. このプリントは、しながわ・目黒こどもスクールのウェブサイトでダウンロードができます。無断複写・引用はご遠慮ください。
 ※2. このプリントを活用したオンライン授業のスケジュールは、しながわ・目黒こどもスクールのウェブサイトでご確認ください。



おうちで、やろう。

Study at home. 小学校受験の家庭学習教材

図形：折り重ね 61

太い線で矢印の方向へ折り重ねた時の見え方を考えます。このとき、○がないマスはどこですか。その場所を考えてすぐ右の四角のマスを塗ります。もし間違えてしまったら、右端の四角のマスを塗りましょう。

①

②

③

④

※1. このプリントは、しながわ・目黒こどもスクールのウェブサイトでダウンロードができます。無断複写・引用はご遠慮ください。

※2. このプリントを活用したオンライン授業のスケジュールは、しながわ・目黒こどもスクールのウェブサイトでご確認ください。



おうちで、やろう。

Study at home. 小学校受験の家庭学習教材

図形：折り重ね 62

太い線で矢印の方向へ折り重ねた時の見え方を考えます。このとき、○がないマスはどこですか。その場所を考えてすぐ右の四角のマスを塗ります。もし間違えてしまったら、右端の四角のマスを塗りましょう。

①

②

③

④

※1. このプリントは、しながわ・目黒こどもスクールのウェブサイトでダウンロードができます。無断複写・引用はご遠慮ください。

※2. このプリントを活用したオンライン授業のスケジュールは、しながわ・目黒こどもスクールのウェブサイトでご確認ください。



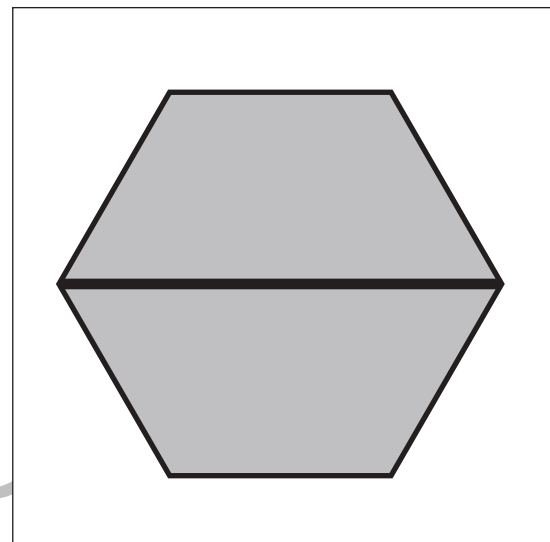
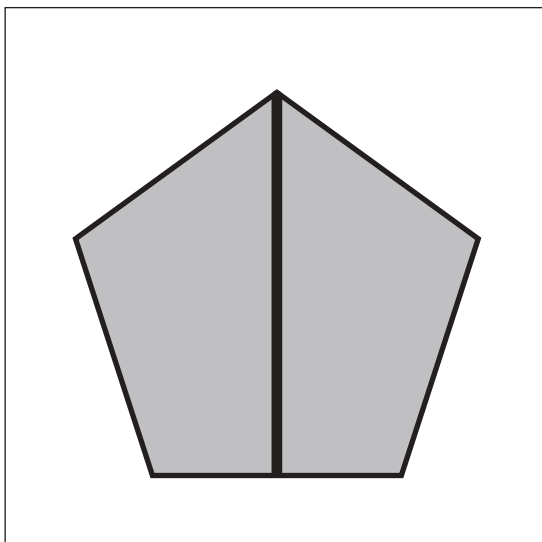

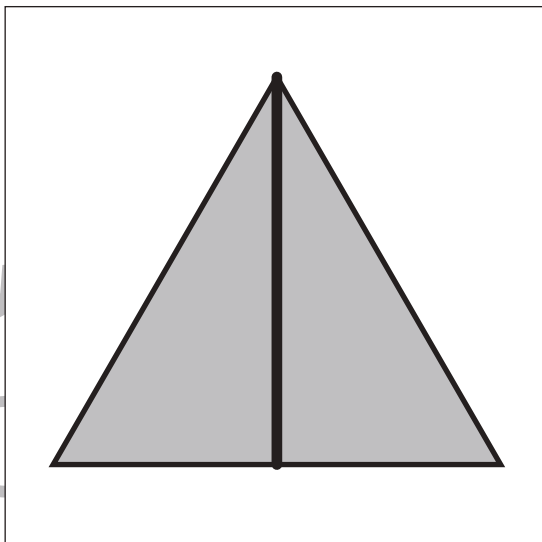
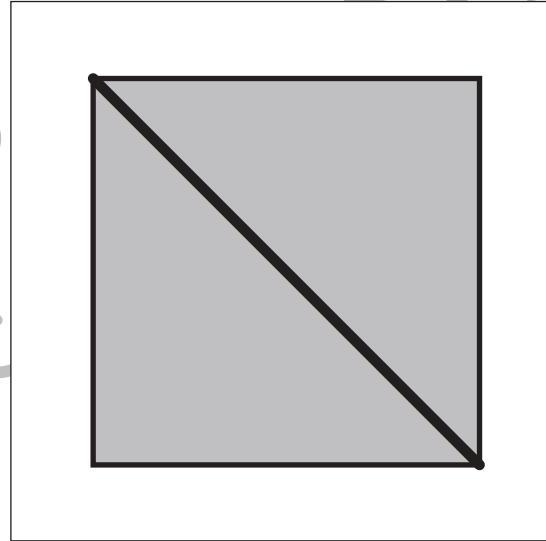
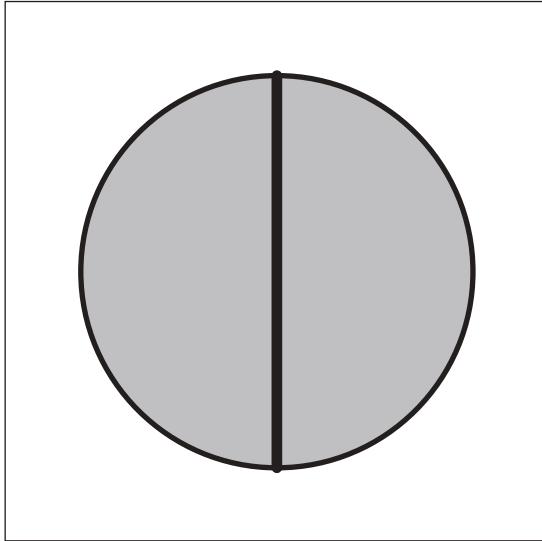
おうちで、よろう。

Study at home. 小学校受験の家庭学習教材

図形：等分 1

四角の中の形を線を 1 本引いて半分にします。このとき、分けた形が同じになるようにします。

※解答は一例です。違う線の場合でも正解となる場合があります。





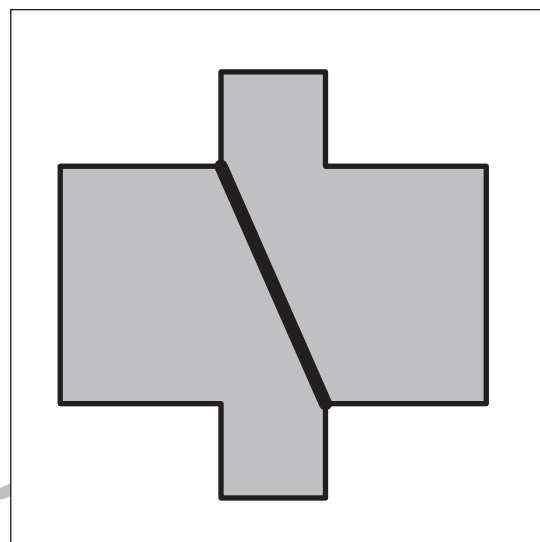
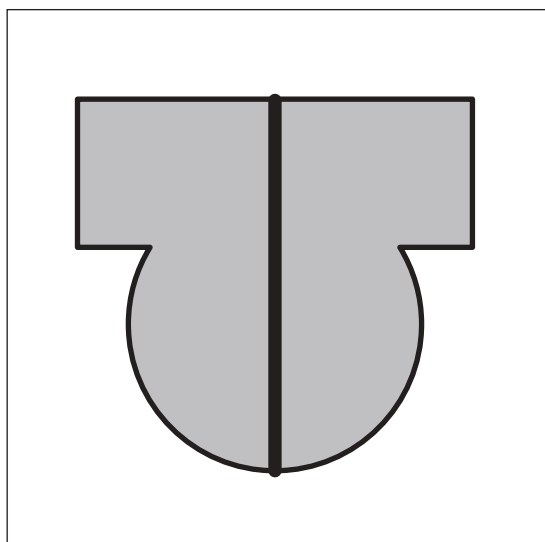
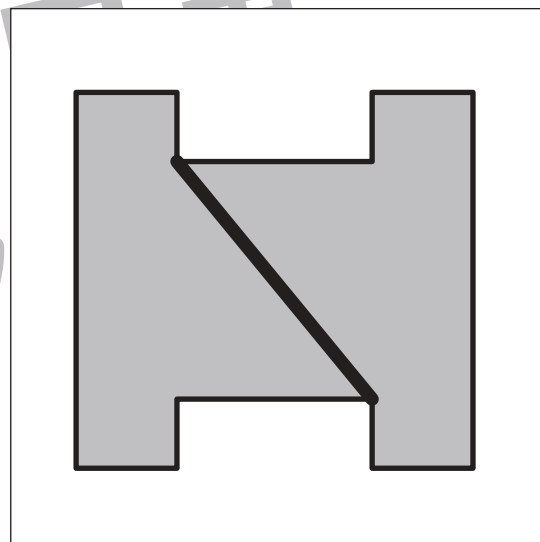

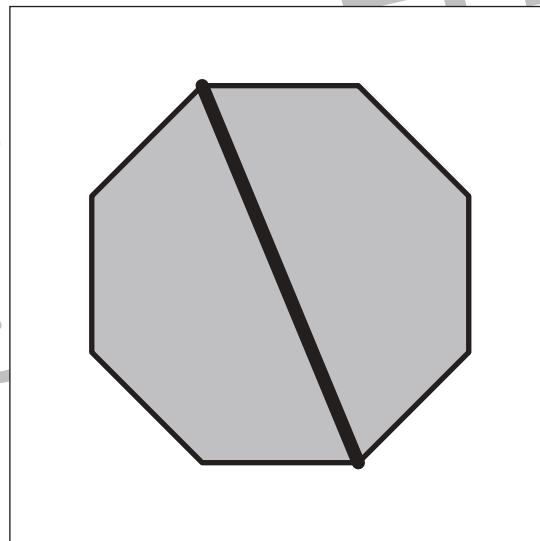
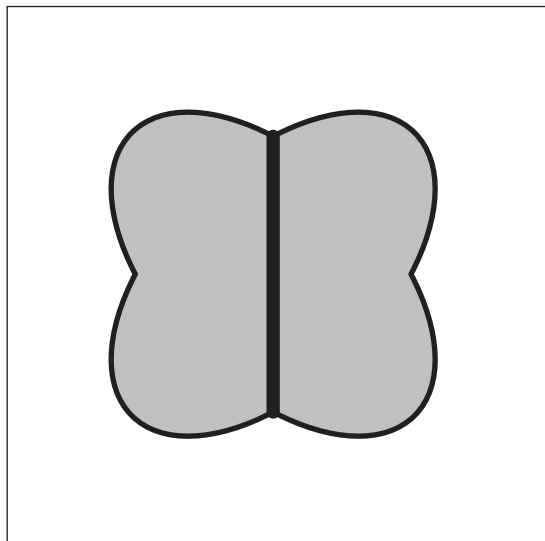
おうちで、やろう。

Study at home. 小学校受験の家庭学習教材

図形：等分 2

四角の中の形を線を 1 本引いて半分にします。このとき、分けた形が同じになるようにします。

※解答は一例です。違う線の場合でも正解となる場合があります。



※1. このプリントは、しながわ・目黒こどもスクールのウェブサイトからダウンロードできます。無断複写・引用はご遠慮ください。

※2. このプリントを活用したオンライン授業のスケジュールは、しながわ・目黒こどもスクールのウェブサイトでご確認ください。



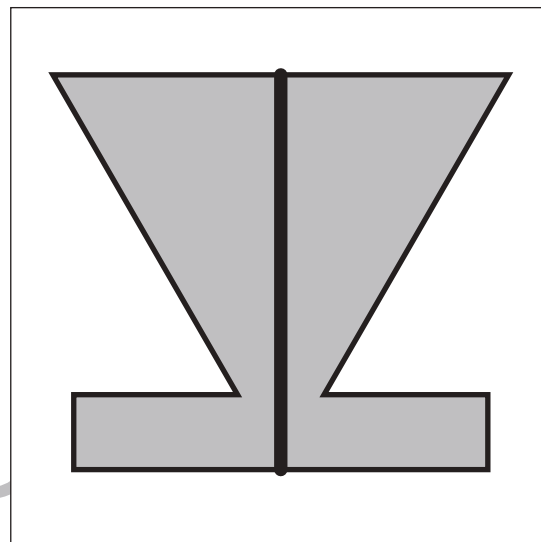
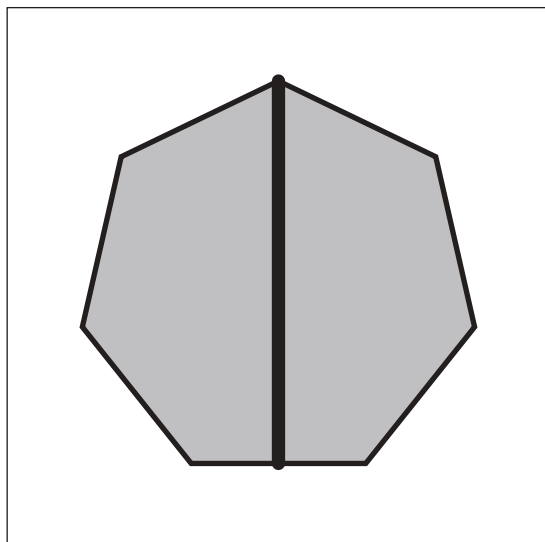
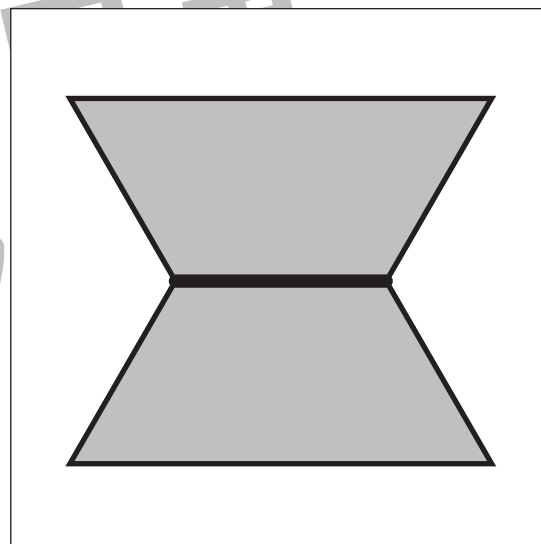

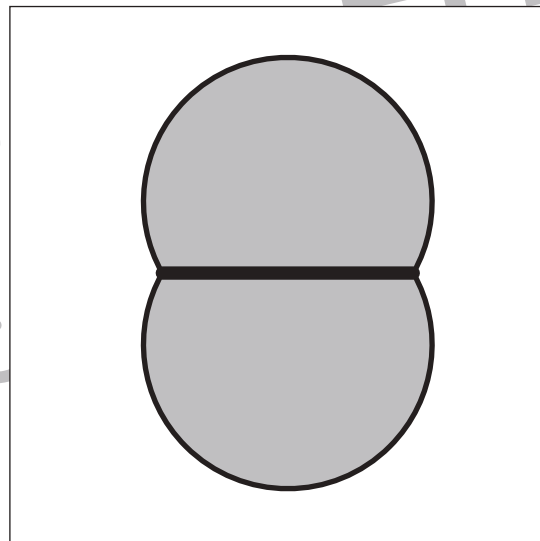

おうちで、やろう。

Study at home. 小学校受験の家庭学習教材

図形：等分 3

四角の中の形を線を 1 本引いて半分にします。このとき、分けた形が同じになるようにします。

※解答は一例です。違う線の場合でも正解となる場合があります。



※1. このプリントは、しながわ・目黒こどもスクールのウェブサイトでダウンロードができます。無断複写・引用はご遠慮ください。

※2. このプリントを活用したオンライン授業のスケジュールは、しながわ・目黒こどもスクールのウェブサイトでご確認ください。



おうちで、やろう。

Study at home. 小学校受験の家庭学習教材

数量：合わせた数 2

左の四角の灰色の丸と右の四角の白い丸の数が合わせて 8 になるように線で結びます。

4 grey dots	4 white dots
5 grey dots	3 white dots
6 grey dots	2 white dots
1 grey dot	7 white dots

※ 1. このプリントは、しながわ・目黒こどもスクールのウェブサイトでダウンロードができます。無断複写・引用はご遠慮ください。
※ 2. このプリントを活用したオンライン授業のスケジュールは、しながわ・目黒こどもスクールのウェブサイトでご確認ください。



おうちで、やろう。

Study at home. 小学校受験の家庭学習教材

数量：合わせた数 3

左の四角の灰色の丸と右の四角の白い丸の数が合わせて 10 になるように線で結びます。

6 grey circles	5 white circles
4 grey circles	4 white circles
7 grey circles	2 white circles
5 grey circles	3 white circles

※1. このプリントは、しながわ・目黒こどもスクールのウェブサイトでダウンロードができます。無断複写・引用はご遠慮ください。
※2. このプリントを活用したオンライン授業のスケジュールは、しながわ・目黒こどもスクールのウェブサイトでご確認ください。



おうちで、よろう。

Study at home. 小学校受験の家庭学習教材

数量：合わせた数 4

左の四角の灰色の丸と右の四角の白い丸の数が合わせて 12 になるように線で結びます。

8 grey circles	7 white circles
6 grey circles	4 white circles
5 grey circles	8 white circles
3 grey circles	5 white circles

※1. このプリントは、しながわ・目黒こどもスクールのウェブサイトでダウンロードができます。無断複写・引用はご遠慮ください。

※2. このプリントを活用したオンライン授業のスケジュールは、しながわ・目黒こどもスクールのウェブサイトでご確認ください。