



おうちで、やろう。

Study at home. 小学校受験の家庭学習教材

常識：気持ち 1

- ①下の絵の中から、「嬉しい顔」をしている人に○をつけます。
- ②下の絵の中から、「怒っている顔」をしている人に◎をつけましょう。
- ③下の絵の中から、「悲しい顔」をしている人に△をつけましょう。
- ④下の絵の中から、「困っている顔」をしている人に□をつけましょう。






おうちで、やろう。

Study at home. 小学校受験の家庭学習教材

常識：気持ち 2

- ①下の絵の中から、「嬉しい顔」をしている人に○をつけます。
- ②下の絵の中から、「怒っている顔」をしている人に◎をつけましょう。
- ③下の絵の中から、「悲しい顔」をしている人に△をつけましょう。
- ④下の絵の中から、「困っている顔」をしている人に□をつけましょう。



※1. このプリントは、しながわ・目黒こどもスクールのウェブサイトでダウンロードができます。無断複写・引用はご遠慮ください。
 ※2. このプリントを活用したオンライン授業のスケジュールは、しながわ・目黒こどもスクールのウェブサイトでご確認ください。


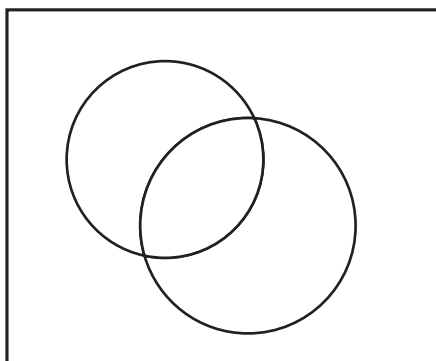
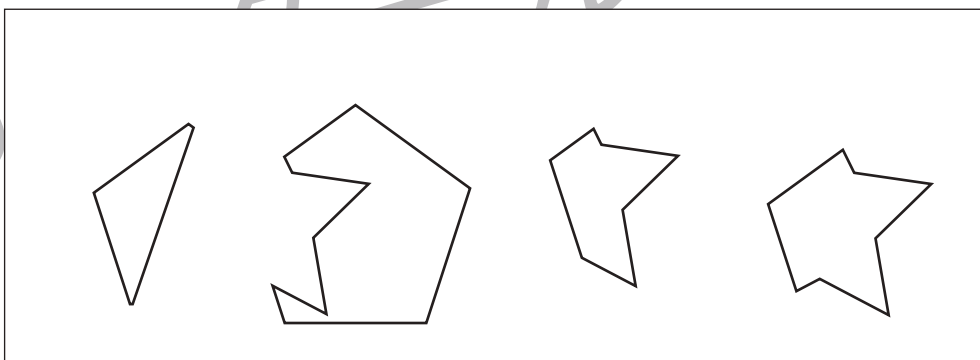
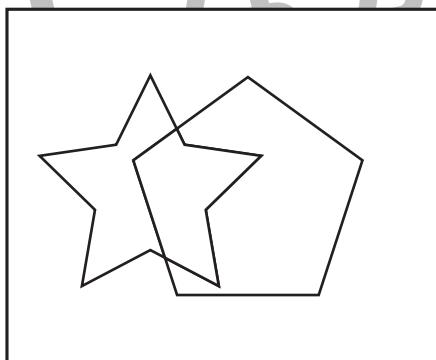
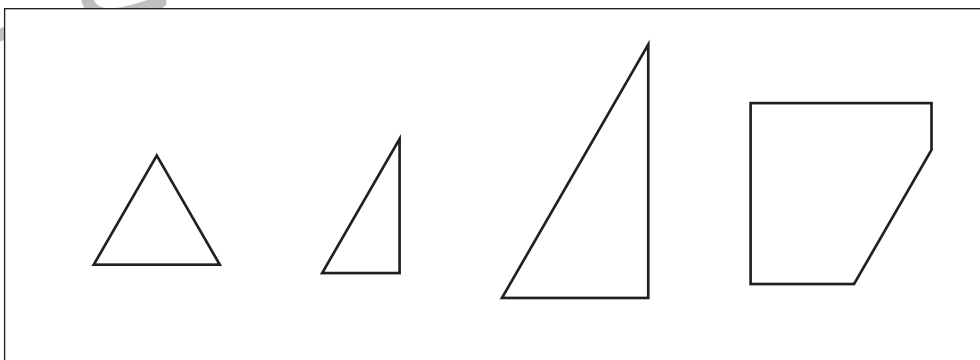
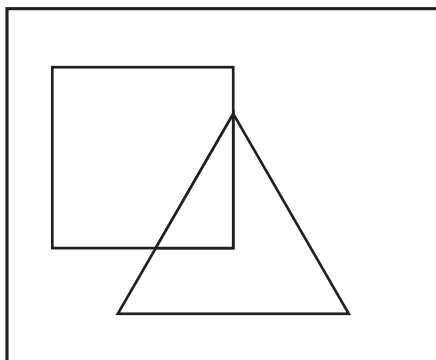

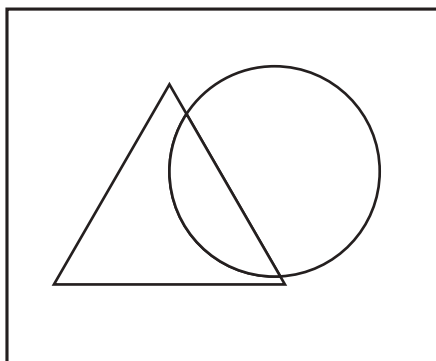


おうちで、やろう。

Study at home. 小学校受験の家庭学習教材

図形：重なり 1

左の四角の中の図形の重なっている場所を右の四角から選び○をつけます。



※1. このプリントは、しながわ・目黒こどもスクールのウェブサイトでダウンロードができます。無断複写・引用はご遠慮ください。
※2. このプリントを活用したオンライン授業のスケジュールは、しながわ・目黒こどもスクールのウェブサイトでご確認ください。

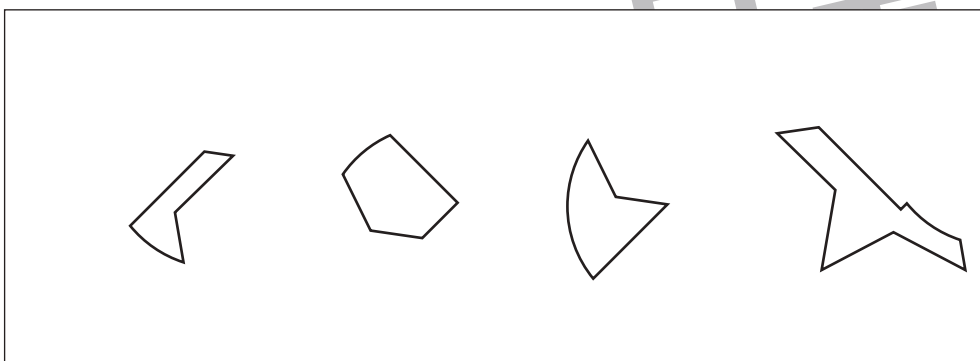

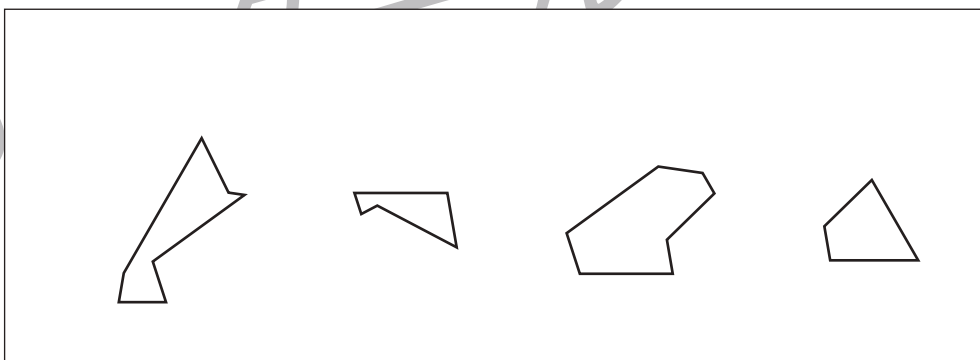
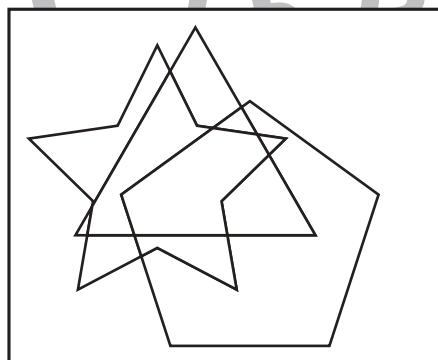
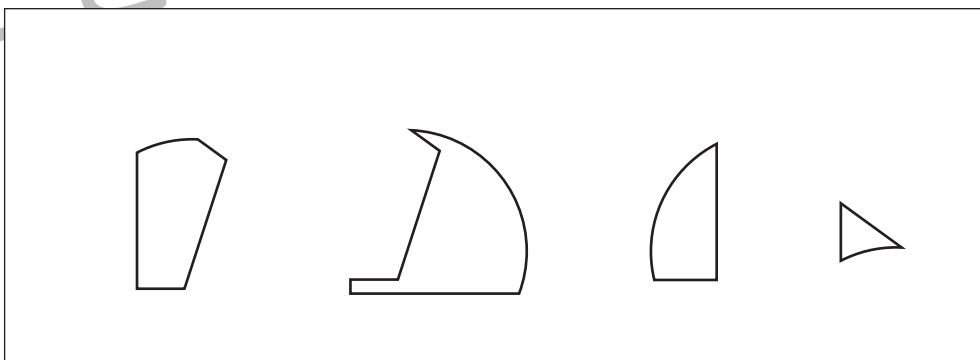
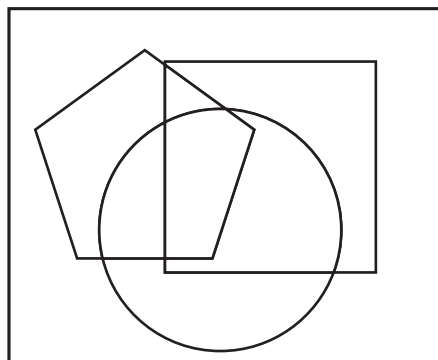
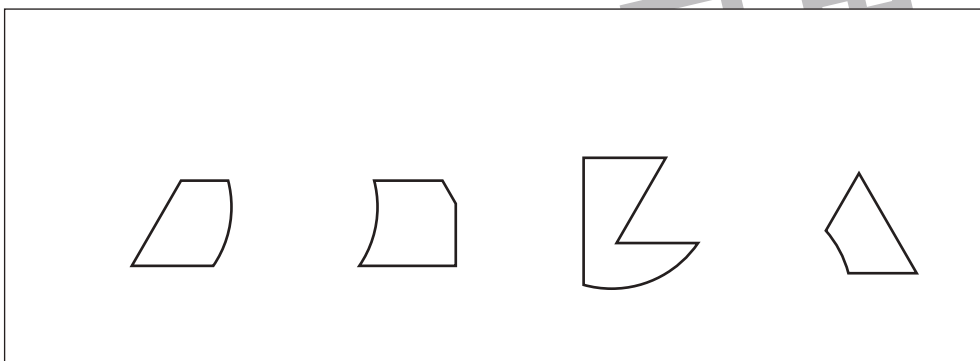
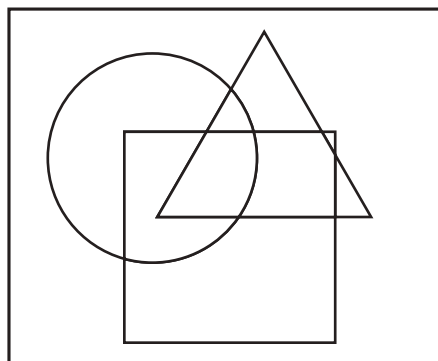


おうちで、やろう。

Study at home. 小学校受験の家庭学習教材

図形：重なり2

左の四角の中の全ての図形が重なっている場所を右の四角から選び○をつけます。



※1. このプリントは、しながわ・目黒こどもスクールのウェブサイトでダウンロードができます。無断複写・引用はご遠慮ください。
※2. このプリントを活用したオンライン授業のスケジュールは、しながわ・目黒こどもスクールのウェブサイトでご確認ください。

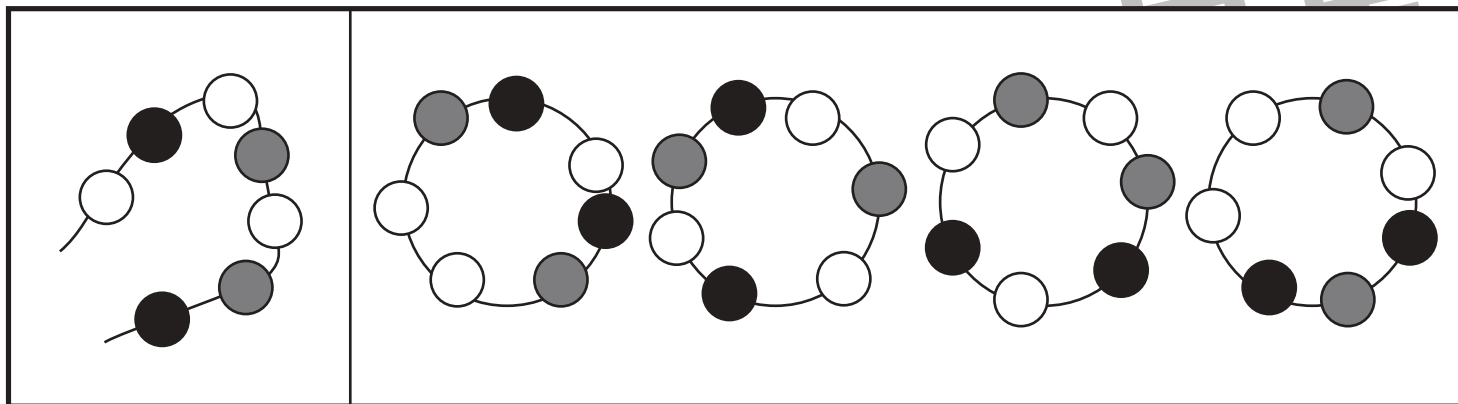
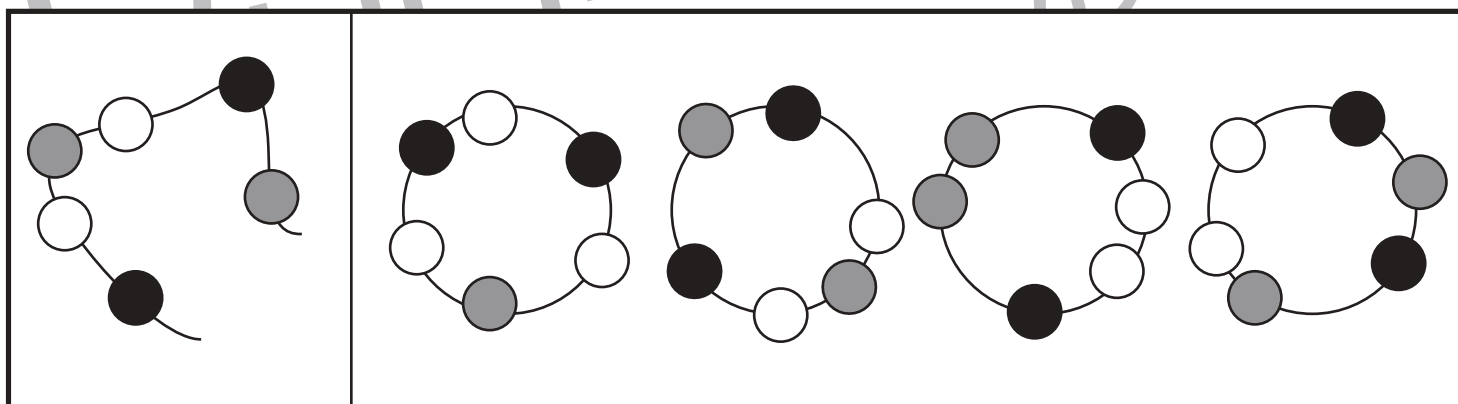
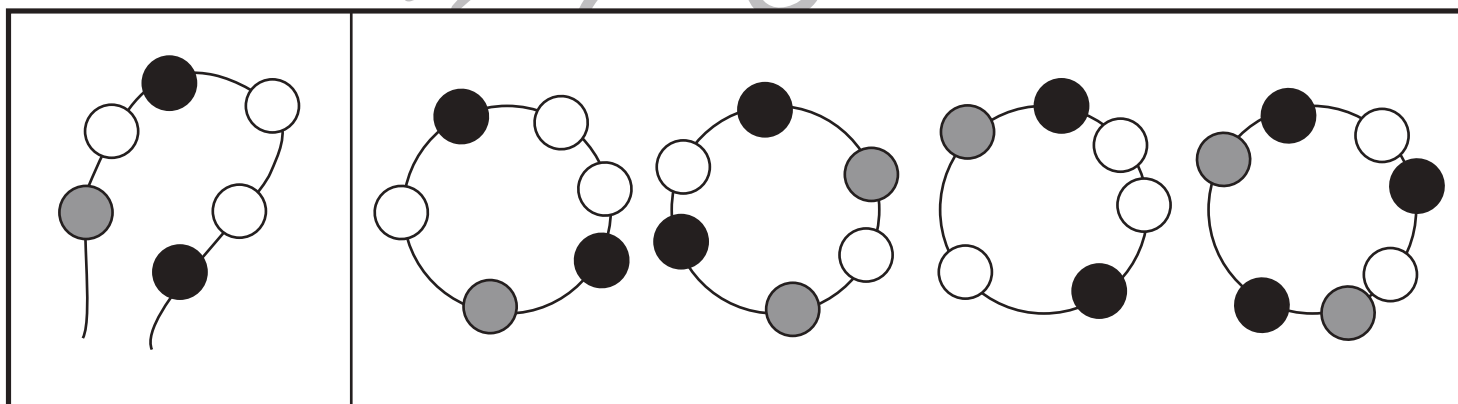
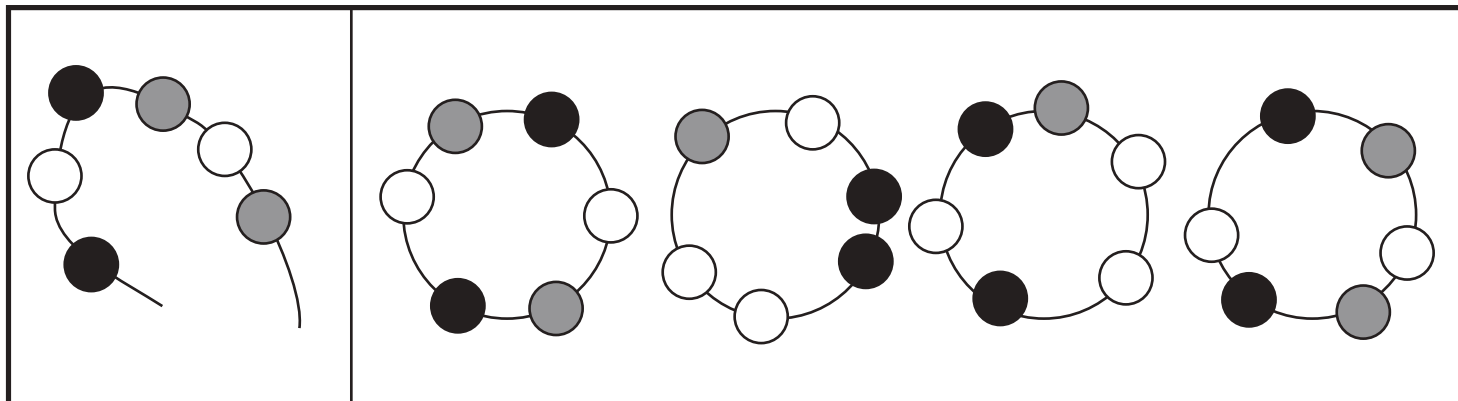


おうちで、やろう。

Study at home. 小学校受験の家庭学習教材

推理：輪つなぎ 1

左の四角の中はひもにいろいろなビーズを通したものです。このひもの端と端を結びプレスレットを作ると、右の四角の中のどれになりますか。正しいものに○をつけます。プレスレットは裏返しにしてはいけません。



※1. このプリントは、しながわ・目黒こどもスクールのウェブサイトでダウンロードができます。無断複写・引用はご遠慮ください。

※2. このプリントを活用したオンライン授業のスケジュールは、しながわ・目黒こどもスクールのウェブサイトでご確認ください。

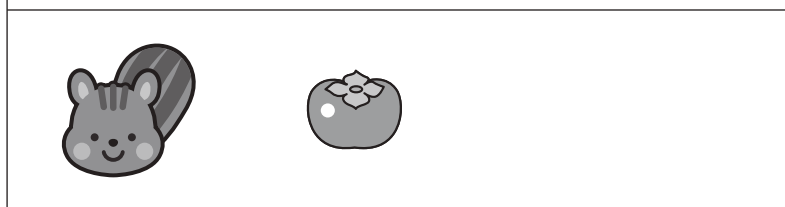




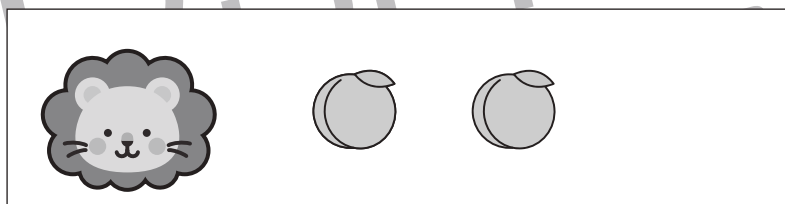



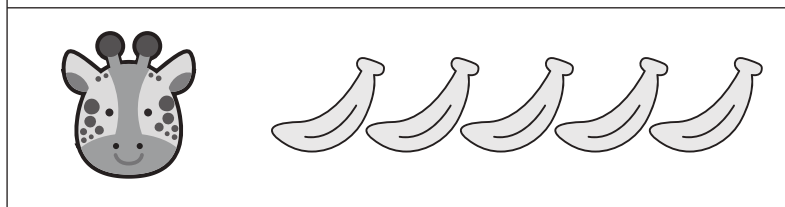

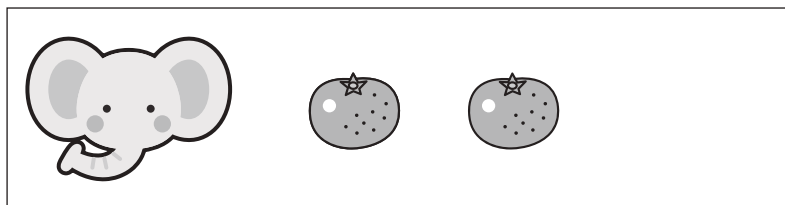


おうちで、やろう。

Study at home. 小学校受験の家庭学習教材

数量：違いの数1

左の四角の中の動物はそれぞれ隣にある数だけ果物を持っています。
どちらがどれだけ多いのか考えて、多い数だけ右の四角に○をかきます。



※1. このプリントは、しながわ・目黒こどもスクールのウェブサイトでダウンロードができます。無断複写・引用はご遠慮ください。
※2. このプリントを活用したオンライン授業のスケジュールは、しながわ・目黒こどもスクールのウェブサイトでご確認ください。



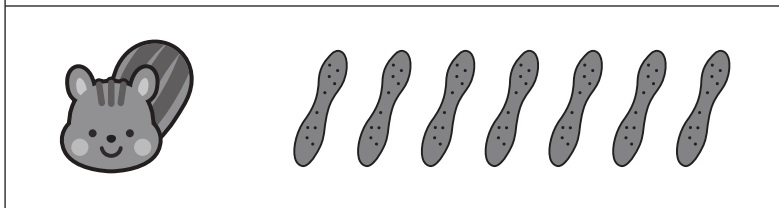





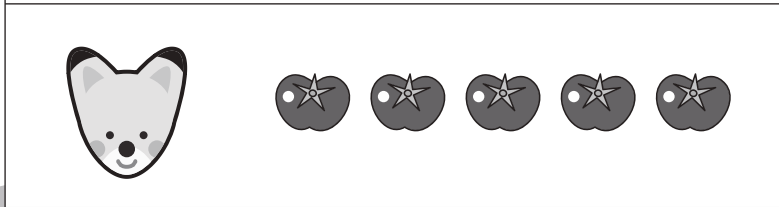


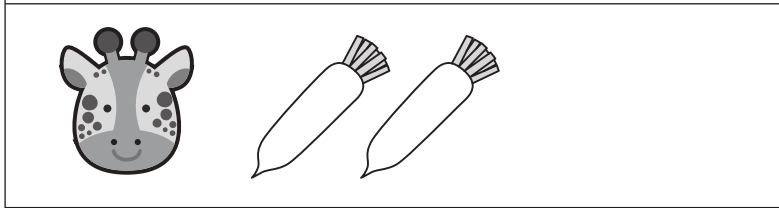

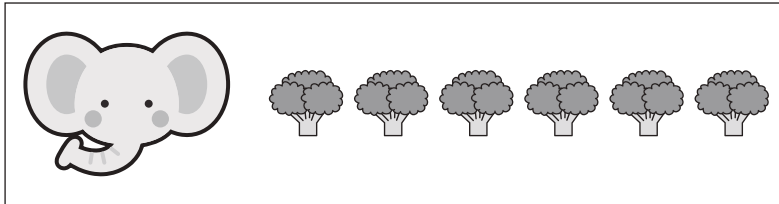


おうちで、やろう。

Study at home. 小学校受験の家庭学習教材

数量：違いの数2

左の四角の中の動物はそれぞれ隣にある数だけ果物を持っています。
どちらがどれだけ多いのか考えて、多い数だけ右の四角に○をかきます。



※1. このプリントは、しながわ・目黒こどもスクールのウェブサイトでダウンロードができます。無断複写・引用はご遠慮ください。
※2. このプリントを活用したオンライン授業のスケジュールは、しながわ・目黒こどもスクールのウェブサイトでご確認ください。



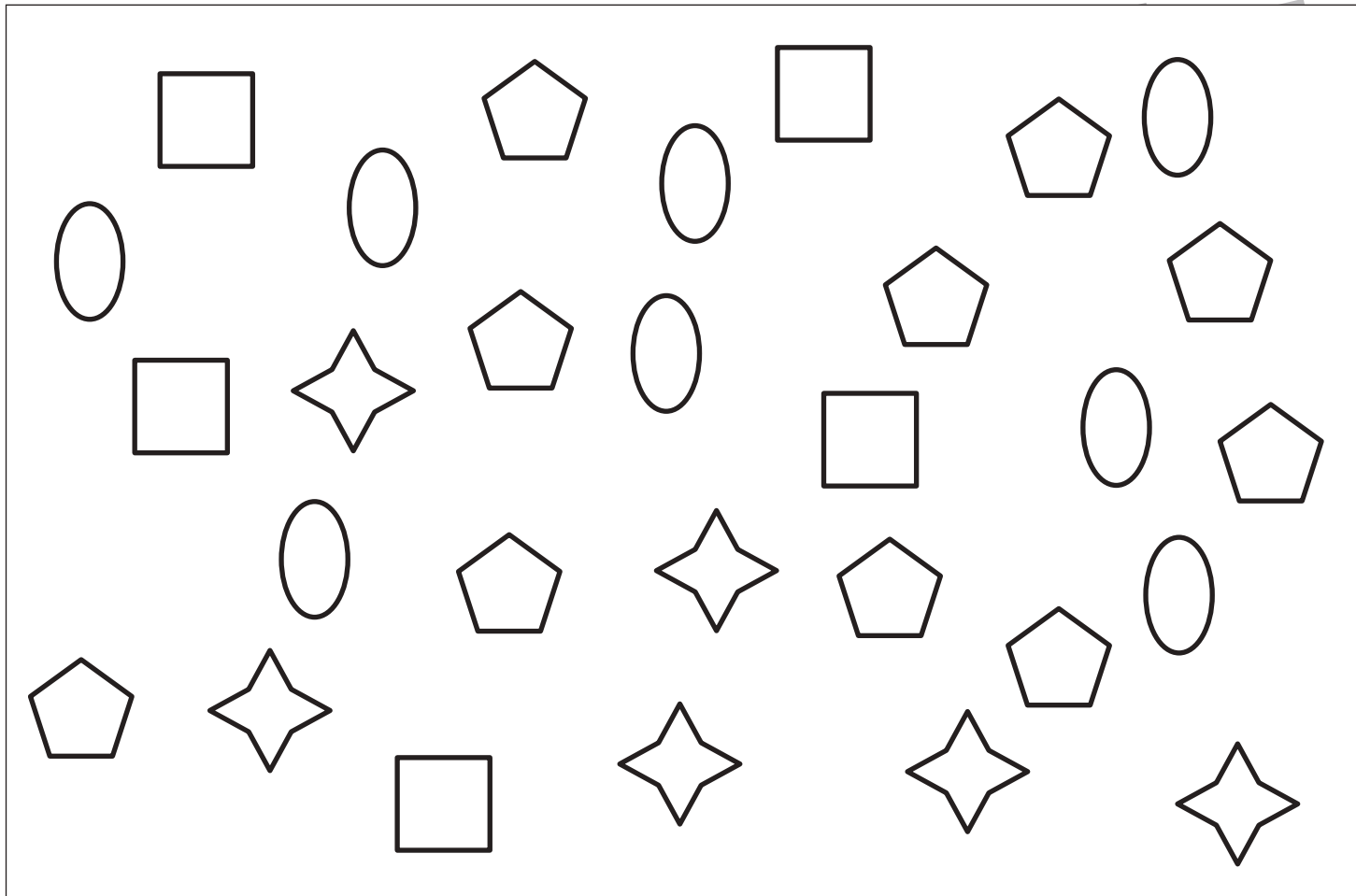


おうちで、やろう。

Study at home. 小学校受験の家庭学習教材

処理：計数 1

上の四角の中の絵の数をかぞえて、下の四角の同じ絵の右にその数だけ〇をかきます。
この問題はスピードを意識して取り組む練習をしてみましょう。(1分～1分30秒)



※1. このプリントは、しながわ・目黒こどもスクールのウェブサイトでダウンロードができます。無断複写・引用はご遠慮ください。
※2. このプリントを活用したオンライン授業のスケジュールは、しながわ・目黒こどもスクールのウェブサイトでご確認ください。





おうちで、やろう。

Study at home. 小学校受験の家庭学習教材

絵画：条件画 1

それぞれの形を変身させて絵をかきましょう。
※この問題に解答はありません。





おうちで、やろう。

Study at home. 小学校受験の家庭学習教材

絵画：条件画 2

それぞれの形を変身させて絵をかきましょう。
※この問題に解答はありません。

