




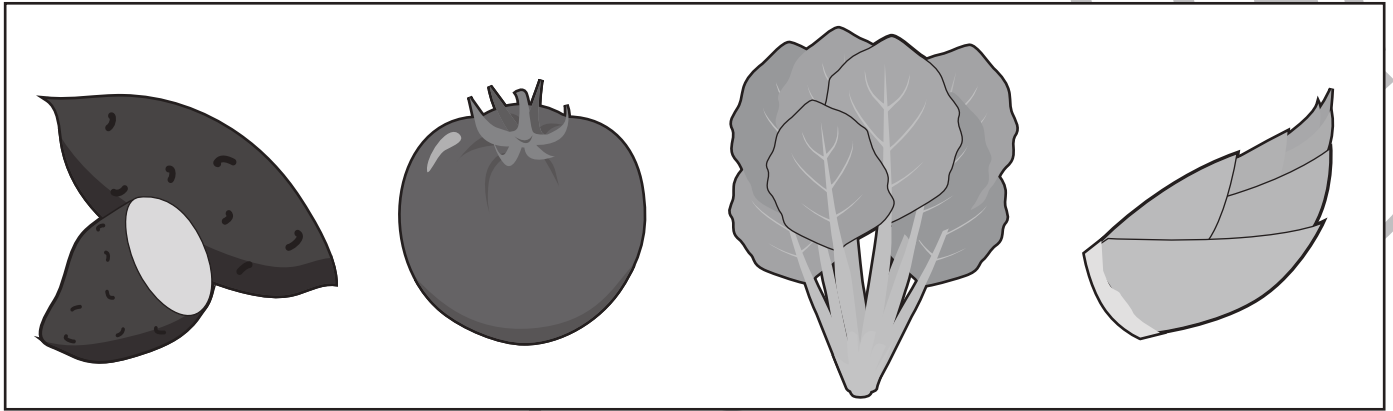


おうちで、やろう。

Study at home. 小学校受験の家庭学習教材

常識：季節 25

四角の中の絵で秋のものに○をつけます。



※1. このプリントは、しながわ・目黒こどもスクールのウェブサイトからダウンロードができます。無断複写・引用はご遠慮ください。
※2. このプリントを活用したオンライン授業のスケジュールは、しながわ・目黒こどもスクールのウェブサイトでご確認ください。

















おうちで、やろう。

Study at home. 小学校受験の家庭学習教材

常識：昔あそび2

昔あそびをあつめました。子どもたちのポーズや表情から、何の昔あそびをしているかを考えます。使う道具を下の大きな四角から選んで、それぞれの昔あそびの左上の印をつけましょう。



※1. このプリントは、しながわ・目黒こどもスクールのウェブサイトからダウンロードができます。無断複写・引用はご遠慮ください。
 ※2. このプリントを活用したオンライン授業のスケジュールは、しながわ・目黒こどもスクールのウェブサイトでご確認ください。

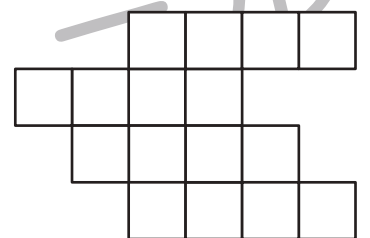
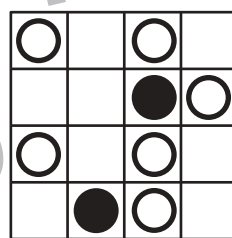

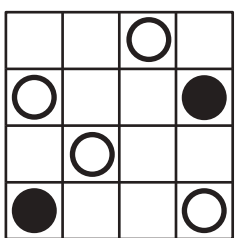






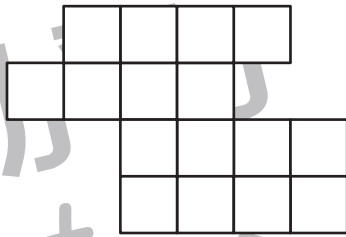
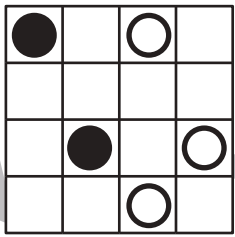

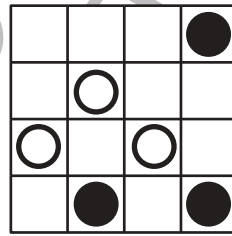

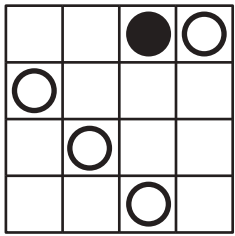
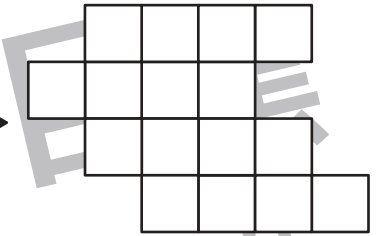
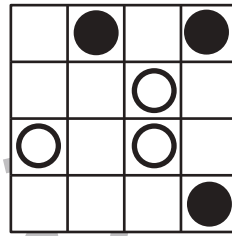

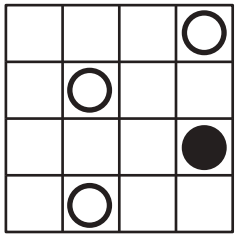


おうちで、やろう。

Study at home. 小学校受験の家庭学習教材

図形：移動 55

左のお手本の丸を右のずれているマスと同じ場所にかきます。



※1. このプリントは、しながわ・目黒こどもスクールのウェブサイトでダウンロードができます。無断複写・引用はご遠慮ください。
※2. このプリントを活用したオンライン授業のスケジュールは、しながわ・目黒こどもスクールのウェブサイトでご確認ください。



おうちで、やろう。

Study at home. 小学校受験の家庭学習教材

左の太い四角の中の形を鏡に映したときの見え方を考えます。正しいものを右の四角の中から選んで○をつけます。

--	--	--	--	--

--	--	--	--	--

--	--	--	--	--

--	--	--	--	--

--	--	--	--	--

※1. このプリントは、しながわ・目黒こどもスクールのウェブサイトでダウンロードができます。無断複写・引用はご遠慮ください。
 ※2. このプリントを活用したオンライン授業のスケジュールは、しながわ・目黒こどもスクールのウェブサイトでご確認ください。



おうちで、やろう。

Study at home. 小学校受験の家庭学習教材

図形：重なり 27

左の四角の中には2つの形が重なっています。重なっている部分の形を考えて、正しいと思うものを右から選んで○をつけます。

--	--	--

--	--	--

--	--	--

--	--	--

--	--	--

※1. このプリントは、しながわ・目黒こどもスクールのウェブサイトでダウンロードができます。無断複写・引用はご遠慮ください。
 ※2. このプリントを活用したオンライン授業のスケジュールは、しながわ・目黒こどもスクールのウェブサイトでご確認ください。



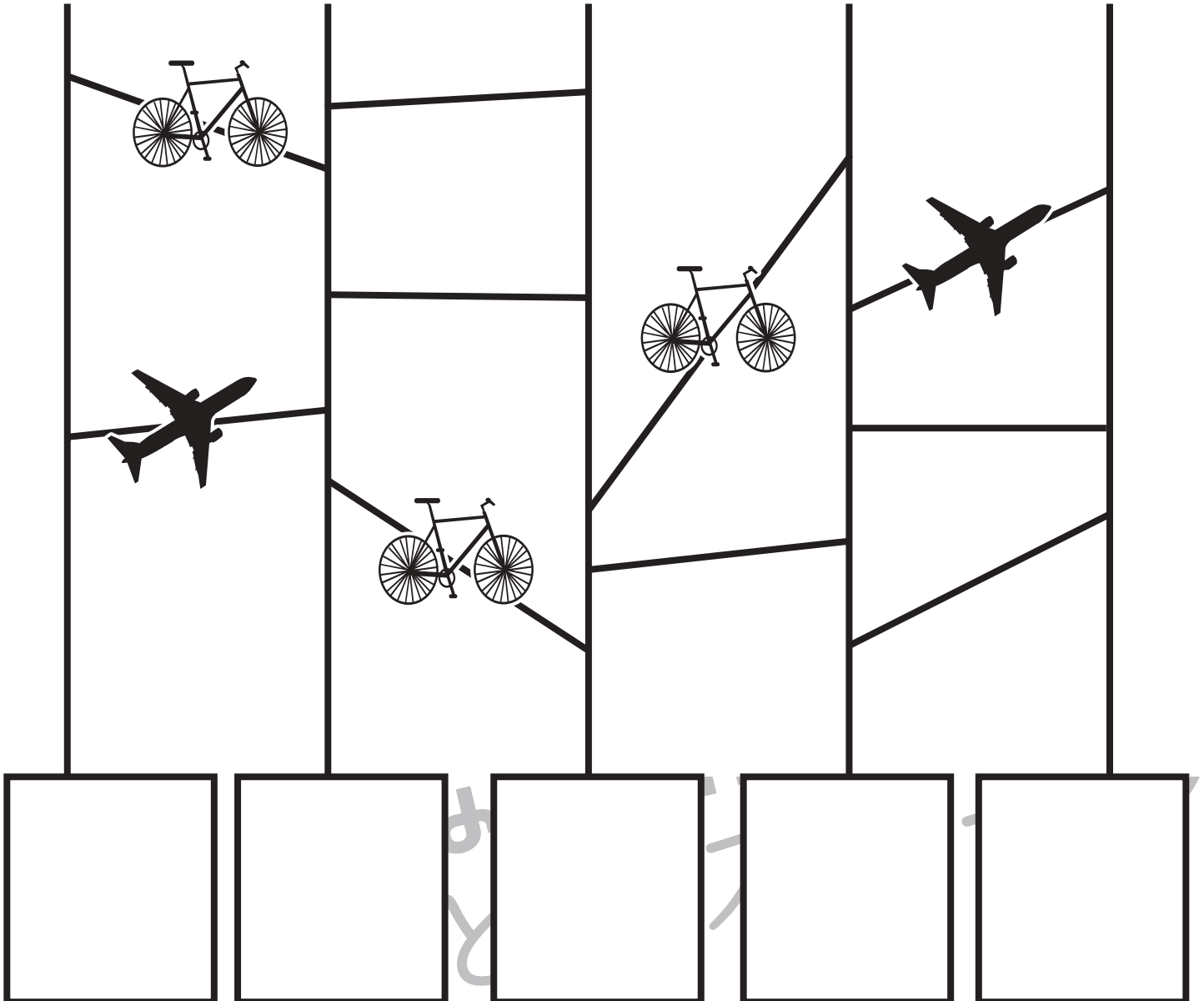

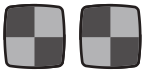
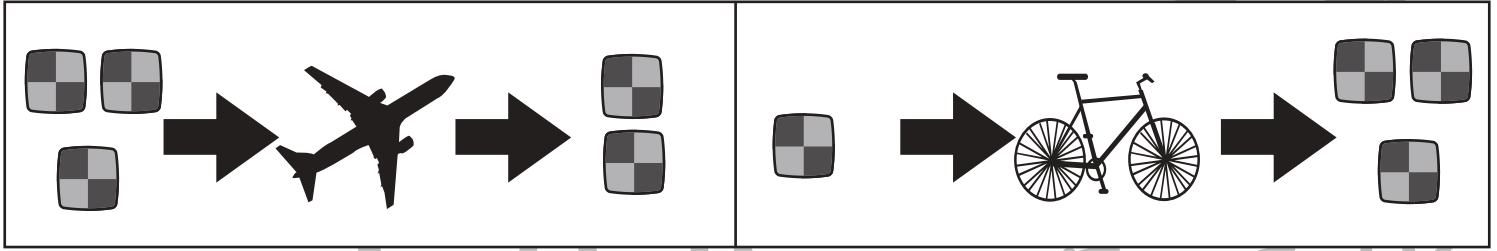
おうちで、やろう。

Study at home. 小学校受験の家庭学習教材

推理：あみだくじ 15

動物はそれぞれクッキーを持っています。あみだくじで進み、途中で飛行機に乗ると1つ減り、自転車に乗ると2つ増えます。この約束であみだくじを通った後に持っていたクッキーの数だけ下の着いた四角の中に○をかきます。

※あみだくじのルール：①上から下へ進みます。道は戻ってはいけません。②途中で曲がり角があったら必ず曲がります。



※1. このプリントは、しながわ・目黒こどもスクールのウェブサイトでダウンロードができます。無断複写・引用はご遠慮ください。
 ※2. このプリントを活用したオンライン授業のスケジュールは、しながわ・目黒こどもスクールのウェブサイトでご確認ください。



おうちで、やろう。

Study at home. 小学校受験の家庭学習教材

数量：サイコロ 4

左の太い四角の中のいくつかのサイコロの目を合わせると15になります。このとき、？マークのサイコロの目はいくつですか。右の中から選び○をつけます。

--	--	--	--	--

--	--	--	--	--

--	--	--	--	--

--	--	--	--	--

--	--	--	--	--

※1. このプリントは、しながわ・目黒こどもスクールのウェブサイトでダウンロードができます。無断複写・引用はご遠慮ください。
※2. このプリントを活用したオンライン授業のスケジュールは、しながわ・目黒こどもスクールのウェブサイトでご確認ください。



おうちで、やろう。

Study at home. 小学校受験の家庭学習教材

数量：サイコロ5

左の太い四角の中のいくつかのサイコロの目を合わせると13になります。このとき、？マークのサイコロの目はいくつですか。右の中から選び○をつけます。

--	--	--	--	--

--	--	--	--	--

--	--	--	--	--

--	--	--	--	--

--	--	--	--	--

※1. このプリントは、しながわ・目黒こどもスクールのウェブサイトからダウンロードできます。無断複写・引用はご遠慮ください。
 ※2. このプリントを活用したオンライン授業のスケジュールは、しながわ・目黒こどもスクールのウェブサイトでご確認ください。



おうちで、やろう。

Study at home. 小学校受験の家庭学習教材

数量：違う数4

ゾウくんとうさぎさんが持っているリンゴの数を数えます。2匹が持っている果物のうちリンゴの数はいくつ違いますか。

ゾウくんが多ければ○、うさぎさんが多ければ●をその数だけかきます。




おうちで、やろう。

Study at home. 小学校受験の家庭学習教材

処理：運筆 28

壁にぶつからないように●から○まで一本の線をかきます。
この問題はスピードを意識して取り組む練習をしてみましょう。(1分)
※クーピー、鉛筆、水性ペンの好きなものを使ってやりましょう。
※この問題に解答はありません。



※1. このプリントは、しながわ・目黒こどもスクールのウェブサイトでダウンロードができます。無断複写・引用はご遠慮ください。
※2. このプリントを活用したオンライン授業のスケジュールは、しながわ・目黒こどもスクールのウェブサイトでご確認ください。

