





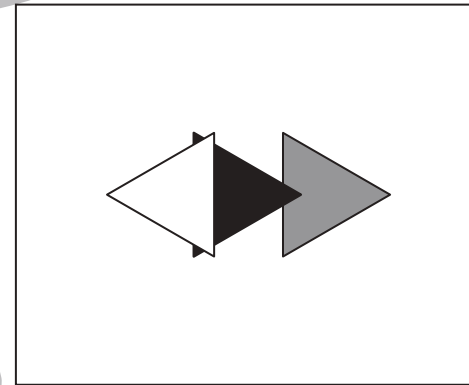
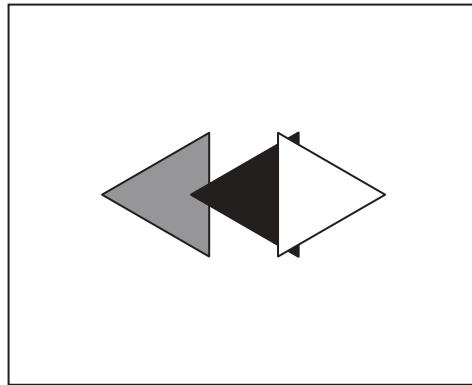
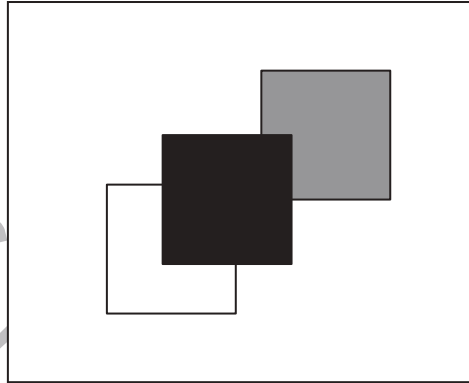
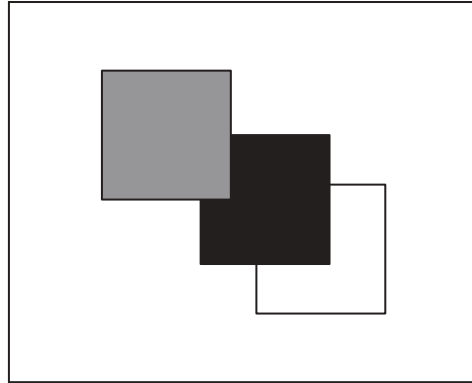


おうちで、やろう。

Study at home. 小学校受験の家庭学習教材

図形：鏡 47

左の絵を黒い線の上に鏡を置いて見た時の見え方が右の絵です。
見え方が正しい時は○、間違えている時は×を、太い四角の中にかきましょう。



※1. このプリントは、しながわ・目黒こどもスクールのウェブサイトでダウンロードができます。無断複写・引用はご遠慮ください。
※2. このプリントを活用したオンライン授業のスケジュールは、しながわ・目黒こどもスクールのウェブサイトでご確認ください。



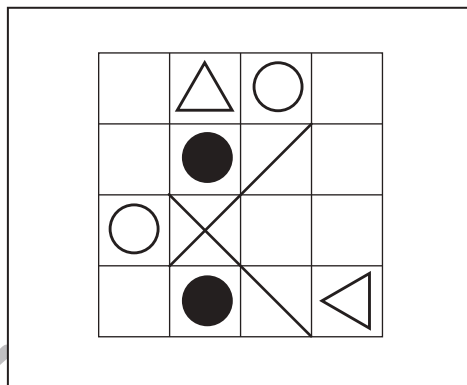
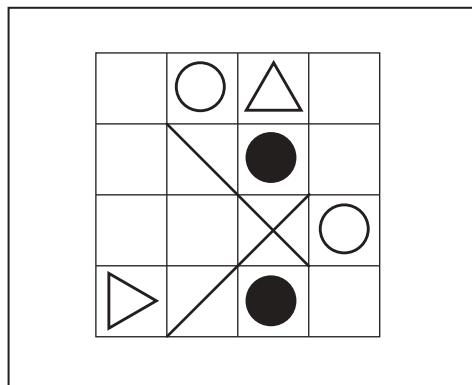
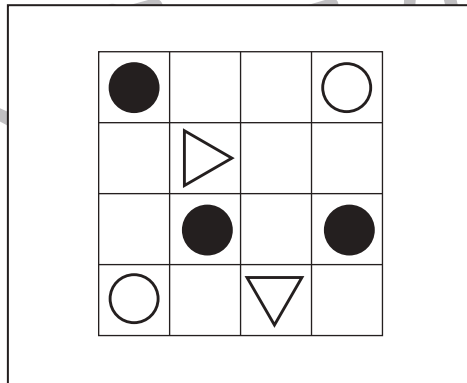
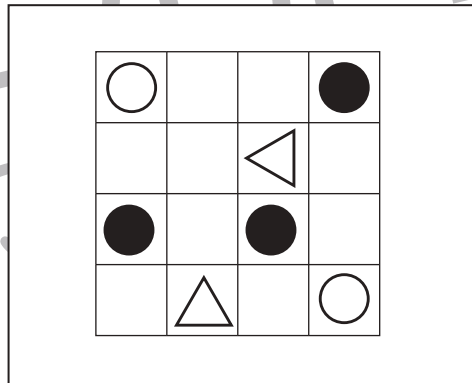
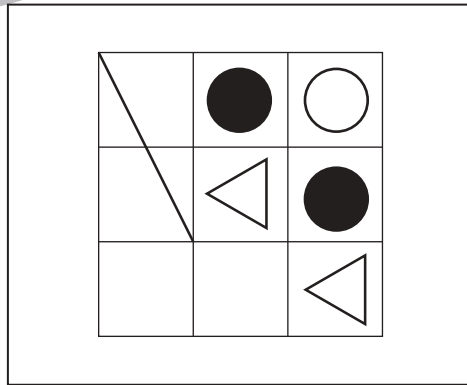
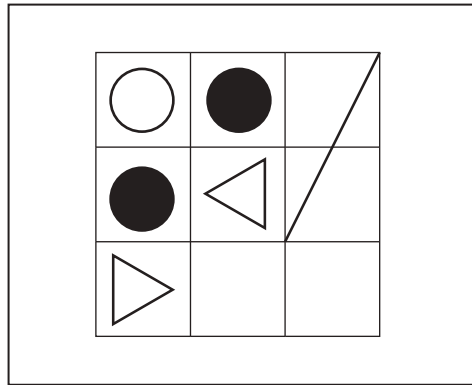
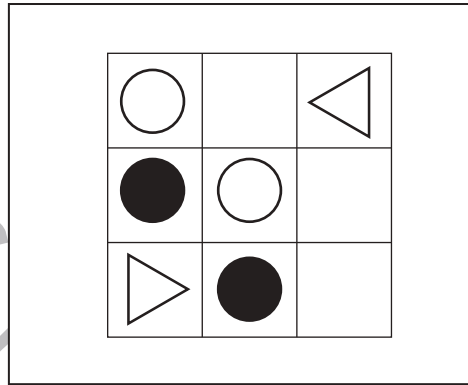
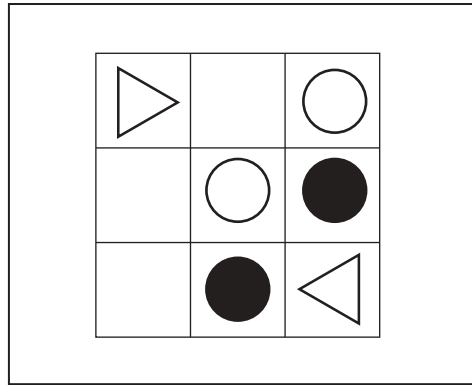


おうちで、やろう。

Study at home. 小学校受験の家庭学習教材

図形：鏡 48

左の絵を黒い線の上に鏡を置いて見た時の見え方が右の絵です。
見え方が正しい時は○、間違えている時は×を、太い四角の中にかきましょう。



※1. このプリントは、しながわ・目黒こどもスクールのウェブサイトでダウンロードができます。無断複写・引用はご遠慮ください。
※2. このプリントを活用したオンライン授業のスケジュールは、しながわ・目黒こどもスクールのウェブサイトでご確認ください。



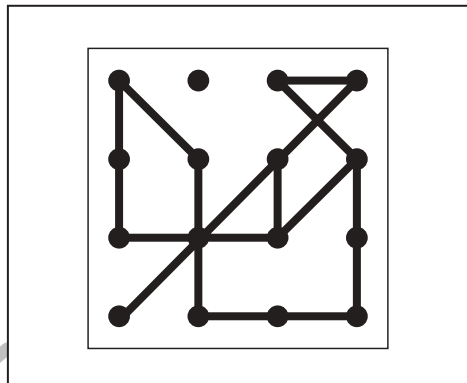
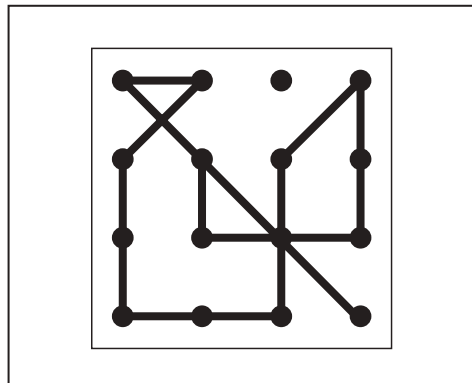
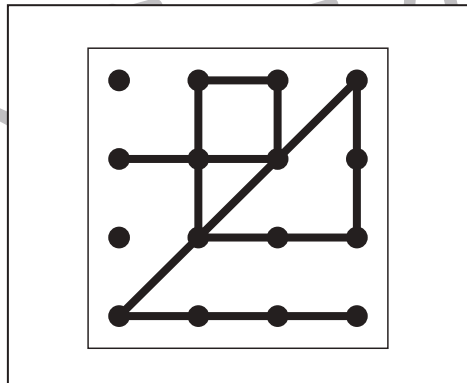
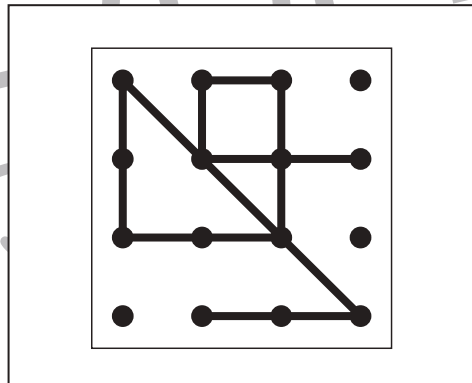
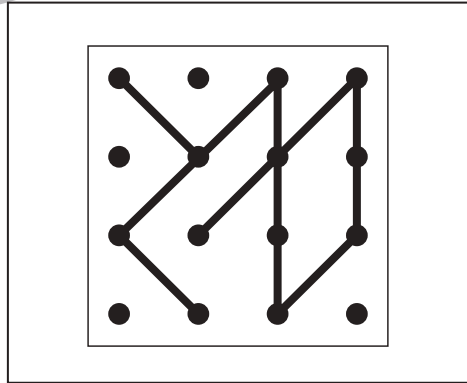
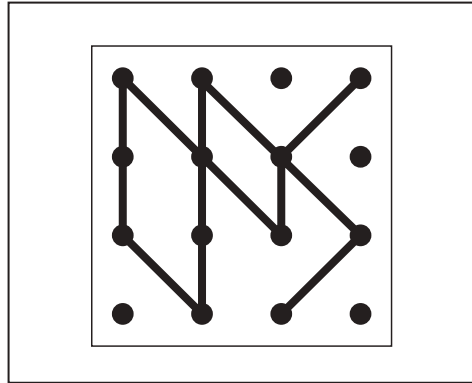
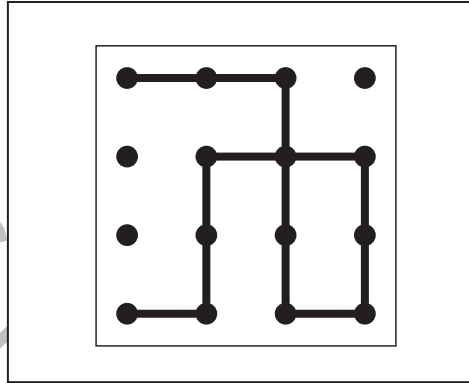
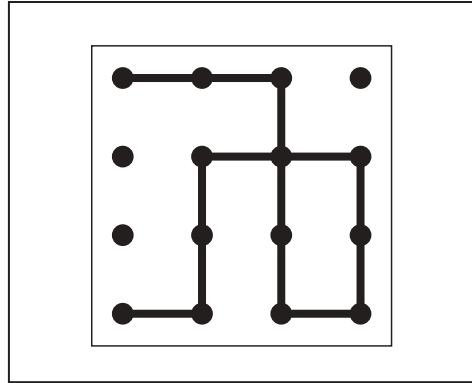


おうちで、やろう。

Study at home. 小学校受験の家庭学習教材

図形：鏡 49

左の絵を黒い線の上に鏡を置いて見た時の見え方が右の絵です。
見え方が正しい時は○、間違えている時は×を、太い四角の中にかきましょう。



※1. このプリントは、しながわ・目黒こどもスクールのウェブサイトでダウンロードができます。無断複写・引用はご遠慮ください。
※2. このプリントを活用したオンライン授業のスケジュールは、しながわ・目黒こどもスクールのウェブサイトでご確認ください。





おうちで、やろう。

Study at home. 小学校受験の家庭学習教材

図形：構成 34

左の2つの形を、右の四角の中にピッタリいれます。どのように入れればよいか考えて、右の四角の点線をなぞります。

--	--

--	--

--	--

--	--

※1. このプリントは、しながわ・目黒こどもスクールのウェブサイトでダウンロードができます。無断複写・引用はご遠慮ください。

※2. このプリントを活用したオンライン授業のスケジュールは、しながわ・目黒こどもスクールのウェブサイトでご確認ください。



おうちで、やろう。

Study at home. 小学校受験の家庭学習教材

図形：構成 35

左の2つの形を、右の四角の中にピッタリいれます。どのように入れればよいか考えて、右の四角の点線をなぞります。

--	--

--	--

--	--

--	--

※1. このプリントは、しながわ・目黒こどもスクールのウェブサイトからダウンロードできます。無断複写・引用はご遠慮ください。

※2. このプリントを活用したオンライン授業のスケジュールは、しながわ・目黒こどもスクールのウェブサイトでご確認ください。



おうちで、やろう。

Study at home. 小学校受験の家庭学習教材

図形：構成 36

左の2つの形を、右の四角の中にピッタリいれます。どのように入れればよいか考えて、右の四角の点線をなぞります。

--	--

--	--

--	--

--	--

※1. このプリントは、しながわ・目黒こどもスクールのウェブサイトでダウンロードができます。無断複写・引用はご遠慮ください。

※2. このプリントを活用したオンライン授業のスケジュールは、しながわ・目黒こどもスクールのウェブサイトでご確認ください。

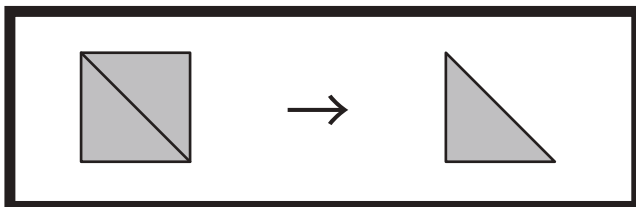


おうちで、やろう。

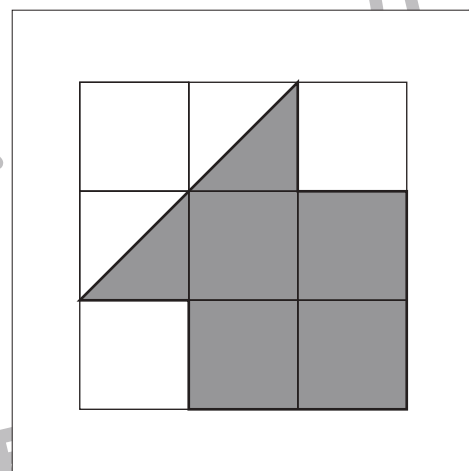
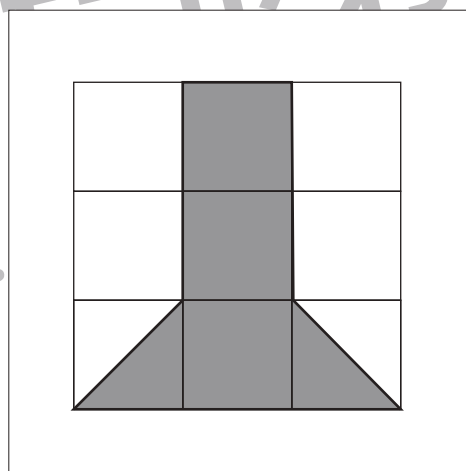
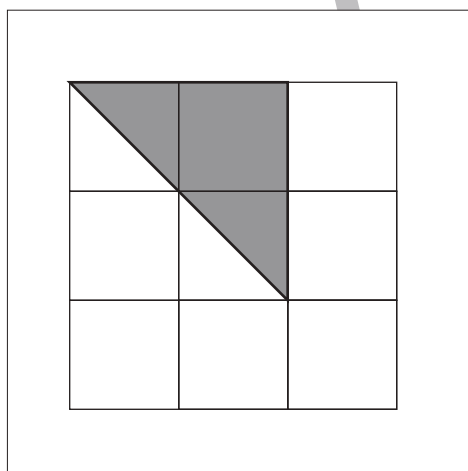
Study at home. 小学校受験の家庭学習教材

図形：三角パズル 7

上の太い四角の中の四角を半分にして三角パズルを作りました。この三角パズルを使ってそれぞれの形を作ります。それぞれ形は三角パズルを何枚使えばできるのかを考えて、下の四角の中にその数だけ〇をかきます。



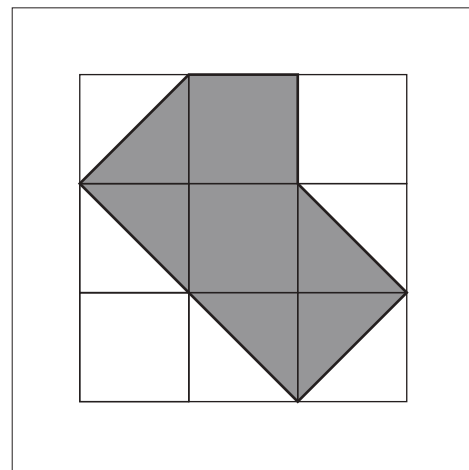
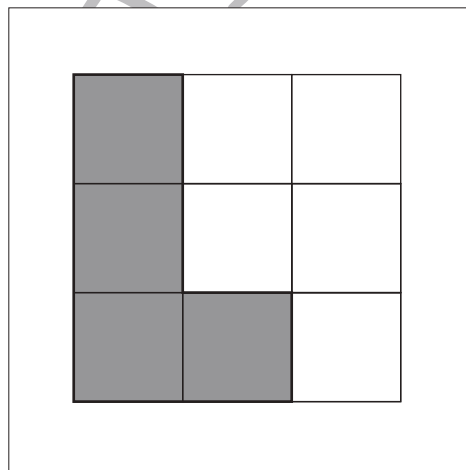
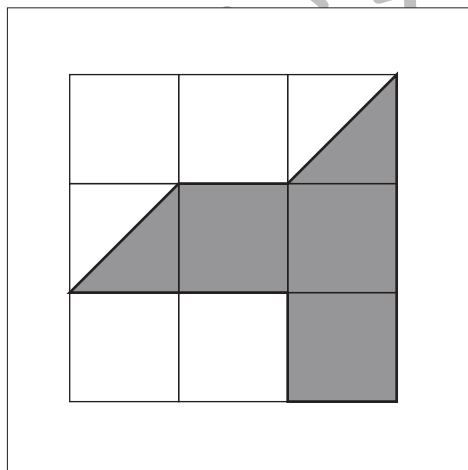
目黒



〇 × 4

〇 × 8

〇 × 10



〇 × 8

〇 × 8

〇 × 9

※1. このプリントは、しながわ・目黒こどもスクールのウェブサイトでダウンロードができます。無断複写・引用はご遠慮ください。
※2. このプリントを活用したオンライン授業のスケジュールは、しながわ・目黒こどもスクールのウェブサイトでご確認ください。

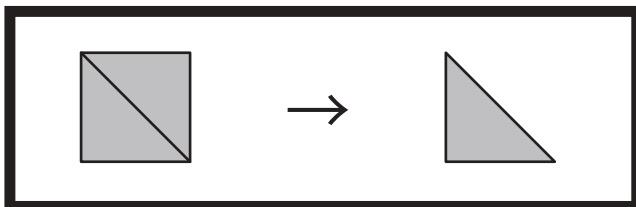


おうちで、やろう。

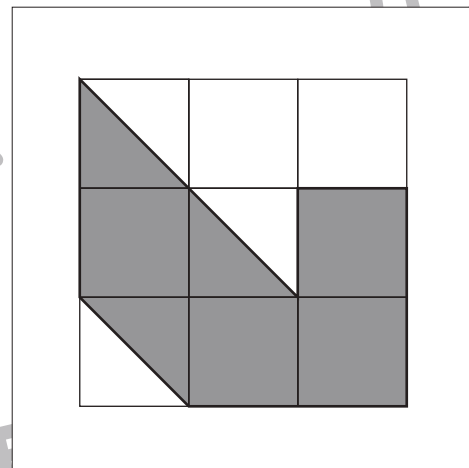
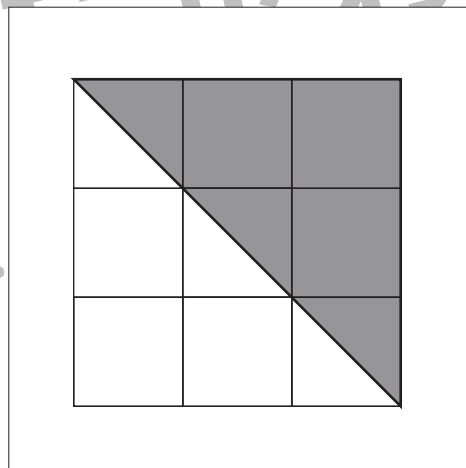
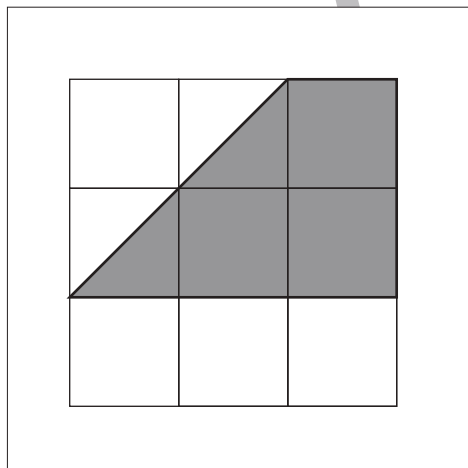
Study at home. 小学校受験の家庭学習教材

図形：三角パズル8

上の太い四角の中の四角を半分にして三角パズルを作りました。この三角パズルを使ってそれぞれの形を作ります。それぞれ形は三角パズルを何枚使えばできるのかを考えて、下の四角の中にその数だけ〇をかきます。



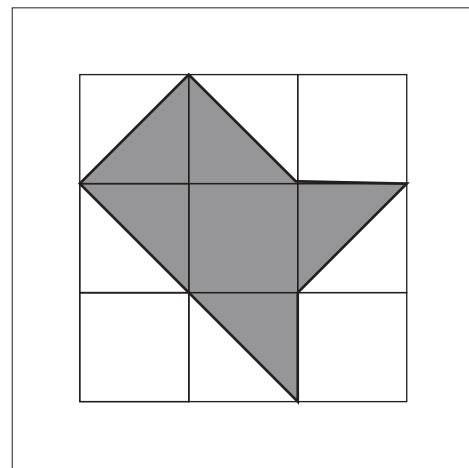
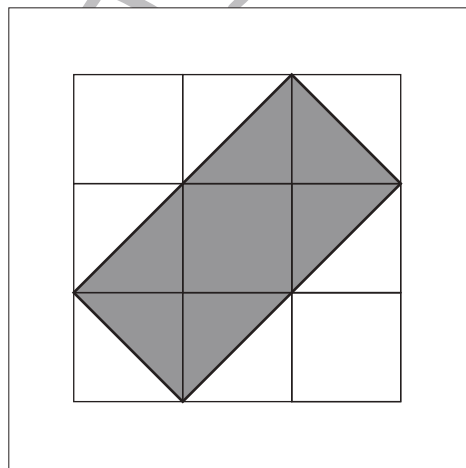
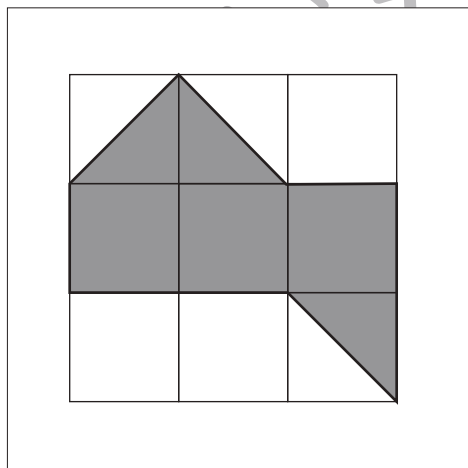
目黒



○ × 8

○ × 9

○ × 11



○ × 9

○ × 8

○ × 7

※1. このプリントは、しながわ・目黒こどもスクールのウェブサイトでダウンロードができます。無断複写・引用はご遠慮ください。
※2. このプリントを活用したオンライン授業のスケジュールは、しながわ・目黒こどもスクールのウェブサイトでご確認ください。




おうちで、やろう。

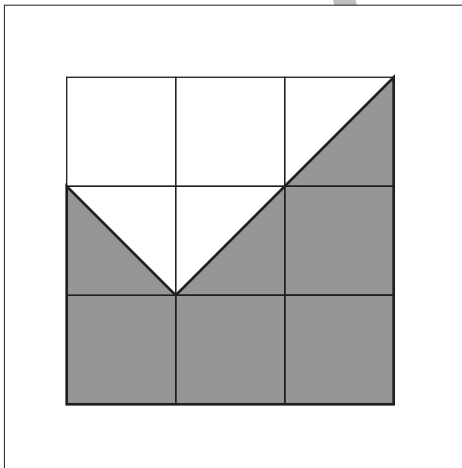
Study at home. 小学校受験の家庭学習教材

図形：三角パズル9

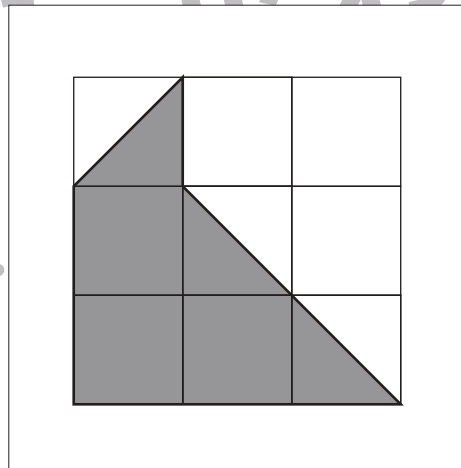
上の太い四角の中の四角を半分にして三角パズルを作りました。この三角パズルを使ってそれぞれの形を作ります。それぞれ形は三角パズルを何枚使えばできるのかを考えて、下の四角の中にその数だけ〇をかきます。



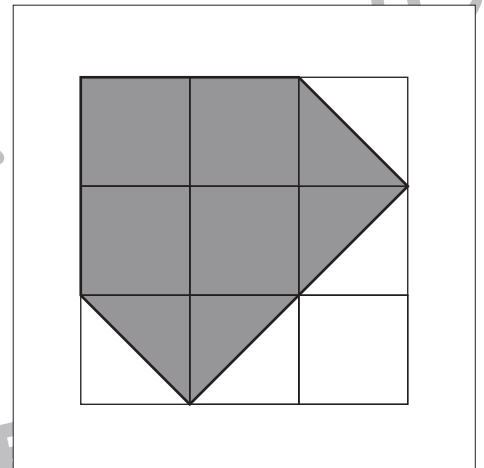
目黒



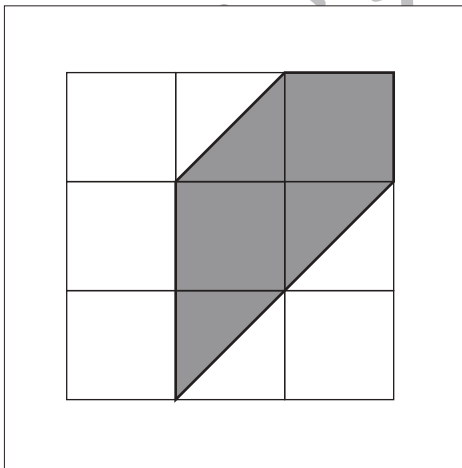
〇×11



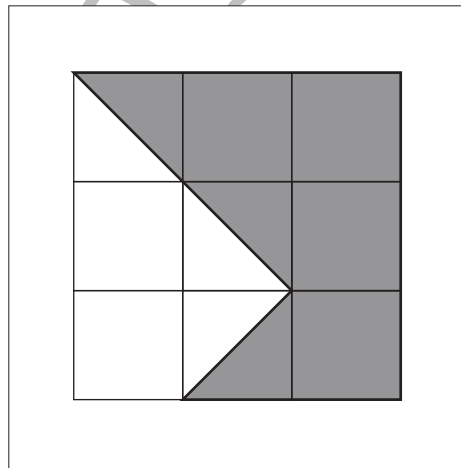
〇×9



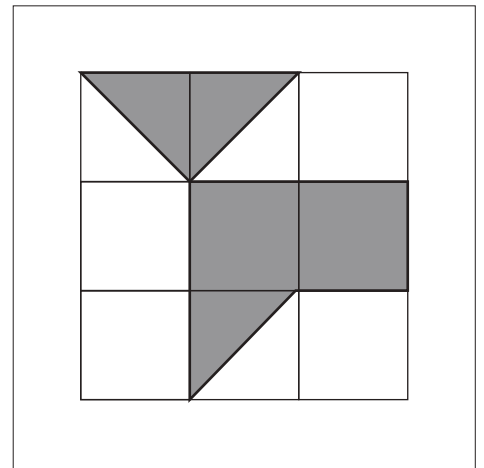
〇×12



〇×7



〇×11



〇×7

※1. このプリントは、しながわ・目黒こどもスクールのウェブサイトでダウンロードができます。無断複写・引用はご遠慮ください。
※2. このプリントを活用したオンライン授業のスケジュールは、しながわ・目黒こどもスクールのウェブサイトでご確認ください。