

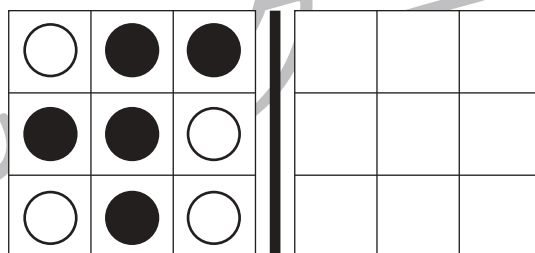

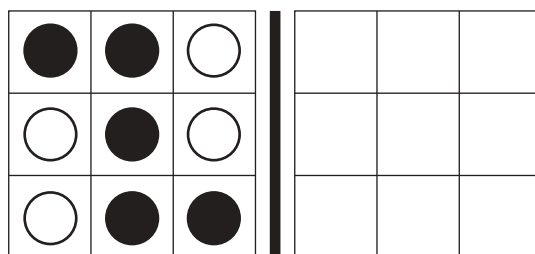
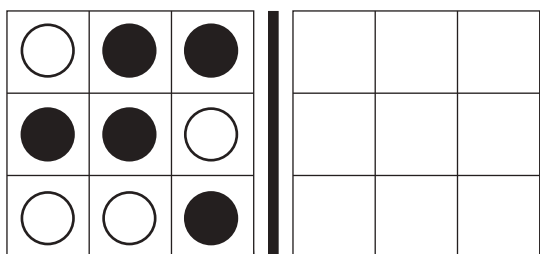
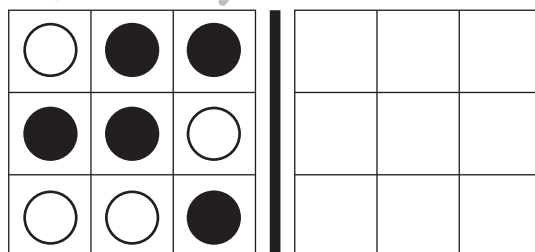
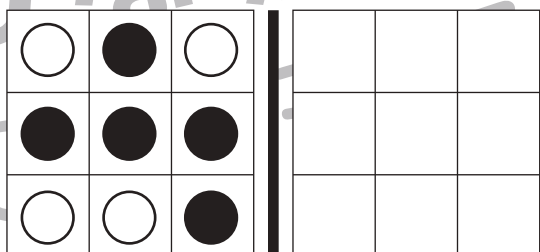
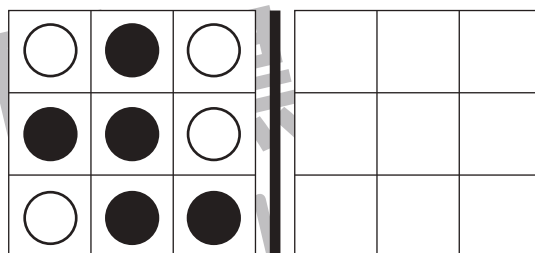
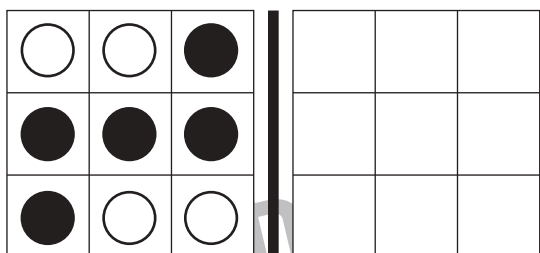


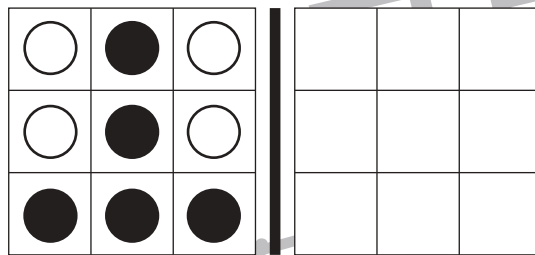
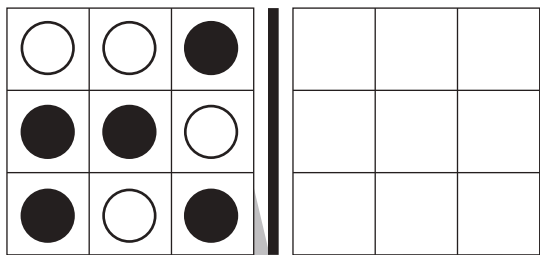


# おうちで、やろう。

Study at home. 小学校受験の家庭学習教材

図形：鏡 50

左の見本を真ん中の太い線の上に鏡を置いて見た時の見え方を考えます。白い丸だけを右の四角にかきます。



※1. このプリントは、しながわ・目黒こどもスクールのウェブサイトでダウンロードができます。無断複写・引用はご遠慮ください。  
 ※2. このプリントを活用したオンライン授業のスケジュールは、しながわ・目黒こどもスクールのウェブサイトでご確認ください。



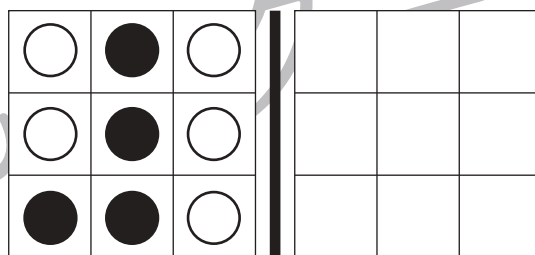
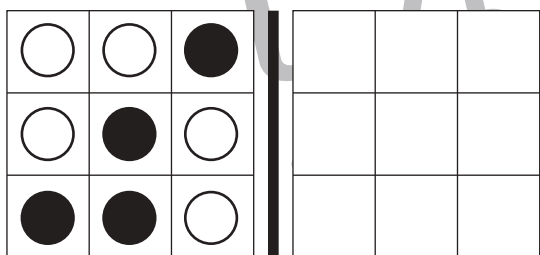
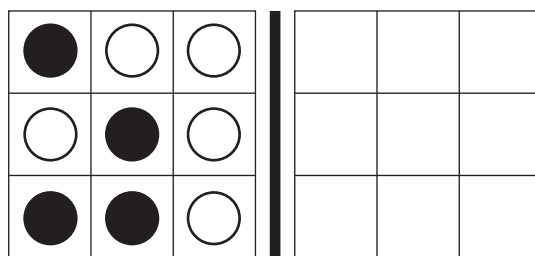
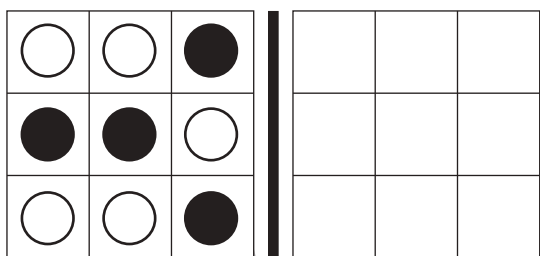
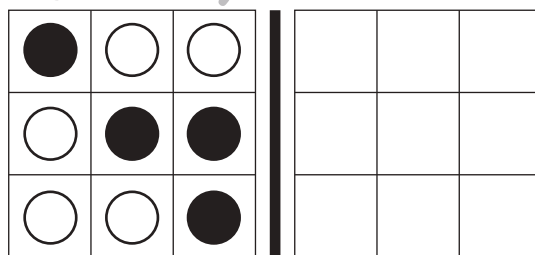
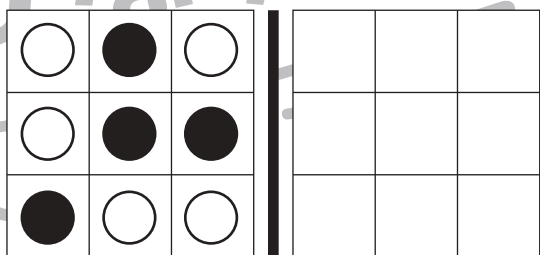
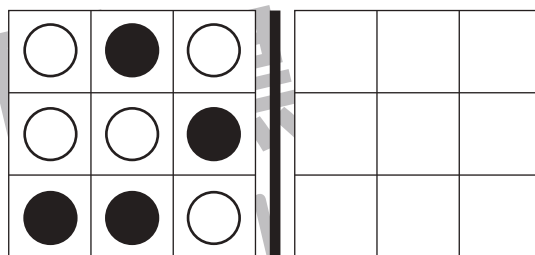

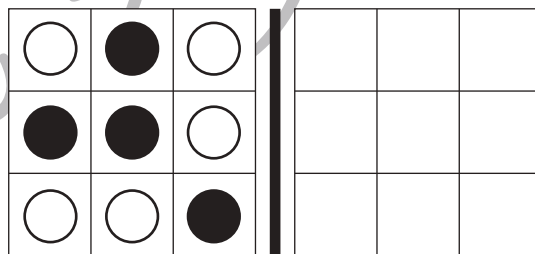
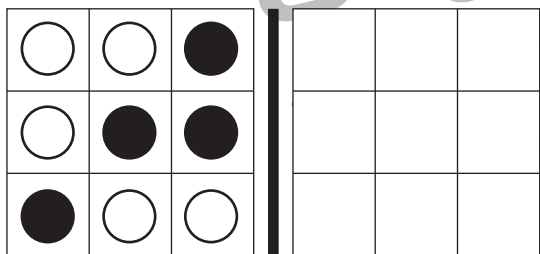
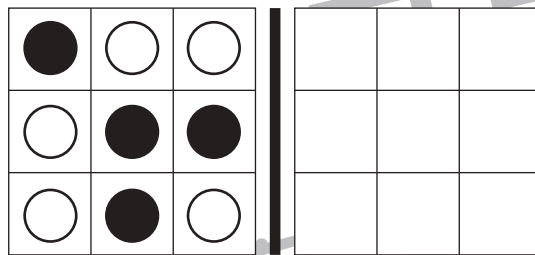



# おうちで、やろう。

Study at home. 小学校受験の家庭学習教材

## 図形：鏡51

左の見本を真ん中の太い線の上に鏡を置いて見た時の見え方を考えます。白い丸だけを右の四角にかきます。



※1. このプリントは、しながわ・目黒こどもスクールのウェブサイトでダウンロードができます。無断複写・引用はご遠慮ください。

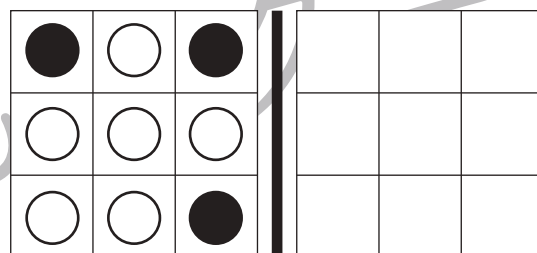
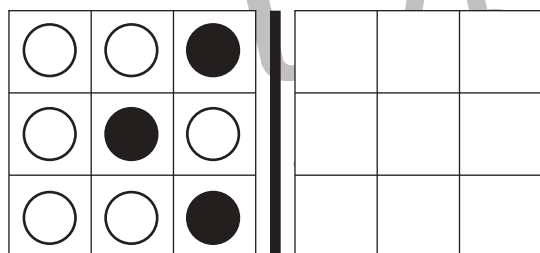
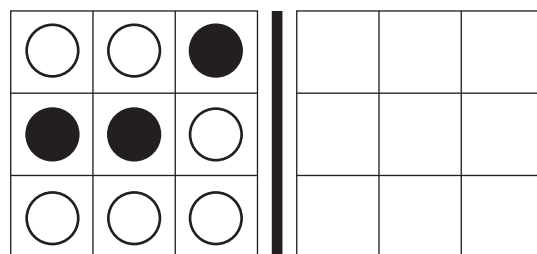
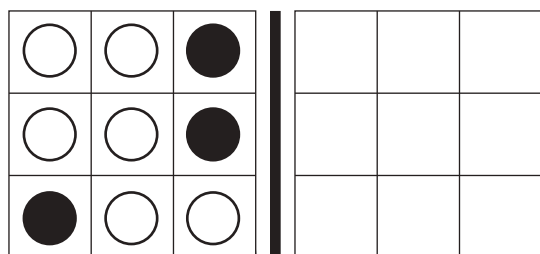
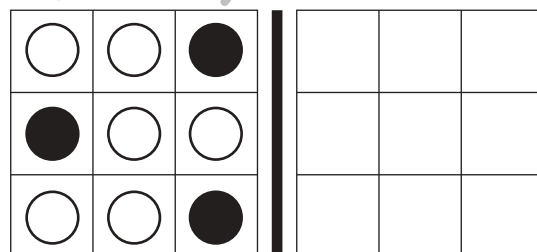
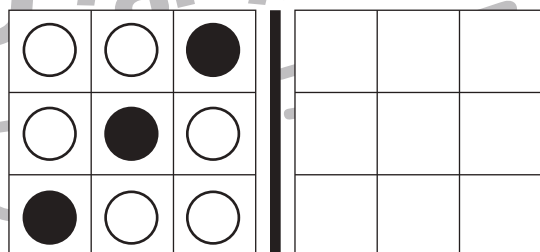
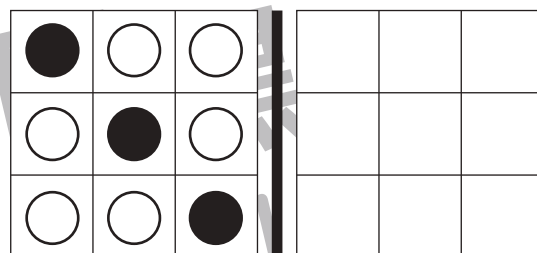
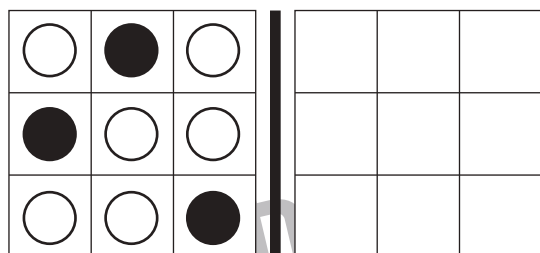
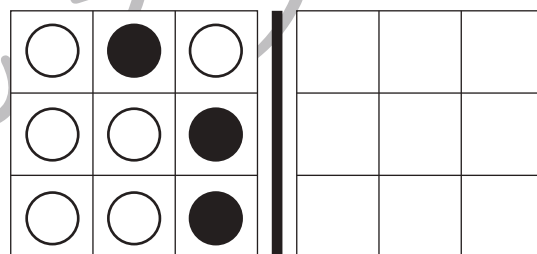
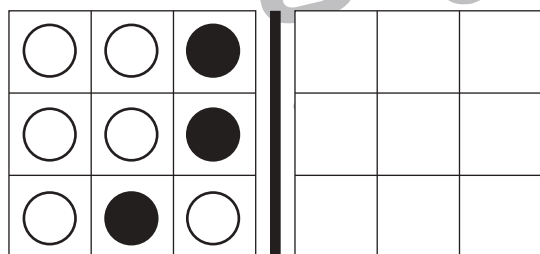
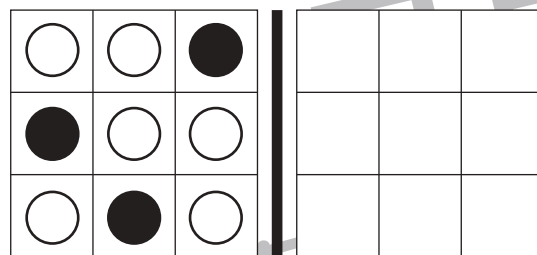

※2. このプリントを活用したオンライン授業のスケジュールは、しながわ・目黒こどもスクールのウェブサイトでご確認ください。



# おうちで、やろう。

Study at home. 小学校受験の家庭学習教材

左の見本を真ん中の太い線の上に鏡を置いて見た時の見え方を考えます。白い丸だけを右の四角にかきます。



※1. このプリントは、しながわ・目黒こどもスクールのウェブサイトでダウンロードができます。無断複写・引用はご遠慮ください。

※2. このプリントを活用したオンライン授業のスケジュールは、しながわ・目黒こどもスクールのウェブサイトでご確認ください。



# おうちで、やろう。

Study at home. 小学校受験の家庭学習教材

## 図形：折り重ね 63

左のマスは透明です。このマスを真ん中の太い線で矢印の方向へ折り重ねます。  
このとき、隠れないで見えているマスの数だけ右の四角に○をかきます。


※1. このプリントは、しながわ・目黒こどもスクールのウェブサイトでダウンロードができます。無断複写・引用はご遠慮ください。  
※2. このプリントを活用したオンライン授業のスケジュールは、しながわ・目黒こどもスクールのウェブサイトでご確認ください。



# おうちで、やろう。

Study at home. 小学校受験の家庭学習教材

## 図形：折り重ね 64

左のマスは透明です。このマスを真ん中の太い線で矢印の方向へ折り重ねます。  
このとき、隠れないで見えているマスの数だけ右の四角に○をかきます。

Figure 64: A 5x3 grid of 15 squares. A vertical line is drawn between the second and third columns. An arrow above the line points to the right, indicating a fold. The grid is divided into three columns: Column 1 (left), Column 2 (middle), and Column 3 (right). The squares in Column 1 are shaded in a checkerboard pattern: (1,1) white, (1,2) gray, (1,3) white, (1,4) gray, (1,5) white; (2,1) gray, (2,2) white, (2,3) gray, (2,4) white, (2,5) gray; (3,1) white, (3,2) gray, (3,3) white, (3,4) gray, (3,5) white; (4,1) gray, (4,2) white, (4,3) gray, (4,4) white, (4,5) gray; (5,1) white, (5,2) gray, (5,3) white, (5,4) gray, (5,5) white.

The figure shows five rows of this grid, each followed by a blank square. The first row shows the grid with the fold line and arrow. The second row shows the grid after the first column is folded to the right, overlapping the second and third columns. The third row shows the grid after the second column is folded to the right, overlapping the first and second columns. The fourth row shows the grid after the third column is folded to the right, overlapping the first and second columns. The fifth row shows the grid after the first column is folded to the right, overlapping the second and third columns.

※1. このプリントは、しながわ・目黒こどもスクールのウェブサイトでダウンロードができます。無断複写・引用はご遠慮ください。  
※2. このプリントを活用したオンライン授業のスケジュールは、しながわ・目黒こどもスクールのウェブサイトでご確認ください。



# おうちで、やろう。

Study at home. 小学校受験の家庭学習教材

## 図形：折り重ね 65

左のマスは透明です。このマスを真ん中の太い線で矢印の方向へ折り重ねます。  
このとき、隠れないで見えているマスの数だけ右の四角に○をかきます。


※1. このプリントは、しながわ・目黒こどもスクールのウェブサイトでダウンロードができます。無断複写・引用はご遠慮ください。

※2. このプリントを活用したオンライン授業のスケジュールは、しながわ・目黒こどもスクールのウェブサイトでご確認ください。












# おうちで、やろう。

Study at home. 小学校受験の家庭学習教材

数量：計数 59

それぞれの四角のマスには白丸と灰色の丸が並んでいます。  
灰色の丸の数が7つのものを探して○をつけます。



※1. このプリントは、しながわ・目黒こどもスクールのウェブサイトでダウンロードができます。無断複写・引用はご遠慮ください。  
 ※2. このプリントを活用したオンライン授業のスケジュールは、しながわ・目黒こどもスクールのウェブサイトでご確認ください。














# おうちで、やろう。

Study at home. 小学校受験の家庭学習教材

数量：計数 60

それぞれの四角のマスには白丸と灰色の丸が並んでいます。  
灰色の丸の数が9つのものを探して○をつけます。



※1. このプリントは、しながわ・目黒こどもスクールのウェブサイトでダウンロードができます。無断複写・引用はご遠慮ください。  
 ※2. このプリントを活用したオンライン授業のスケジュールは、しながわ・目黒こどもスクールのウェブサイトでご確認ください。
















# おうちで、やろう。

Study at home. 小学校受験の家庭学習教材

数量：計数 61

それぞれの四角のマスには白丸と灰色の丸が並んでいます。  
灰色の丸の数が 11 つのものを探して○をつけます。



※1. このプリントは、しながわ・目黒こどもスクールのウェブサイトでダウンロードができます。無断複写・引用はご遠慮ください。  
 ※2. このプリントを活用したオンライン授業のスケジュールは、しながわ・目黒こどもスクールのウェブサイトでご確認ください。




# おうちで、やろう。

Study at home. 小学校受験の家庭学習教材

処理：運筆 30

壁にぶつからないように●から○まで一本の線をかきます。  
この問題はスピードを意識して取り組む練習をしてみましょう。(1分)  
※クーピー、鉛筆、水性ペンの好きなものを使ってやりましょう。  
※この問題に解答はありません。



※1. このプリントは、しながわ・目黒こどもスクールのウェブサイトでダウンロードができます。無断複写・引用はご遠慮ください。  
※2. このプリントを活用したオンライン授業のスケジュールは、しながわ・目黒こどもスクールのウェブサイトでご確認ください。

