




おうちで、やろう。

Study at home. 小学校受験の家庭学習教材

まちがいさがし1

上下の絵を見比べて、変わっているところを4つ探します。見つけたら、下の絵の変わっている部分に○をつけます。





おうちで、やろう。

Study at home. 小学校受験の家庭学習教材

図形：欠所1

下の形はある形の半分の線です。元の形を考えて、もう半分の線を描き足します。

| | |
|--|--|
| | |
| | |
| | |

※1. このプリントは、しながわ・目黒こどもスクールのウェブサイトからダウンロードできます。無断複写・引用はご遠慮ください。
※2. このプリントを活用したオンライン授業のスケジュールは、しながわ・目黒こどもスクールのウェブサイトでご確認ください。







おうちで、やろう。

Study at home. 小学校受験の家庭学習教材

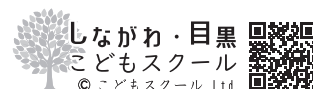
巧緻性：ちぎり1

①点線をはさみで切ります。 ②絵の太い線をちぎります。ちぎるときは黒線の真ん中をちぎります。
※このプリントに解答がありません。



ICT 教育の小学校受験

※1. このプリントは、しながわ・目黒こどもスクールのウェブサイトでダウンロードができます。無断複写・引用はご遠慮ください。
※2. このプリントを活用したオンライン授業のスケジュールは、しながわ・目黒こどもスクールのウェブサイトでご確認ください。





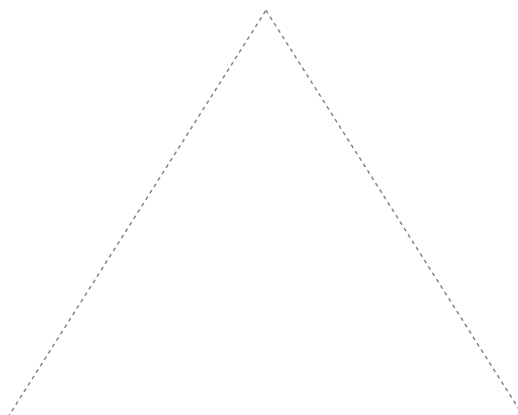



おうちで、やろう。

Study at home. 小学校受験の家庭学習教材

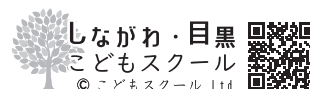
巧緻性：ちぎり2

①下の四角の点線をはさみで切ります。 ②太い線をちぎります。ちぎりが終わったら上の点線の上に、のりで貼ります。



ICT 教育の小学校受験

※1. このプリントは、しながわ・目黒こどもスクールのウェブサイトからダウンロードできます。無断複写・引用はご遠慮ください。
※2. このプリントを活用したオンライン授業のスケジュールは、しながわ・目黒こどもスクールのウェブサイトでご確認ください。








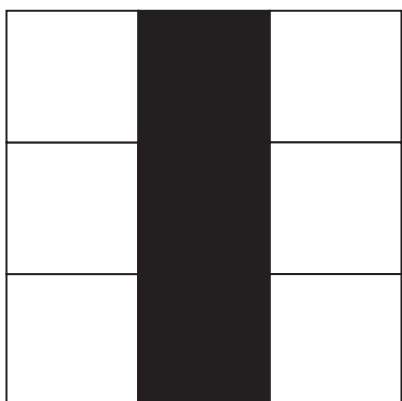




おうちで、やろう。

Study at home. 小学校受験の家庭学習教材

図形：模写1

左の四角がお手本です。お手本通りになるように右のマスの中を塗ります。
※この問題に解答はありません。



※1. このプリントは、しながわ・目黒こどもスクールのウェブサイトでダウンロードができます。無断複写・引用はご遠慮ください。
※2. このプリントを活用したオンライン授業のスケジュールは、しながわ・目黒こどもスクールのウェブサイトでご確認ください。













おうちで、やろう。

Study at home. 小学校受験の家庭学習教材

図形：模写2

左の四角の中がお手本です。お手本通りになるように右のマスの中を塗ります。
※この問題に解答はありません。



※1. このプリントは、しながわ・目黒こどもスクールのウェブサイトでダウンロードができます。無断複写・引用はご遠慮ください。

※2. このプリントを活用したオンライン授業のスケジュールは、しながわ・目黒こどもスクールのウェブサイトでご確認ください。





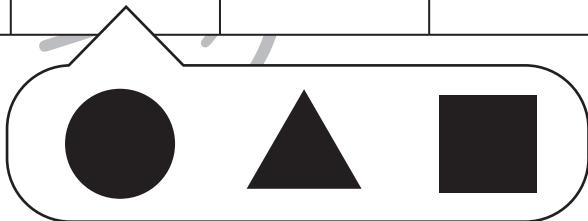

おうちで、やろう。

Study at home. 小学校受験の家庭学習教材

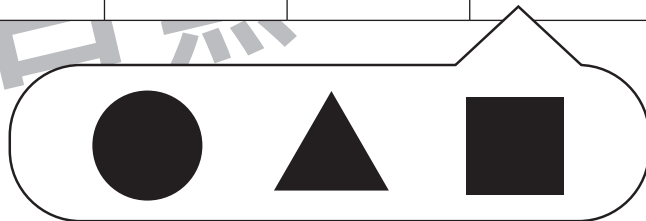
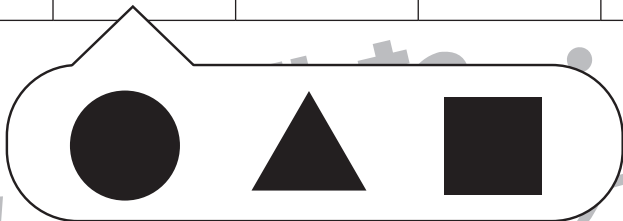
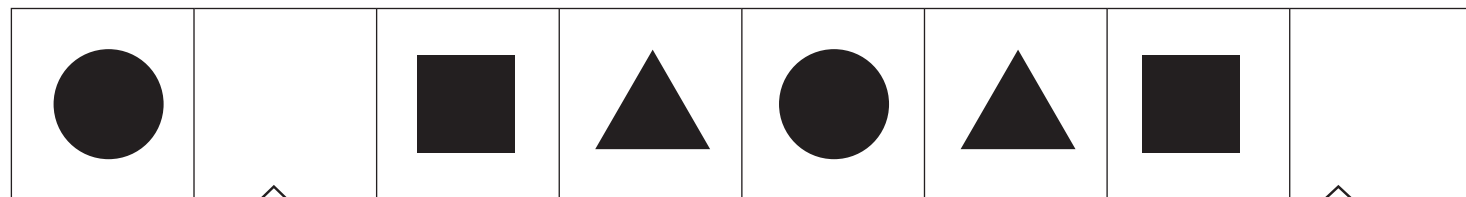
推理：系列完成 1

それぞれの四角の中に、絵がある決まりで並んでいます。空いているマスに入るもの考えて吹き出しの絵に○をつけます。

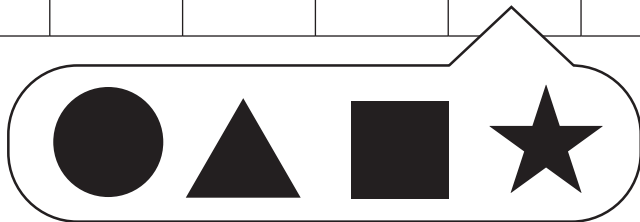

①





②



③



④



※1. このプリントは、しながわ・目黒こどもスクールのウェブサイトでダウンロードができます。無断複写・引用はご遠慮ください。
※2. このプリントを活用したオンライン授業のスケジュールは、しながわ・目黒こどもスクールのウェブサイトでご確認ください。







おうちで、やろう。

Study at home. 小学校受験の家庭学習教材

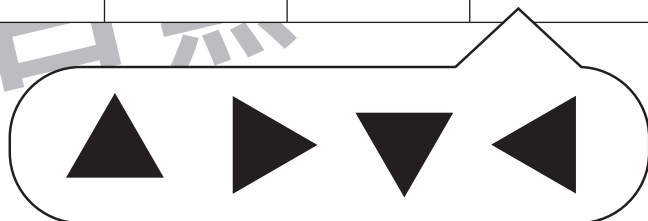
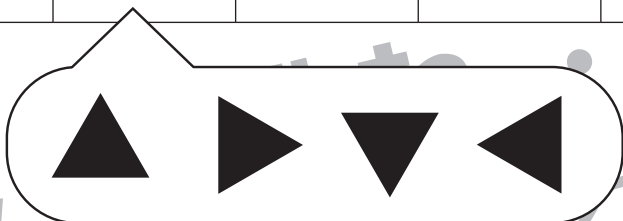

推理：系列完成2

それぞれの四角の中に、絵がある決まりで並んでいます。空いているマスに入るもの考えて吹き出しの絵に○をつけます。

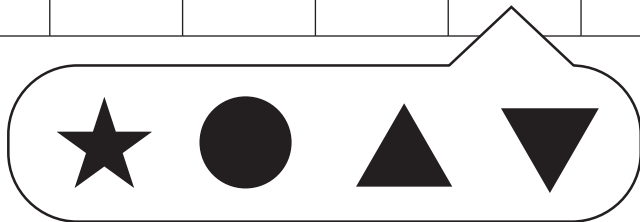
①




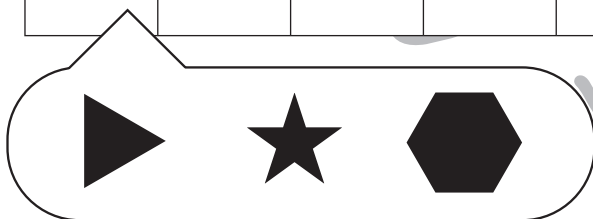

②



③



④



※1. このプリントは、しながわ・目黒こどもスクールのウェブサイトでダウンロードができます。無断複写・引用はご遠慮ください。

※2. このプリントを活用したオンライン授業のスケジュールは、しながわ・目黒こどもスクールのウェブサイトでご確認ください。



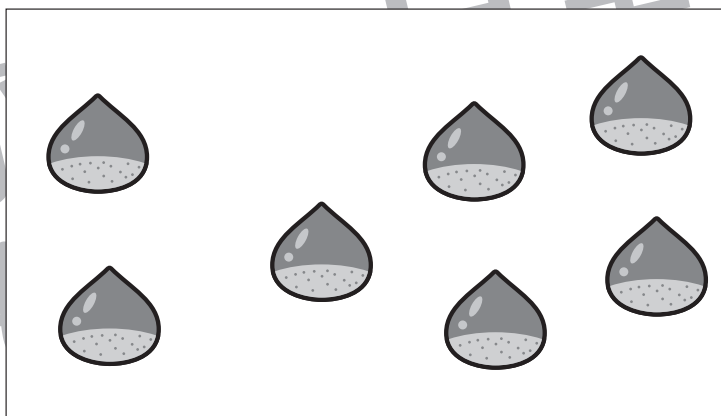
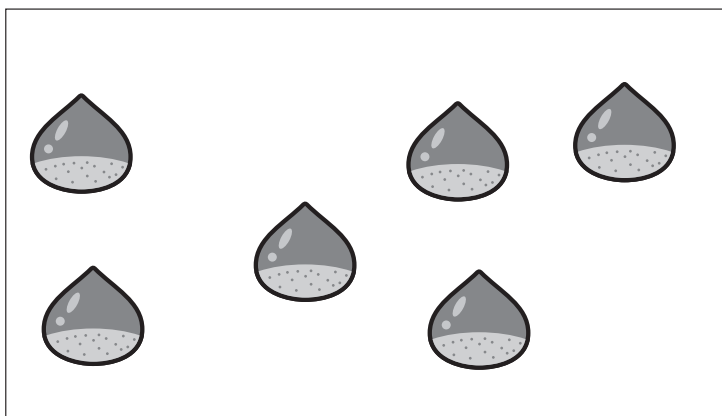
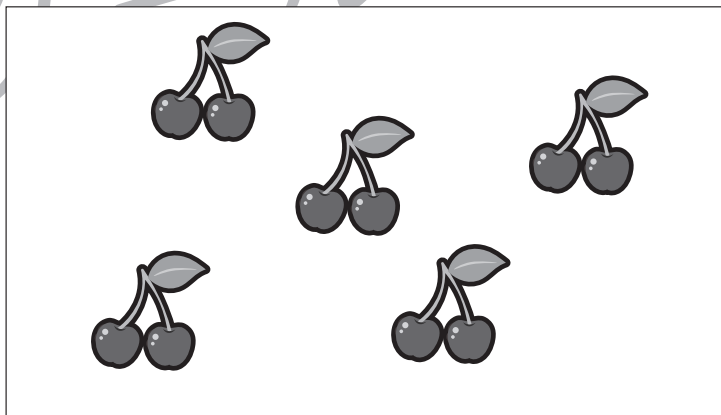







おうちで、やろう。

Study at home. 小学校受験の家庭学習教材

数量：多少3

左と右の四角の中の果物の数をかぞえて、多い方の四角に○をつけます。



※1. このプリントは、しながわ・目黒こどもスクールのウェブサイトでダウンロードができます。無断複写・引用はご遠慮ください。
※2. このプリントを活用したオンライン授業のスケジュールは、しながわ・目黒こどもスクールのウェブサイトでご確認ください。



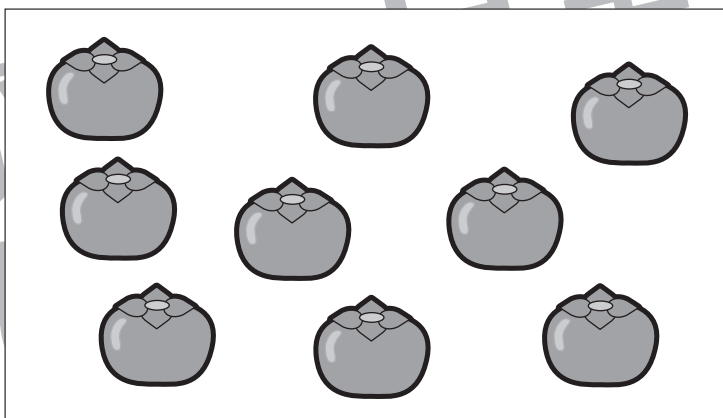
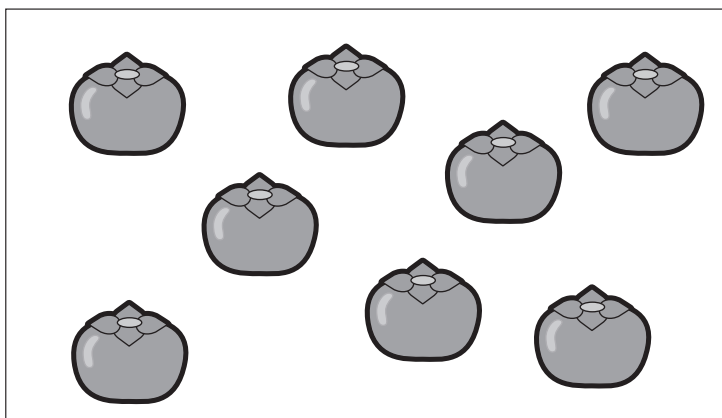

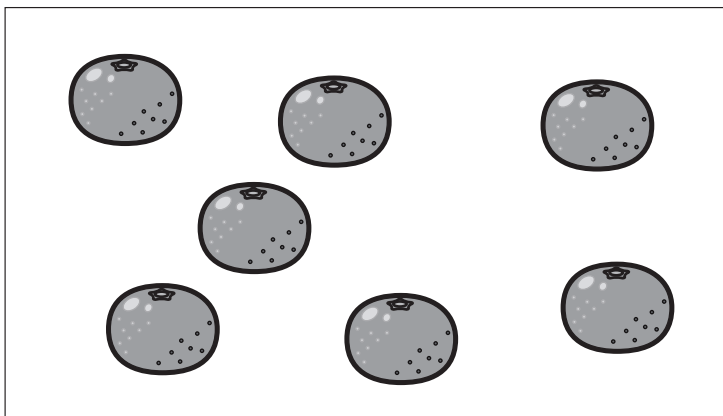
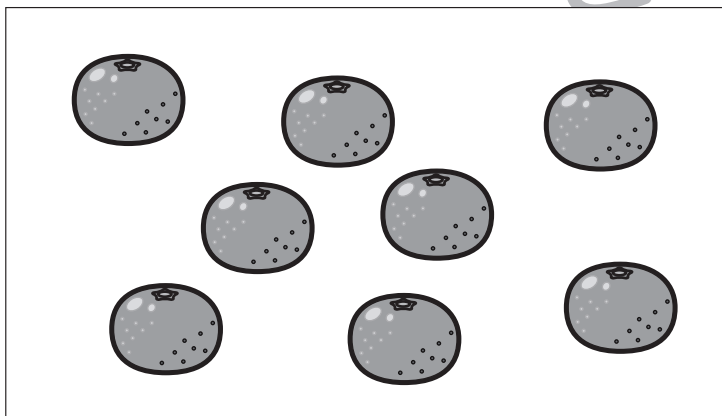




おうちで、やろう。

Study at home. 小学校受験の家庭学習教材

数量：多少4

左と右の四角の中の果物の数をかぞえて、多い方の四角に○をつけます。



※1. このプリントは、しながわ・目黒こどもスクールのウェブサイトからダウンロードできます。無断複写・引用はご遠慮ください。

※2. このプリントを活用したオンライン授業のスケジュールは、しながわ・目黒こどもスクールのウェブサイトでご確認ください。