






# おうちで、やろう。

Study at home. 小学校受験の家庭学習教材

下の太い四角が約束です。ブドウと言ったら3マス、メロンと言ったら2マス、イチゴと言ったら6マス進めます。この約束で☆から進み、①～③の問題に答えましょう。

- ①『ブドウ→メロン→イチゴ→メロン』ついた場所に○をつけます。
- ②『イチゴ→ブドウ→ブドウ→イチゴ→メロン』ついた場所に×をつけます。
- ③『ブドウ→ブドウ→メロン→イチゴ→メロン→イチゴ→イチゴ』ついた場所に◎をつけます。



☆						
				◎		
×						
						○

※1. このプリントは、しながわ・目黒こどもスクールのウェブサイトでダウンロードができます。無断複写・引用はご遠慮ください。  
 ※2. このプリントを活用したオンライン授業のスケジュールは、しながわ・目黒こどもスクールのウェブサイトでご確認ください。

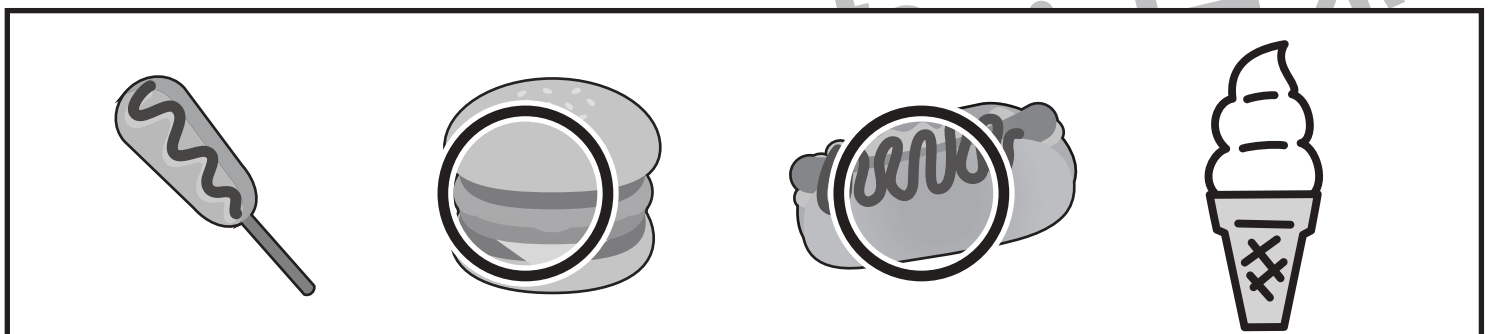
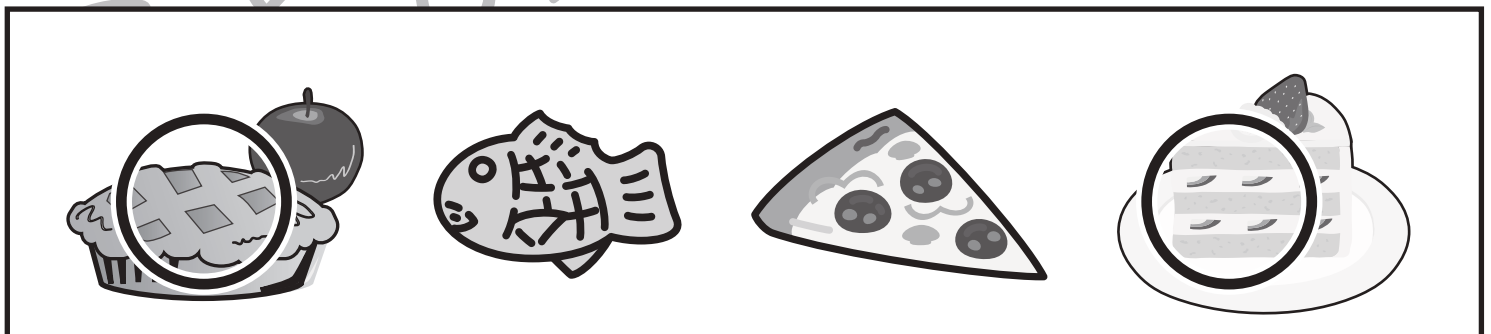
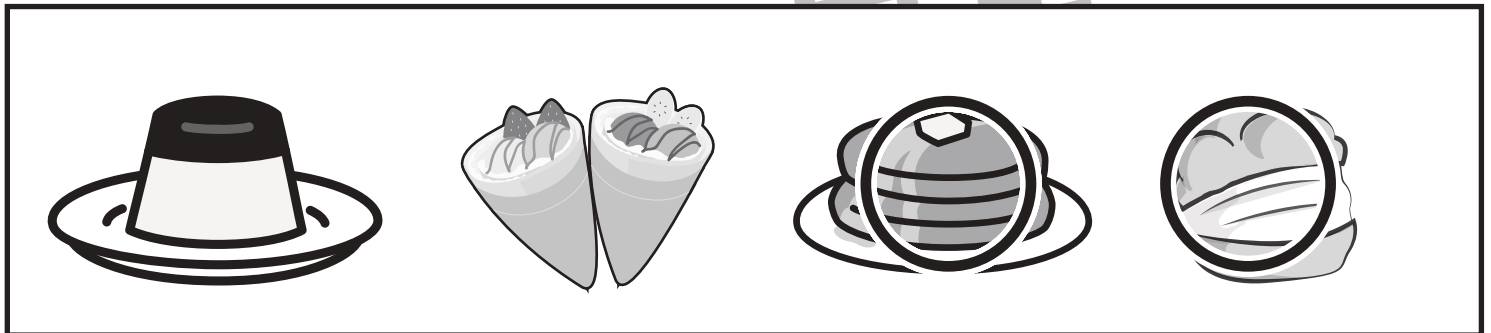

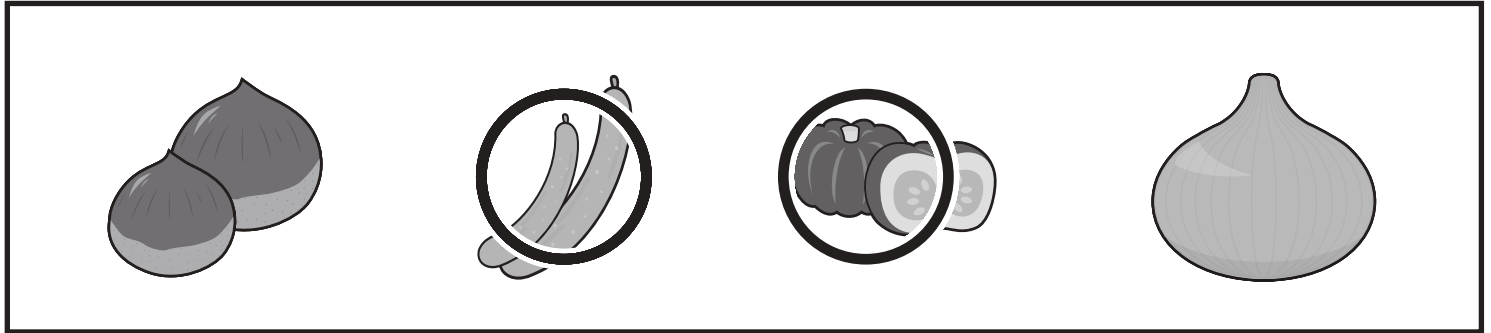


# おうちで、やろう。

Study at home. 小学校受験の家庭学習教材

言語：音の数44

それぞれの四角の中の食べ物の音の数を考えます。音の数が同じものを2 つみつけて○をつけます。



※1. このプリントは、しながわ・目黒こどもスクールのウェブサイトからダウンロードができます。無断複写・引用はご遠慮ください。  
 ※2. このプリントを活用したオンライン授業のスケジュールは、しながわ・目黒こどもスクールのウェブサイトでご確認ください。



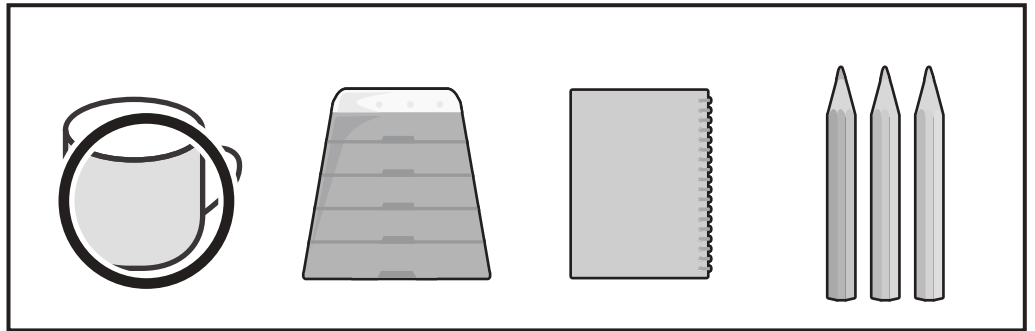
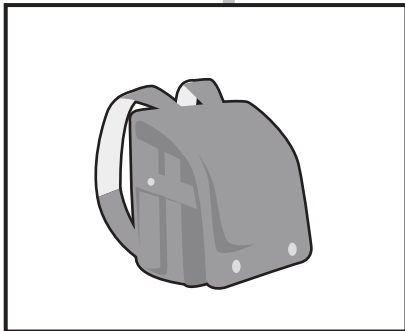
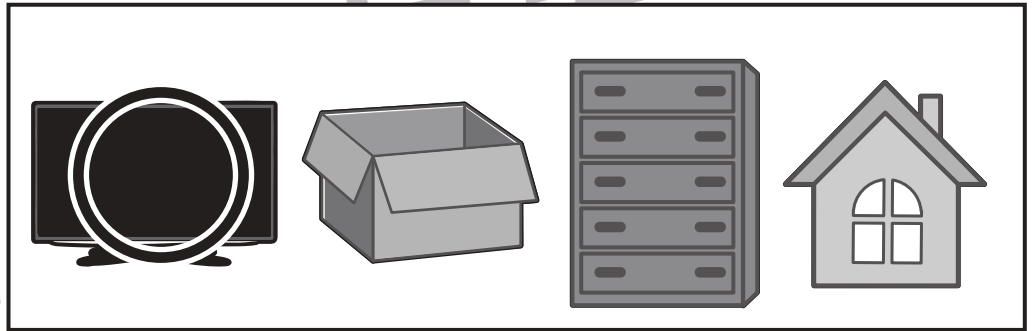
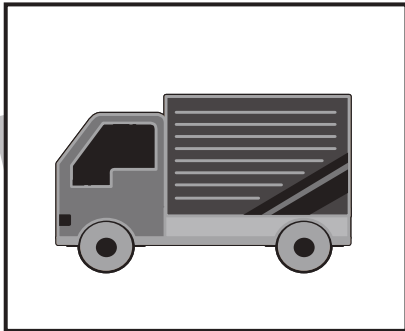






# おうちで、やろう。

Study at home. 小学校受験の家庭学習教材

言語：数え方 14

左の四角の絵と数え方が同じ絵を右の四角の中から選び○をつけます。



※1. このプリントは、しながわ・目黒こどもスクールのウェブサイトでダウンロードができます。無断複写・引用はご遠慮ください。  
※2. このプリントを活用したオンライン授業のスケジュールは、しながわ・目黒こどもスクールのウェブサイトでご確認ください。

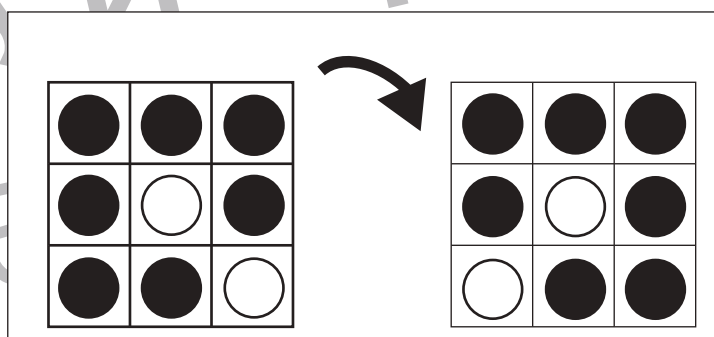
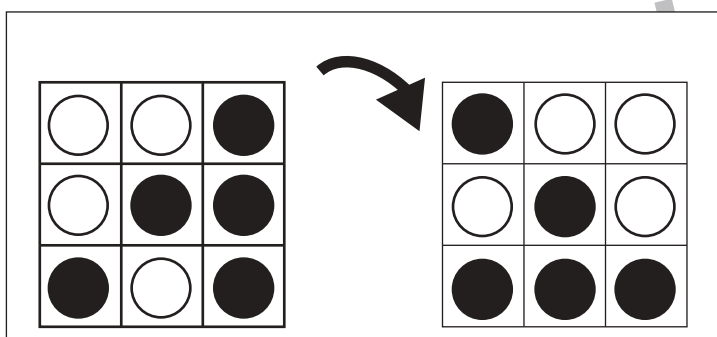
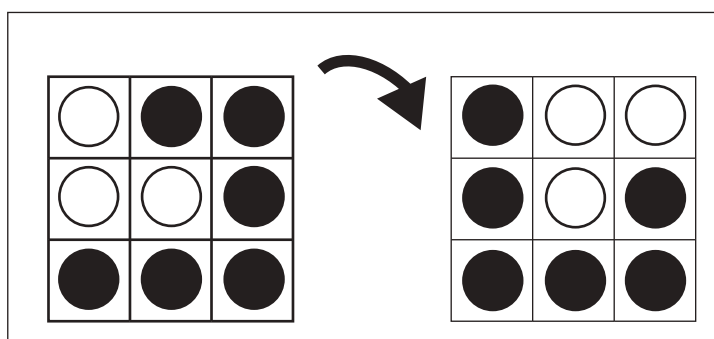
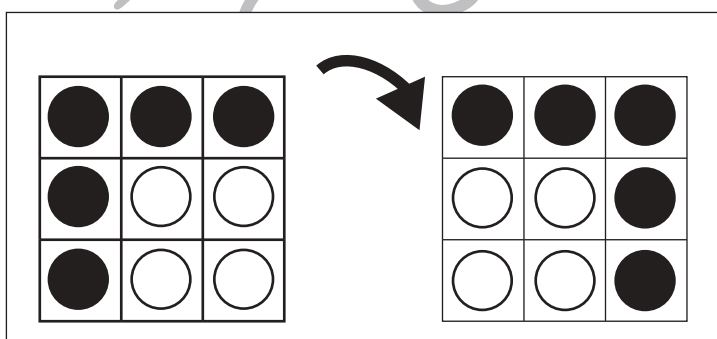
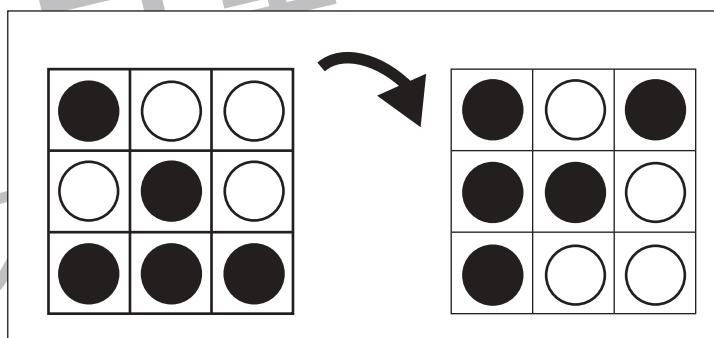
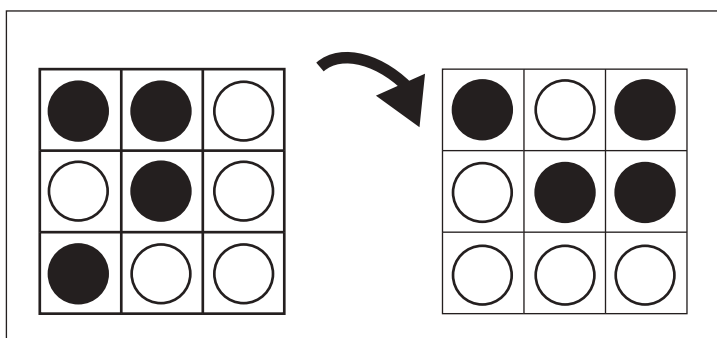
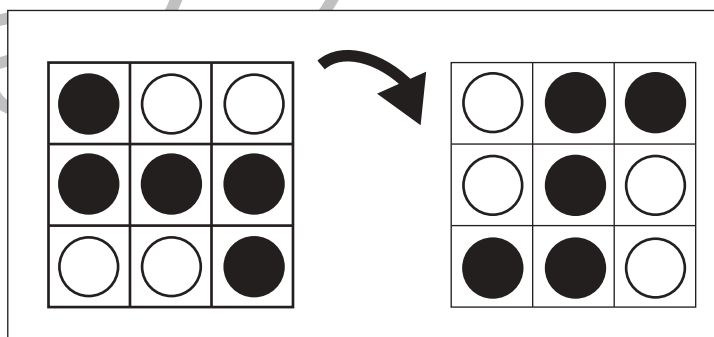
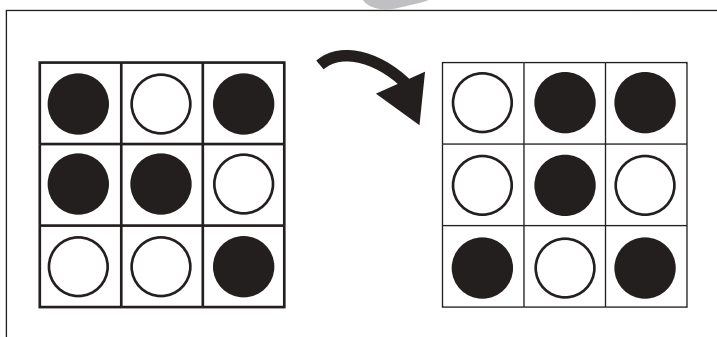
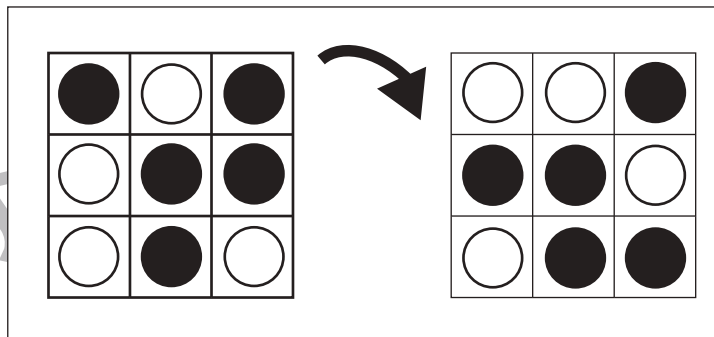
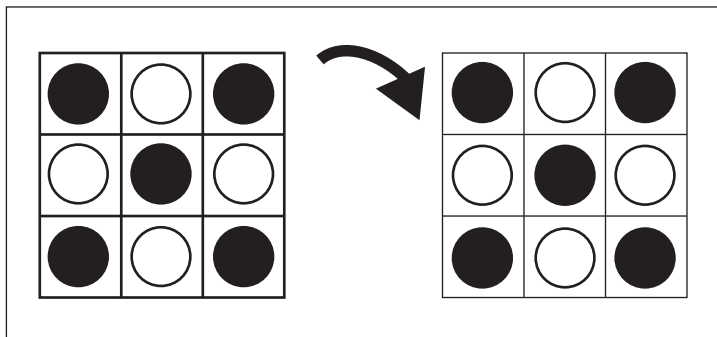


# おうちで、やろう。

Study at home. 小学校受験の家庭学習教材

図形：回転 82

左のお手本を矢印の方向へ 1 回倒した時の見え方を考えて右の四角にかきます。



※ 1. このプリントは、しながわ・目黒こどもスクールのウェブサイトからダウンロードできます。無断複写・引用はご遠慮ください。

※ 2. このプリントを活用したオンライン授業のスケジュールは、しながわ・目黒こどもスクールのウェブサイトでご確認ください。

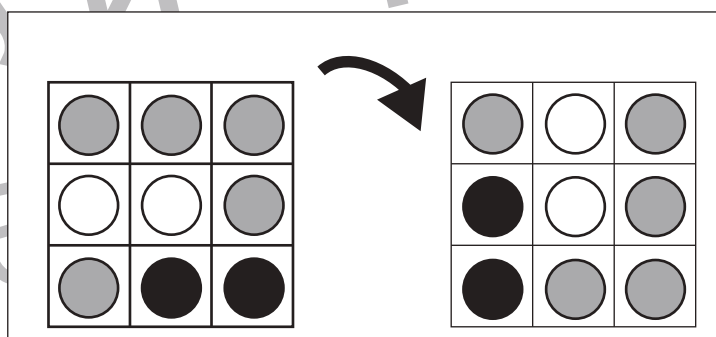
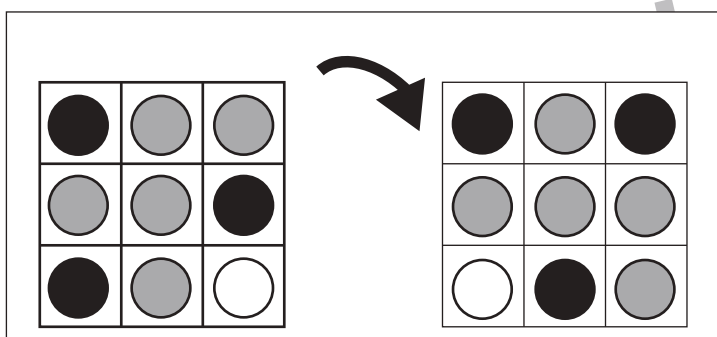
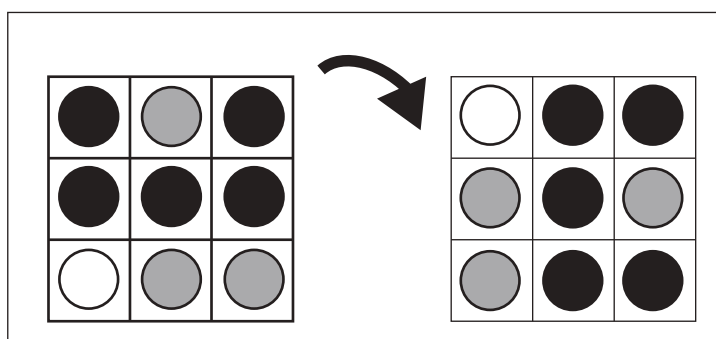
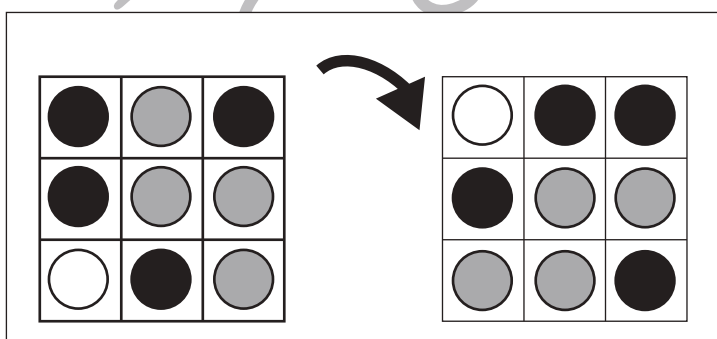
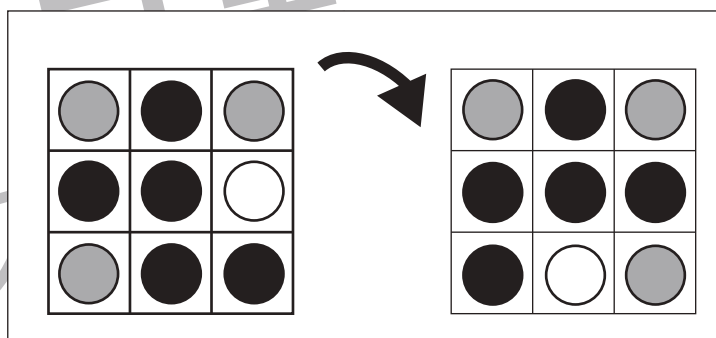
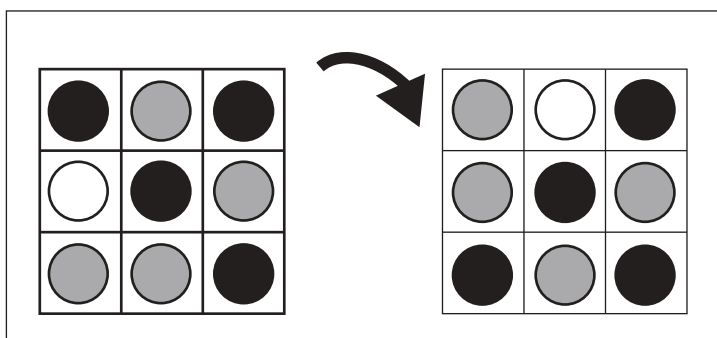
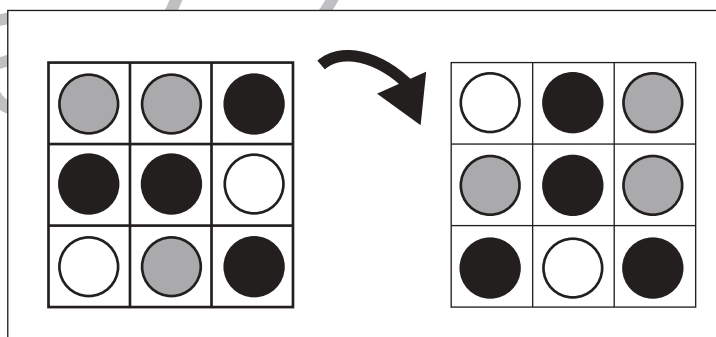
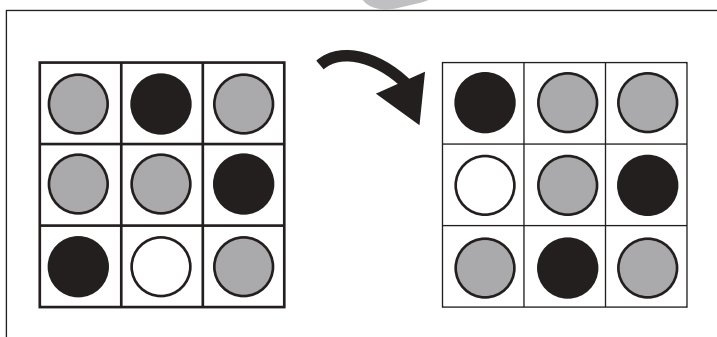
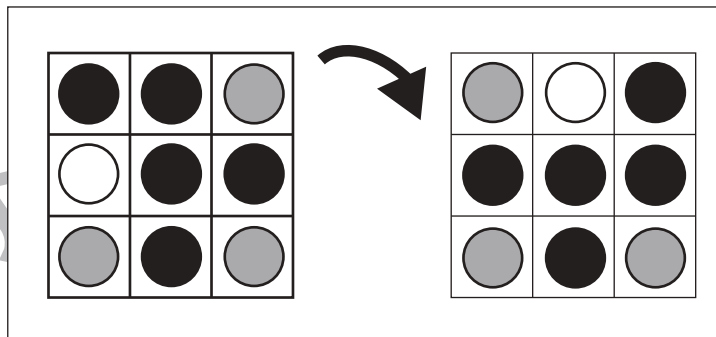
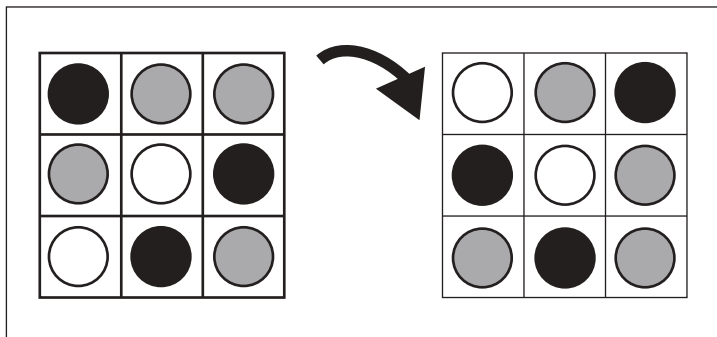


# おうちで、よろう。

Study at home. 小学校受験の家庭学習教材

## 図形：回転 83

左のお手本を矢印の方向へ 1 回倒した時の見え方を考えて右の四角にかきます。



※1. このプリントは、しながわ・目黒こどもスクールのウェブサイトからダウンロードできます。無断複写・引用はご遠慮ください。  
 ※2. このプリントを活用したオンライン授業のスケジュールは、しながわ・目黒こどもスクールのウェブサイトでご確認ください。



# おうちで、やろう。

Study at home. 小学校受験の家庭学習教材

## 図形：折り重ね 68

四角の中には、矢印と太線が描かれたマスがあります。太線で矢印の方向にマスが折れた時、どのように見えるかを考えて右のマスの中にマークをかきましょう。

①

②

③

④

⑤

⑥

⑦

※1. このプリントは、しながわ・目黒こどもスクールのウェブサイトからダウンロードできます。無断複写・引用はご遠慮ください。

※2. このプリントを活用したオンライン授業のスケジュールは、しながわ・目黒こどもスクールのウェブサイトでご確認ください。



# おうちで、やろう。

Study at home. 小学校受験の家庭学習教材

## 図形：折り重ね 69

四角の中には、矢印と太線が描かれたマスがあります。太線で矢印の方向にマスが折れた時、どのように見えるかを考えて右のマスの中にマークをかきましょう。

<p>①</p>	<p>⑥</p>
<p>②</p>	<p>⑦</p>
<p>③</p>	<p>⑧</p>
<p>④</p>	<p>⑨</p>
<p>⑤</p>	<p>⑩</p>

※1. このプリントは、しながわ・目黒こどもスクールのウェブサイトでダウンロードができます。無断複写・引用はご遠慮ください。

※2. このプリントを活用したオンライン授業のスケジュールは、しながわ・目黒こどもスクールのウェブサイトでご確認ください。



# おうちで、やろう。

Study at home. 小学校受験の家庭学習教材

## 図形：模写 13

マスに〇がかかれた2つの家が並んでいます。どちらの家も同じ場所に〇が見えるように〇を書き足します。


※1. このプリントは、しながわ・目黒こどもスクールのウェブサイトでダウンロードができます。無断複写・引用はご遠慮ください。

※2. このプリントを活用したオンライン授業のスケジュールは、しながわ・目黒こどもスクールのウェブサイトでご確認ください。






# おうちで、やろう。


Study at home. 小学校受験の家庭学習教材

## 推理：四方観察 30


左の太い四角の中の積み木がお手本です。このお手本を男の子が右から見たときの見え方を考えます。  
男の子が見えている灰色の積み木の数だけ右の四角の中に○をかきます。




$$\bigcirc \times 4$$




$$\bigcirc \times 5$$



$$\bigcirc \times 5$$



$$\bigcirc \times 3$$



$$\bigcirc \times 6$$

※1. このプリントは、しながわ・目黒こどもスクールのウェブサイトでダウンロードができます。無断複写・引用はご遠慮ください。

※2. このプリントを活用したオンライン授業のスケジュールは、しながわ・目黒こどもスクールのウェブサイトでご確認ください。