





おうちで、やろう。

Study at home. 小学校受験の家庭学習教材

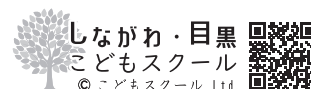
巧緻性：模写 1

上の四角のお手本と同じになるように鉛筆で色を塗ります。色を塗る時は濃さの違いが分かるように塗ります。
※この問題に解答はありません。



ICT 教育の小学校受験

※1. このプリントは、しながわ・目黒こどもスクールのウェブサイトでダウンロードができます。無断複写・引用はご遠慮ください。
※2. このプリントを活用したオンライン授業のスケジュールは、しながわ・目黒こどもスクールのウェブサイトでご確認ください。



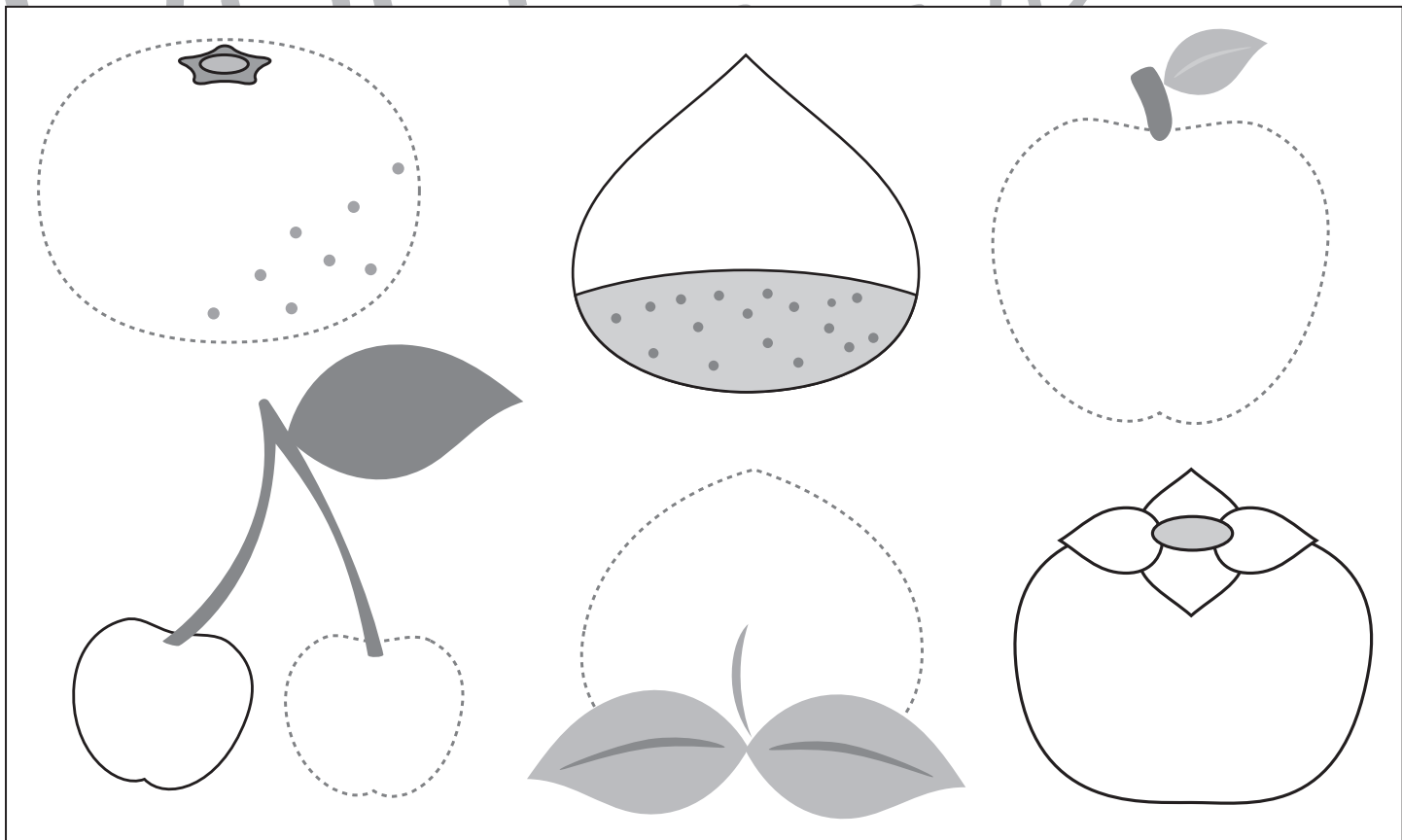



おうちで、やろう。

Study at home. 小学校受験の家庭学習教材

巧緻性：模写2

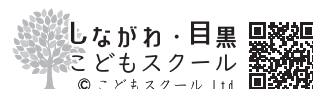
上の四角のお手本と同じになるように鉛筆で色を塗ったり、点線をなぞります。色を塗る時は濃さの違いが分かるように塗ります。
※この問題に解答はありません。



ICT 教育の小学校受験

※1. このプリントは、しながわ・目黒こどもスクールのウェブサイトからダウンロードできます。無断複写・引用はご遠慮ください。

※2. このプリントを活用したオンライン授業のスケジュールは、しながわ・目黒こどもスクールのウェブサイトでご確認ください。




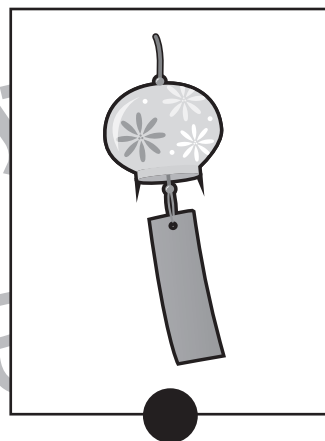




おうちで、やろう。




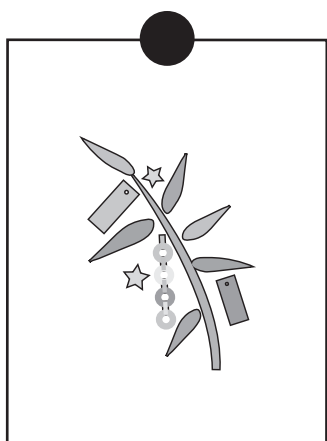
Study at home. 小学校受験の家庭学習教材

常識：季節 1

上の段と下の段で同じ季節のもの同士、点と点を線で結びます。



しながわ・目黒
こどもスクール



※1. このプリントは、しながわ・目黒こどもスクールのウェブサイトでダウンロードができます。無断複写・引用はご遠慮ください。
※2. このプリントを活用したオンライン授業のスケジュールは、しながわ・目黒こどもスクールのウェブサイトでご確認ください。



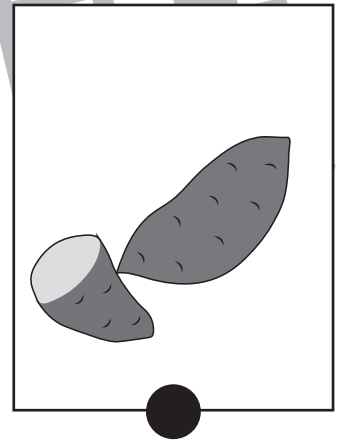





おうちで、やろう。



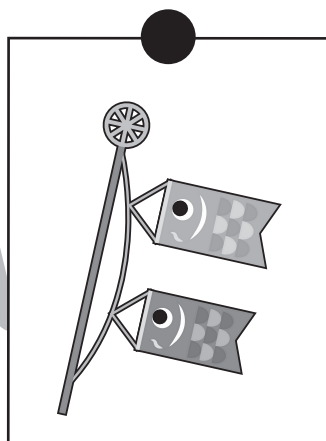

Study at home. 小学校受験の家庭学習教材

常識：季節2

上の段と下の段で同じ季節のもの同士、点と点を線で結びます。



しながわ・目黒
こどもスクール



※1. このプリントは、しながわ・目黒こどもスクールのウェブサイトでダウンロードができます。無断複写・引用はご遠慮ください。
※2. このプリントを活用したオンライン授業のスケジュールは、しながわ・目黒こどもスクールのウェブサイトでご確認ください。




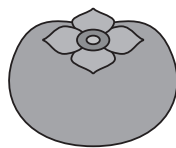

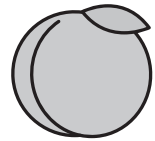
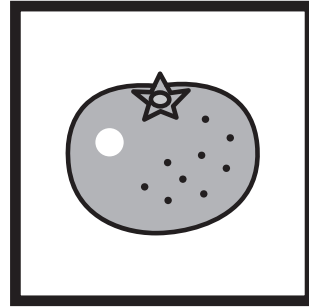
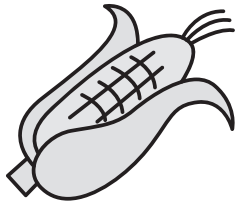


おうちで、やろう。

Study at home. 小学校受験の家庭学習教材

常識：仲間はずれ1

太い四角の中の絵と仲間ではないものを見つけて○をつけます。



※1. このプリントは、しながわ・目黒こどもスクールのウェブサイトダウンロードができます。無断複写・引用はご遠慮ください。
※2. このプリントを活用したオンライン授業のスケジュールは、しながわ・目黒こどもスクールのウェブサイトでご確認ください。



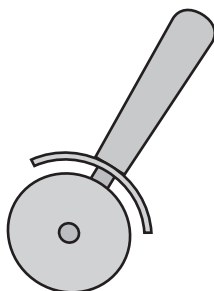
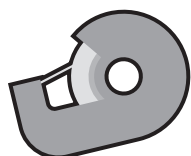
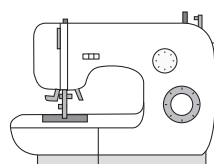
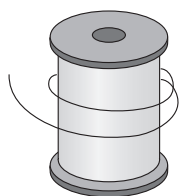



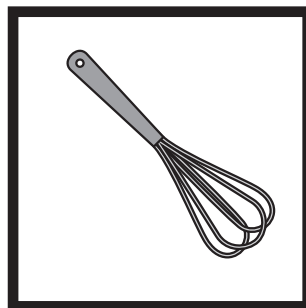


おうちで、やろう。

Study at home. 小学校受験の家庭学習教材

常識：仲間はずれ2

太い四角の中の絵と仲間ではないものを見つけて○をつけます。



※1. このプリントは、しながわ・目黒こどもスクールのウェブサイトでダウンロードができます。無断複写・引用はご遠慮ください。

※2. このプリントを活用したオンライン授業のスケジュールは、しながわ・目黒こどもスクールのウェブサイトでご確認ください。




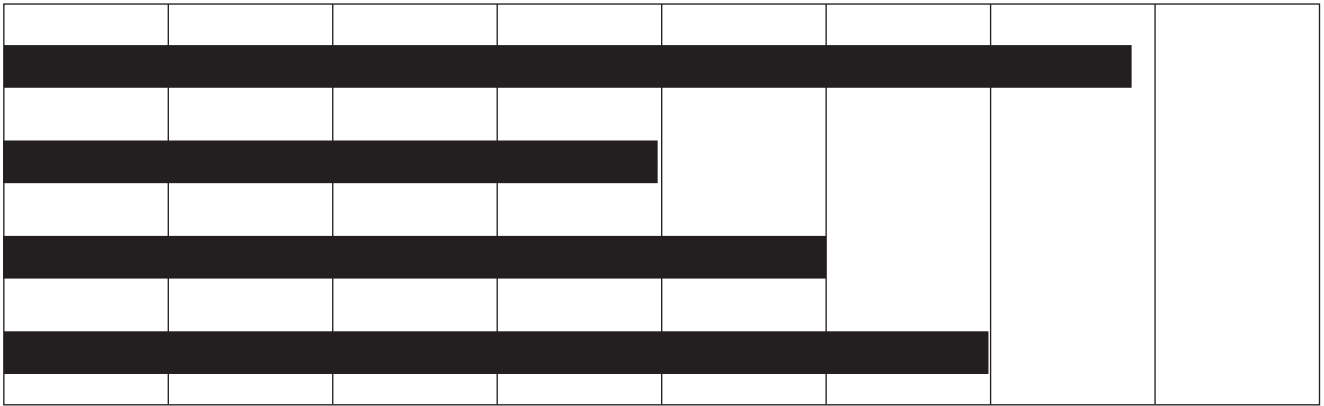
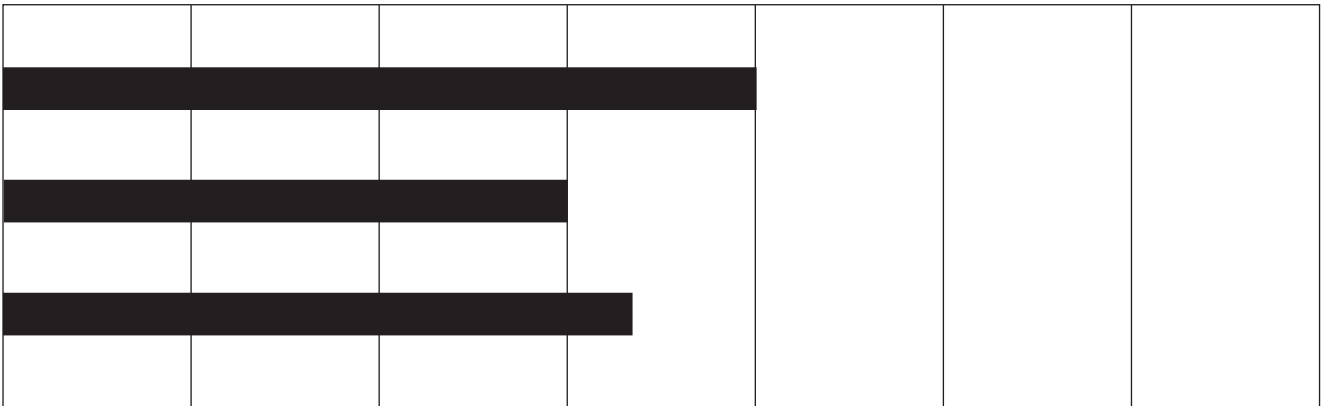



おうちで、やろう。

Study at home. 小学校受験の家庭学習教材

推理：比較1

それぞれの四角の中で一番長いものに○をつけます。



※1. このプリントは、しながわ・目黒こどもスクールのウェブサイトからダウンロードできます。無断複写・引用はご遠慮ください。
 ※2. このプリントを活用したオンライン授業のスケジュールは、しながわ・目黒こどもスクールのウェブサイトでご確認ください。




おうちで、やろう。

Study at home. 小学校受験の家庭学習教材

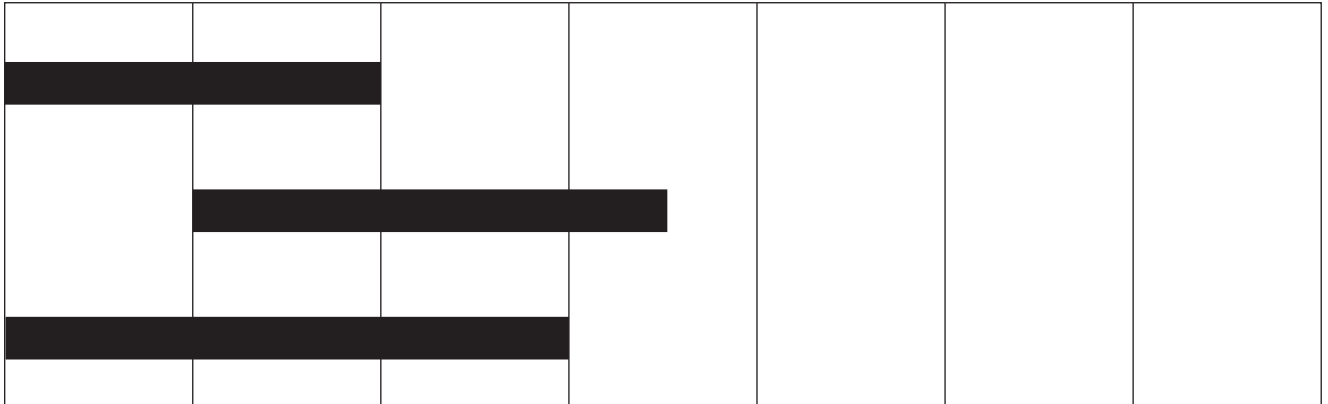
推理：比較2

それぞれの四角の中で一番長いものに○をつけます。

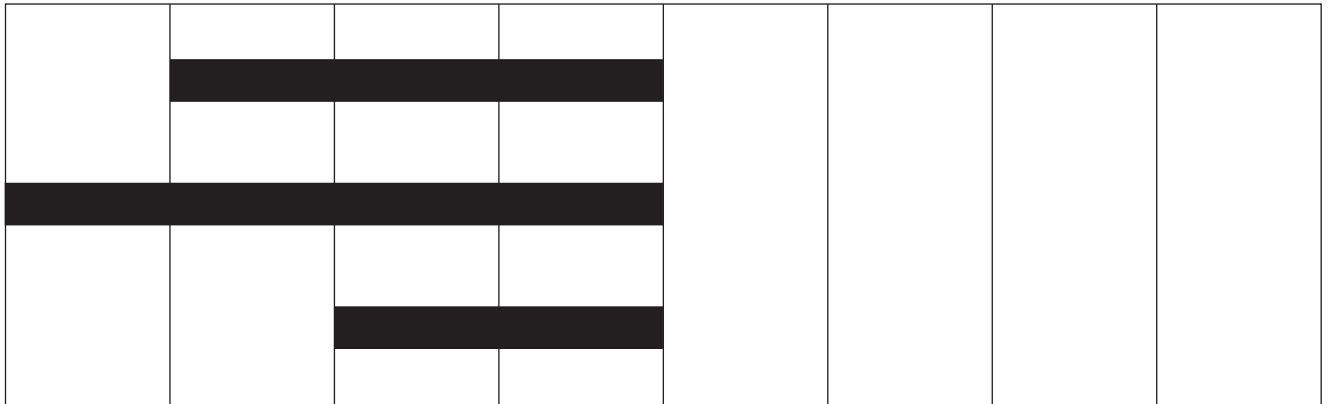
①



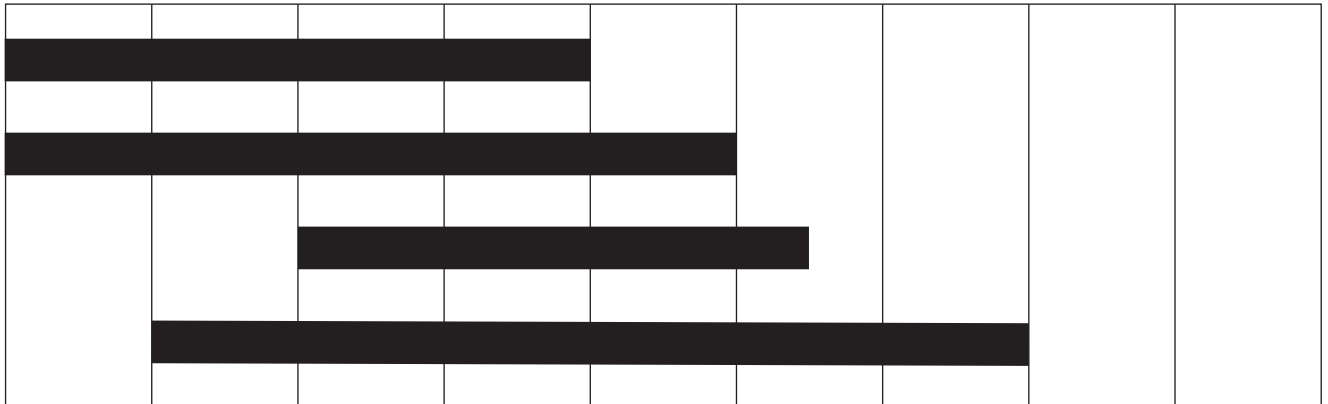
②



③



④



※1. このプリントは、しながわ・目黒こどもスクールのウェブサイトからダウンロードできます。無断複写・引用はご遠慮ください。

※2. このプリントを活用したオンライン授業のスケジュールは、しながわ・目黒こどもスクールのウェブサイトでご確認ください。



おうちで、やろう。

Study at home. 小学校受験の家庭学習教材

数量：加減 1

動物が四角の中の果物を3つ、野菜を4つずつ食べたあと、果物と野菜は合わせていくつになりますか。
その数だけ、下の四角に○をかきます。

A rectangular box containing a pig, 1 carrot, 1 strawberry, 1 carrot, 1 strawberry, 1 carrot, 1 carrot, and 1 carrot.

A rectangular box containing a horse, 1 carrot, 2 apples, 1 carrot, 1 carrot, 1 carrot, 1 carrot, 1 carrot, 1 carrot, and 1 carrot.

A rectangular box containing a giraffe, 1 eggplant, 1 orange, 1 eggplant, 1 eggplant, 1 orange, 1 eggplant, 1 orange, 1 eggplant, and 1 eggplant.

※1. このプリントは、しながわ・目黒こどもスクールのウェブサイトでダウンロードができます。無断複写・引用はご遠慮ください。
 ※2. このプリントを活用したオンライン授業のスケジュールは、しながわ・目黒こどもスクールのウェブサイトでご確認ください。



おうちで、やろう。

Study at home. 小学校受験の家庭学習教材

数量：加減2

四角の中の動物がそれぞれ果物を2つ、野菜を2つずつ食べたあと果物と野菜は合わせていくつになりますか。
その数だけ、下の四角に○をかきます。

※1. このプリントは、しながわ・目黒こどもスクールのウェブサイトでダウンロードができます。無断複写・引用はご遠慮ください。
 ※2. このプリントを活用したオンライン授業のスケジュールは、しながわ・目黒こどもスクールのウェブサイトでご確認ください。