



おうちで、よろう。

Study at home. 小学校受験の家庭学習教材

図形：反転2

左の見本は透明な板にかかれた模様です。この板を上の方の矢印の方向へくると裏返しにした時の見え方を考えて右にかきます。

※1. このプリントは、しながわ・目黒こどもスクールのウェブサイトからダウンロードができます。無断複写・引用はご遠慮ください。
 ※2. このプリントを活用したオンライン授業のスケジュールは、しながわ・目黒こどもスクールのウェブサイトでご確認ください。



おうちで、よろう。

Study at home. 小学校受験の家庭学習教材

図形：反転3

左の見本は透明な板にかかれた模様です。この板を上の方の矢印の方向へくると裏返しにした時の見え方を考えて右にかきます。

※1. このプリントは、しながわ・目黒こどもスクールのウェブサイトからダウンロードができます。無断複写・引用はご遠慮ください。
 ※2. このプリントを活用したオンライン授業のスケジュールは、しながわ・目黒こどもスクールのウェブサイトでご確認ください。



おうちで、やろう。

Study at home. 小学校受験の家庭学習教材

図形：反転 4

左の見本は透明な板にかかれた模様です。この板を上の方の矢印の方向へくると裏返しにした時の見え方を考えて右にかきます。

※1. このプリントは、しながわ・目黒こどもスクールのウェブサイトからダウンロードができます。無断複写・引用はご遠慮ください。
 ※2. このプリントを活用したオンライン授業のスケジュールは、しながわ・目黒こどもスクールのウェブサイトでご確認ください。

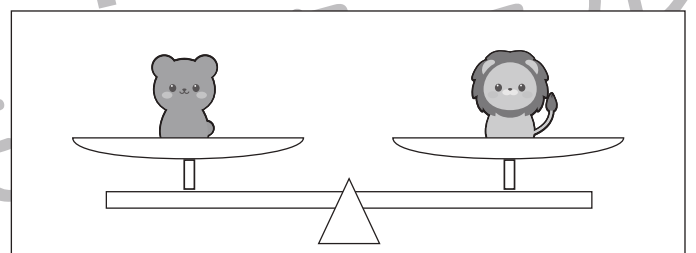

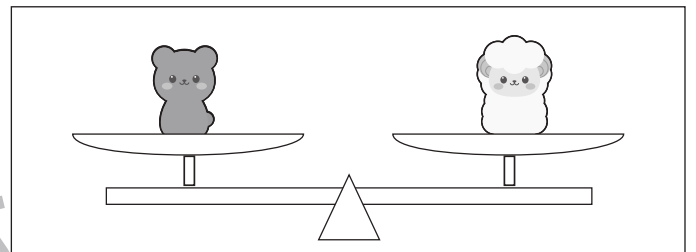
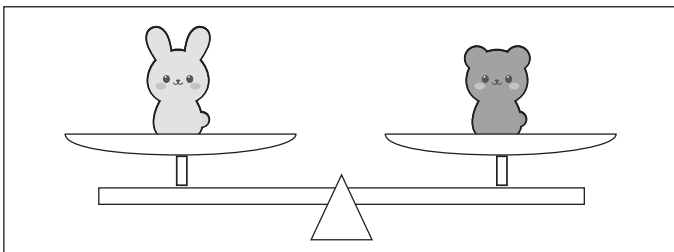
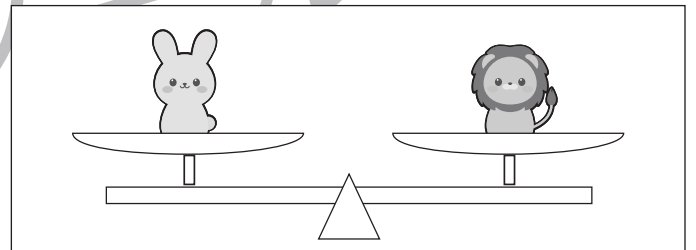
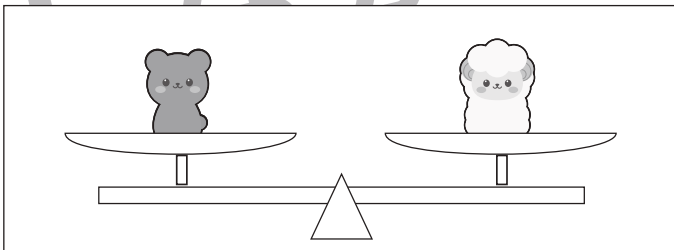
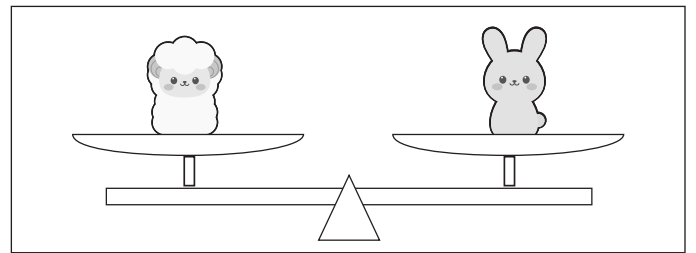
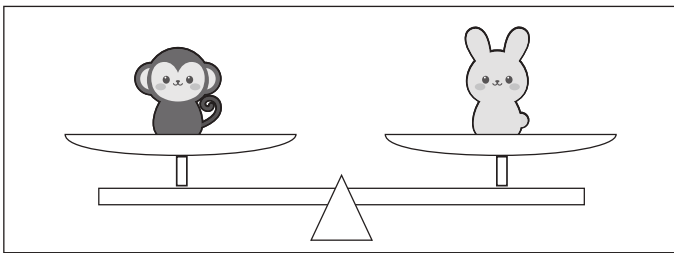
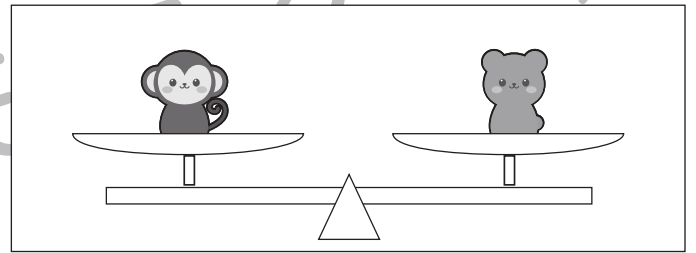
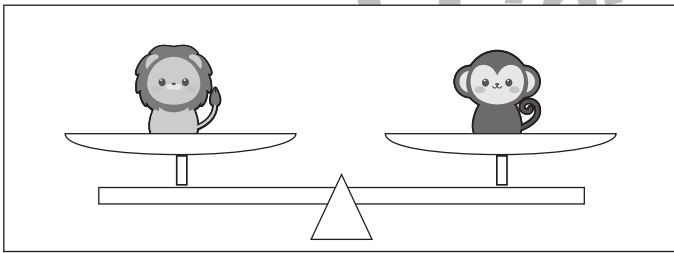


おうちで、やろう。

Study at home. 小学校受験の家庭学習教材

推理：重さ 1

上の四角は動物たちが左から重い順番に並んでいます。一番重いのはライオン、一番軽いのはサルです。
下のシーソーのように重さ比べをしたとき、それぞれのシーソーで下がる動物に○をつけます。



※1. このプリントは、しながわ・目黒こどもスクールのウェブサイトからダウンロードができます。無断複写・引用はご遠慮ください。
※2. このプリントを活用したオンライン授業のスケジュールは、しながわ・目黒こどもスクールのウェブサイトでご確認ください。

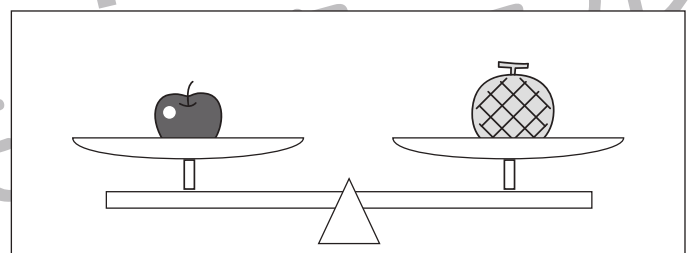
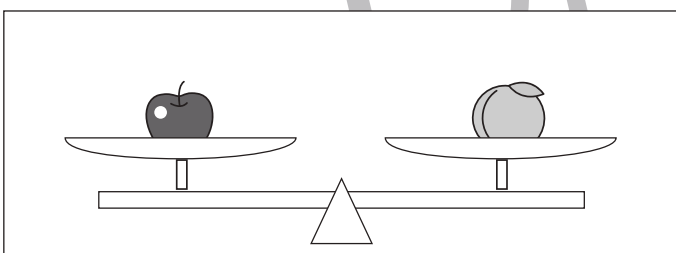
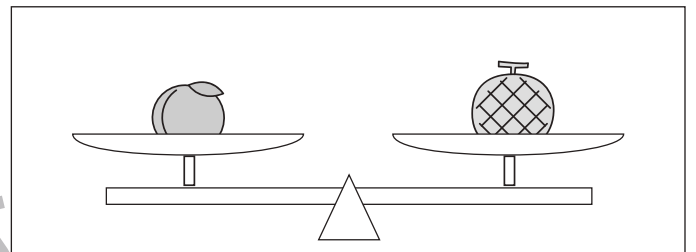
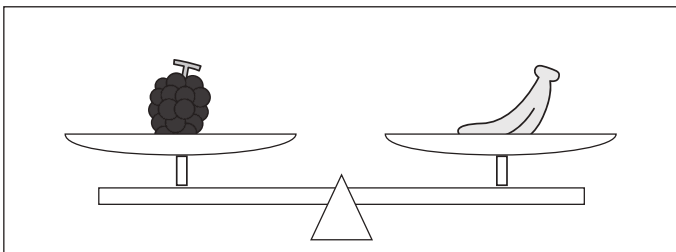
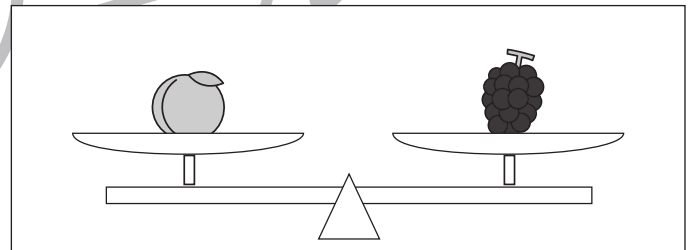
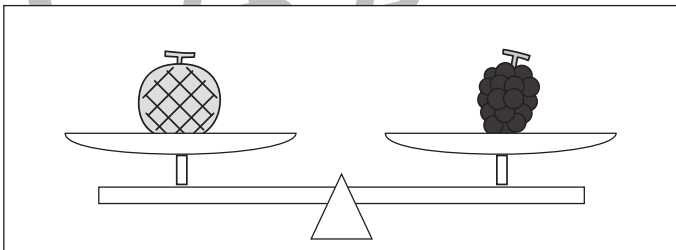
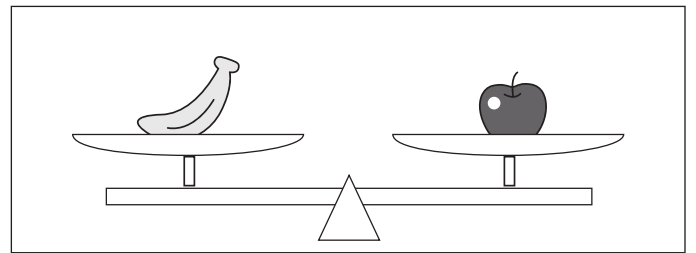
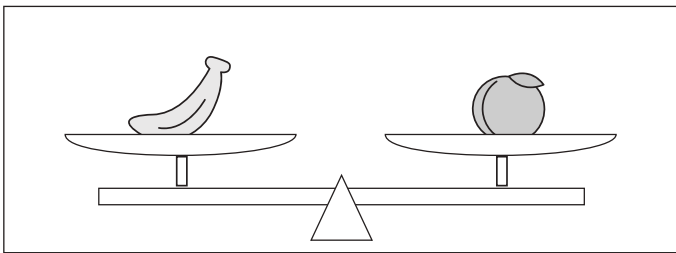
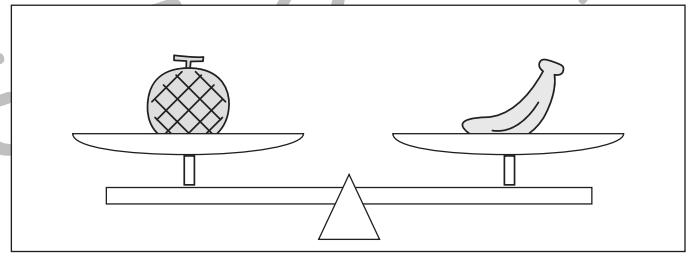
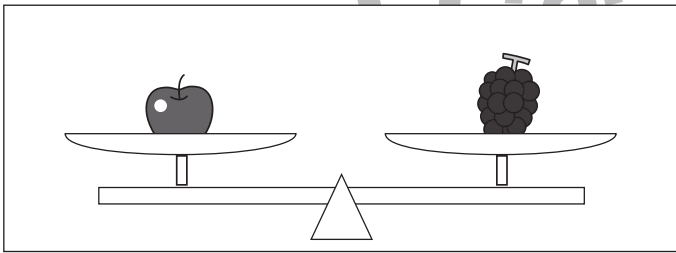
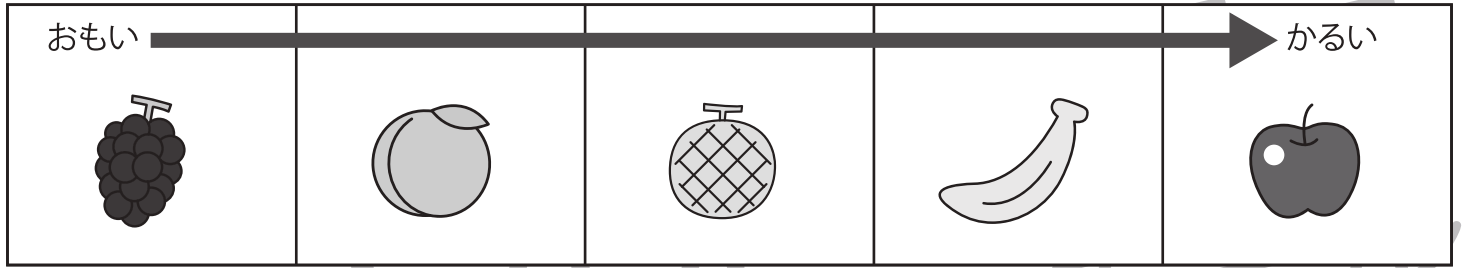


おうちで、やろう。

Study at home. 小学校受験の家庭学習教材

推理：重さ2

上の四角は動物たちが左から重い順番に並んでいます。一番重いのはブドウ、一番軽いのはリンゴです。
下のシーソーのように重さ比べをしたとき、それぞれのシーソーで下がる果物に○をつけます。



※1. このプリントは、しながわ・目黒こどもスクールのウェブサイトからダウンロードができます。無断複写・引用はご遠慮ください。
※2. このプリントを活用したオンライン授業のスケジュールは、しながわ・目黒こどもスクールのウェブサイトでご確認ください。



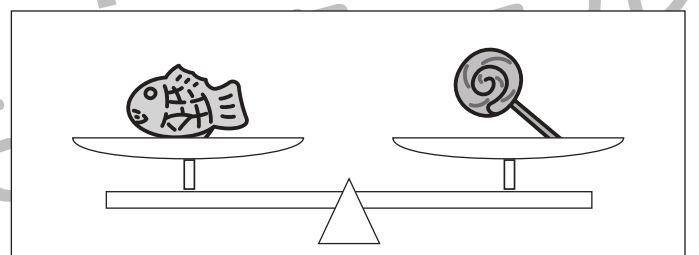
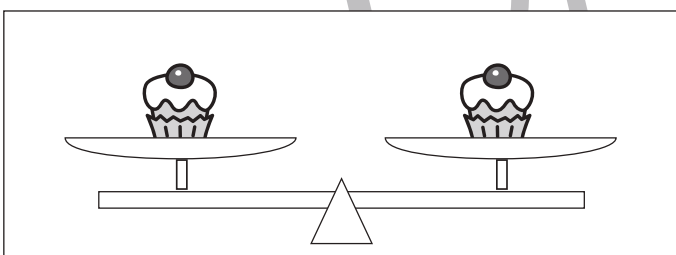
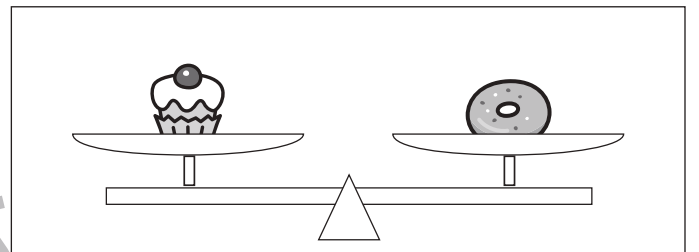
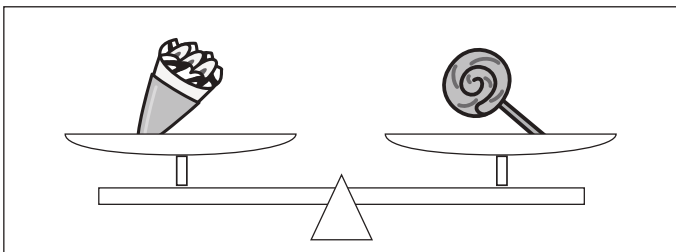
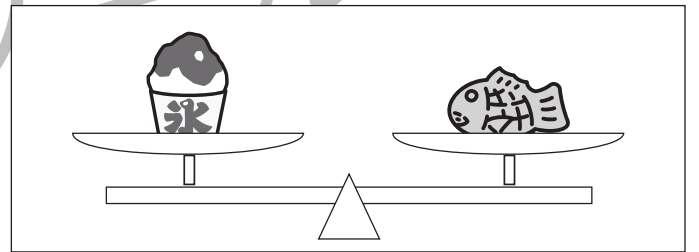
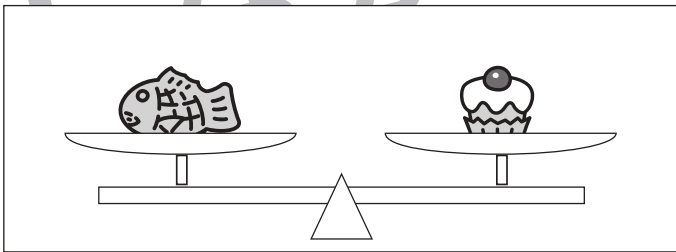
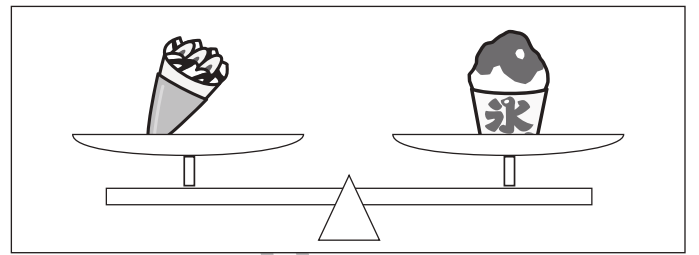
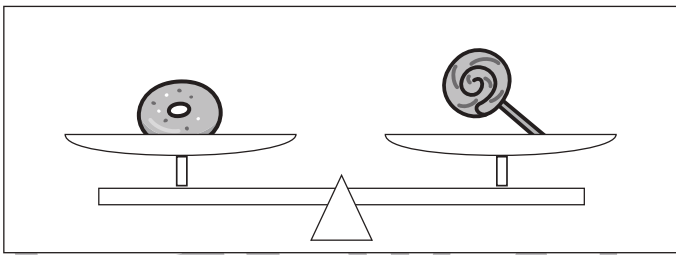
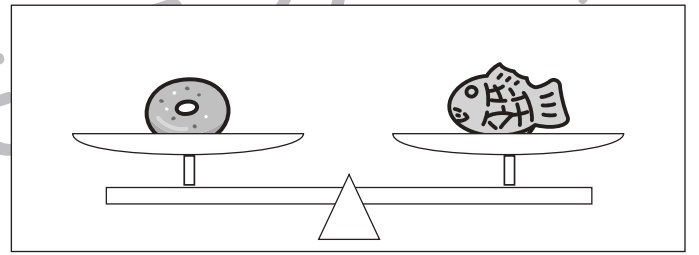
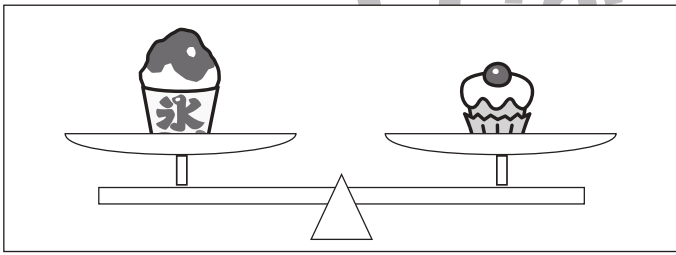
おうちで、やろう。

Study at home. 小学校受験の家庭学習教材

推理：重さ3

上の四角はおやつが左から重い順番に並んでいます。同じ四角の中にあるおやつは同じ重さです。一番重いのはかき氷、一番軽いのはドーナツとケーキです。このとき、下のシーソーのように重さ比べをしました。それぞれのシーソーで下がるおやつに○をつけます。また、シーソーがそのままのときは両方のおやつに○をつけます。

おもい	→			かるい



※1. このプリントは、しながわ・目黒こどもスクールのウェブサイトからダウンロードができます。無断複製・引用はご遠慮ください。
※2. このプリントを活用したオンライン授業のスケジュールは、しながわ・目黒こどもスクールのウェブサイトでご確認ください。






おうちで、やろう。

Study at home. 小学校受験の家庭学習教材

数量：隠れた数 1

すべてのマスの中に絵があります。このとき、黒い場所に隠れている絵はいくつありますか。その数だけ下のマスに○をかきます。





※1. このプリントは、しながわ・目黒こどもスクールのウェブサイトからダウンロードができます。無断複製・引用はご遠慮ください。
※2. このプリントを活用したオンライン授業のスケジュールは、しながわ・目黒こどもスクールのウェブサイトでご確認ください。

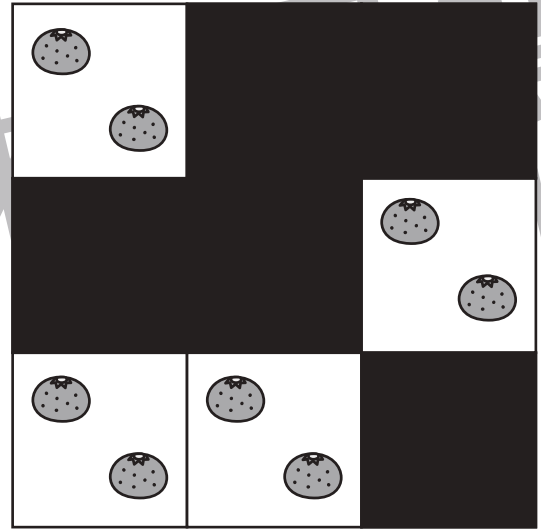
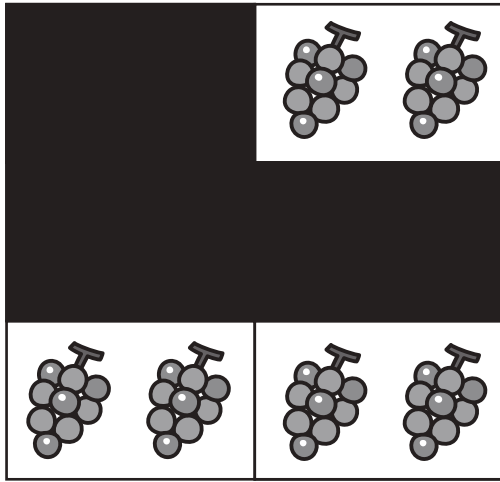



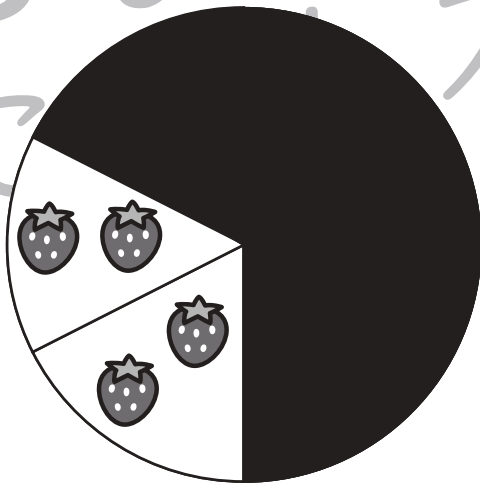
おうちで、やろう。

Study at home. 小学校受験の家庭学習教材

数量：隠れた数2

それぞれの形の中にはある決まりで絵がいくつか並んでいます。このとき、黒い場所に隠れている絵はいくつありますか。その数だけ下のマスに○をかきます。





※1. このプリントは、しながわ・目黒こどもスクールのウェブサイトでダウンロードができます。無断複写・引用はご遠慮ください。
※2. このプリントを活用したオンライン授業のスケジュールは、しながわ・目黒こどもスクールのウェブサイトでご確認ください。

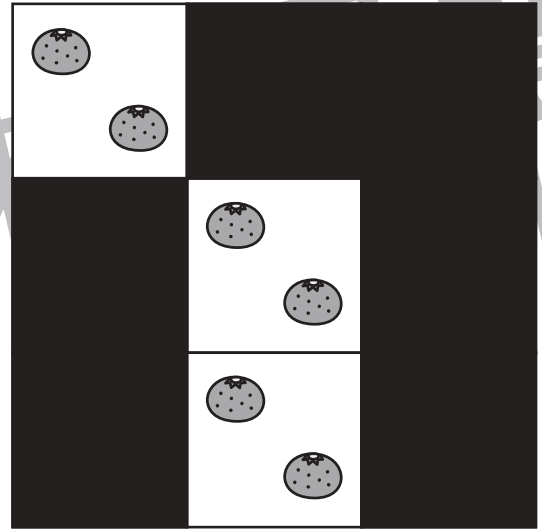



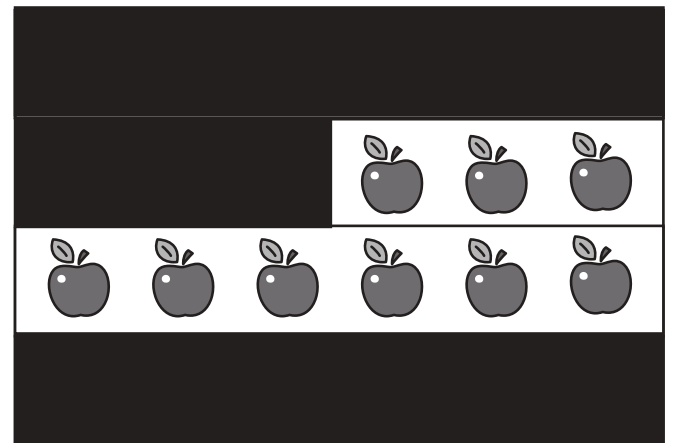
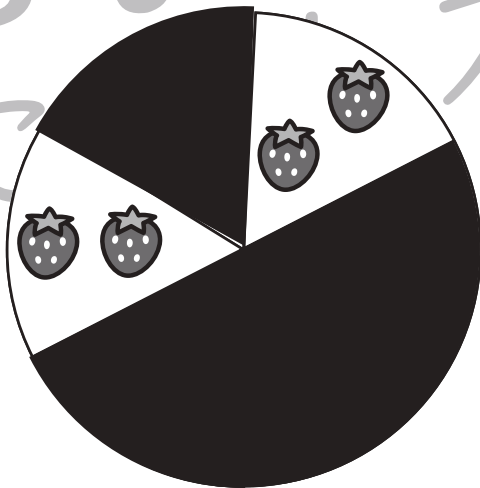
おうちで、やろう。

Study at home. 小学校受験の家庭学習教材

数量：隠れた数 3

それぞれの形の中にはある決まりで絵がいくつか並んでいます。このとき、黒い場所に隠れている絵はいくつありますか。その数だけ下のマスに○をかきます。





※1. このプリントは、しながわ・目黒こどもスクールのウェブサイトでダウンロードができます。無断複写・引用はご遠慮ください。
※2. このプリントを活用したオンライン授業のスケジュールは、しながわ・目黒こどもスクールのウェブサイトでご確認ください。



おうちで、やろう。

Study at home. 小学校受験の家庭学習教材

図形：点図形 10

左のお手本と同じになるように右の四角に線をかきます。 ※このプリントに解答はありません。

--	--	--	--

--	--	--	--

--	--	--	--

--	--	--	--

※1. このプリントは、しながわ・目黒こどもスクールのウェブサイトからダウンロードができます。無断複写・引用はご遠慮ください。
 ※2. このプリントを活用したオンライン授業のスケジュールは、しながわ・目黒こどもスクールのウェブサイトでご確認ください。