

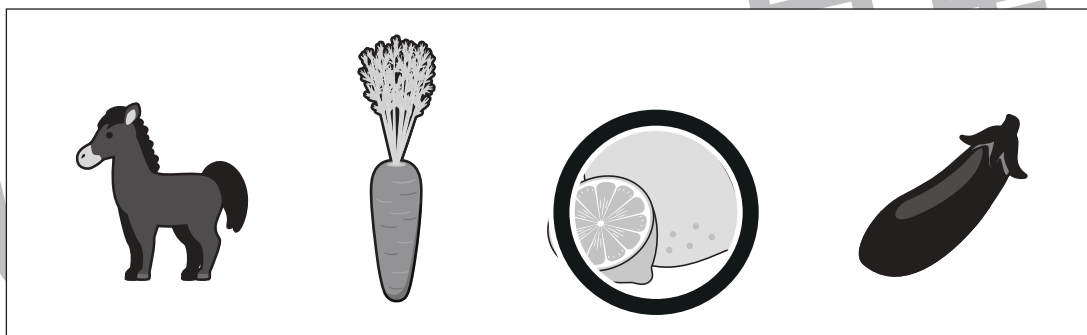
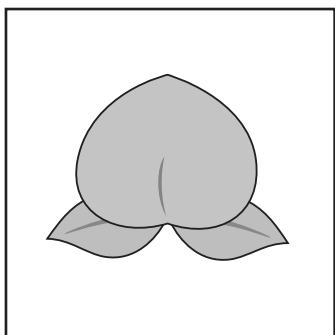



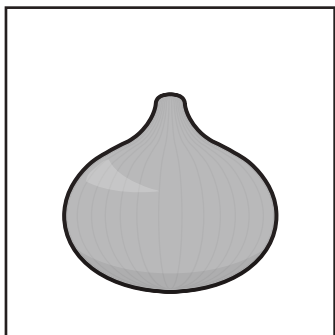




おうちで、やろう。

Study at home. 小学校受験の家庭学習教材

言語：音の理解 5

左の四角の中のはじめから 2 番目の音と同じはじめから 2 番目の音の絵を右側の四角の中からみつけて○をつけます。



※1. このプリントは、しながわ・目黒こどもスクールのウェブサイトでダウンロードができます。無断複写・引用はご遠慮ください。
※2. このプリントを活用したオンライン授業のスケジュールは、しながわ・目黒こどもスクールのウェブサイトでご確認ください。






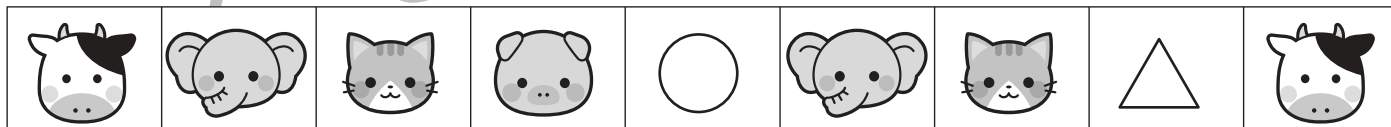
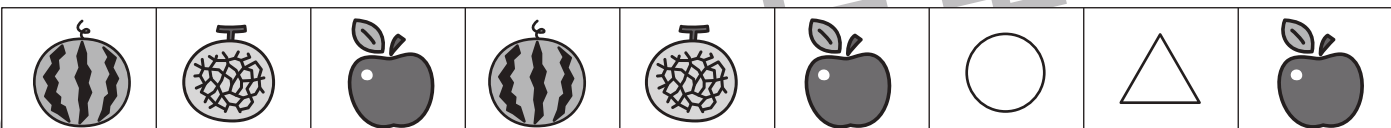
おうちで、やろう。

Study at home. 小学校受験の家庭学習教材

推理：系列完成 5

絵がある順番通りに並んでいます。○・△に入る絵を考えて下の四角の中から選んでそれぞれの記号をつけます。

※○の場所に入る絵には○、△の場所に入る絵には△をつけます。



※1. このプリントは、しながわ・目黒こどもスクールのウェブサイトでダウンロードができます。無断複写・引用はご遠慮ください。

※2. このプリントを活用したオンライン授業のスケジュールは、しながわ・目黒こどもスクールのウェブサイトでご確認ください。








おうちで、やろう。

Study at home. 小学校受験の家庭学習教材

推理：水量 1

それぞれの四角の中のコップには水が入っています。4つのコップの中で水の量が1番多いものに○をつけます。



※1. このプリントは、しながわ・目黒こどもスクールのウェブサイトでダウンロードができます。無断複写・引用はご遠慮ください。
※2. このプリントを活用したオンライン授業のスケジュールは、しながわ・目黒こどもスクールのウェブサイトでご確認ください。






おうちで、やろう。

Study at home. 小学校受験の家庭学習教材

推理：水量 2

それぞれの四角の中のコップには水が入っています。

4つのコップの中で水の量が1番多いものに○、1番少ないものには×をつけます。



※1. このプリントは、しながわ・目黒こどもスクールのウェブサイトでダウンロードができます。無断複写・引用はご遠慮ください。

※2. このプリントを活用したオンライン授業のスケジュールは、しながわ・目黒こどもスクールのウェブサイトでご確認ください。

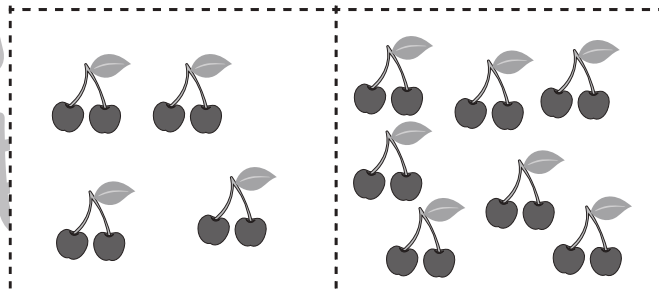

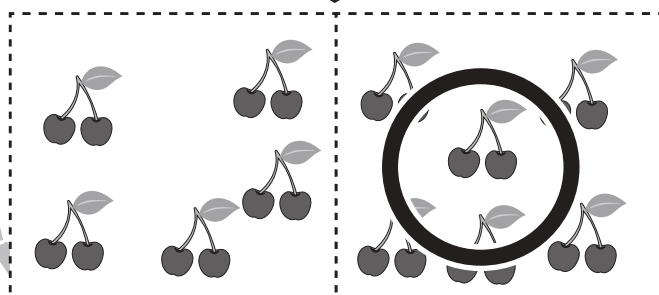

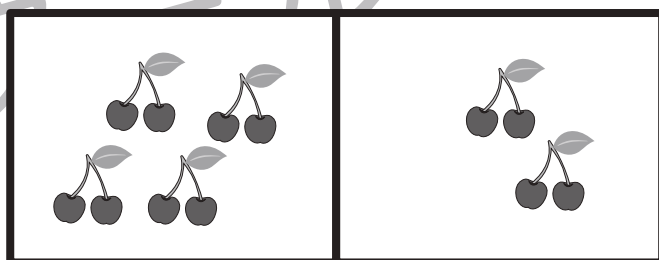

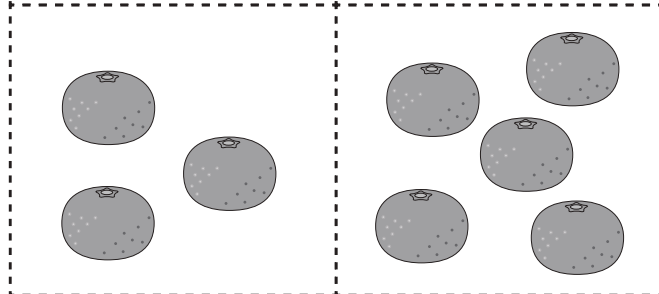
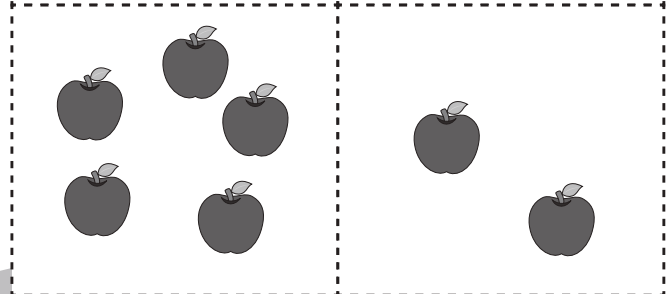
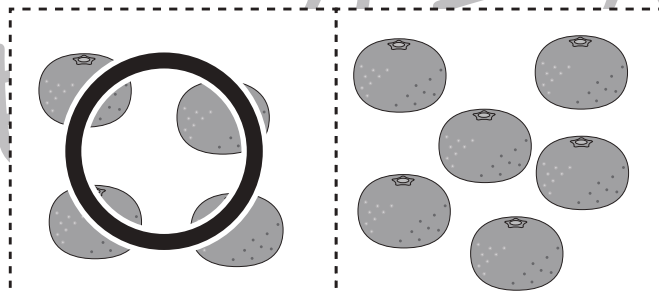

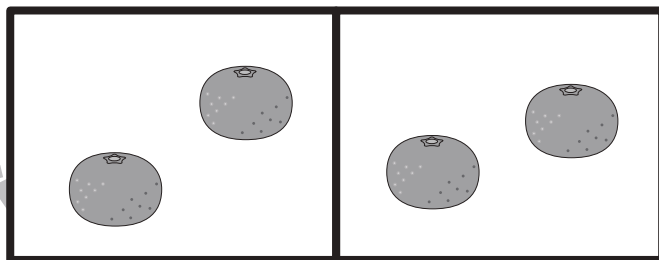



おうちで、やろう。

Study at home. 小学校受験の家庭学習教材

数量：加減3

太い四角の中にある果物を合わせるといくつになりますか。下の四角の中から選んで○をつけます。



※1. このプリントは、しながわ・目黒こどもスクールのウェブサイトでダウンロードができます。無断複写・引用はご遠慮ください。
※2. このプリントを活用したオンライン授業のスケジュールは、しながわ・目黒こどもスクールのウェブサイトでご確認ください。



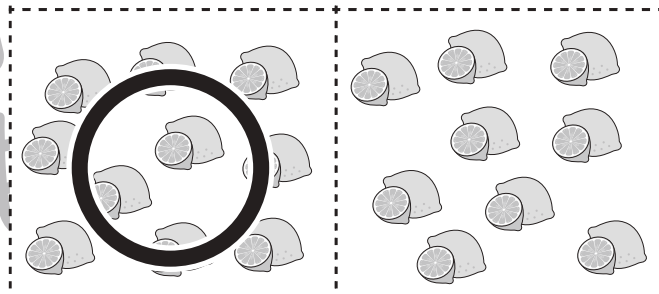
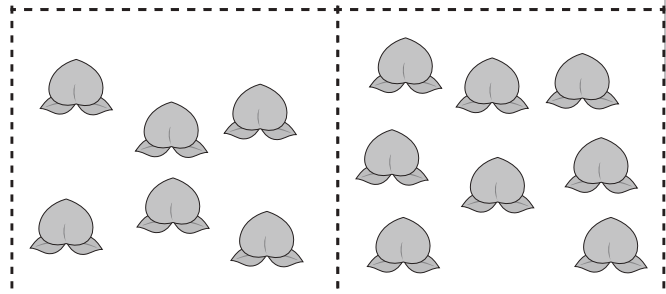
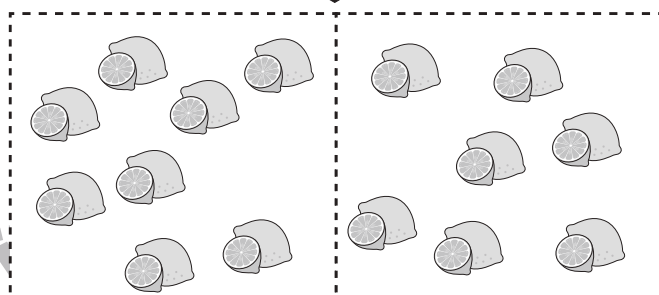
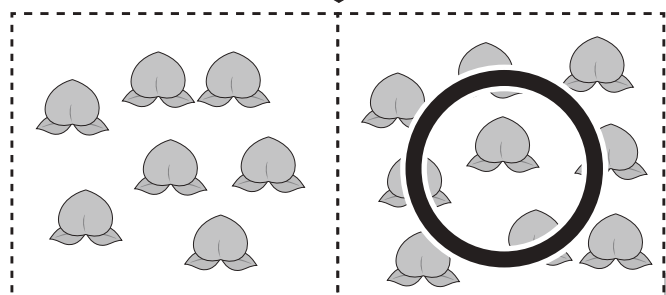


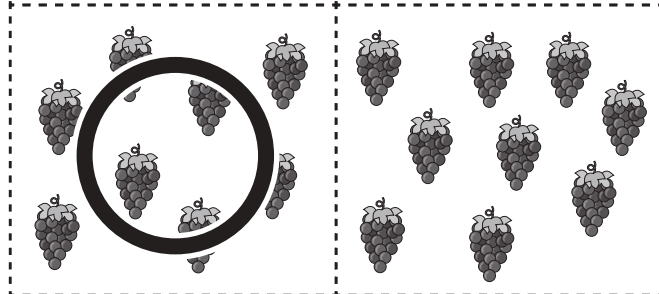






おうちで、やろう。

Study at home. 小学校受験の家庭学習教材

数量：加減4

太い四角の中にある果物を合わせるといくつになりますか。下の四角の中から選んで○をつけます。



※1. このプリントは、しながわ・目黒こどもスクールのウェブサイトでダウンロードができます。無断複写・引用はご遠慮ください。

※2. このプリントを活用したオンライン授業のスケジュールは、しながわ・目黒こどもスクールのウェブサイトでご確認ください。





おうちで、やろう。

Study at home. 小学校受験の家庭学習教材

数量：広さ 1

左と右の四角の中で灰色の部分が広いのはどちらですか。広い方に○をつけます。

※1. このプリントは、しながわ・目黒こどもスクールのウェブサイトでダウンロードができます。無断複写・引用はご遠慮ください。
 ※2. このプリントを活用したオンライン授業のスケジュールは、しながわ・目黒こどもスクールのウェブサイトでご確認ください。



おうちで、やろう。

Study at home. 小学校受験の家庭学習教材

数量：広さ2

左と右の四角の中で灰色の部分が広いのはどちらですか。広い方に○をつけます。

※1. このプリントは、しながわ・目黒こどもスクールのウェブサイトでダウンロードができます。無断複写・引用はご遠慮ください。
 ※2. このプリントを活用したオンライン授業のスケジュールは、しながわ・目黒こどもスクールのウェブサイトでご確認ください。