



# おうちで、やろう。

Study at home. 小学校受験の家庭学習教材

## 指示の聞き取り4

それぞれの設問に答えましょう。指示は1度ですべて読み上げます。しっかり聞いて取り組みましょう。

- ①一番上の段の左端のマスに青のクーピーで○をかきます。
- ②上から2段目の右から2番目のマスに黄色のクーピーで○をかきます。
- ③下から3段目の右から3番目のマスに緑のクーピーで□をかきます。
- ④上から4段目の左から5番目のマスに赤のクーピーで△をかきます。

○ 青				
			○ 黄色	
		□ 緑		△ 赤

※1. このプリントは、しながわ・目黒こどもスクールのウェブサイトでダウンロードができます。無断複写・引用はご遠慮ください。

※2. このプリントを活用したオンライン授業のスケジュールは、しながわ・目黒こどもスクールのウェブサイトでご確認ください。




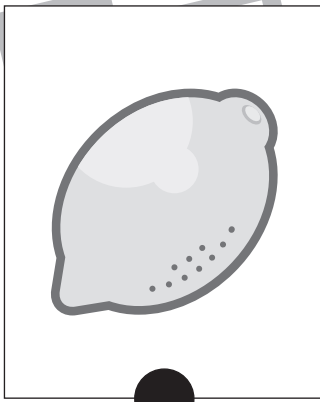

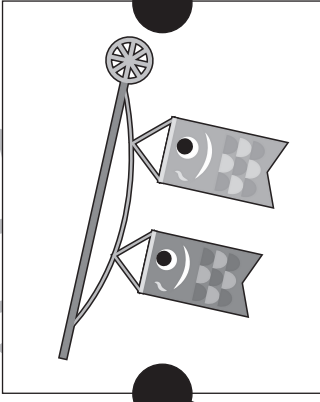








# おうちで、やろう。

Study at home. 小学校受験の家庭学習教材

言語：おわりの音 5

おわりの音と同じ絵を上、真ん中、下の四角の中から見つけて点と点を線で結びましょう。

※1. このプリントは、しながわ・目黒こどもスクールのウェブサイトからダウンロードができます。無断複写・引用はご遠慮ください。

※2. このプリントを活用したオンライン授業のスケジュールは、しながわ・目黒こどもスクールのウェブサイトでご確認ください。



# おうちで、やろう。

Study at home. 小学校受験の家庭学習教材

図形：重ね 10

大きな四角の左側には、色のついたマスと○の描かれたマスがあります。

左の2つのマスがぴったり重なった時、どのように見えるかを考えて右のマスの中をかきましょう。


※1. このプリントは、しながわ・目黒こどもスクールのウェブサイトでダウンロードができます。無断複写・引用はご遠慮ください。

※2. このプリントを活用したオンライン授業のスケジュールは、しながわ・目黒こどもスクールのウェブサイトでご確認ください。


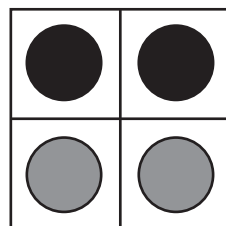

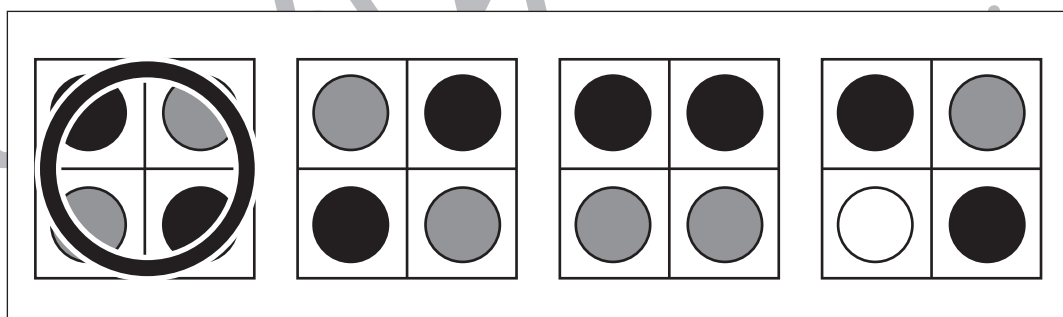
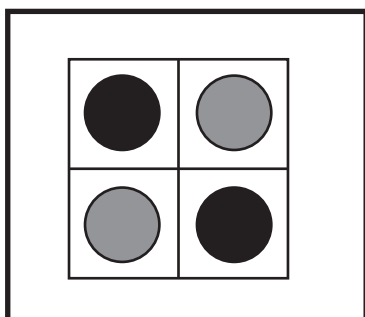
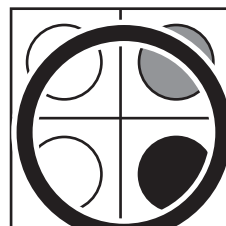
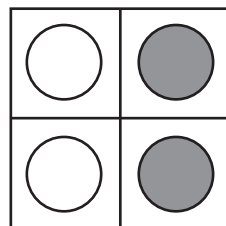
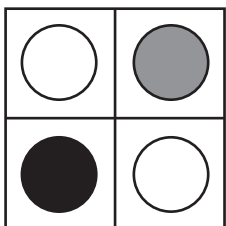
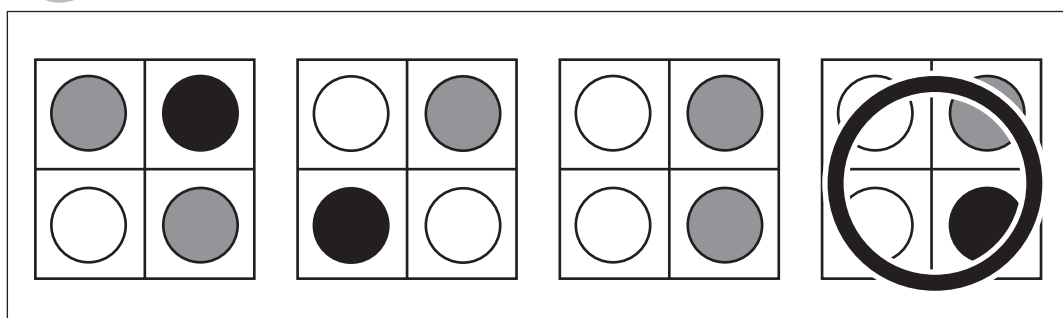
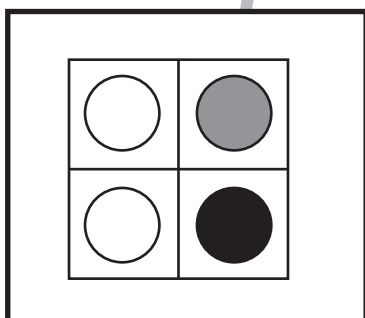
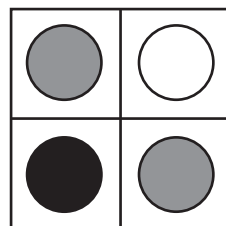
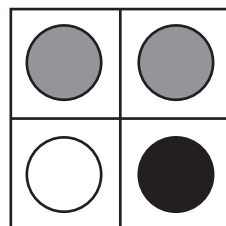

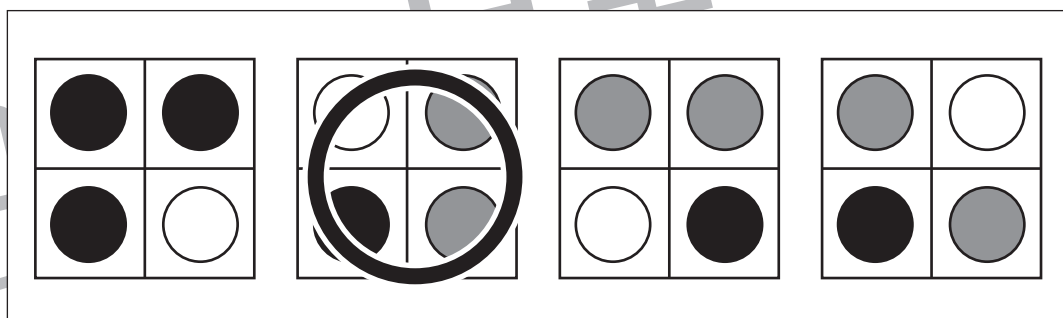
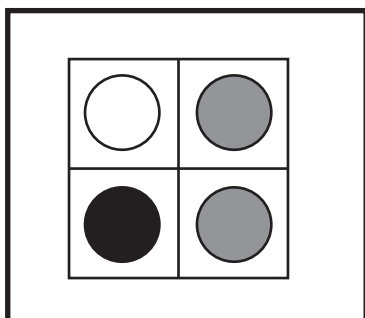
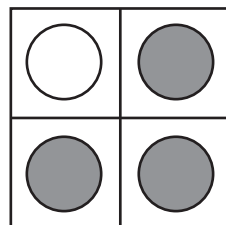

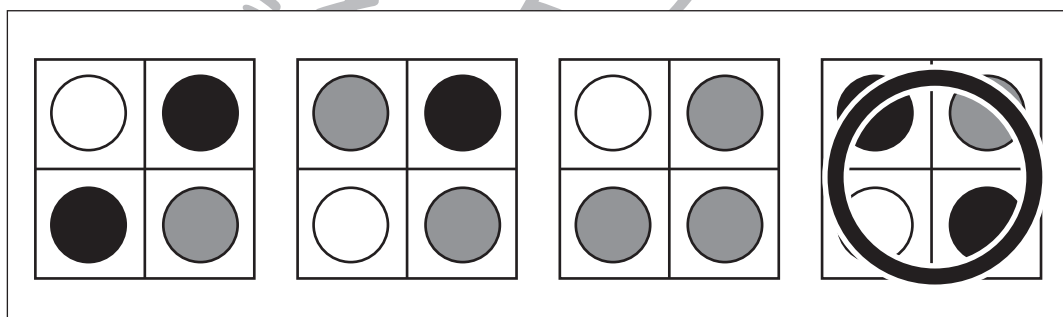
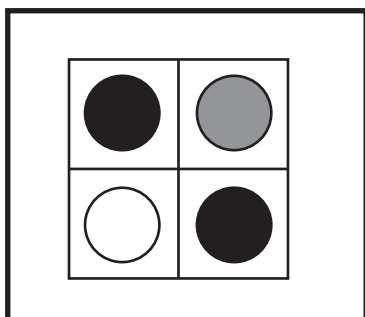
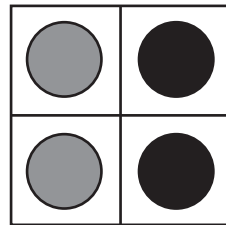
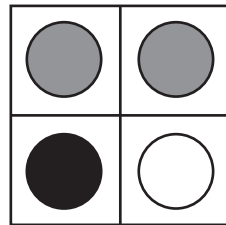
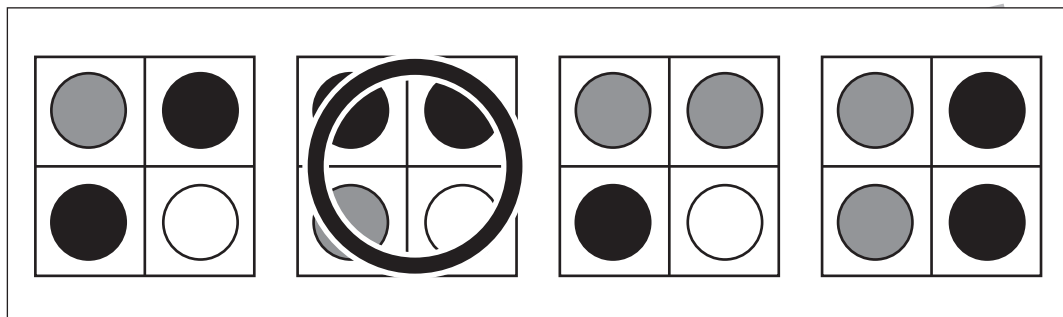
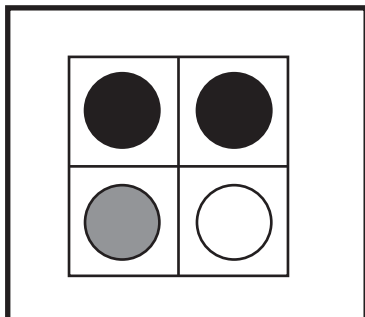


# おうちで、やろう。

Study at home. 小学校受験の家庭学習教材

## 図形：同図形 3

左の太い四角の中がお手本です。このお手本と同じ形を右の4つの中から見つけて○をつけます。  
四角の中の形は回転をさせてはいけません。



※1. このプリントは、しながわ・目黒こどもスクールのウェブサイトからダウンロードできます。無断複写・引用はご遠慮ください。  
※2. このプリントを活用したオンライン授業のスケジュールは、しながわ・目黒こどもスクールのウェブサイトでご確認ください。



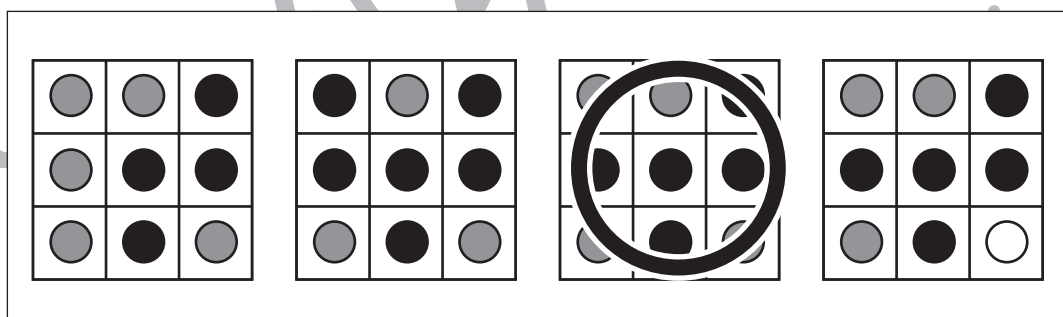
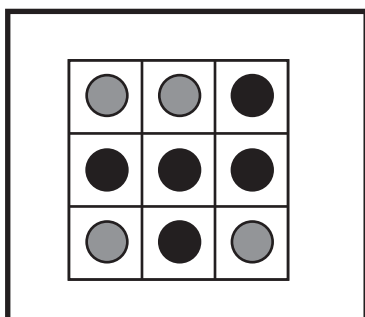
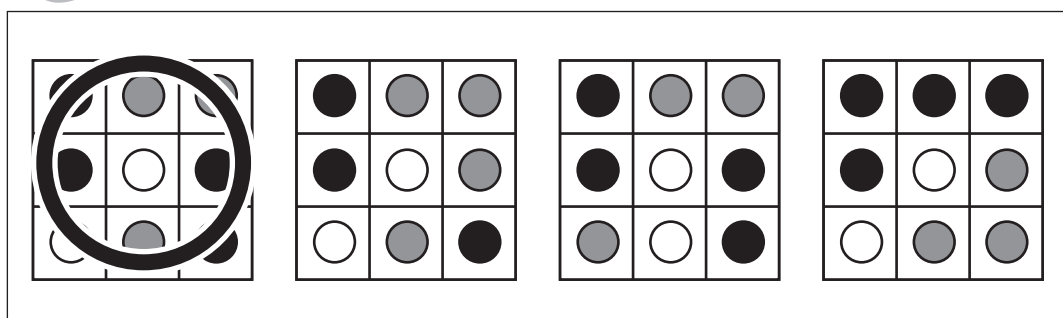
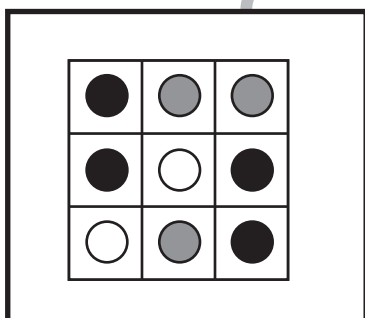

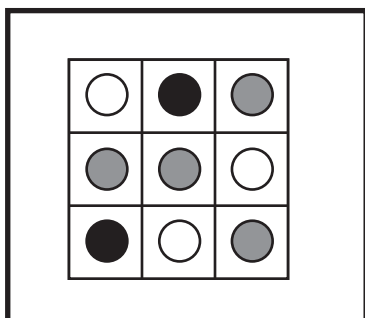
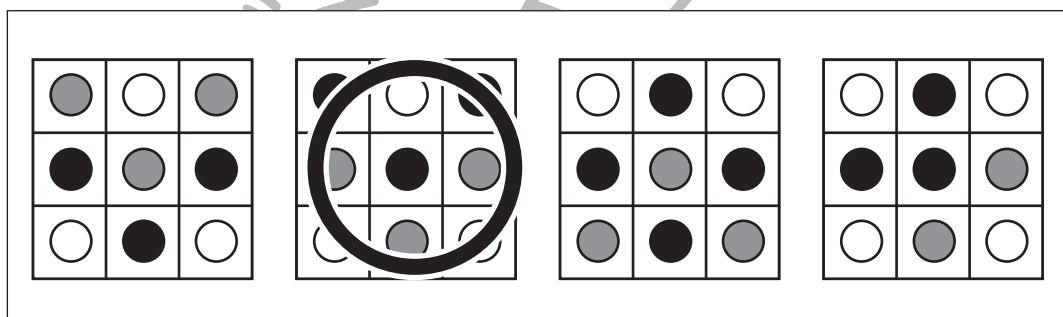
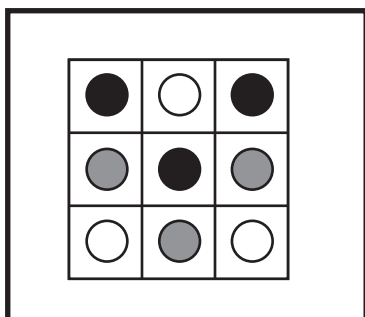
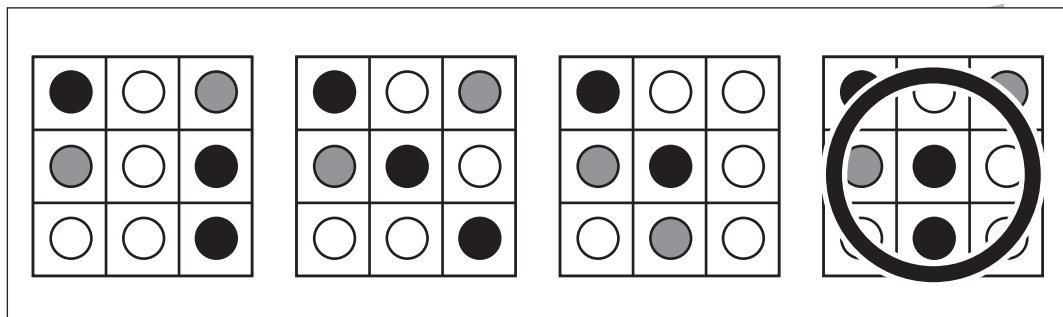
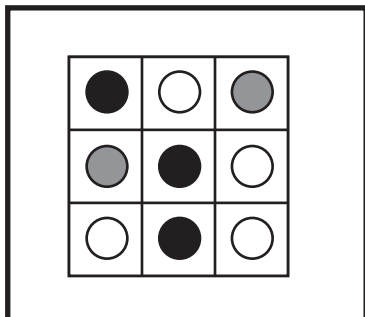


# おうちで、やろう。

Study at home. 小学校受験の家庭学習教材

図形：同図形 4

左の太い四角の中がお手本です。このお手本と同じ形を右の4つの中から見つけて○をつけます。  
四角の中の形は回転をさせてはいけません。



※1. このプリントは、しながわ・目黒こどもスクールのウェブサイトでダウンロードができます。無断複写・引用はご遠慮ください。  
※2. このプリントを活用したオンライン授業のスケジュールは、しながわ・目黒こどもスクールのウェブサイトでご確認ください。





# おうちで、やろう。

Study at home. 小学校受験の家庭学習教材

## 図形：模写 3

左のお手本の灰色のマス場所を考えます。右のマスと同じ場所に○をかきます。


※1. このプリントは、しながわ・目黒こどもスクールのウェブサイトでダウンロードができます。無断複写・引用はご遠慮ください。  
 ※2. このプリントを活用したオンライン授業のスケジュールは、しながわ・目黒こどもスクールのウェブサイトでご確認ください。



# おうちで、やろう。

Study at home. 小学校受験の家庭学習教材

## 図形：模写 4

左のお手本の灰色のマス場所を考えます。右のマスと同じ場所に○をかきます。

■	■	■	■
□	□	■	□
□	□	■	□
□	□	□	□

○	○	○	○
□	□	○	□
□	□	○	□
□	□	□	□

□	□	■	□
□	□	■	□
□	□	■	■
■	■	■	■

□	□	○	□
□	□	○	□
□	□	○	○
○	○	○	○

■	□	□	□
■	■	□	□
□	■	■	□
□	■	□	□

○	□	□	□
○	○	□	□
□	○	○	□
□	○	□	□

□	□	□	□
■	■	■	■
■	□	■	□
□	■	□	■

□	□	□	□
○	○	○	○
○	□	○	□
□	○	□	○

■	■	■	■
□	□	■	□
□	■	□	□
■	□	□	□

○	○	○	○
□	□	○	□
□	○	□	□
○	□	□	□

■	□	■	■
□	■	□	□
□	□	□	■
■	□	■	□

○	□	○	○
□	○	□	□
□	□	□	○
○	□	○	□

■	□	□	■
■	□	□	■
□	■	□	■
□	□	■	□

○	□	□	○
○	□	□	○
□	○	□	○
□	□	○	□

■	□	■	□
□	■	□	■
■	□	■	□
□	■	□	■

○	□	○	□
□	○	□	○
○	□	○	□
□	○	□	○

■	□	□	□
■	□	□	□
■	□	□	□
■	■	■	■

○	□	□	□
○	□	□	□
○	□	□	□
○	○	○	○

□	□	□	■
□	■	■	■
□	■	■	■
■	□	■	■

□	□	□	○
□	○	○	○
□	○	○	○
○	□	○	○

※1. このプリントは、しながわ・目黒こどもスクールのウェブサイトでダウンロードができます。無断複写・引用はご遠慮ください。  
 ※2. このプリントを活用したオンライン授業のスケジュールは、しながわ・目黒こどもスクールのウェブサイトでご確認ください。



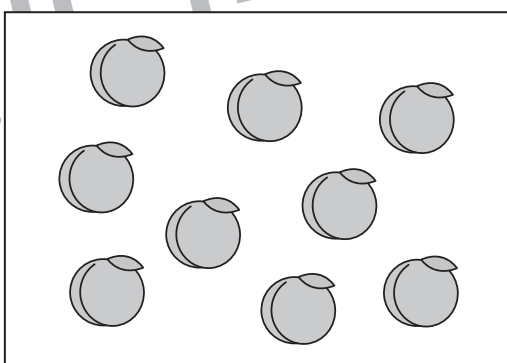

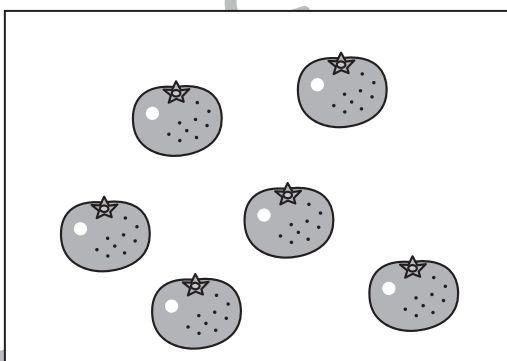





# おうちで、やろう。

Study at home. 小学校受験の家庭学習教材

数量：分割3

左の四角の中の子どもたちで真ん中の四角の中に入っている果物を仲良く分けると、1人いくつもらえますか。  
1人の子どもがもらえる果物の数だけ、右の四角に○をかきます。



※1. このプリントは、しながわ・目黒こどもスクールのウェブサイトでダウンロードができます。無断複写・引用はご遠慮ください。  
※2. このプリントを活用したオンライン授業のスケジュールは、しながわ・目黒こどもスクールのウェブサイトでご確認ください。















# おうちで、やろう。

Study at home. 小学校受験の家庭学習教材

数量：分割 4

左の四角の中の子どもたちで真ん中の四角の中に入っている果物を仲良く分けると、1人いくつもらえますか。  
1人の子どもがもらえる果物の数だけ、右の四角に○をかきます。



※1. このプリントは、しながわ・目黒こどもスクールのウェブサイトでダウンロードができます。無断複写・引用はご遠慮ください。  
※2. このプリントを活用したオンライン授業のスケジュールは、しながわ・目黒こどもスクールのウェブサイトでご確認ください。






# おうちで、やろう。

Study at home. 小学校受験の家庭学習教材

処理：計数7

大きな四角の中の動物を数えます。その数だけ下の四角に○を書きましょう。



○ × 5



○ × 7



○ × 6



○ × 8