



# おうちで、やろう。年中児版

Study at home. 小学校受験の家庭学習教材

記憶：絵の記憶 11  
(問題用紙)

別紙『記憶 - 絵の記憶 11 記憶用紙』を使用します。記憶用紙の絵を見た後に①、②の問題に取り組みましょう。

①クマがいたマスの場所に○をかきます。

②ウサギがいたマスの場所に○、キリンがいたマスの場所に△をかきます。

①

		○

②

△	○	

※1. このプリントは、しながわ・目黒こどもスクールのウェブサイトでダウンロードができます。無断複写・引用はご遠慮ください。

※2. このプリントを活用したオンライン授業のスケジュールは、しながわ・目黒こどもスクールのウェブサイトでご確認ください。













# おうちで、やろう。年中児版

Study at home. 小学校受験の家庭学習教材

言語：音の数 16

四角の中の絵の音の数を考えて、すべて同じ音の数のときは○、違うときは×を右の太い四角にかきます。



※1. このプリントは、しながわ・目黒こどもスクールのウェブサイトでダウンロードができます。無断複写・引用はご遠慮ください。  
※2. このプリントを活用したオンライン授業のスケジュールは、しながわ・目黒こどもスクールのウェブサイトでご確認ください。

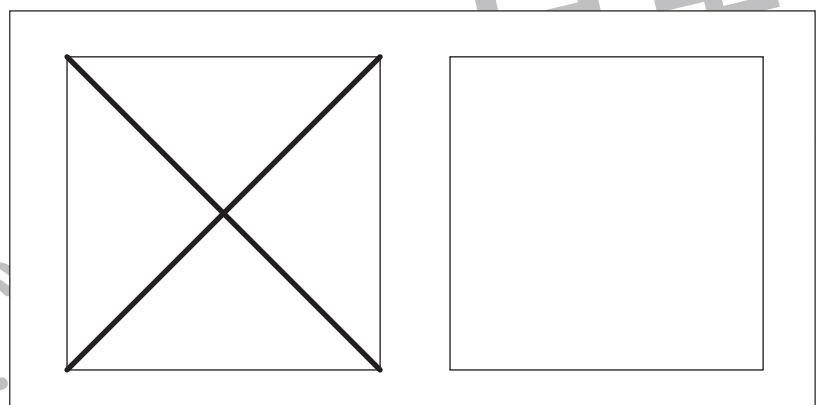
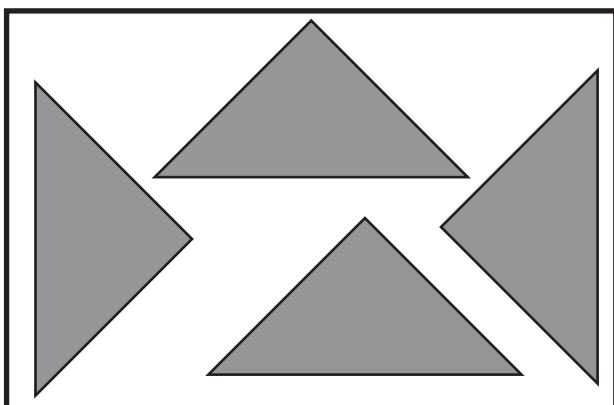
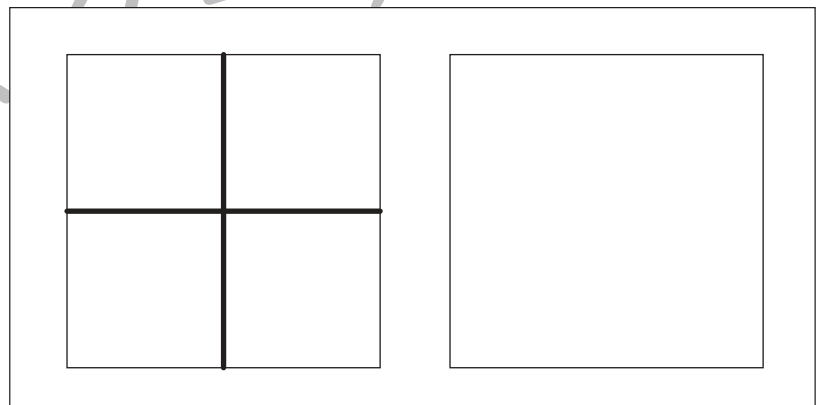
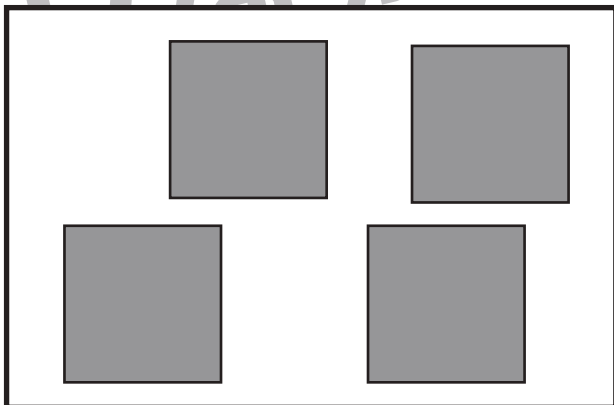
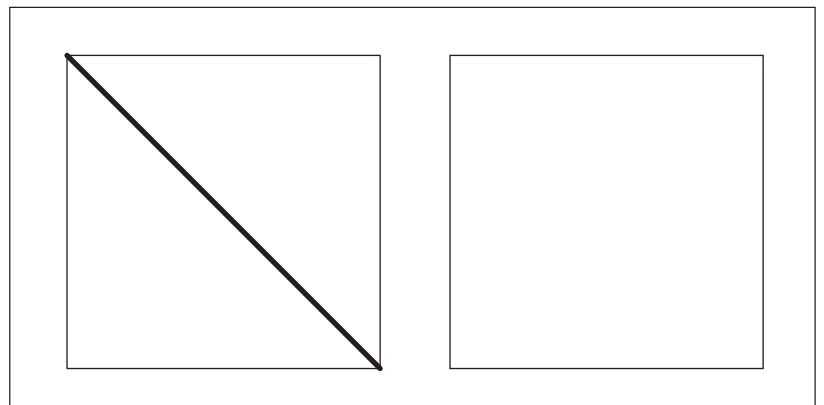
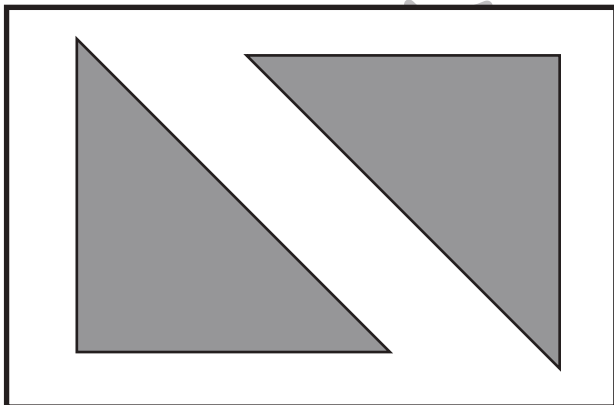

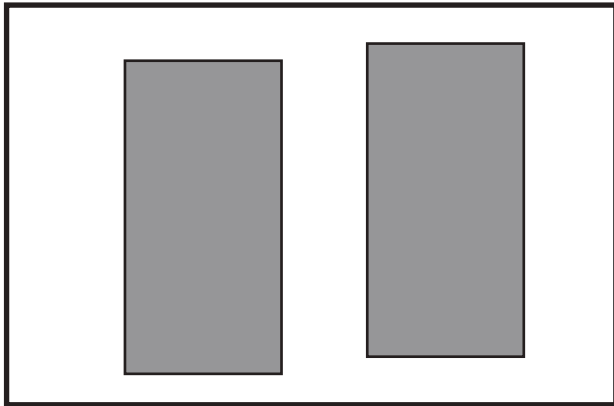


# おうちで、やろう。年中児版

Study at home. 小学校受験の家庭学習教材

図形：構成 15

左の四角の中には、1枚の折り紙を同じ形に切ったものがあります。  
折り紙をどのように切ったのを考えて、切った線を右の四角にかきます。  
四角は2つありますので、まずは左側の四角に線をかき、間違えてしまったら右側の四角にかきなおしましょう。



※1. このプリントは、しながわ・目黒こどもスクールのウェブサイトでダウンロードができます。無断複写・引用はご遠慮ください。  
※2. このプリントを活用したオンライン授業のスケジュールは、しながわ・目黒こどもスクールのウェブサイトでご確認ください。



# おうちで、やろう。年中児版

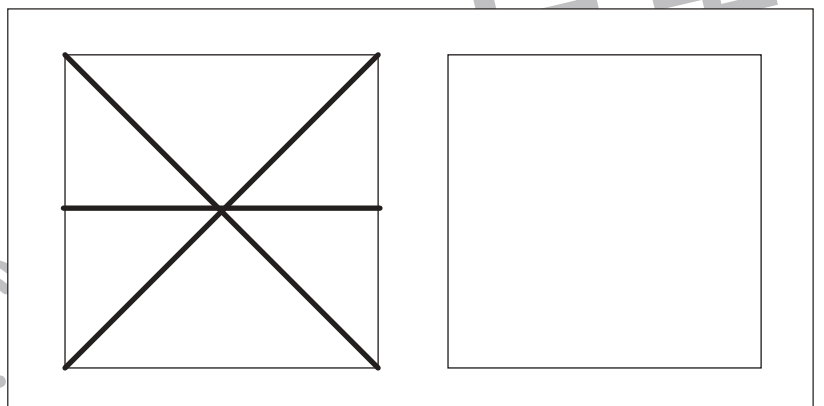
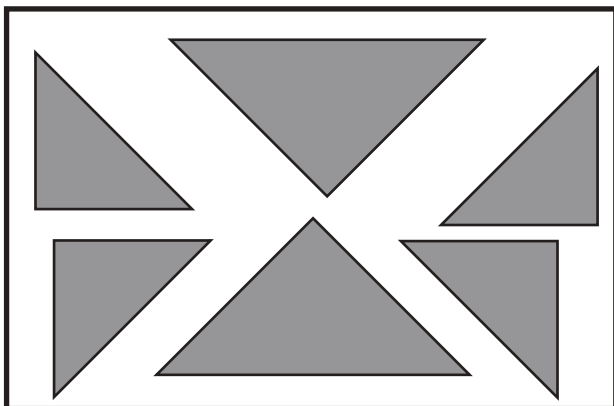
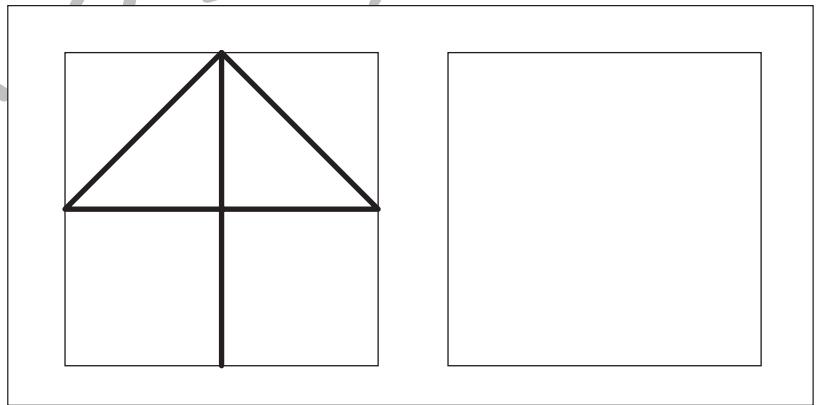
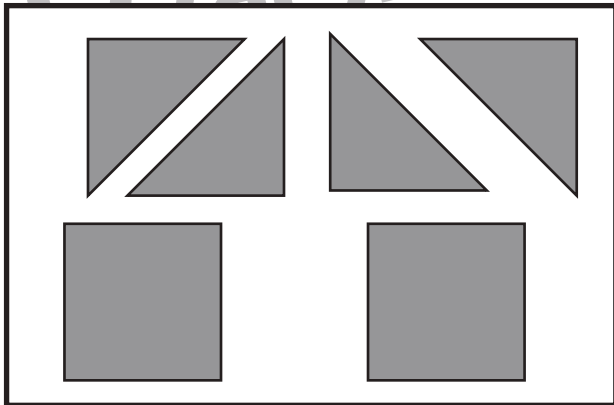
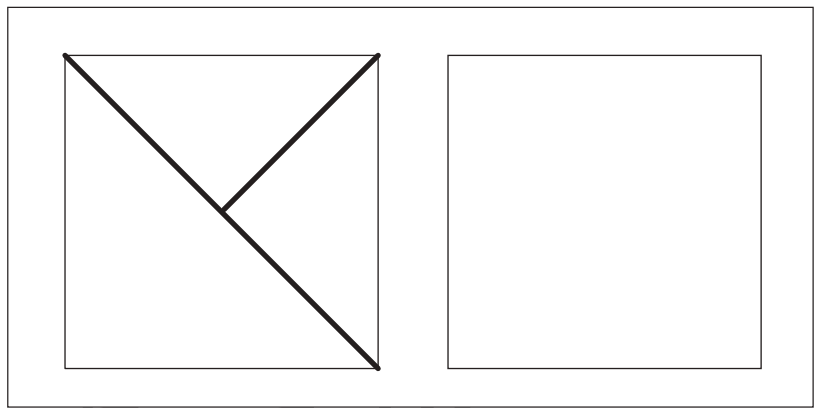
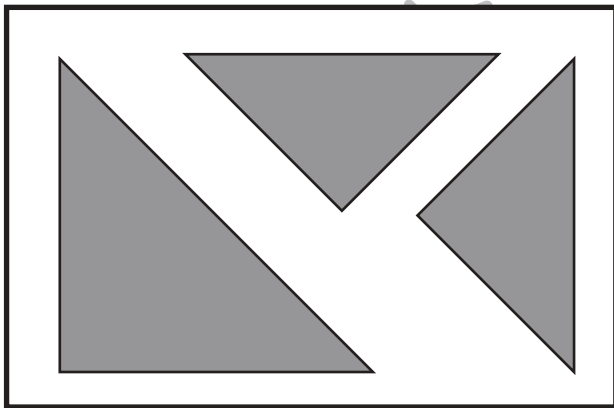
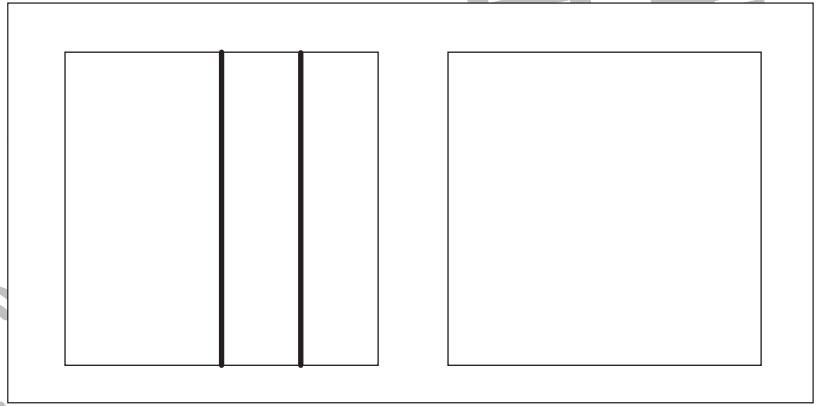
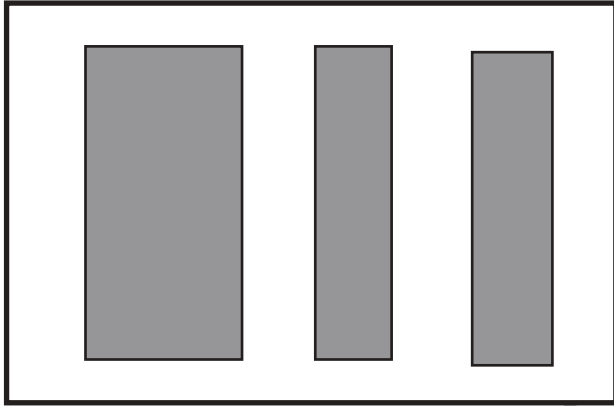
Study at home. 小学校受験の家庭学習教材

図形：構成 16

左の四角の中には、1枚の折り紙を切ったものがあります。

折り紙をどのように切ったのを考えて、切った線を右の四角にかきます。

四角は2つありますので、まずは左側の四角に線をかき、間違えてしまったら右側の四角にかきなおしましょう。



※1. このプリントは、しながわ・目黒こどもスクールのウェブサイトでダウンロードができます。無断複写・引用はご遠慮ください。

※2. このプリントを活用したオンライン授業のスケジュールは、しながわ・目黒こどもスクールのウェブサイトでご確認ください。



# おうちで、やろう。

Study at home. 小学校受験の家庭学習教材

## 推理：じゃんけん5

左の四角の中の動物が真ん中の四角の中の動物たちと順番にじゃんけんをしました。  
このとき、左の四角の動物が勝った回数だけ右の四角の○を塗ります。


※1. このプリントは、しながわ・目黒こどもスクールのウェブサイトからダウンロードができます。無断複写・引用はご遠慮ください。  
 ※2. このプリントを活用したオンライン授業のスケジュールは、しながわ・目黒こどもスクールのウェブサイトでご確認ください。



# おうちで、やろう。

Study at home. 小学校受験の家庭学習教材

推理：じゃんけん6

左の四角の中の動物が真ん中の四角の中の動物たちと順番にじゃんけんをしました。  
このとき、左の四角の動物が負けた回数だけ右の四角の○を塗ります。


※1. このプリントは、しながわ・目黒こどもスクールのウェブサイトからダウンロードができます。無断複写・引用はご遠慮ください。  
 ※2. このプリントを活用したオンライン授業のスケジュールは、しながわ・目黒こどもスクールのウェブサイトでご確認ください。




# おうちで、やろう。年中児版


Study at home. 小学校受験の家庭学習教材

数量：対応7

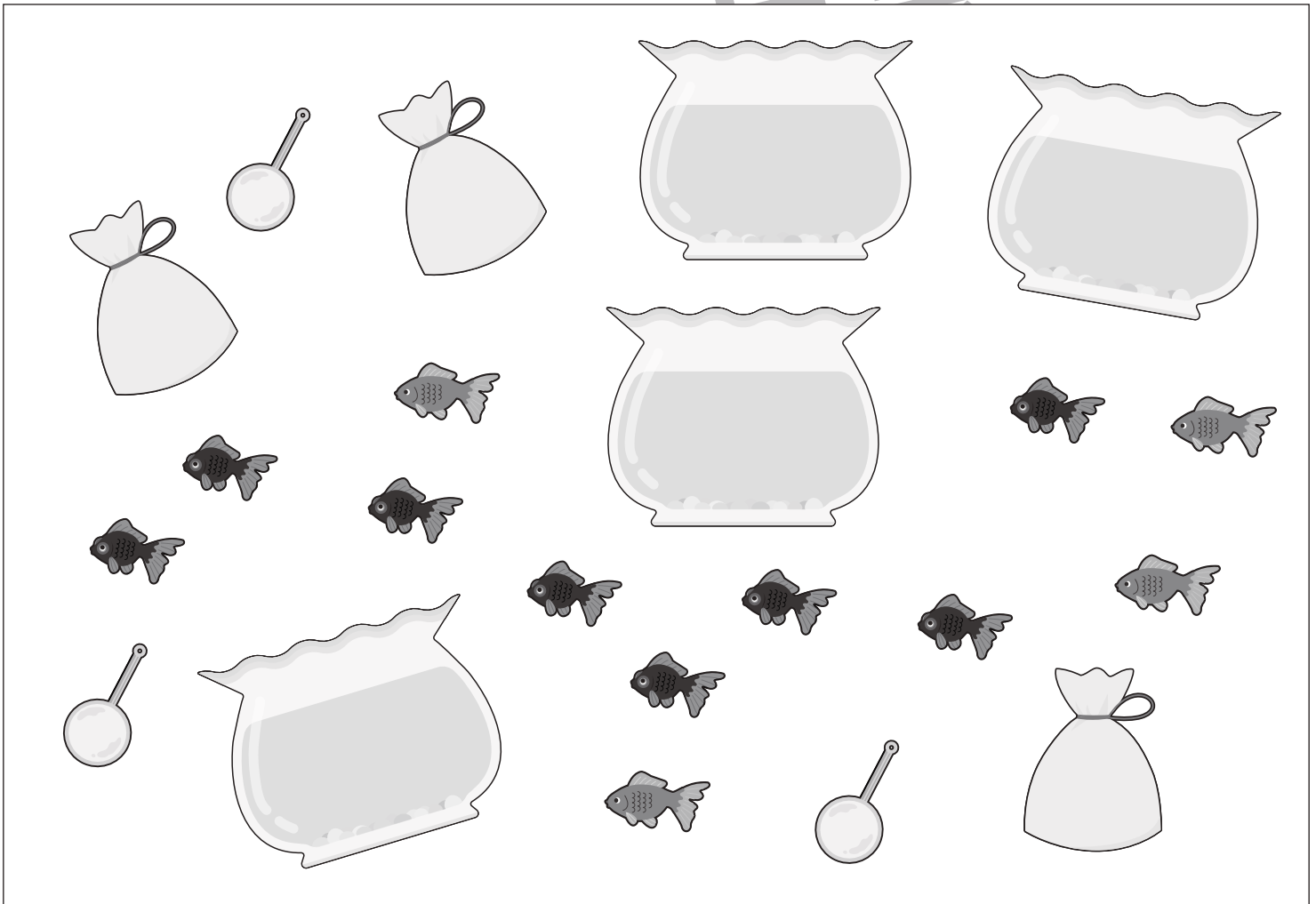
太い四角の中が1人分のセットのとき、下の大きな四角の中には何人分のセットがありますか。  
その数だけ右の四角に○をかきます。



$$\bigcirc \times 3$$



$$\bigcirc \times 4$$



※1. このプリントは、しながわ・目黒こどもスクールのウェブサイトからダウンロードができます。無断複製・引用はご遠慮ください。  
※2. このプリントを活用したオンライン授業のスケジュールは、しながわ・目黒こどもスクールのウェブサイトでご確認ください。