







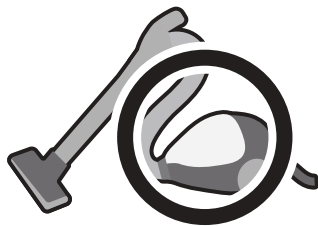




おうちで、やろう。 年中児版

Study at home. 小学校受験の家庭学習教材

言語：音の数 13

太い四角の中の絵と同じ音の数の絵2つに○をつけます。



※1. このプリントは、しながわ・目黒こどもスクールのウェブサイトからダウンロードできます。無断複写・引用はご遠慮ください。
※2. このプリントを活用したオンライン授業のスケジュールは、しながわ・目黒こどもスクールのウェブサイトでご確認ください。



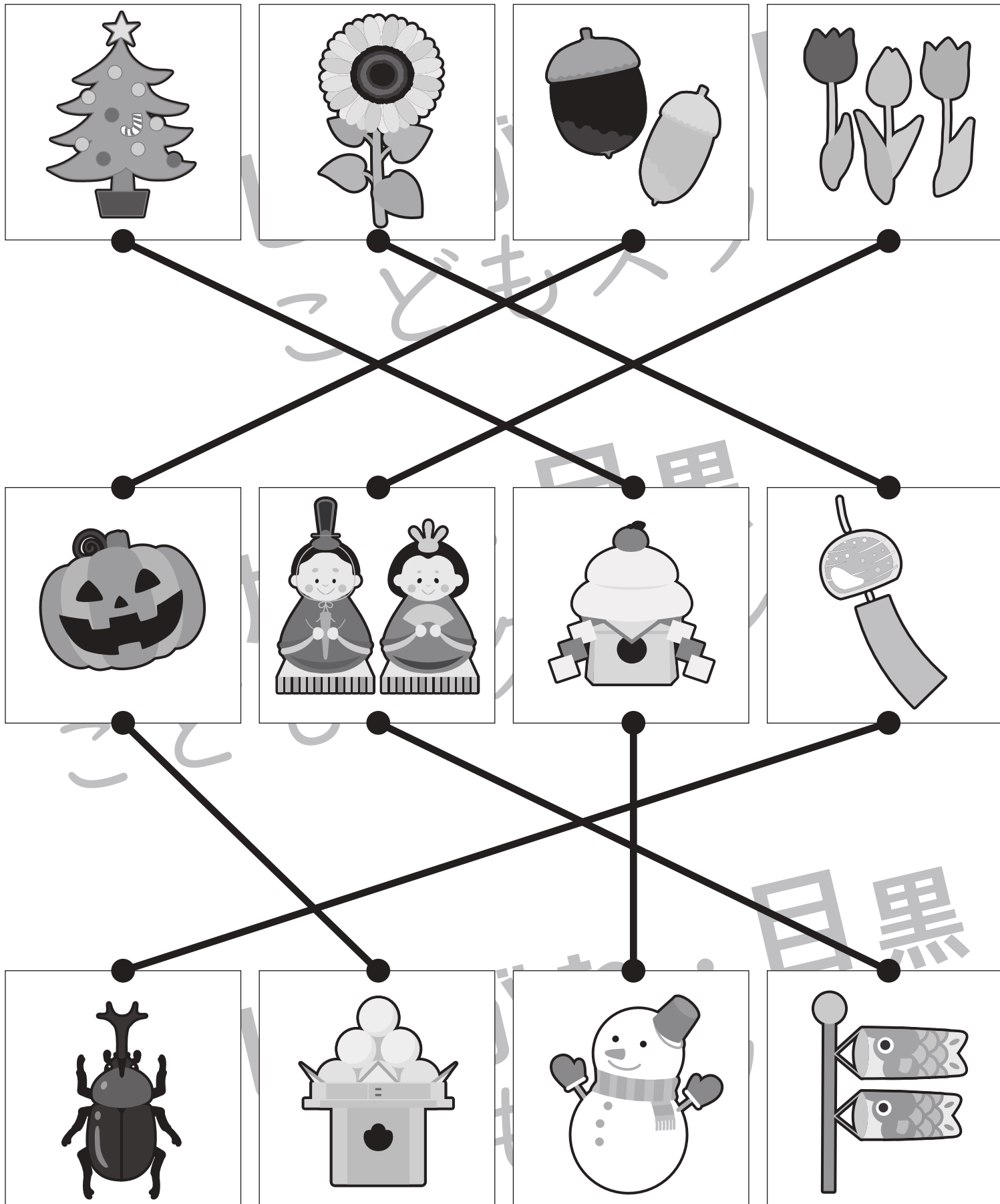


おうちで、やろう。 年中児版

Study at home. 小学校受験の家庭学習教材

常識：季節5

同じ季節の絵を上・真ん中・下で3つ線で結びます。



※1. このプリントは、しながわ・目黒こどもスクールのウェブサイトでダウンロードができます。無断複写・引用はご遠慮ください。
 ※2. このプリントを活用したオンライン授業のスケジュールは、しながわ・目黒こどもスクールのウェブサイトでご確認ください。

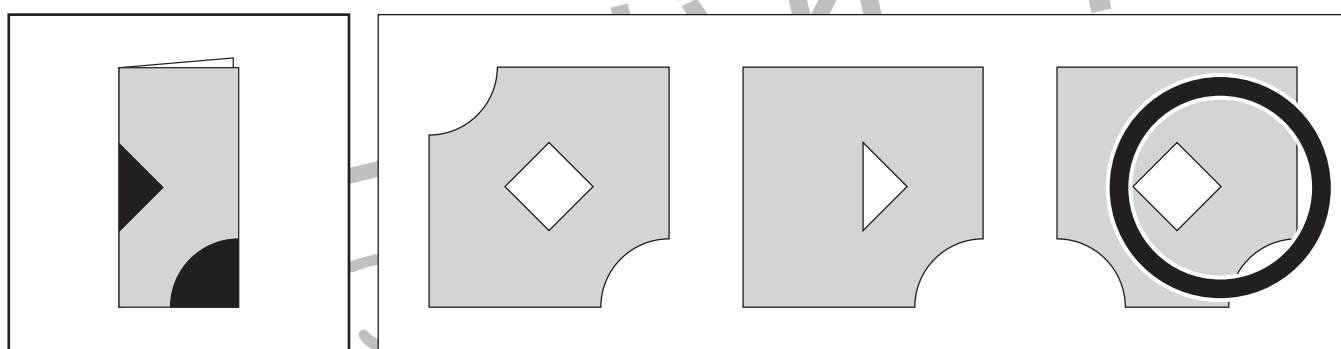
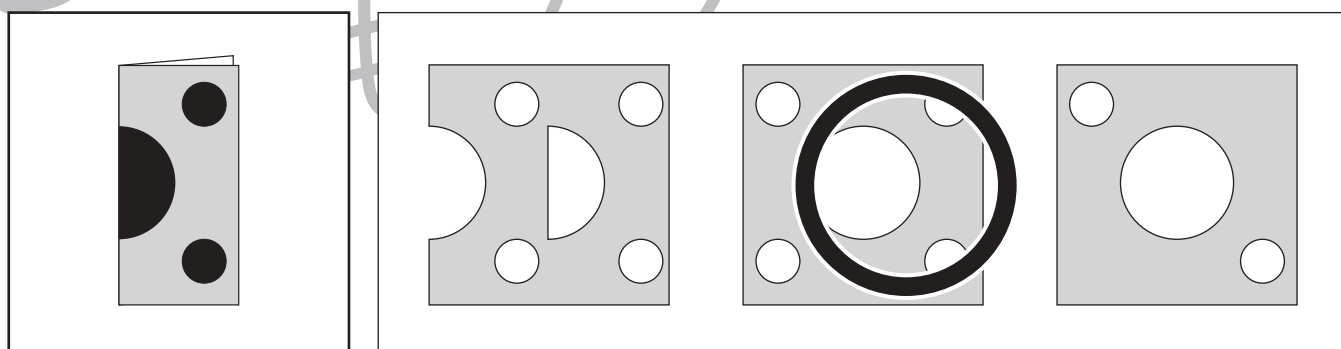
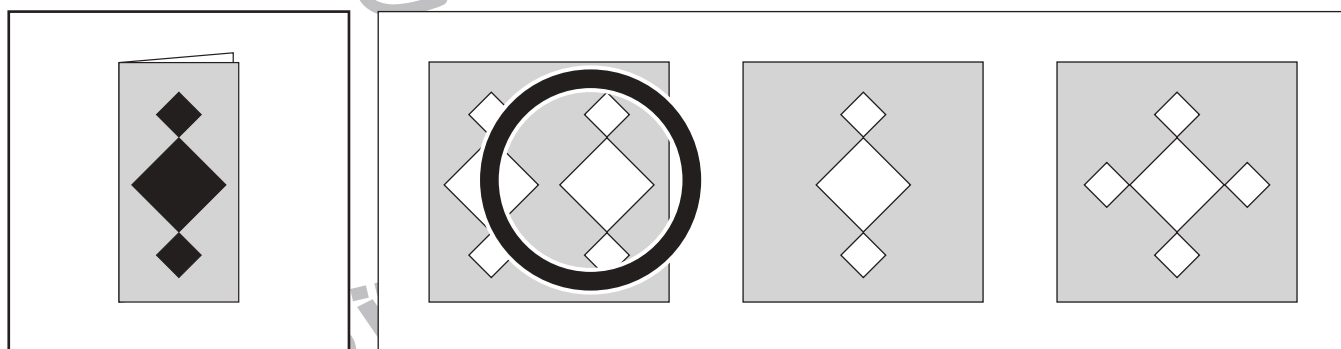
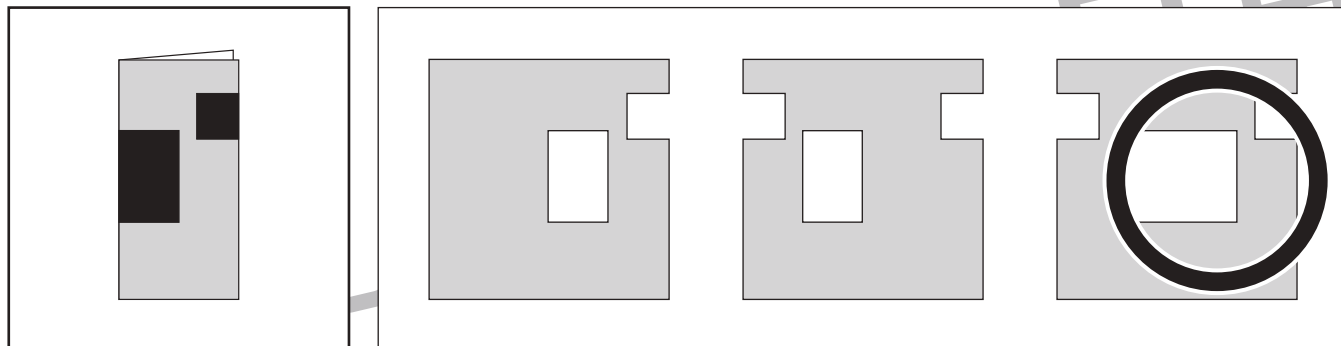


おうちで、よろう。 年中児版

Study at home. 小学校受験の家庭学習教材

図形：切り抜き 8

左の折り紙の黒い部分を切り抜いて開いたときの見え方を考えて、正しいものに○をつけます。



※1. このプリントは、しながわ・目黒こどもスクールのウェブサイトでダウンロードができます。無断複写・引用はご遠慮ください。
 ※2. このプリントを活用したオンライン授業のスケジュールは、しながわ・目黒こどもスクールのウェブサイトでご確認ください。



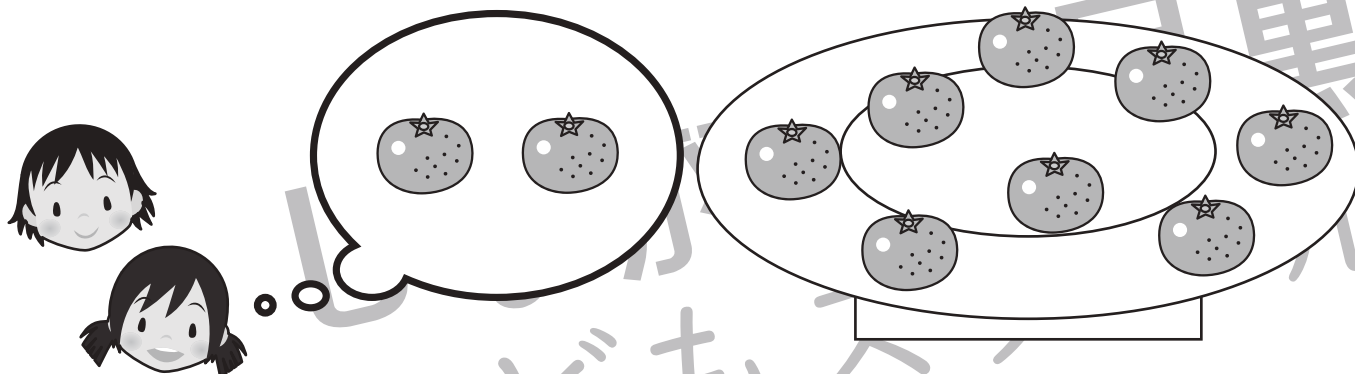
おうちで、やろう。 年中児版

Study at home. 小学校受験の家庭学習教材

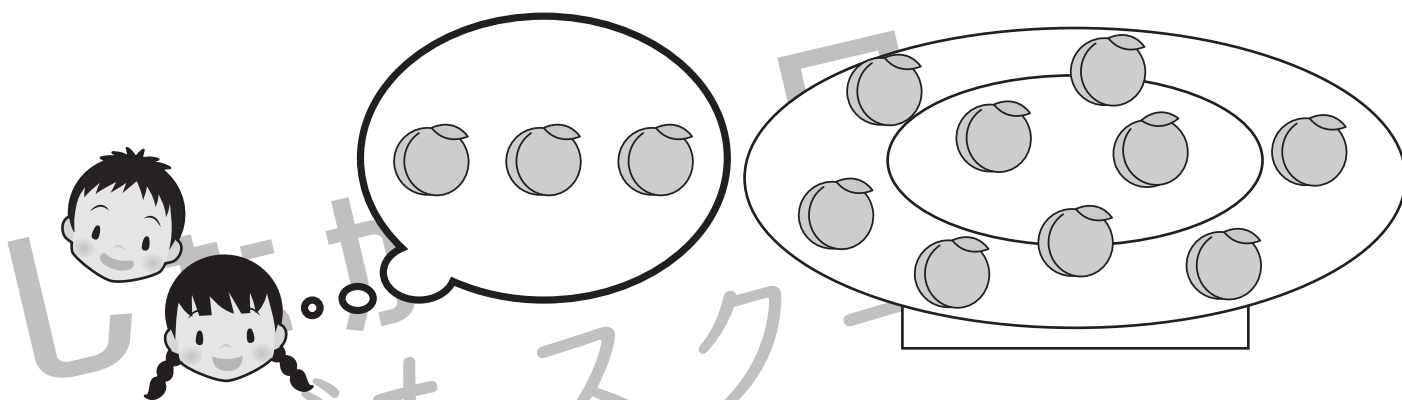
数量：余る数1

左のお友だちで右のお皿の上の食べ物を分けます。


1人分が真ん中の吹き出しの中の数になるように分けると、食べ物はいくつ余りますか。余る数だけ下の四角に○をかきます。



$$\bigcirc \times 4$$



$$\bigcirc \times 3$$



$$\bigcirc \times 4$$

※1. このプリントは、しながわ・目黒こどもスクールのウェブサイトでダウンロードができます。無断複写・引用はご遠慮ください。

※2. このプリントを活用したオンライン授業のスケジュールは、しながわ・目黒こどもスクールのウェブサイトでご確認ください。




おうちで、やろう。 年中児版

Study at home. 小学校受験の家庭学習教材


数量：余る数2

左のお友だちで右のお皿の上の食べ物を分けます。

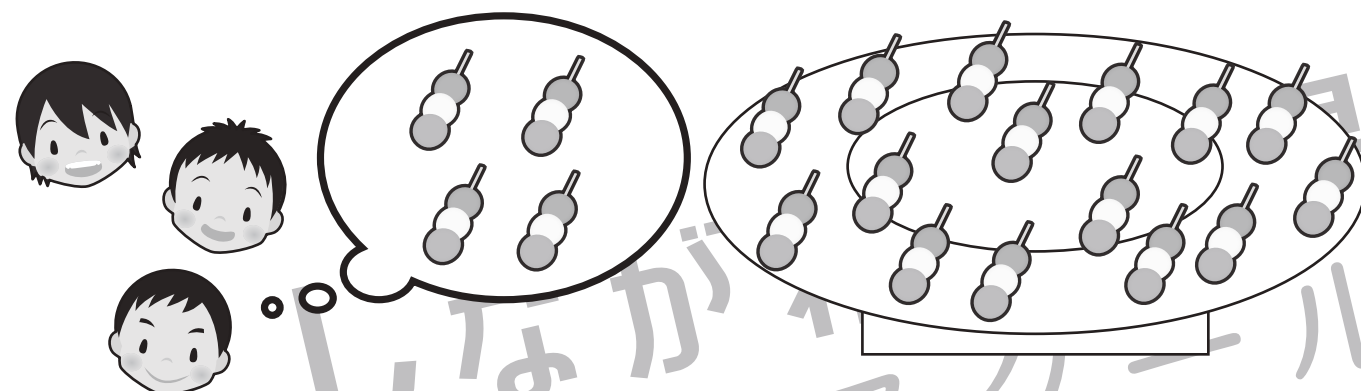
1人分が真ん中の吹き出しの中の数になるように分けると、食べ物はいくつ余りますか。余る数だけ下の四角に○をかきます。



$$\bigcirc \times 2$$



$$\bigcirc \times 4$$



$$\bigcirc \times 3$$

※1. このプリントは、しながわ・目黒こどもスクールのウェブサイトでダウンロードができます。無断複写・引用はご遠慮ください。

※2. このプリントを活用したオンライン授業のスケジュールは、しながわ・目黒こどもスクールのウェブサイトでご確認ください。





おうちで、やろう。年中児版

Study at home. 小学校受験の家庭学習教材

処理：計数 1

上の四角の中の絵の数をかぞえて、下の四角の同じ絵の右にその数だけ〇をかきます。
この問題はスピードを意識して取り組む練習をしてみましょう。(1分～1分30秒)



○ × 4



○ × 3



○ × 5



○ × 4

※1. このプリントは、しながわ・目黒こどもスクールのウェブサイトでダウンロードができます。無断複写・引用はご遠慮ください。
※2. このプリントを活用したオンライン授業のスケジュールは、しながわ・目黒こどもスクールのウェブサイトでご確認ください。

