



おうちで、やろう。 年中児版

Study at home. 小学校受験の家庭学習教材

記憶：絵の記憶 10

(記憶用紙)

別紙『記憶 - 絵の記憶 10』を行う際に使用します。記憶用紙は点線で折って(切って)、①、②の問題の際にそれぞれ 20 秒間ずつ記憶させてください。記憶する際は問題用紙は裏返しにします。記憶後①、②それぞれの問題に答えましょう。

①の絵を覚え、お手本と同じ数だけ〇をかきます。

②の絵を覚え、お手本と同じ数だけ〇をかきます。

※このプリントの解答は記憶用紙で確認してください。

目黒

①

②

※1. このプリントは、しながわ・目黒こどもスクールのウェブサイトでダウンロードができます。無断複写・引用はご遠慮ください。

※2. このプリントを活用したオンライン授業のスケジュールは、しながわ・目黒こどもスクールのウェブサイトでご確認ください。



おうちで、やろう。 年中児版

Study at home. 小学校受験の家庭学習教材


記憶：絵の記憶 10

(問題用紙)


別紙『記憶 - 絵の記憶 10 記憶用紙』を使用します。記憶用紙の絵を見た後に①、②の問題に取り組みましょう。

※このプリントの解答は記憶用紙で確認してください。

①



②



※1. このプリントは、しながわ・目黒こどもスクールのウェブサイトでダウンロードができます。無断複写・引用はご遠慮ください。

※2. このプリントを活用したオンライン授業のスケジュールは、しながわ・目黒こどもスクールのウェブサイトでご確認ください。







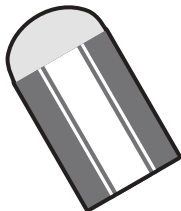







おうちで、やろう。 年中児版

Study at home. 小学校受験の家庭学習教材

言語：音の数 13

太い四角の中の絵と同じ音の数の絵2つに○をつけます。



※1. このプリントは、しながわ・目黒こどもスクールのウェブサイトでダウンロードができます。無断複写・引用はご遠慮ください。
※2. このプリントを活用したオンライン授業のスケジュールは、しながわ・目黒こどもスクールのウェブサイトでご確認ください。



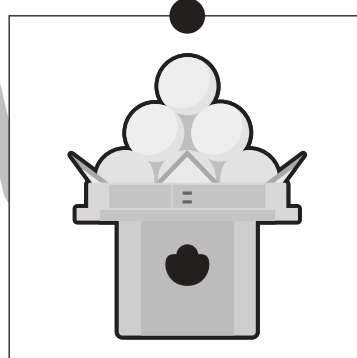

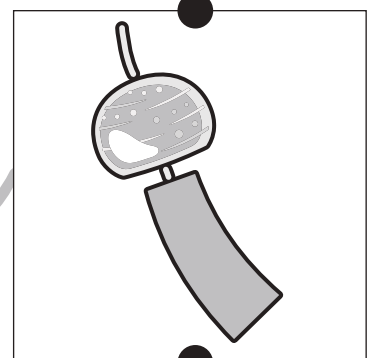






おうちで、やろう。年中児版

Study at home. 小学校受験の家庭学習教材

常識：季節5

同じ季節の絵を上・真ん中・下で3つ線で結びます。



※1. このプリントは、しながわ・目黒こどもスクールのウェブサイトでダウンロードができます。無断複写・引用はご遠慮ください。
※2. このプリントを活用したオンライン授業のスケジュールは、しながわ・目黒こどもスクールのウェブサイトでご確認ください。



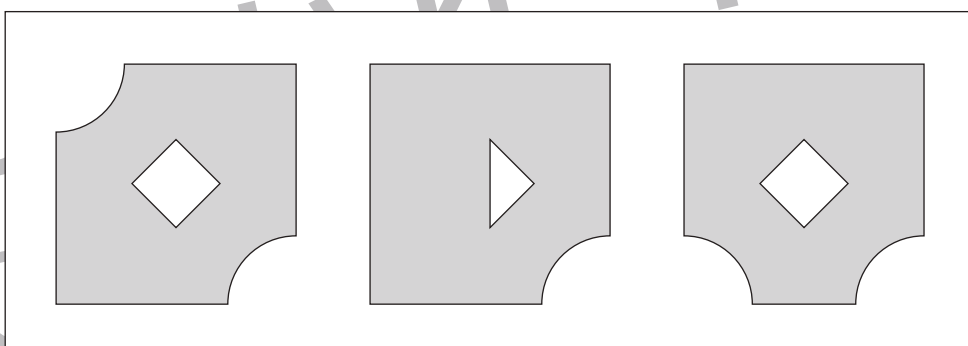
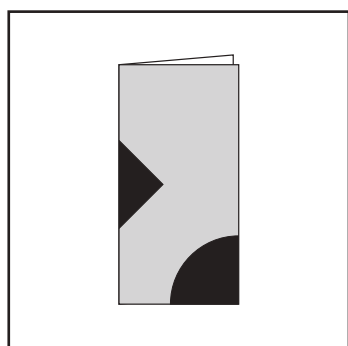
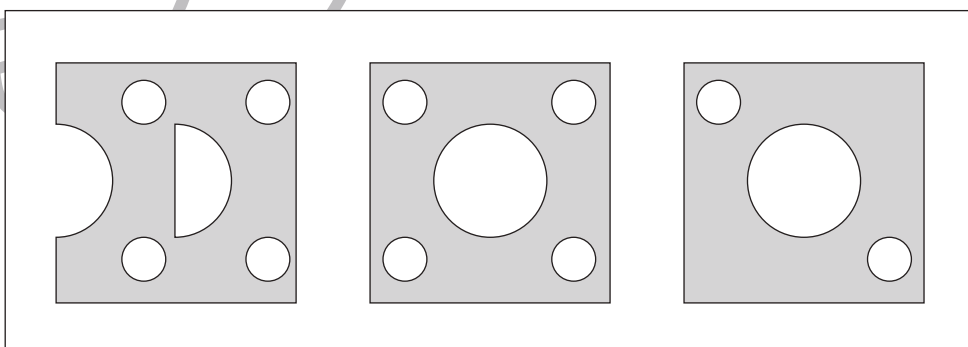
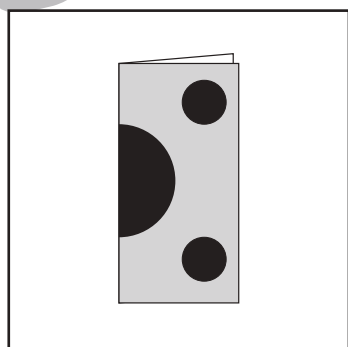
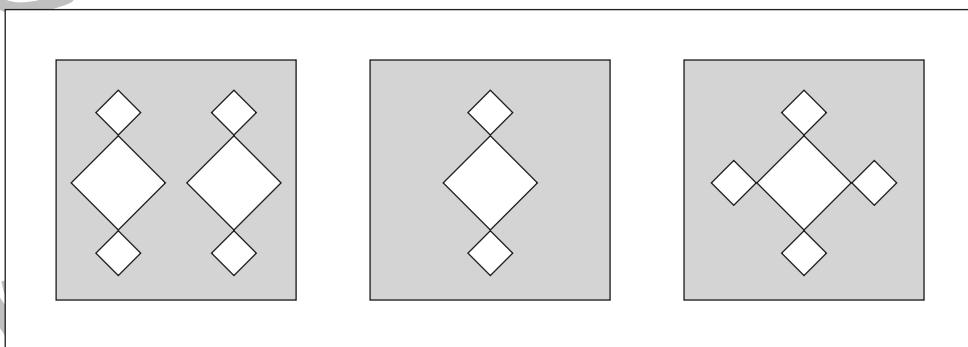

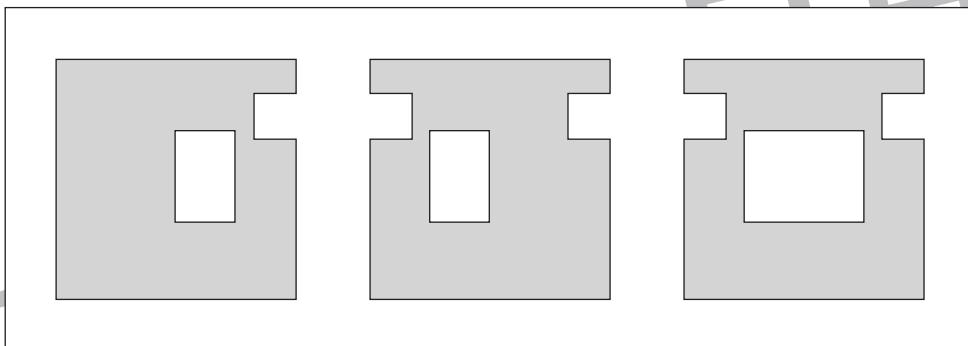
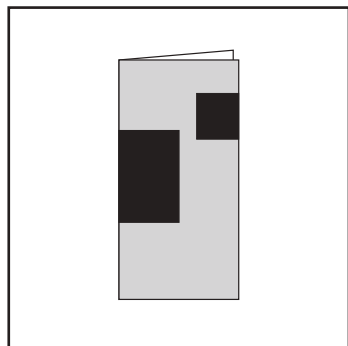


おうちで、やろう。 年中児版

Study at home. 小学校受験の家庭学習教材

図形：切り抜き 8

左の折り紙の黒い部分を切り抜いて開いたときの見え方を考えて、正しいものに○をつけます。



※1. このプリントは、しながわ・目黒こどもスクールのウェブサイトからダウンロードできます。無断複写・引用はご遠慮ください。
※2. このプリントを活用したオンライン授業のスケジュールは、しながわ・目黒こどもスクールのウェブサイトでご確認ください。





おうちで、やろう。

Study at home. 小学校受験の家庭学習教材

図形：点図形 23

左のお手本と同じになるように右の四角に線をかきます。 ※このプリントに解答はありません。

※1. このプリントは、しながわ・目黒こどもスクールのウェブサイトでダウンロードができます。無断複写・引用はご遠慮ください。

※2. このプリントを活用したオンライン授業のスケジュールは、しながわ・目黒こどもスクールのウェブサイトでご確認ください。



おうちで、やろう。 年中児版

Study at home. 小学校受験の家庭学習教材

数量：余る数1

左のお友だちで右のお皿の上の食べ物を分けます。

1人分が真ん中の吹き出しの中の数になるように分けると、食べ物はいくつ余りますか。余る数だけ下の四角に○をかきます。

Two girls are looking at a plate of 10 oranges. A speech bubble shows 2 oranges. A large empty box is below for the answer.

A boy and a girl are looking at a plate of 10 apples. A speech bubble shows 3 apples. A large empty box is below for the answer.

A boy and a girl are looking at a plate of 10 apples. A speech bubble shows 5 apples. A large empty box is below for the answer.

※1. このプリントは、しながわ・目黒こどもスクールのウェブサイトでダウンロードができます。無断複写・引用はご遠慮ください。
 ※2. このプリントを活用したオンライン授業のスケジュールは、しながわ・目黒こどもスクールのウェブサイトでご確認ください。



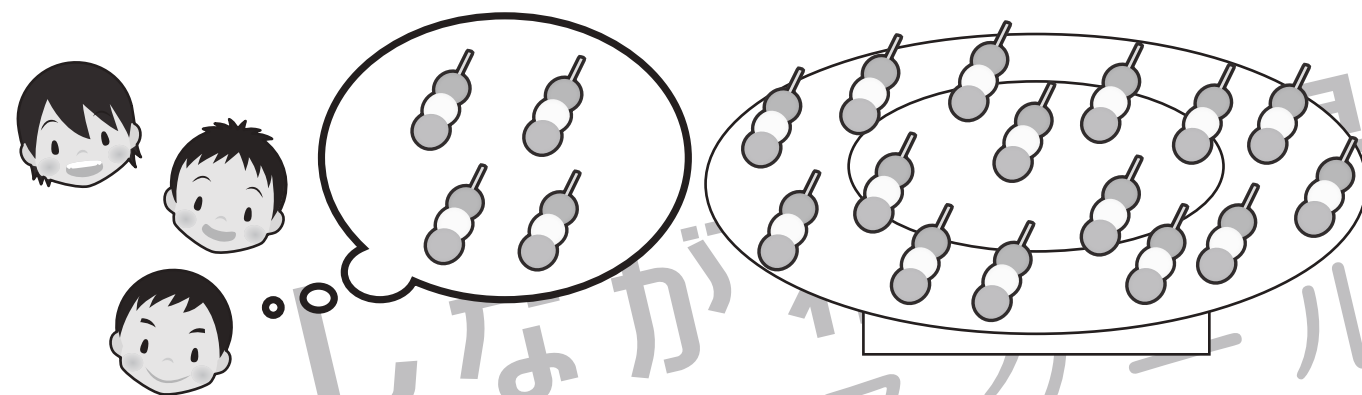


おうちで、やろう。 年中児版

Study at home. 小学校受験の家庭学習教材

数量：余る数2

左のお友だちで右のお皿の上の食べ物を分けます。

1人分が真ん中の吹き出しの中の数になるように分けると、食べ物はいくつ余りますか。余る数だけ下の四角に○をかきます。



※1. このプリントは、しながわ・目黒こどもスクールのウェブサイトでダウンロードができます。無断複写・引用はご遠慮ください。

※2. このプリントを活用したオンライン授業のスケジュールは、しながわ・目黒こどもスクールのウェブサイトでご確認ください。




おうちで、やろう。年中児版

Study at home. 小学校受験の家庭学習教材

処理：計数 1

上の四角の中の絵の数をかぞえて、下の四角の同じ絵の右にその数だけ〇をかきます。
この問題はスピードを意識して取り組む練習をしてみましょう。(1分～1分30秒)



※1. このプリントは、しながわ・目黒こどもスクールのウェブサイトでダウンロードができます。無断複写・引用はご遠慮ください。
※2. このプリントを活用したオンライン授業のスケジュールは、しながわ・目黒こどもスクールのウェブサイトでご確認ください。