



# おうちで、やろう。

Study at home. 小学校受験の家庭学習教材


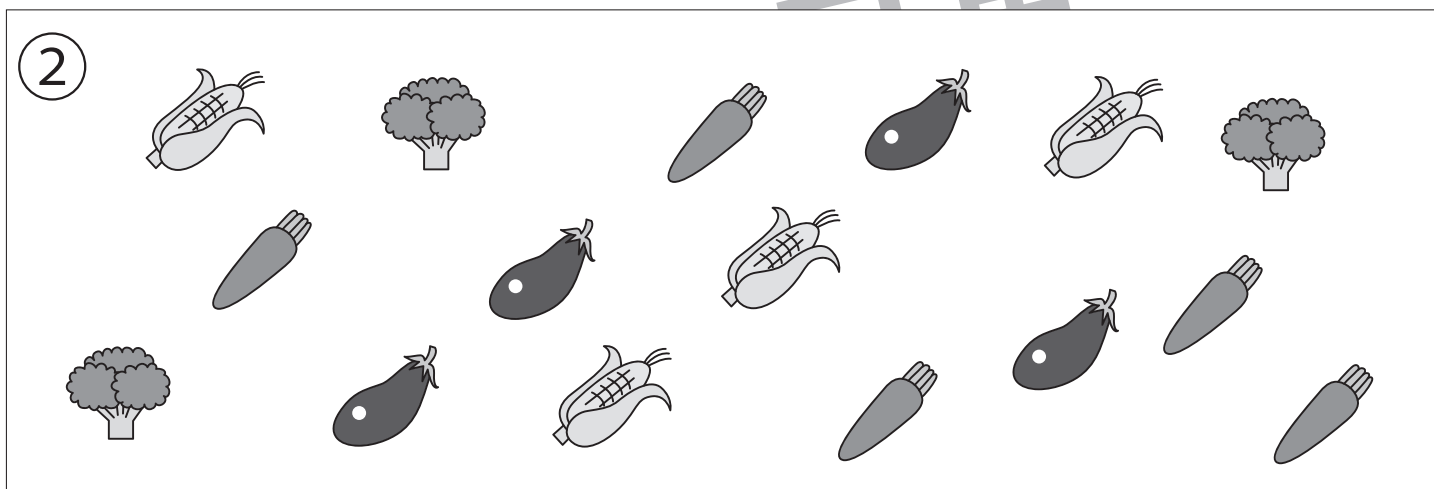

## 記憶：絵の記憶 22 記憶用紙

別紙『記憶 - 絵の記憶 22』を行う際に使用します。記憶用紙は点線で折って(切って)、①、②、③の問題の際にそれぞれ 20 秒間ずつ記憶させてください。記憶する際は問題用紙は裏返しにします。記憶後①、②、③それぞれの問題に答えましょう。

①一番多い動物に○をつけます。

②野菜の数が 4 つのものに○をつけます。

③一番多い果物の数だけ○をかきます。



※ 1. このプリントは、しながわ・目黒こどもスクールのウェブサイトでダウンロードができます。無断複写・引用はご遠慮ください。

※ 2. このプリントを活用したオンライン授業のスケジュールは、しながわ・目黒こどもスクールのウェブサイトでご確認ください。




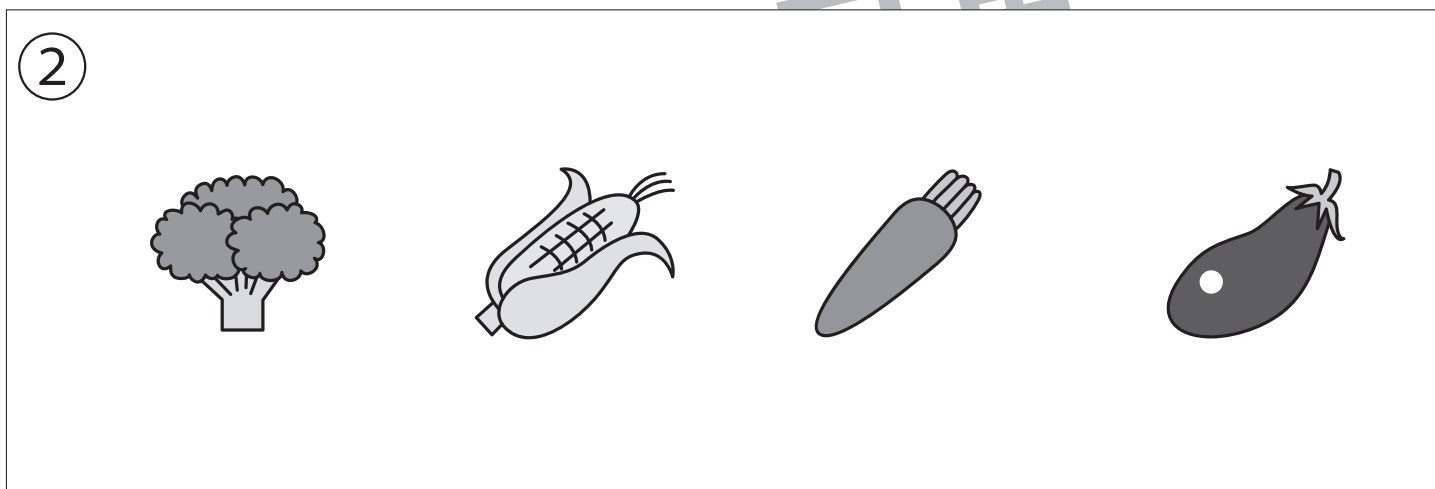
# おうちで、やろう。

Study at home. 小学校受験の家庭学習教材

## 記憶：絵の記憶 22

別紙『記憶 - 絵の記憶 22 記憶用紙』を使用します。記憶用紙の形を見た後に①、②、③の問題に取り組みましょう。

- ①一番多い動物に○をつけます。
- ②野菜の数が4つのものすべてに○をつけます。
- ③一番多い果物の数だけ○をかきます。



※1. このプリントは、しながわ・目黒こどもスクールのウェブサイトからダウンロードできます。無断複写・引用はご遠慮ください。

※2. このプリントを活用したオンライン授業のスケジュールは、しながわ・目黒こどもスクールのウェブサイトでご確認ください。

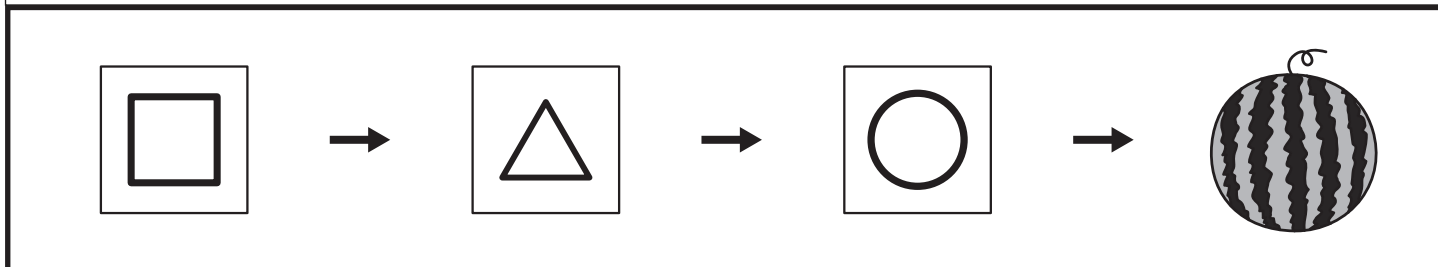

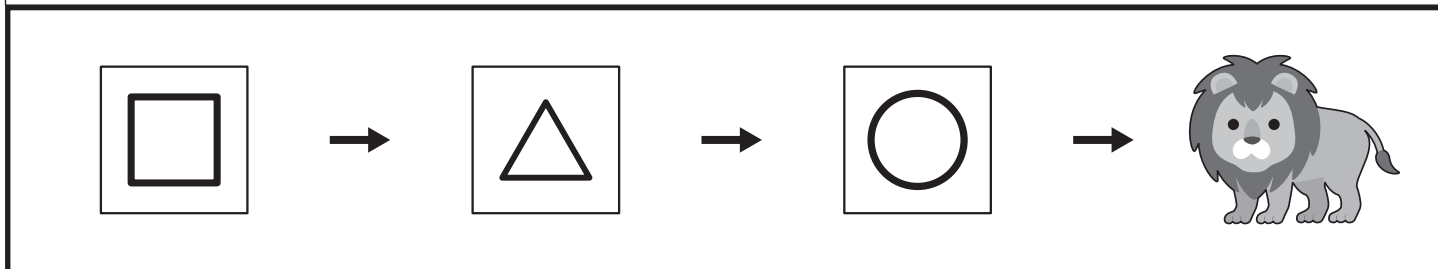
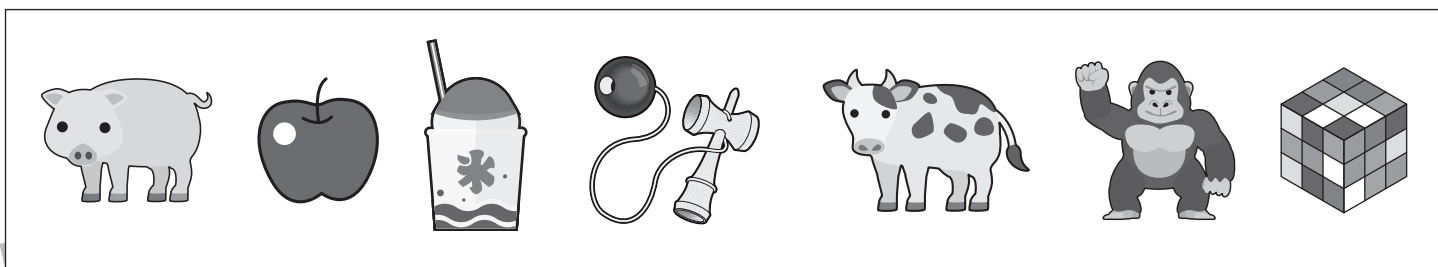
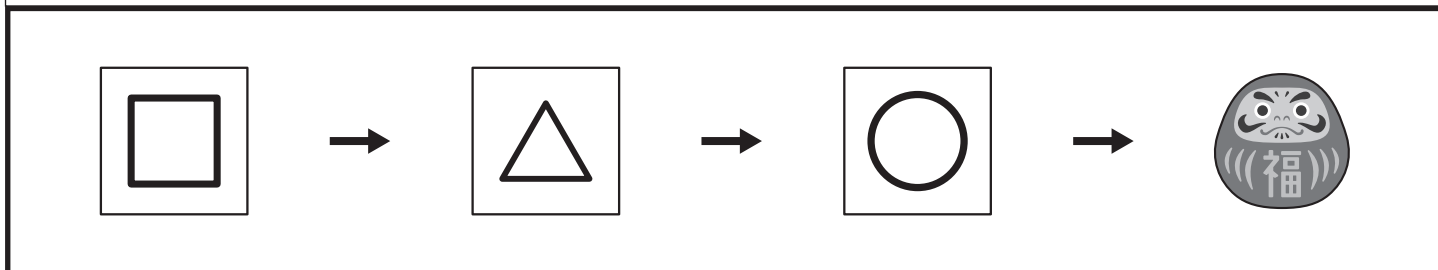



# おうちで、やろう。

Study at home. 小学校受験の家庭学習教材

言語：しりとり 21

太い四角の中の順番でしりとりをします。口と△と○に当てはまるものを上の四角から選び、それぞれの記号をかきます。



※1. このプリントは、しながわ・目黒こどもスクールのウェブサイトからダウンロードできます。無断複写・引用はご遠慮ください。

※2. このプリントを活用したオンライン授業のスケジュールは、しながわ・目黒こどもスクールのウェブサイトでご確認ください。



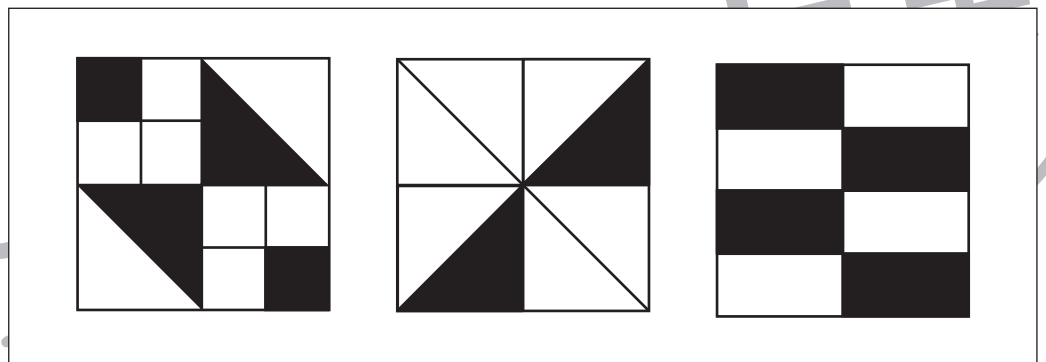



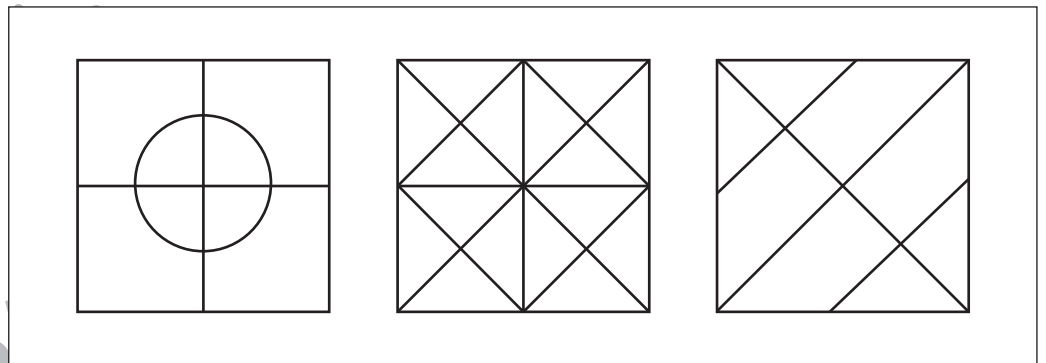
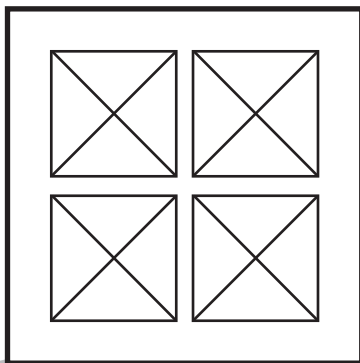
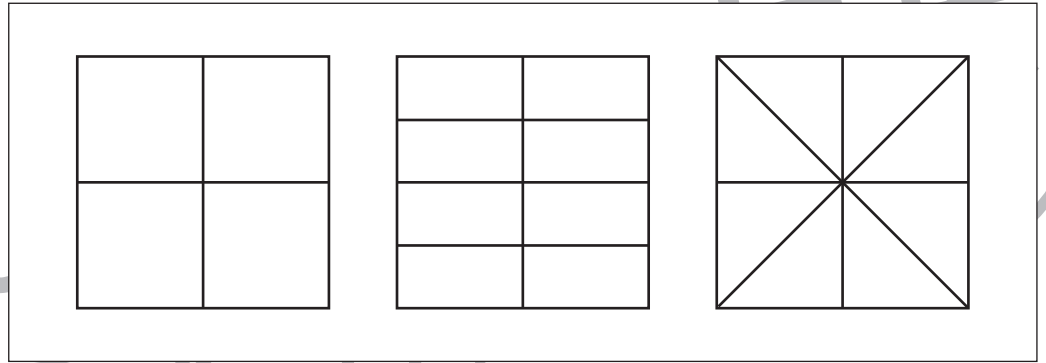
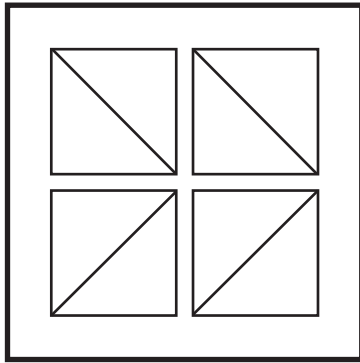


# おうちで、やろう。

Study at home. 小学校受験の家庭学習教材

## 図形：構成 23

太い四角の中にある形を全て使って1つの形を作ります。作った後の形を左の四角の中から選び○をつけます。



※1. このプリントは、しながわ・目黒こどもスクールのウェブサイトでダウンロードができます。無断複写・引用はご遠慮ください。  
※2. このプリントを活用したオンライン授業のスケジュールは、しながわ・目黒こどもスクールのウェブサイトでご確認ください。





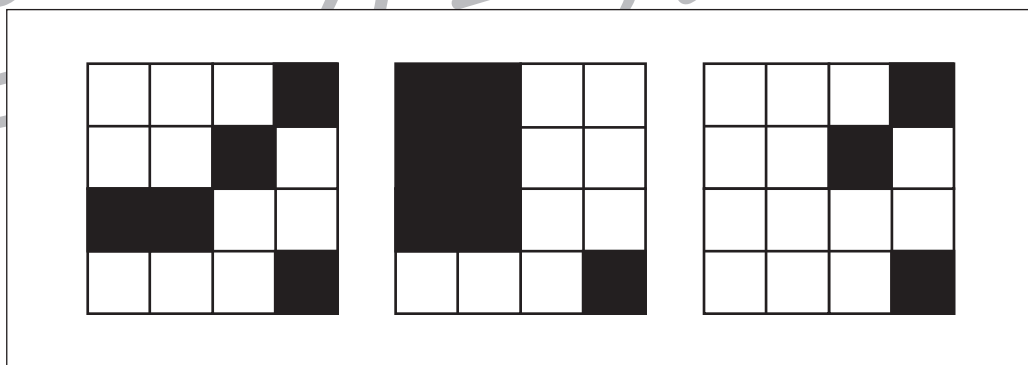

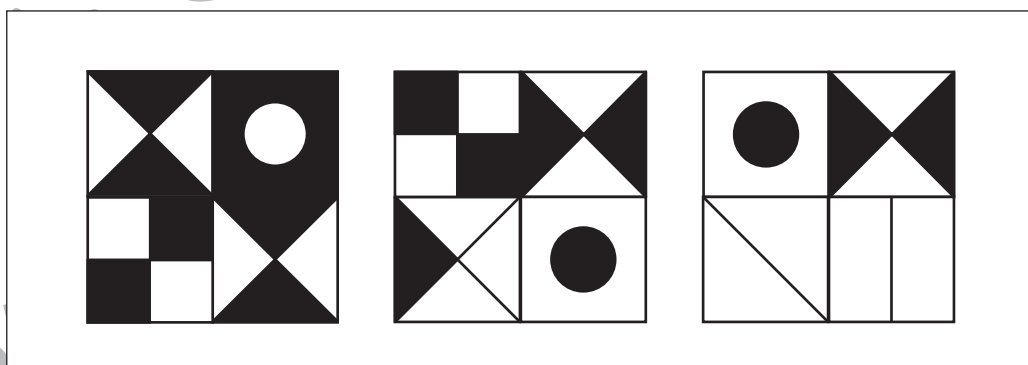

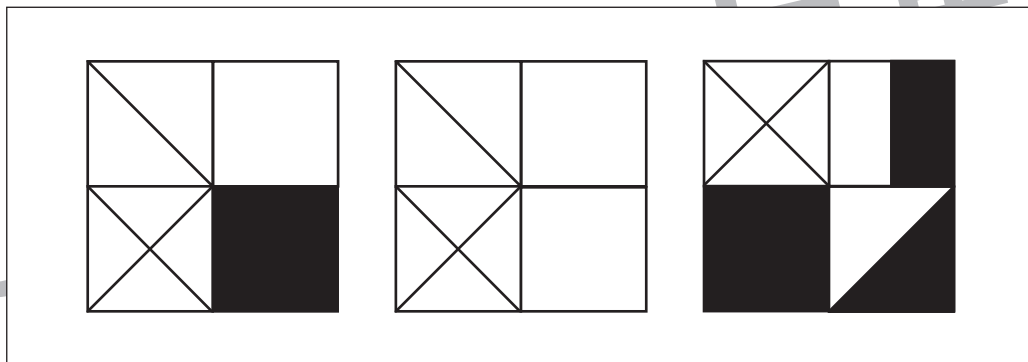



# おうちで、やろう。

Study at home. 小学校受験の家庭学習教材

## 図形：構成 24

太い四角の中にある形を全て使って1つの形を作ります。作った後の形を左の四角の中から選び○をつけます。



※1. このプリントは、しながわ・目黒子どもスクールのウェブサイトでダウンロードができます。無断複写・引用はご遠慮ください。  
※2. このプリントを活用したオンライン授業のスケジュールは、しながわ・目黒子どもスクールのウェブサイトでご確認ください。






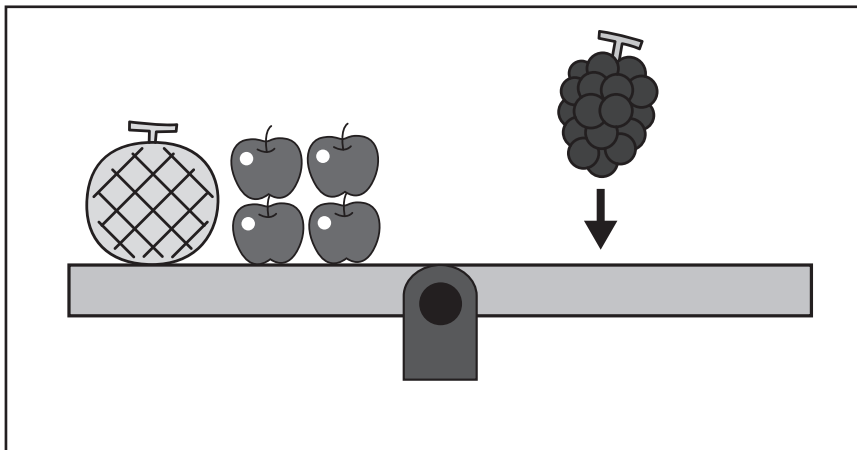

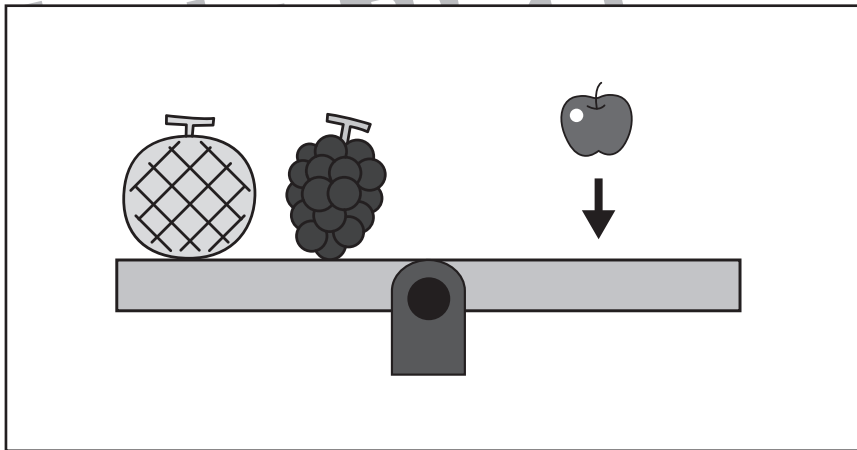

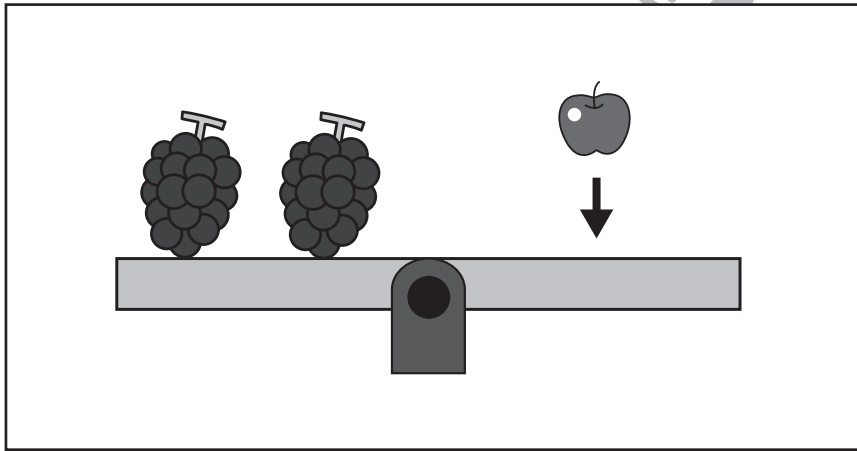
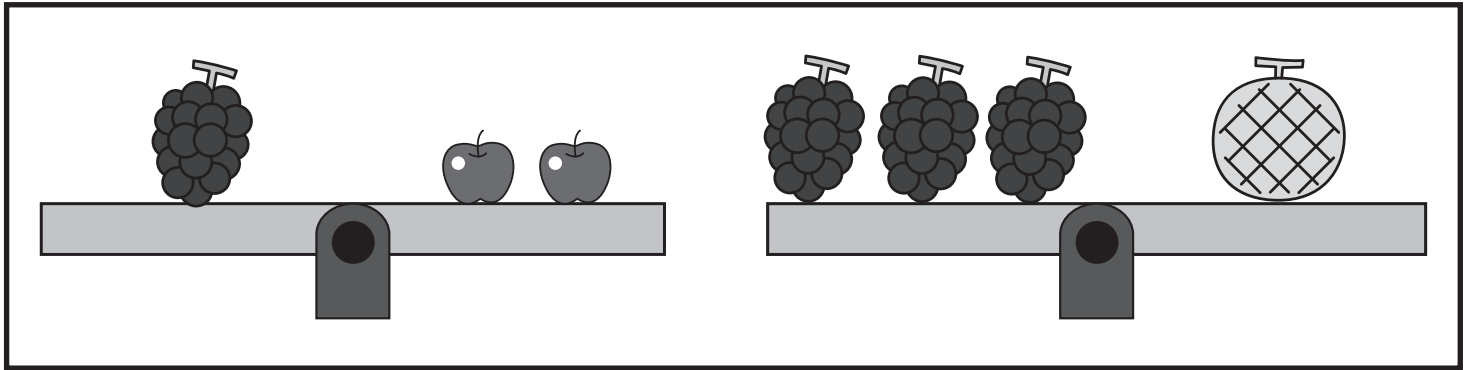
# おうちで、やろう。

Study at home. 小学校受験の家庭学習教材

## 推理：重さの置き換え 10

上の太い四角の中が約束です。

シーソーが釣り合うためには矢印の上の果物をいくつ乗せればよいかを考えて、その数だけ右の四角に○をかきます。



※1. このプリントは、しながわ・目黒こどもスクールのウェブサイトでダウンロードができます。無断複写・引用はご遠慮ください。

※2. このプリントを活用したオンライン授業のスケジュールは、しながわ・目黒こどもスクールのウェブサイトでご確認ください。





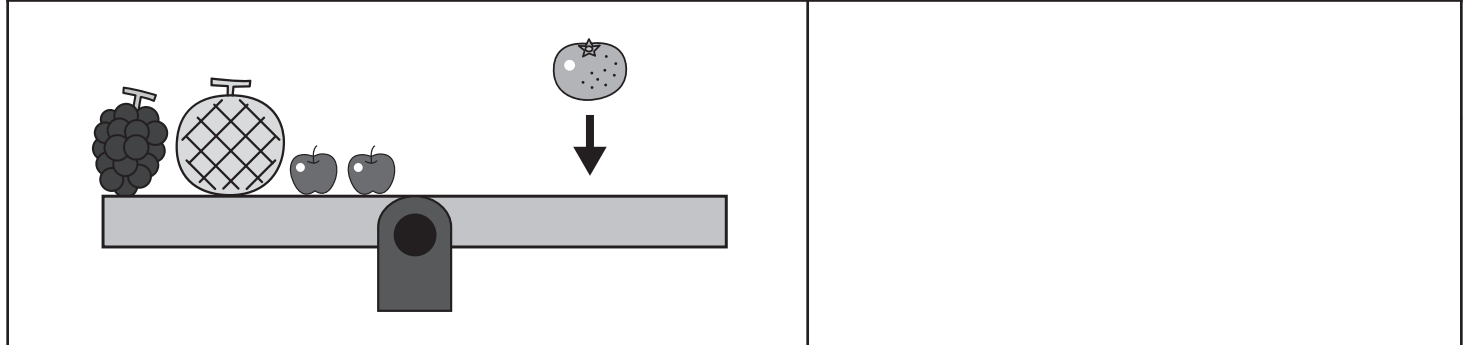
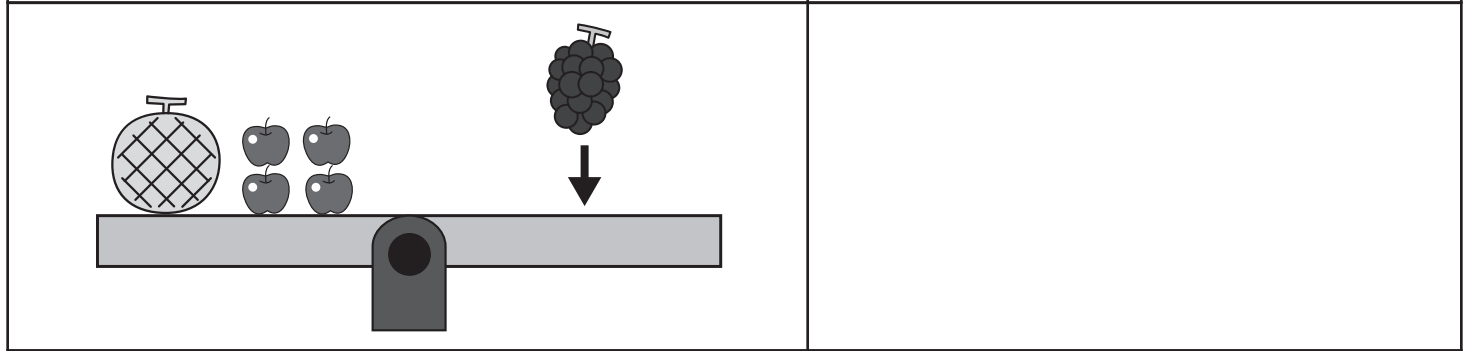
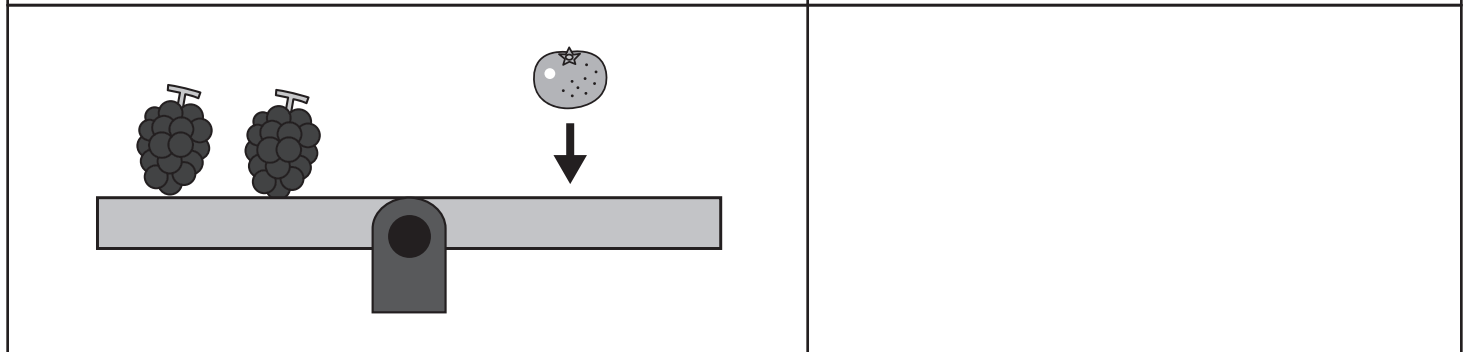
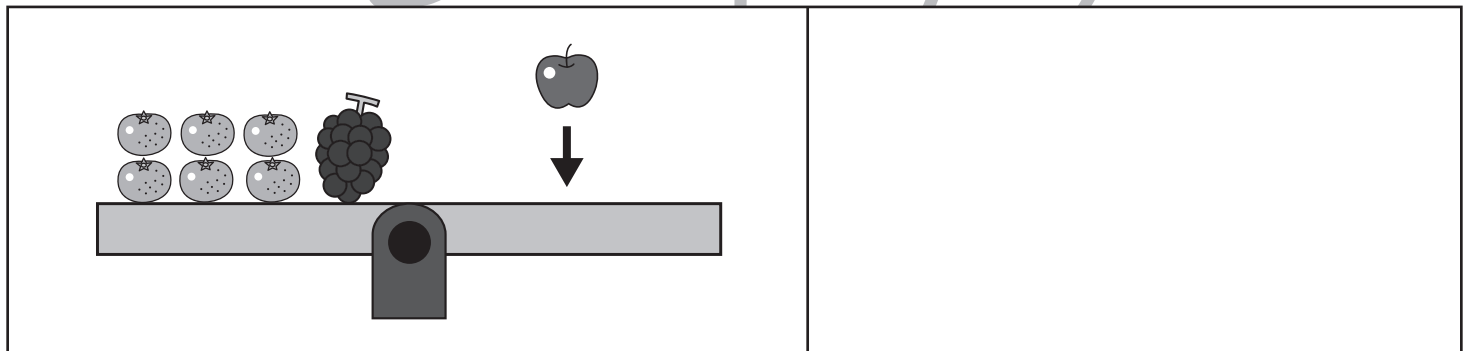
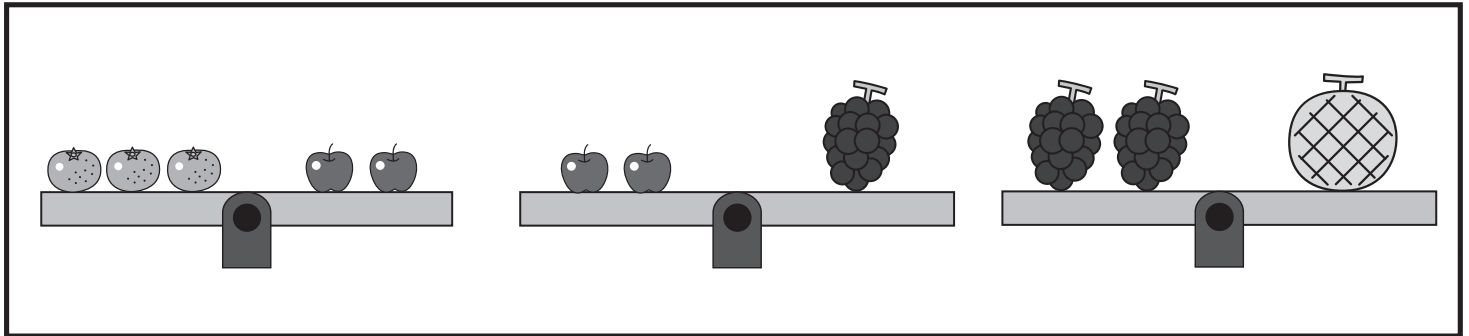
# おうちで、やろう。

Study at home. 小学校受験の家庭学習教材

## 推理：重さの置き換え 11

上の太い四角の中が約束です。

シーソーが釣り合うためには矢印の上の果物をいくつ乗せればよいかを考えて、その数だけ右の四角に○をかきます。



※1. このプリントは、しながわ・目黒こどもスクールのウェブサイトでダウンロードができます。無断複写・引用はご遠慮ください。

※2. このプリントを活用したオンライン授業のスケジュールは、しながわ・目黒こどもスクールのウェブサイトでご確認ください。





# おうちで、やろう。

Study at home. 小学校受験の家庭学習教材

数量：長さ 1

上の太い四角の中の棒の長さがお手本です。下の四角の棒の長さを合わせてお手本と同じ長さになるものを下の四角の中から選び○をつけます。

A large rectangle containing a thick gray bar that spans 7 segments of the ruler below it.

A ruler with 5 equal segments. Three gray bars are shown: one 1 segment long, one 2 segments long, and one 3 segments long.

A ruler with 5 equal segments. Three gray bars are shown: one 3 segments long, one 4 segments long, and one 5 segments long.

A ruler with 5 equal segments. Three gray bars are shown: one 1 segment long, one 2 segments long, and one 5 segments long.

A ruler with 5 equal segments. Three gray bars are shown: one 3 segments long, one 2 segments long, and one 4 segments long.

A ruler with 5 equal segments. Three gray bars are shown: one 3 segments long, one 2 segments long, and one 4 segments long.

A ruler with 5 equal segments. Three gray bars are shown: one 4 segments long, one 3 segments long, and one 1 segment long.

※1. このプリントは、しながわ・目黒こどもスクールのウェブサイトでダウンロードができます。無断複写・引用はご遠慮ください。  
 ※2. このプリントを活用したオンライン授業のスケジュールは、しながわ・目黒こどもスクールのウェブサイトでご確認ください。





# おうちで、やろう。

Study at home. 小学校受験の家庭学習教材

数量：長さ2

上の太い四角の中の棒の長さがお手本です。下の四角の棒の長さを合わせてお手本と同じ長さになるものを下の四角の中から選び○をつけます。

※1. このプリントは、しながわ・目黒こどもスクールのウェブサイトでダウンロードができます。無断複写・引用はご遠慮ください。  
 ※2. このプリントを活用したオンライン授業のスケジュールは、しながわ・目黒こどもスクールのウェブサイトでご確認ください。



# おうちで、やろう。

Study at home. 小学校受験の家庭学習教材

数量：長さ3

上の太い四角の中の棒の長さがお手本です。下の四角の棒の長さを合わせて2マス分短くして、お手本と同じ長さになるものを下の四角の中から選び○をつけます。

A large rectangular box containing a thick gray bar that spans 8 units on a ruler below it. The ruler has 10 equal segments marked by vertical lines.

A box containing three gray bars of different lengths: a short bar (4 units), a long bar (8 units), and a medium bar (2 units). Below them is a 10-unit ruler.

A box containing three gray bars: a long bar (9 units), a short bar (3 units), and a medium-long bar (7 units). Below them is a 10-unit ruler.

A box containing three gray bars: a medium-long bar (6 units), a short bar (4 units), and a medium-long bar (7 units). Below them is a 10-unit ruler.

A box containing three gray bars: a short bar (5 units), a very short bar (2 units), and a long bar (9 units). Below them is a 10-unit ruler.

A box containing three gray bars: a short bar (3 units), a short bar (4 units), and a long bar (8 units). Below them is a 10-unit ruler.

A box containing three gray bars: a medium-long bar (6 units), a short bar (2 units), and a medium-long bar (7 units). Below them is a 10-unit ruler.

※1. このプリントは、しながわ・目黒こどもスクールのウェブサイトでダウンロードができます。無断複写・引用はご遠慮ください。  
 ※2. このプリントを活用したオンライン授業のスケジュールは、しながわ・目黒こどもスクールのウェブサイトでご確認ください。

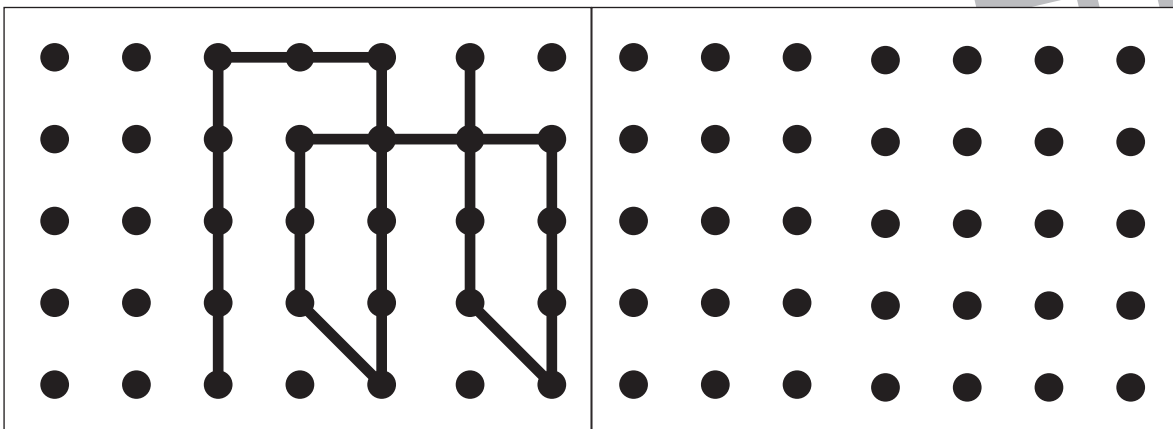
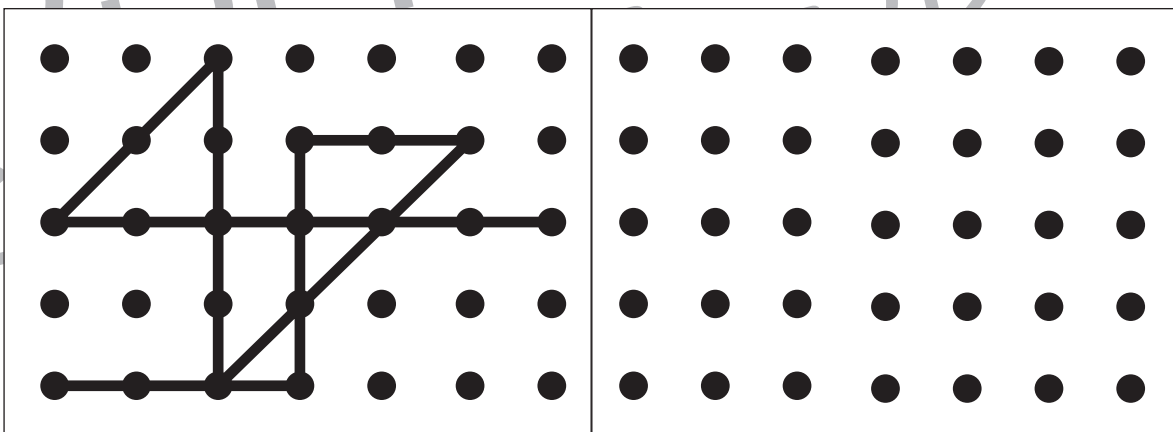
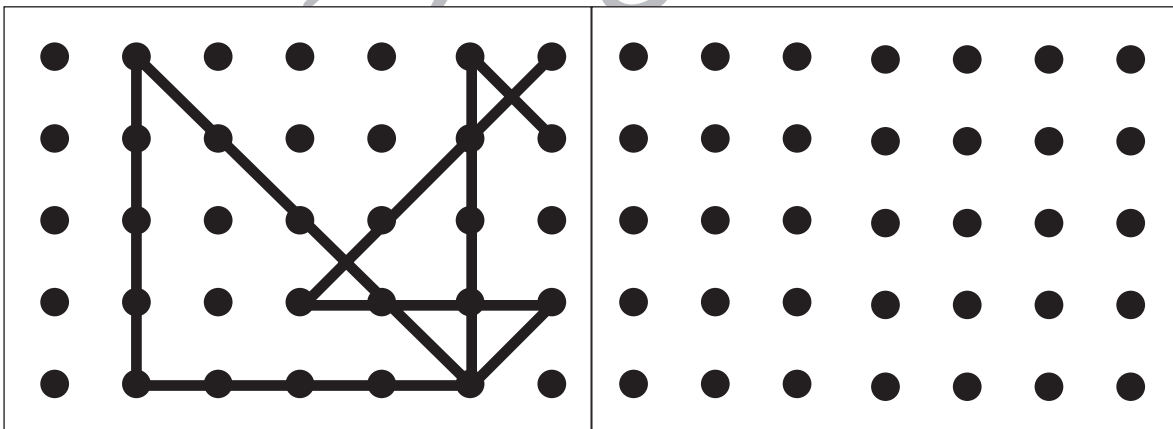
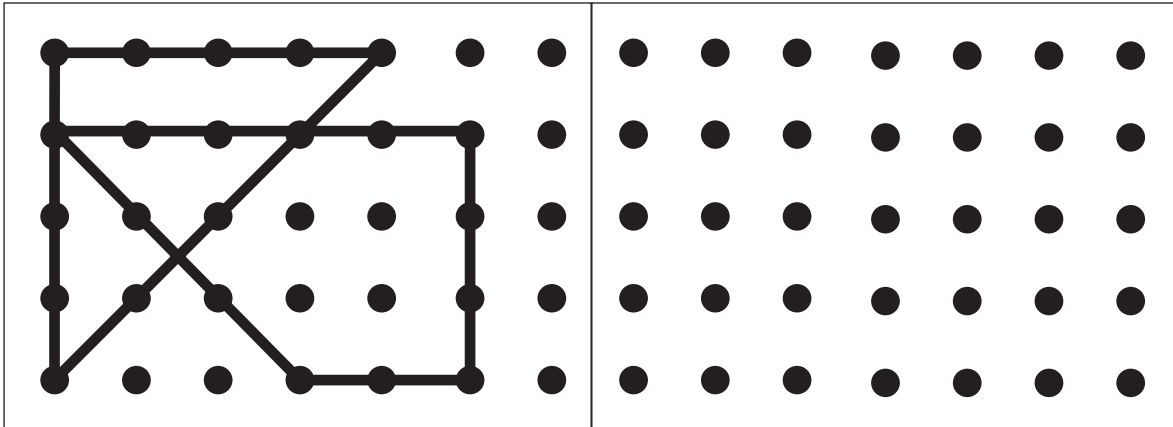


# おうちで、やろう。

Study at home. 小学校受験の家庭学習教材

## 図形：点図形 25

左のお手本と同じになるように右の点と点を結びます。 ※このプリントに解答はありません。



※1. このプリントは、しながわ・目黒こどもスクールのウェブサイトでダウンロードができます。無断複写・引用はご遠慮ください。  
 ※2. このプリントを活用したオンライン授業のスケジュールは、しながわ・目黒こどもスクールのウェブサイトでご確認ください。