



おうちで、やろう。

Study at home. 小学校受験の家庭学習教材

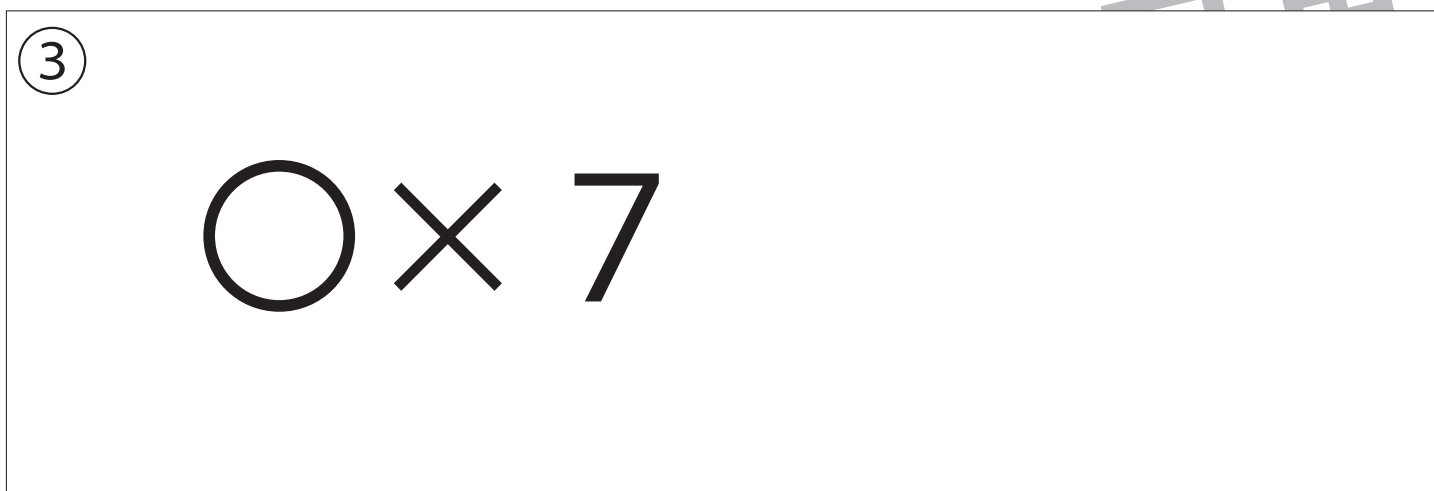
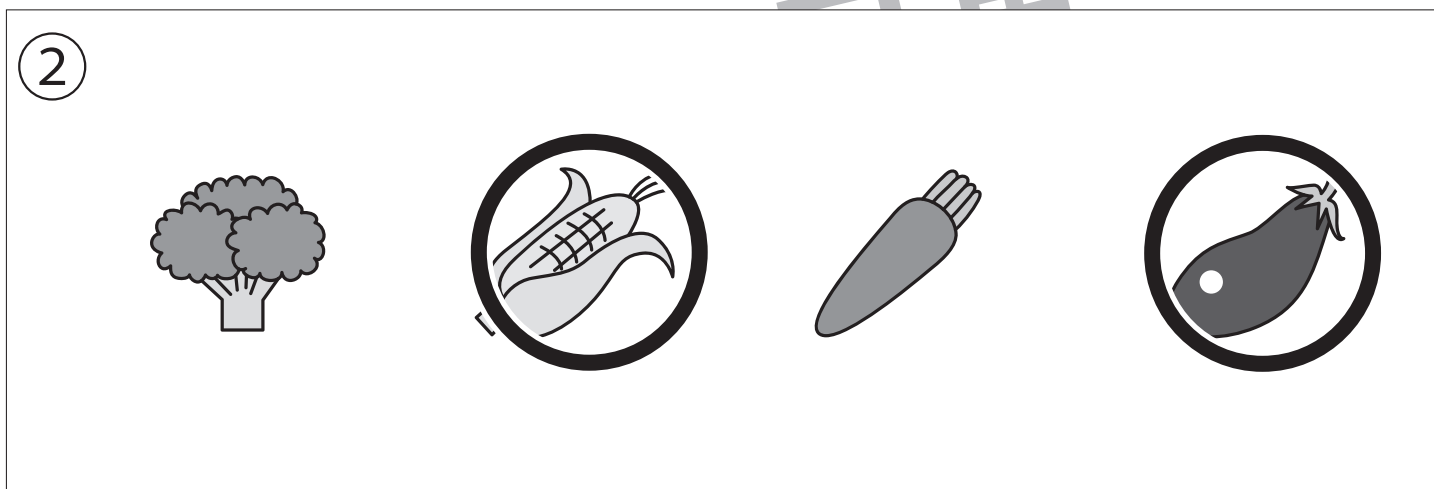
記憶：絵の記憶 22

別紙『記憶 - 絵の記憶 22 記憶用紙』を使用します。記憶用紙の形を見た後に①、②、③の問題に取り組みましょう。

①一番多い動物に○をつけます。

②野菜の数が4つのものすべてに○をつけます。

③一番多い果物の数だけ○をかきます。



※1. このプリントは、しながわ・目黒こどもスクールのウェブサイトからダウンロードできます。無断複写・引用はご遠慮ください。

※2. このプリントを活用したオンライン授業のスケジュールは、しながわ・目黒こどもスクールのウェブサイトでご確認ください。

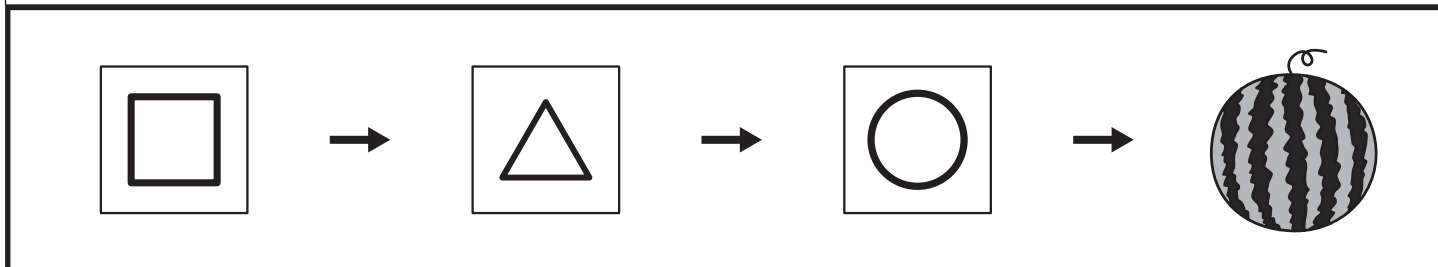

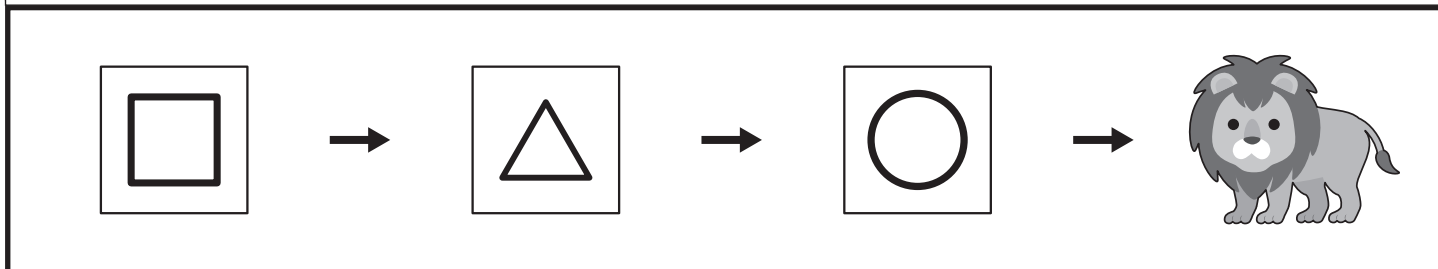
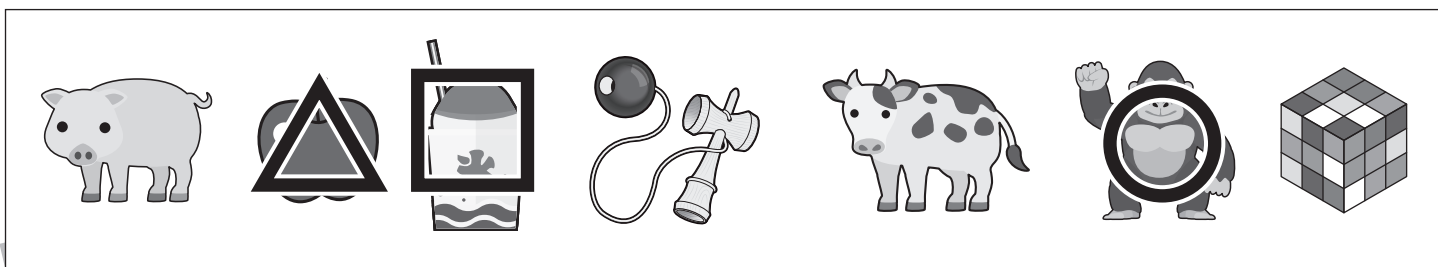
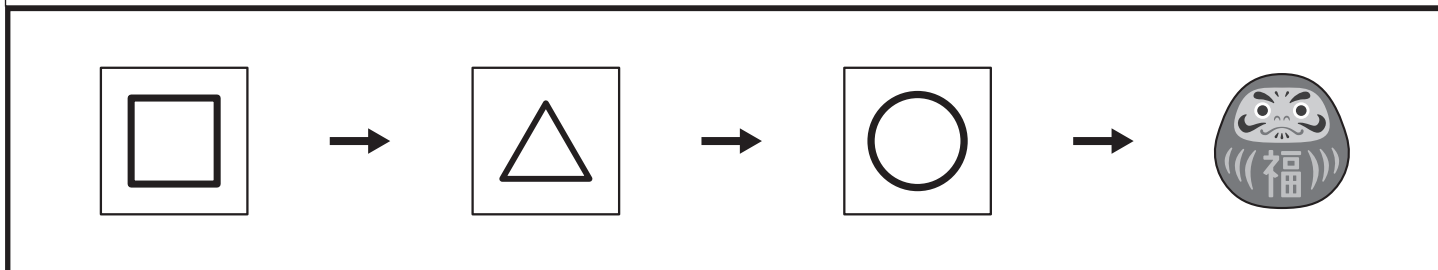



おうちで、やろう。

Study at home. 小学校受験の家庭学習教材

言語：しりとり 21

太い四角の中の順番でしりとりをします。口と△と○に当てはまるものを上の四角から選び、それぞれの記号をかきます。



※1. このプリントは、しながわ・目黒こどもスクールのウェブサイトからダウンロードできます。無断複写・引用はご遠慮ください。

※2. このプリントを活用したオンライン授業のスケジュールは、しながわ・目黒こどもスクールのウェブサイトでご確認ください。



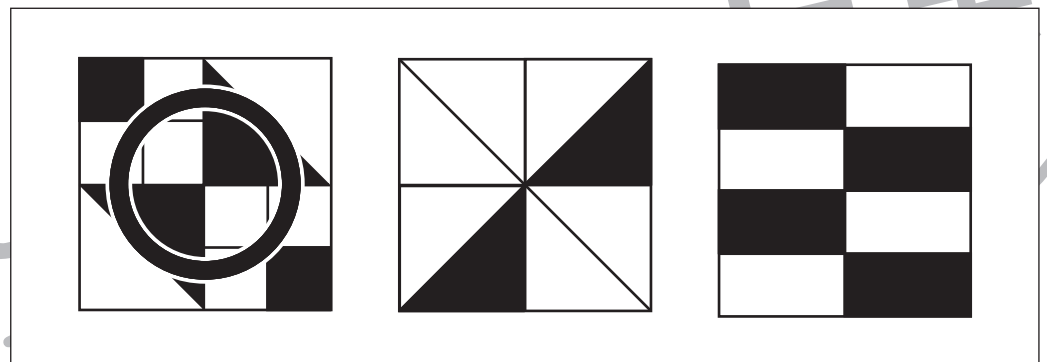



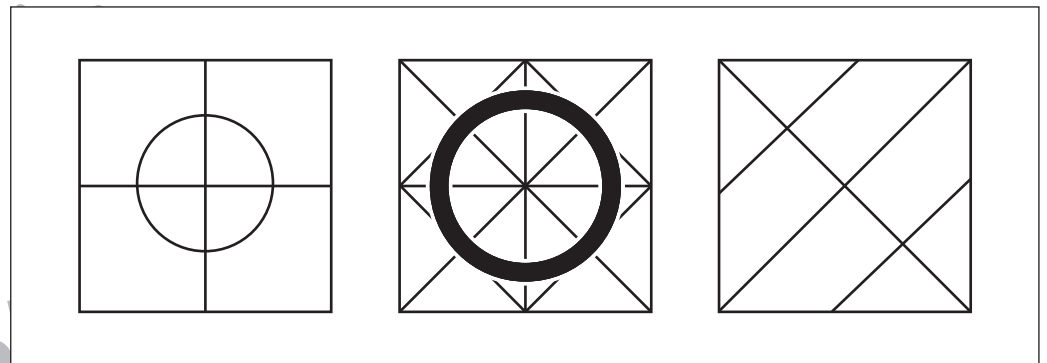
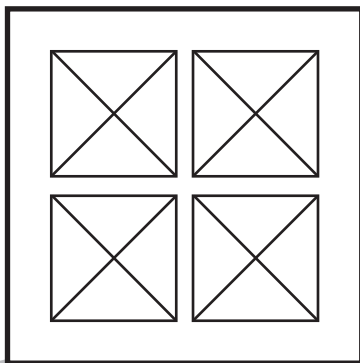
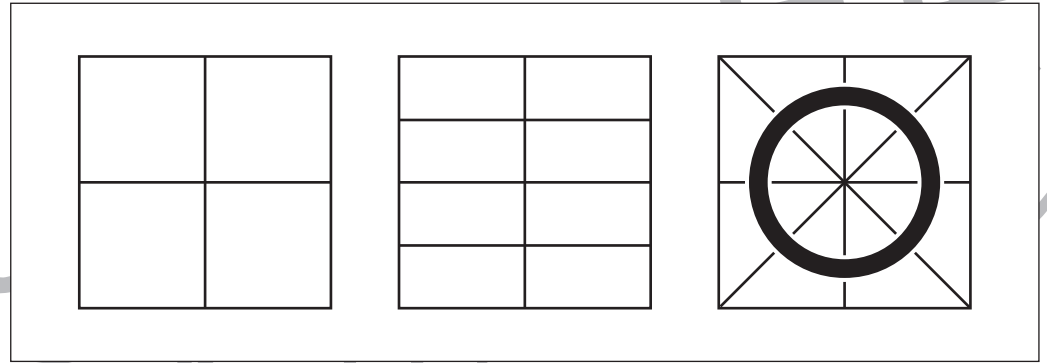
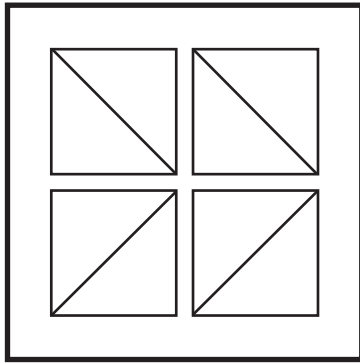


おうちで、やろう。

Study at home. 小学校受験の家庭学習教材

図形：構成 23

太い四角の中にある形を全て使って1つの形を作ります。作った後の形を左の四角の中から選び○をつけます。



※1. このプリントは、しながわ・目黒こどもスクールのウェブサイトでダウンロードができます。無断複写・引用はご遠慮ください。
※2. このプリントを活用したオンライン授業のスケジュールは、しながわ・目黒こどもスクールのウェブサイトでご確認ください。








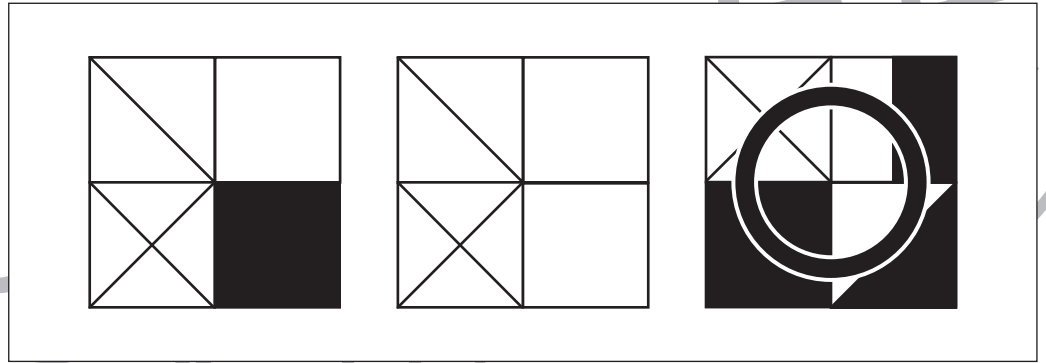
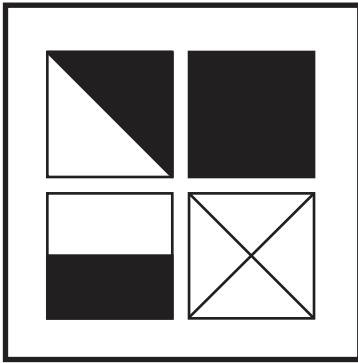


おうちで、やろう。

Study at home. 小学校受験の家庭学習教材

図形：構成 24

太い四角の中にある形を全て使って1つの形を作ります。作った後の形を左の四角の中から選び○をつけます。



※1. このプリントは、しながわ・目黒子どもスクールのウェブサイトでダウンロードができます。無断複写・引用はご遠慮ください。
※2. このプリントを活用したオンライン授業のスケジュールは、しながわ・目黒子どもスクールのウェブサイトでご確認ください。





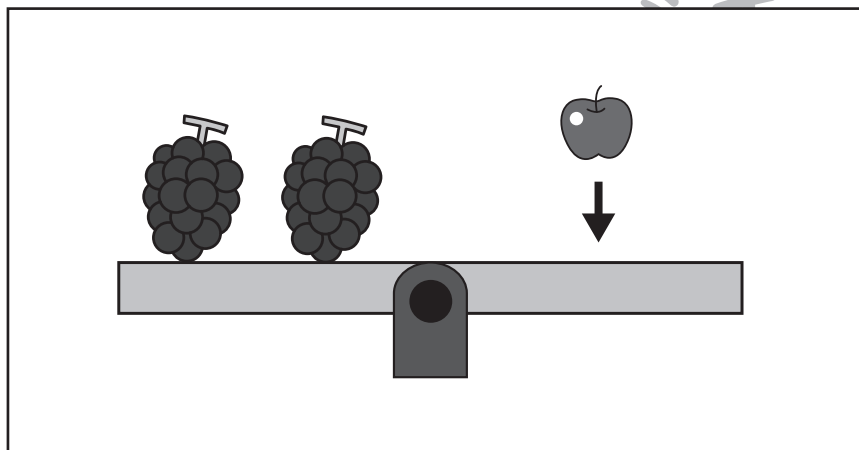

おうちで、やろう。

Study at home. 小学校受験の家庭学習教材

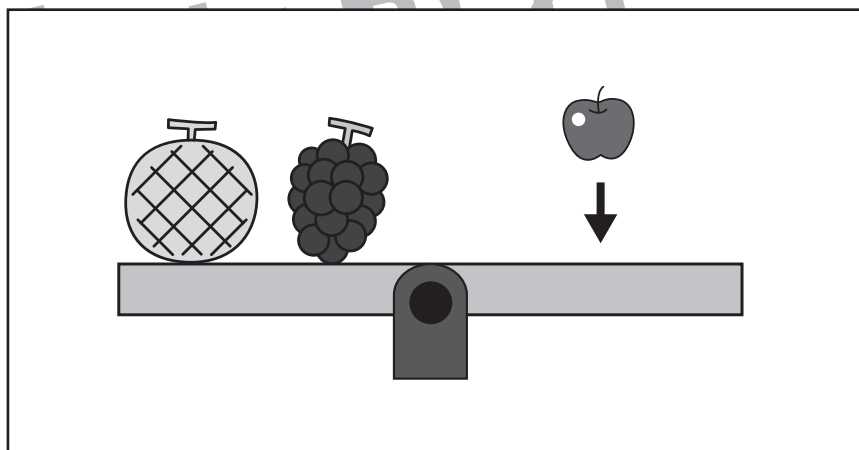
推理：重さの置き換え 10

上の太い四角の中が約束です。

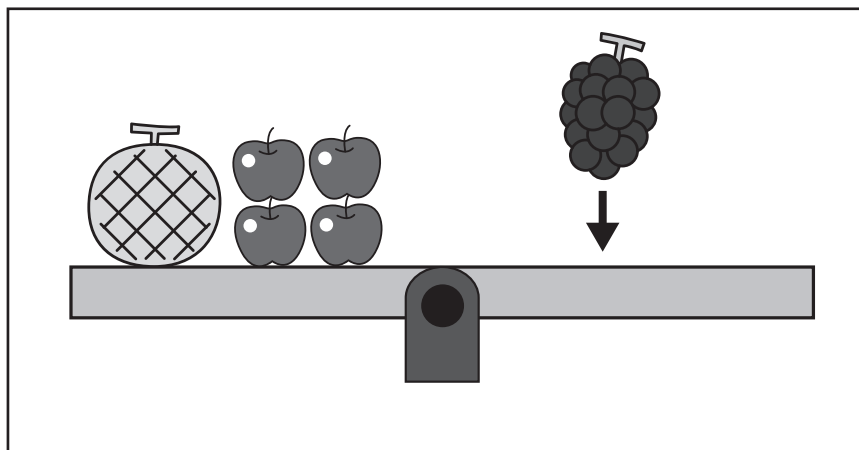
シーソーが釣り合うためには矢印上の果物をいくつ乗せればよいかを考えて、その数だけ右の四角に○をかきます。



$$\bigcirc \times 4$$



$$\bigcirc \times 8$$



$$\bigcirc \times 5$$

※1. このプリントは、しながわ・目黒こどもスクールのウェブサイトでダウンロードができます。無断複写・引用はご遠慮ください。

※2. このプリントを活用したオンライン授業のスケジュールは、しながわ・目黒こどもスクールのウェブサイトでご確認ください。



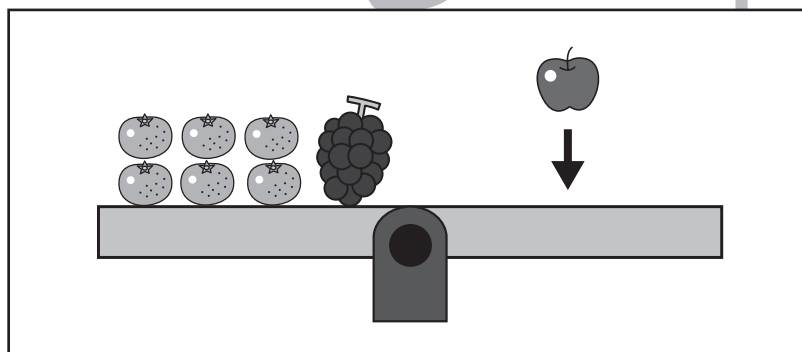
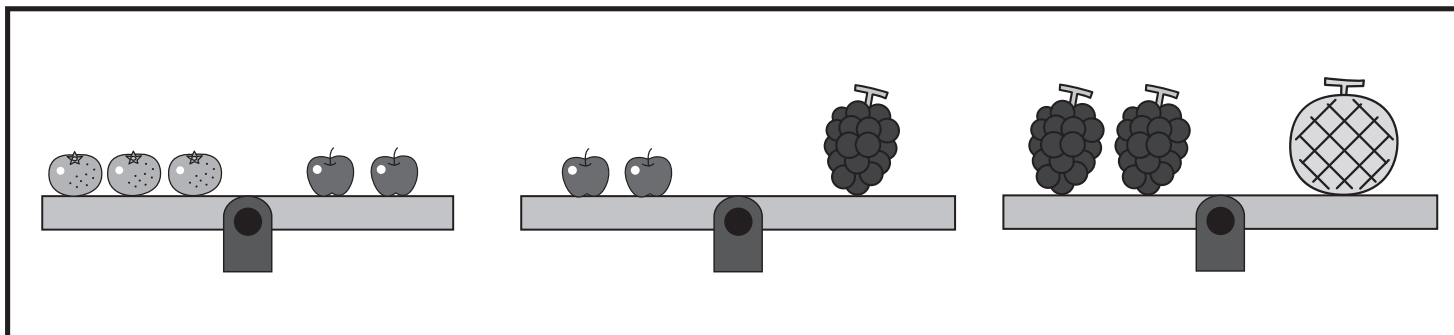
おうちで、やろう。

Study at home. 小学校受験の家庭学習教材

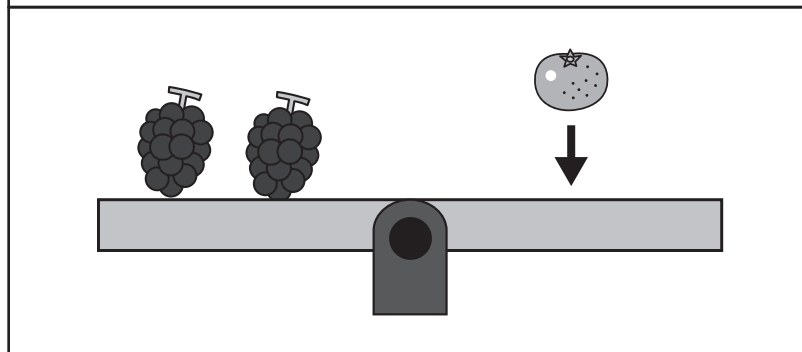
推理：重さの置き換え 11

上の太い四角の中が約束です。

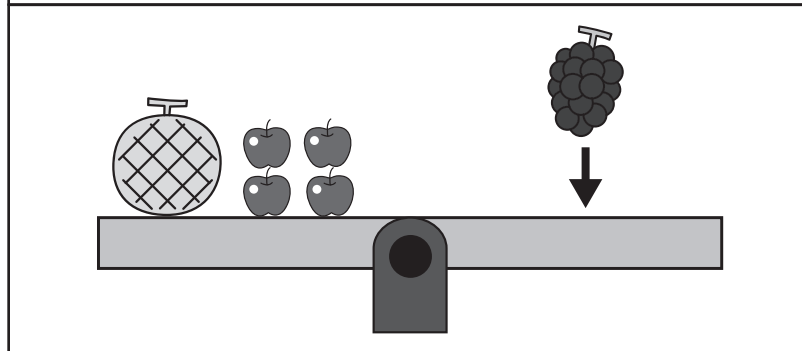
シーソーが釣り合うためには矢印の上の果物をいくつ乗せればよいかを考えて、その数だけ右の四角に○をかきます。



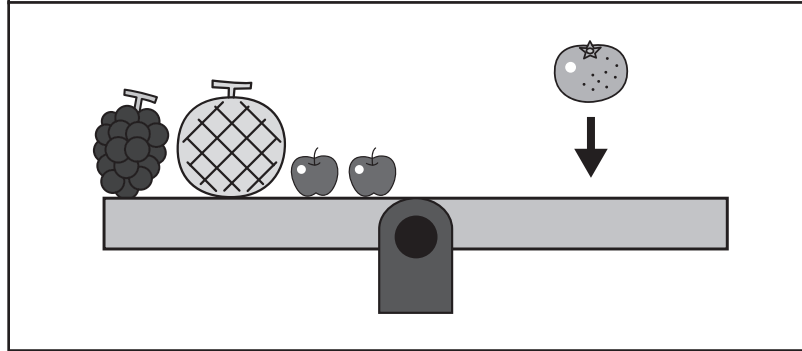
$$\bigcirc \times 6$$



$$\bigcirc \times 6$$



$$\bigcirc \times 4$$



$$\bigcirc \times 12$$

※1. このプリントは、しながわ・目黒こどもスクールのウェブサイトでダウンロードができます。無断複写・引用はご遠慮ください。

※2. このプリントを活用したオンライン授業のスケジュールは、しながわ・目黒こどもスクールのウェブサイトでご確認ください。





おうちで、やろう。

Study at home. 小学校受験の家庭学習教材

数量：長さ 1

上の太い四角の中の棒の長さがお手本です。下の四角の棒の長さを合わせてお手本と同じ長さになるものを下の四角の中から選び○をつけます。

A large rectangle containing a thick gray bar and a ruler below it. The ruler has 10 equal segments, each 1 unit long.

A ruler with 5 equal segments and three gray bars of different lengths: one is 1 unit long, one is 2 units long, and one is 3 units long.

A ruler with 5 equal segments and four gray bars. The bar that is 3 units long is circled with a thick black circle.

A ruler with 5 equal segments and four gray bars. The bar that is 2 units long is circled with a thick black circle.

A ruler with 5 equal segments and three gray bars of different lengths: one is 2 units long, one is 3 units long, and one is 4 units long.

A ruler with 5 equal segments and four gray bars. The bar that is 2 units long is circled with a thick black circle.

A ruler with 5 equal segments and three gray bars of different lengths: one is 4 units long, one is 3 units long, and one is 2 units long.

※1. このプリントは、しながわ・目黒こどもスクールのウェブサイトでダウンロードができます。無断複写・引用はご遠慮ください。
 ※2. このプリントを活用したオンライン授業のスケジュールは、しながわ・目黒こどもスクールのウェブサイトでご確認ください。



おうちで、やろう。

Study at home. 小学校受験の家庭学習教材

数量：長さ2

上の太い四角の中の棒の長さがお手本です。下の四角の棒の長さを合わせてお手本と同じ長さになるものを下の四角の中から選び○をつけます。

A large rectangle containing a thick gray horizontal bar at the top. Below it is a ruler with 10 equal segments, each marked with a vertical line.

A box containing three horizontal gray bars of different lengths. The middle bar is circled in black. Below the bars is a ruler with 5 equal segments.

A box containing three horizontal gray bars of different lengths. The shortest bar on the left is circled in black. Below the bars is a ruler with 5 equal segments.

A box containing three horizontal gray bars of different lengths. The longest bar is circled in black. Below the bars is a ruler with 5 equal segments.

A box containing three horizontal gray bars of different lengths. The longest bar is circled in black. Below the bars is a ruler with 5 equal segments.

A box containing three horizontal gray bars of different lengths. The longest bar is circled in black. Below the bars is a ruler with 5 equal segments.

A box containing three horizontal gray bars of different lengths. The longest bar is circled in black. Below the bars is a ruler with 5 equal segments.

※1. このプリントは、しながわ・目黒こどもスクールのウェブサイトでダウンロードができます。無断複写・引用はご遠慮ください。
 ※2. このプリントを活用したオンライン授業のスケジュールは、しながわ・目黒こどもスクールのウェブサイトでご確認ください。



おうちで、よろう。

Study at home. 小学校受験の家庭学習教材

数量：長さ3

上の太い四角の中の棒の長さがお手本です。下の四角の棒の長さを合わせて2マス分短くして、お手本と同じ長さになるものを下の四角の中から選び○をつけます。

A large rectangular box containing a thick gray bar that spans 8 units on a ruler below it. The ruler has 10 equal segments.

A box containing three gray bars of different lengths: a short bar (3 units), a long bar (8 units), and a medium bar (2 units). Below them is a 10-unit ruler.

A box containing three gray bars: a long bar (9 units), a short bar (3 units), and a medium bar (8 units). Below them is a 10-unit ruler.

A box containing three gray bars: a medium bar (4 units), a short bar (2 units), and a long bar (6 units). Below them is a 10-unit ruler.

A box containing three gray bars: a short bar (3 units), a medium bar (4 units), and a long bar (8 units). The 3-unit bar is circled with a thick black circle. Below them is a 10-unit ruler.

A box containing three gray bars: a short bar (2 units), a medium bar (3 units), and a long bar (8 units). Below them is a 10-unit ruler.

A box containing three gray bars: a medium bar (4 units), a short bar (2 units), and a long bar (6 units). Below them is a 10-unit ruler.

※1. このプリントは、しながわ・目黒こどもスクールのウェブサイトでダウンロードができます。無断複写・引用はご遠慮ください。
 ※2. このプリントを活用したオンライン授業のスケジュールは、しながわ・目黒こどもスクールのウェブサイトでご確認ください。