



おうちで、やろう。

Study at home. 小学校受験の家庭学習教材

常識：なぞなぞ 4

①～④のなぞなぞをとりて、答えに○をつけましょう。


① 【れいんこーと】の なかに かくれている どうぶつは なんでしょう。

② 【おくりもの】の なかに はいっている たべものは なんでしょう。


③ ひっくりかえると かるくなる いきものは なんでしょう。

④ がよろしに えを かこうとしたら さいしょから どうぶつがいました。その どうぶつは なんでしょう。


①




②



③



④



※1. このプリントは、しながわ・目黒こどもスクールのウェブサイトでダウンロードができます。無断複写・引用はご遠慮ください。

※2. このプリントを活用したオンライン授業のスケジュールは、しながわ・目黒こどもスクールのウェブサイトでご確認ください。





おうちで、やろう。

Study at home. 小学校受験の家庭学習教材

常識：なぞなぞ5

①～④のなぞなぞをとりて、答えに○をつけましょう。


① すぐに おうちに かえってしまう どうぶつは なんでしょう。

② かいが さかだちしたら ちがういきものに なりました。この いきものは なんでしょう。

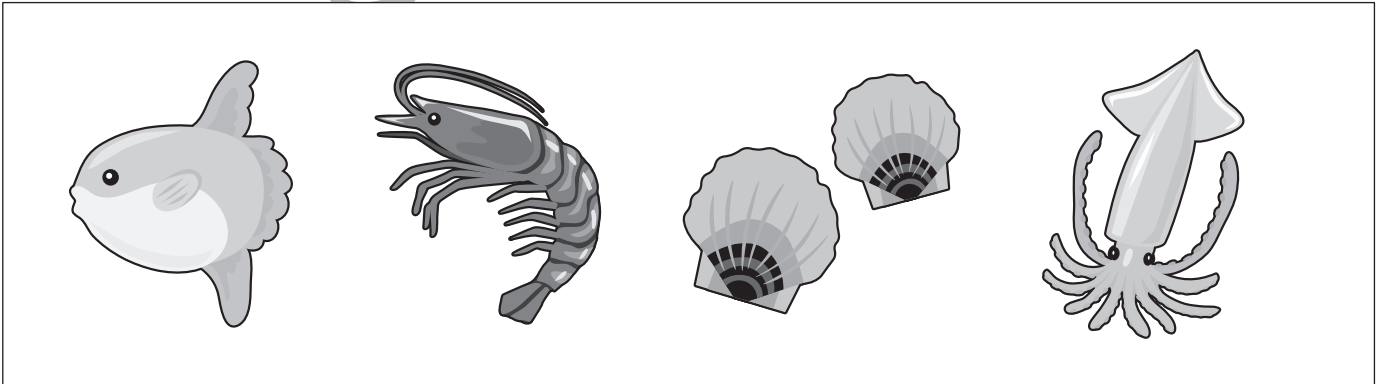
③ 7と 9の あいだにいる むしは なんでしょう。

④ うみの いきものが かくれている たべものは どれでしょう。


①




②



③



④



※1. このプリントは、しながわ・目黒こどもスクールのウェブサイトダウンロードができます。無断複写・引用はご遠慮ください。

※2. このプリントを活用したオンライン授業のスケジュールは、しながわ・目黒こどもスクールのウェブサイトでご確認ください。





おうちで、やろう。

Study at home. 小学校受験の家庭学習教材

常識：なぞなぞ6

①～④のなぞなぞをとりて、答えに○をつけましょう。


① もりはもりでも くらいもりに すんでいる いきもの もりは なんでしょう。

② なまえを ならびかえると きつきつになる とりは なんでしょう。


③ あしの どこかに かくれている くだものは なんでしょう。

④ くりすますに かくれている いきものは なんでしょう。

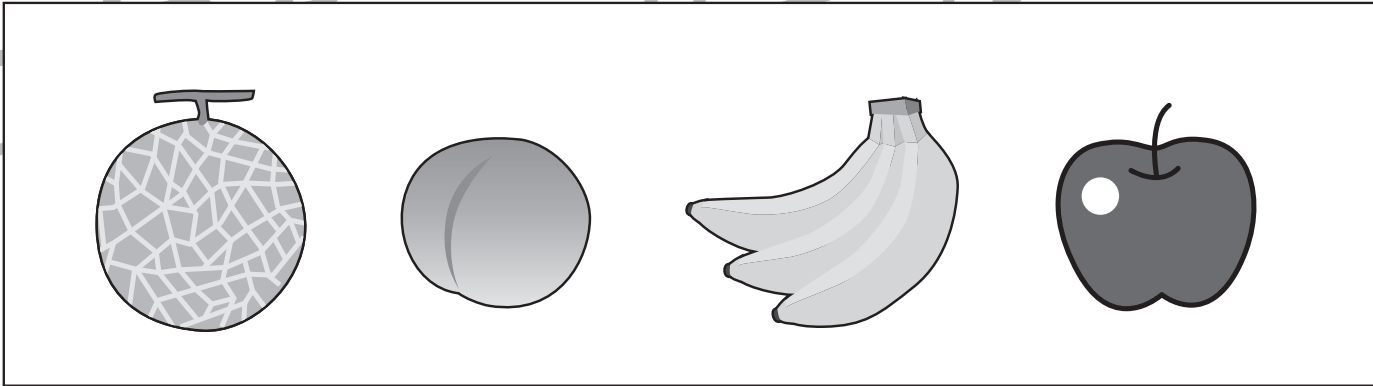
①




②



③



④



※1. このプリントは、しながわ・目黒こどもスクールのウェブサイトでダウンロードができます。無断複写・引用はご遠慮ください。

※2. このプリントを活用したオンライン授業のスケジュールは、しながわ・目黒こどもスクールのウェブサイトでご確認ください。



おうちで、やろう。

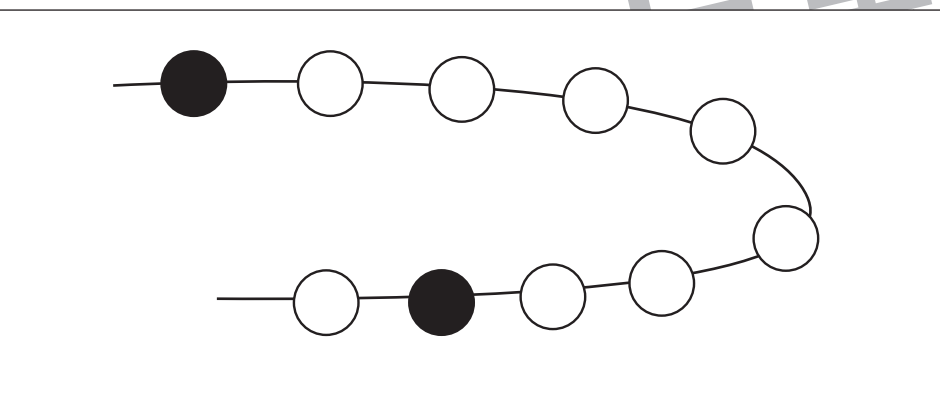
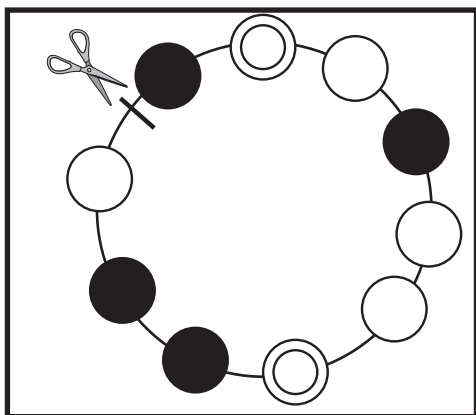
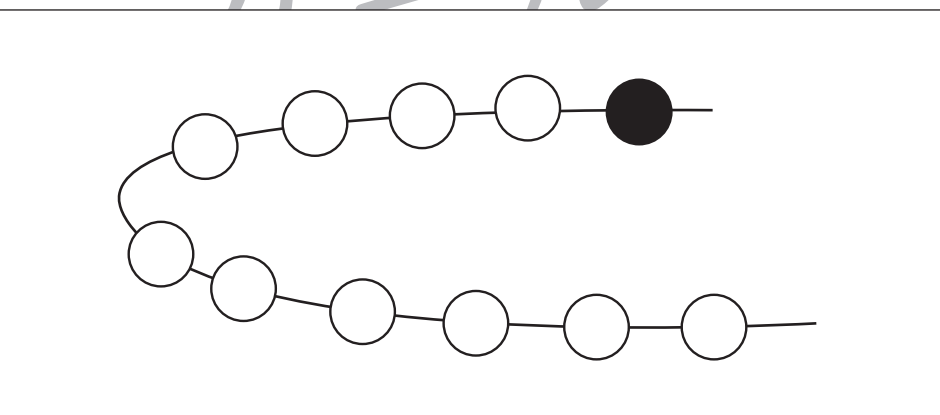
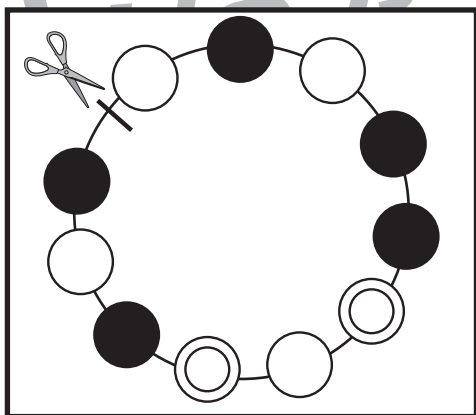
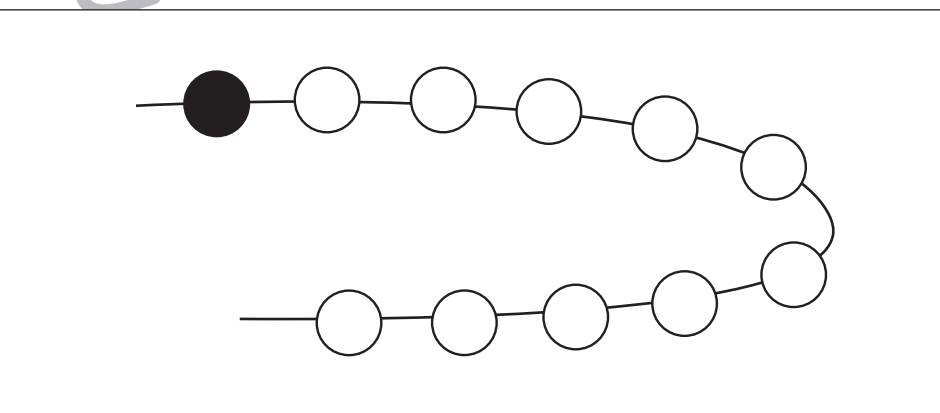
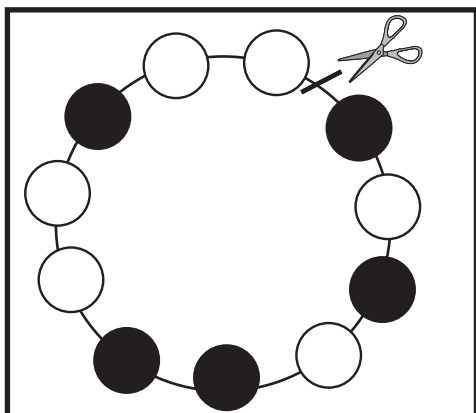
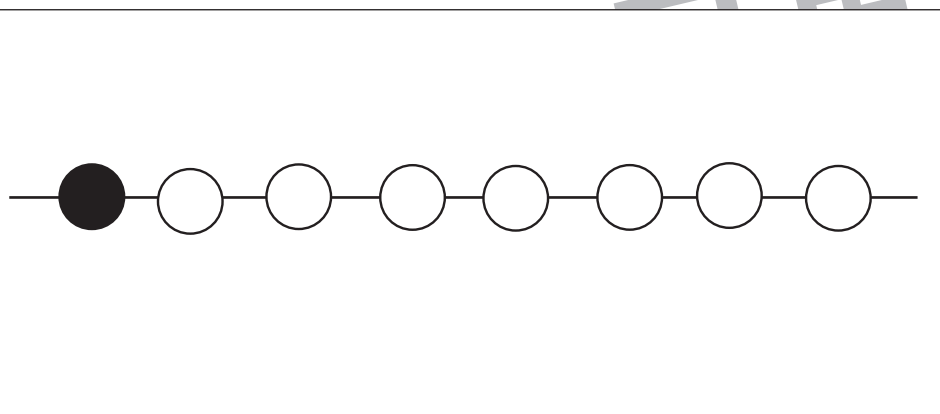
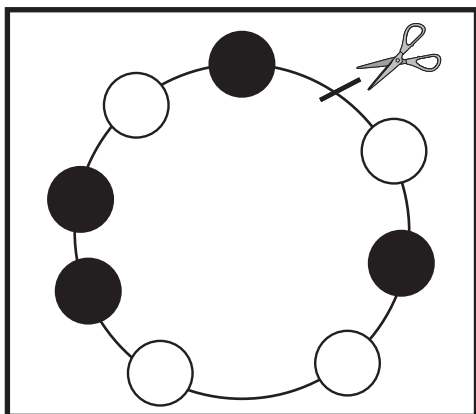
Study at home. 小学校受験の家庭学習教材

推理：輪つなぎ6

左の四角の中は白・黒・丸い模様のビーズでできたプレスレットです。このプレスレットをはさみで線の場所を切りました。

切ったあと、右のように並べたとき、黒と丸い模様のビーズはどこになりますか。

黒いビーズをえんぴつで塗り、丸い模様を赤のクーピーで描きます。



※1. このプリントは、しながわ・目黒こどもスクールのウェブサイトでダウンロードができます。無断複写・引用はご遠慮ください。

※2. このプリントを活用したオンライン授業のスケジュールは、しながわ・目黒こどもスクールのウェブサイトでご確認ください。


























おうちで、やろう。














Study at home. 小学校受験の家庭学習教材











数量：隠れた数4

それぞれの四角の中のマスには同じ動物がいます。灰色で隠れている場所にいる動物の数を考えて、その数だけ下の太い四角の中に○をかきます。

※1. このプリントは、しながわ・目黒こどもスクールのウェブサイトでダウンロードができます。無断複写・引用はご遠慮ください。
※2. このプリントを活用したオンライン授業のスケジュールは、しながわ・目黒こどもスクールのウェブサイトでご確認ください。


























おうちで、やろう。










Study at home. 小学校受験の家庭学習教材











数量：隠れた数5

それぞれの四角の中のマスには同じ動物がいます。灰色で隠れている場所にいる動物の数を考えて、その数だけ下の太い四角の中に○をかきます。

※1. このプリントは、しながわ・目黒こどもスクールのウェブサイトからダウンロードできます。無断複写・引用はご遠慮ください。

※2. このプリントを活用したオンライン授業のスケジュールは、しながわ・目黒こどもスクールのウェブサイトでご確認ください。









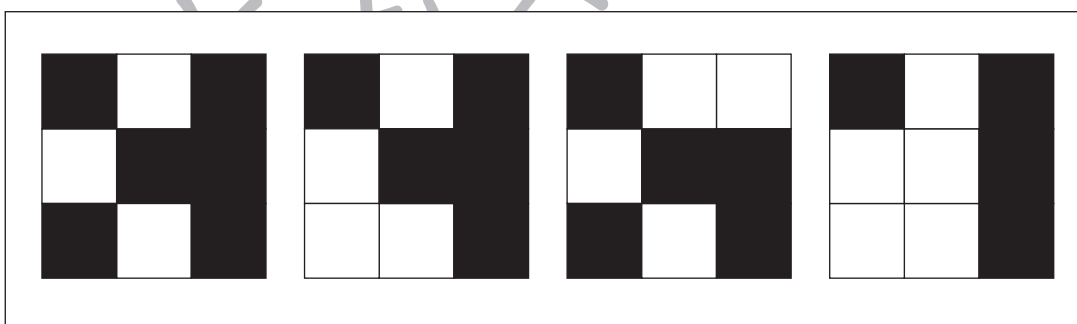
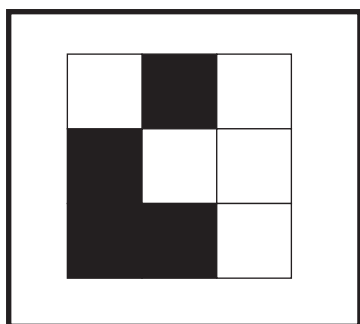
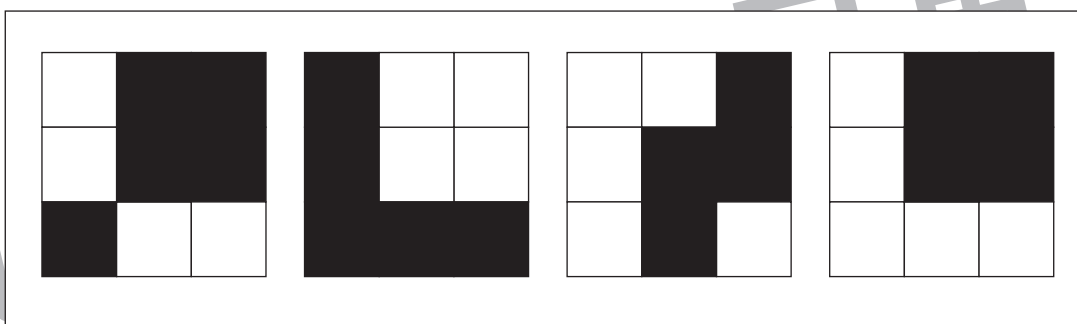
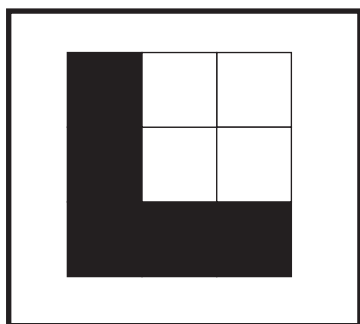


おうちで、やろう。

Study at home. 小学校受験の家庭学習教材

図形：置き換え5

左の四角の中がお手本の形です。このお手本の黒い四角を白い四角にかえます。白い四角は黒い四角にかえます。この約束で色をかえたとき、正しいものを右の4つの中から選んで○をつけます。



※1. このプリントは、しながわ・目黒こどもスクールのウェブサイトでダウンロードができます。無断複写・引用はご遠慮ください。

※2. このプリントを活用したオンライン授業のスケジュールは、しながわ・目黒こどもスクールのウェブサイトでご確認ください。








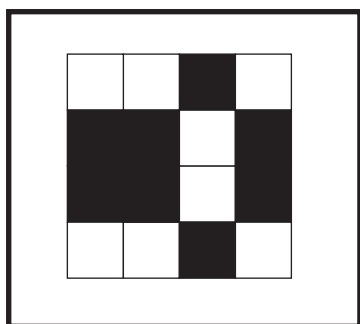
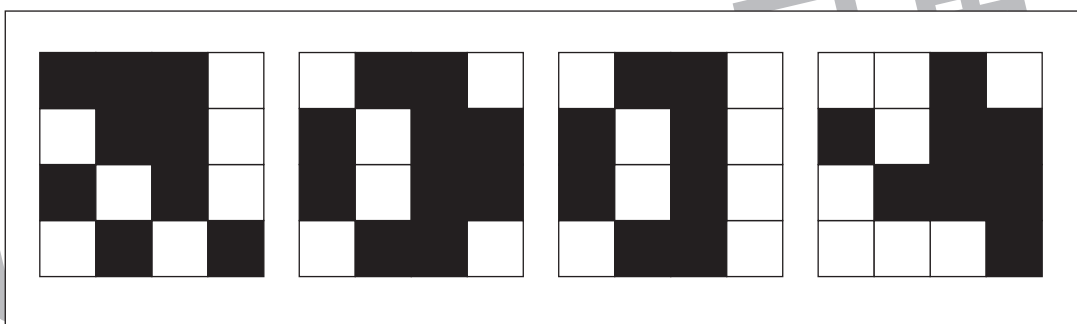



おうちで、やろう。

Study at home. 小学校受験の家庭学習教材

図形：置き換え6

左の四角の中がお手本の形です。このお手本の黒い四角を白い四角にかえます。白い四角は黒い四角にかえます。この約束で色をかえたとき、正しいものを右の4つの中から選んで○をつけます。



※1. このプリントは、しながわ・目黒こどもスクールのウェブサイトでダウンロードができます。無断複写・引用はご遠慮ください。

※2. このプリントを活用したオンライン授業のスケジュールは、しながわ・目黒こどもスクールのウェブサイトでご確認ください。





おうちで、やろう。

Study at home. 小学校受験の家庭学習教材

図形：点図形 19

左のお手本と同じになるように右の四角に線をかきます。 ※このプリントに解答はありません。

※1. このプリントは、しながわ・目黒こどもスクールのウェブサイトでダウンロードができます。無断複写・引用はご遠慮ください。

※2. このプリントを活用したオンライン授業のスケジュールは、しながわ・目黒こどもスクールのウェブサイトでご確認ください。

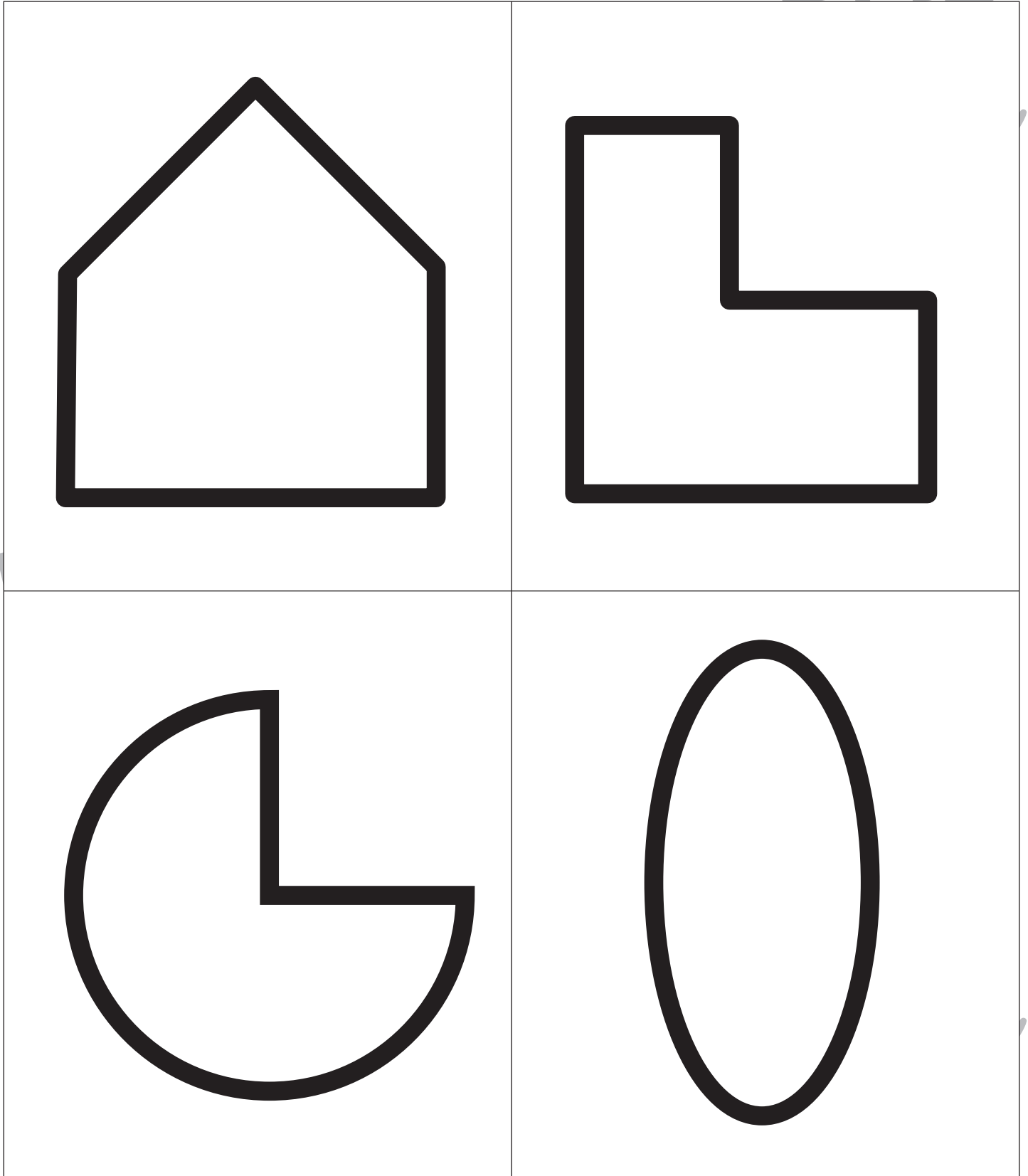


おうちで、やろう。

Study at home. 小学校受験の家庭学習教材

巧緻性：ちぎり 14

- ①黒い四角の線をハサミで切ります。
- ②黒い太い線の真ん中をちぎります。



※1. このプリントは、しながわ・目黒こどもスクールのウェブサイトからダウンロードができます。無断複写・引用はご遠慮ください。
※2. このプリントを活用したオンライン授業のスケジュールは、しながわ・目黒こどもスクールのウェブサイトでご確認ください。