

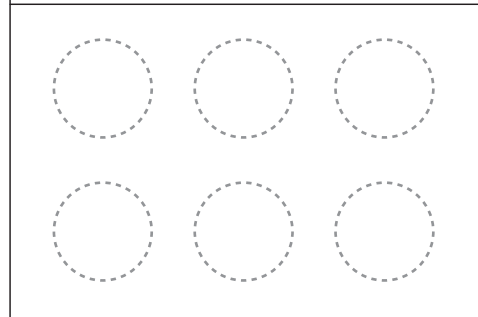
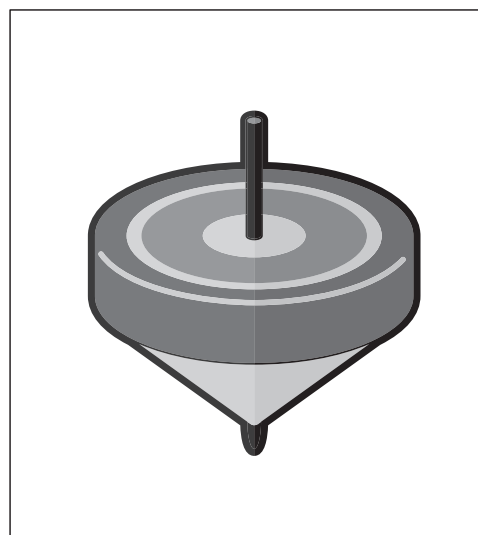
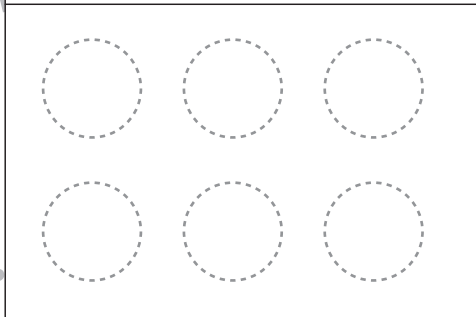

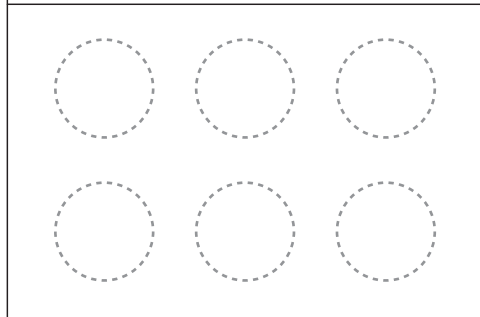

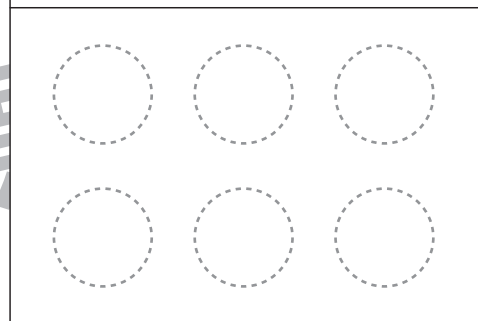
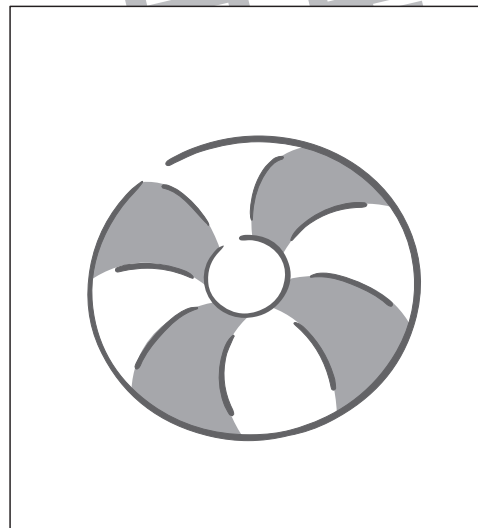
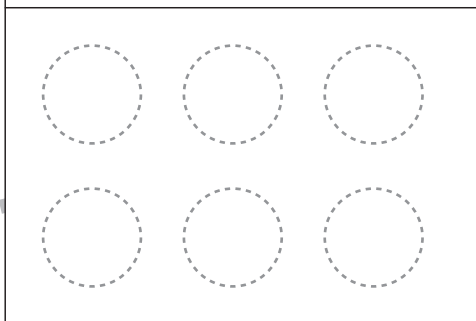

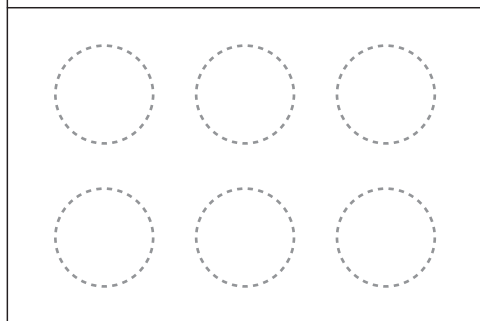
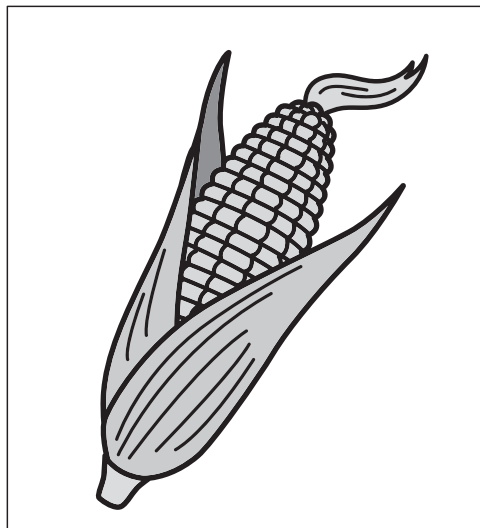


おうちで、やろう。

Study at home. 小学校受験の家庭学習教材

言語：音の数 13

それぞれの名前の音の数だけ下の○をなぞります。



※1. このプリントは、しながわ・目黒こどもスクールのウェブサイトからダウンロードできます。無断複写・引用はご遠慮ください。

※2. このプリントを活用したオンライン授業のスケジュールは、しながわ・目黒こどもスクールのウェブサイトでご確認ください。

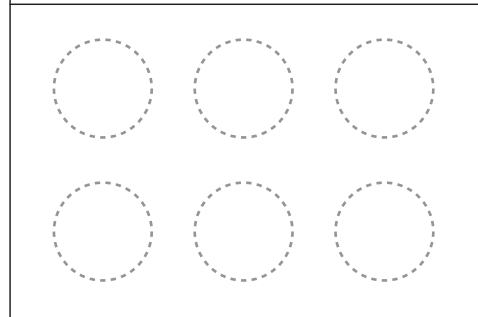
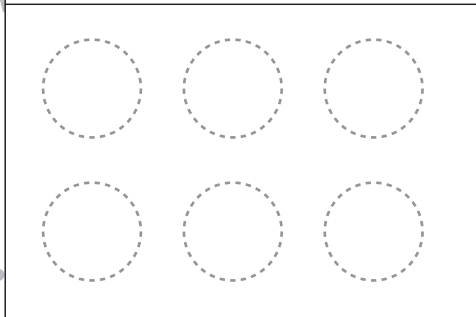
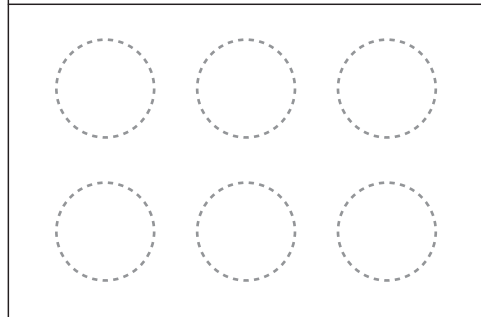
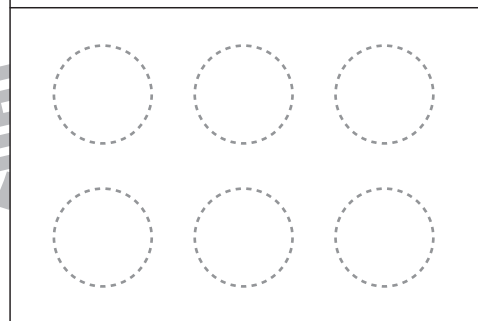

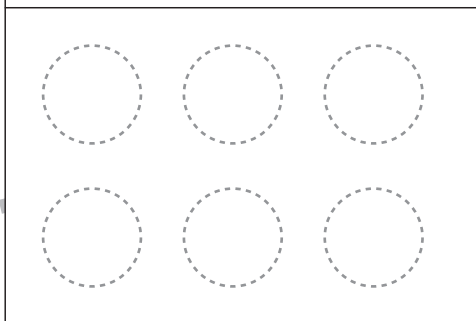
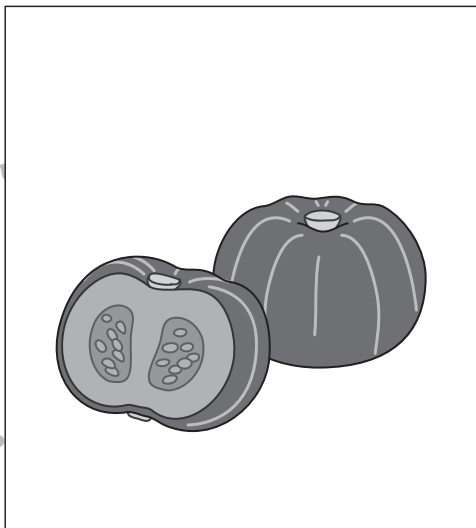
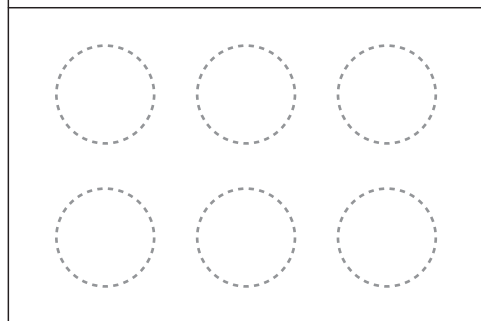



おうちで、やろう。

Study at home. 小学校受験の家庭学習教材

言語：音の数 14

それぞれの名前の音の数だけ下の○をなぞります。



※1. このプリントは、しながわ・目黒こどもスクールのウェブサイトからダウンロードできます。無断複写・引用はご遠慮ください。

※2. このプリントを活用したオンライン授業のスケジュールは、しながわ・目黒こどもスクールのウェブサイトでご確認ください。


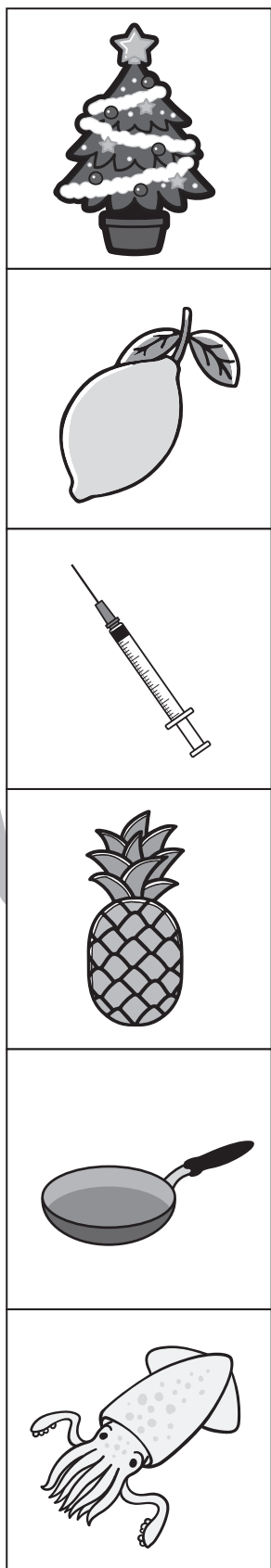


おうちで、やろう。

Study at home. 小学校受験の家庭学習教材

言語：音の理解 9

左の絵のはじめから2番目の音と、右の絵の最後の音が同じものを見つけて、点と点を線でむすびます。



しながわ
こどもスク
がわ・目黒
もスクール
しながわ
こどもスク

※1. このプリントは、しながわ・目黒こどもスクールのウェブサイトでダウンロードができます。無断複写・引用はご遠慮ください。
 ※2. このプリントを活用したオンライン授業のスケジュールは、しながわ・目黒こどもスクールのウェブサイトでご確認ください。



おうちで、よろう。

Study at home. 小学校受験の家庭学習教材

図形：移動 13

黒い星からスタートして、矢印の方向にマスを進みます。最後に着いたマスを塗ります。矢印は左から順番に見ます。



				★



			★		

※1. このプリントは、しながわ・目黒こどもスクールのウェブサイトでダウンロードができます。無断複写・引用はご遠慮ください。

※2. このプリントを活用したオンライン授業のスケジュールは、しながわ・目黒こどもスクールのウェブサイトでご確認ください。



おうちで、よろう。

Study at home. 小学校受験の家庭学習教材

図形：移動 14

白い星からスタートして、矢印の方向にマスを進みます。最後に着いたマスを塗ります。矢印は左から順番に見ます。



				★
				☆



	★				
			☆		

※1. このプリントは、しながわ・目黒こどもスクールのウェブサイトでダウンロードができます。無断複写・引用はご遠慮ください。
 ※2. このプリントを活用したオンライン授業のスケジュールは、しながわ・目黒こどもスクールのウェブサイトでご確認ください。

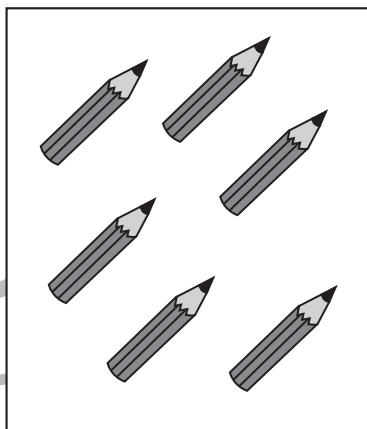
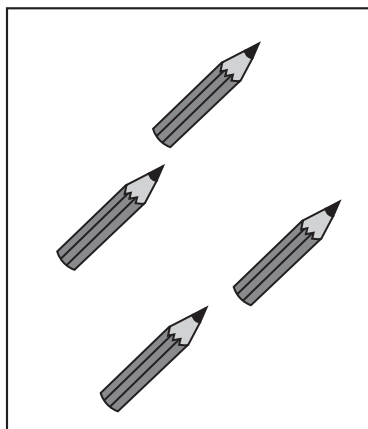


おうちで、やろう。

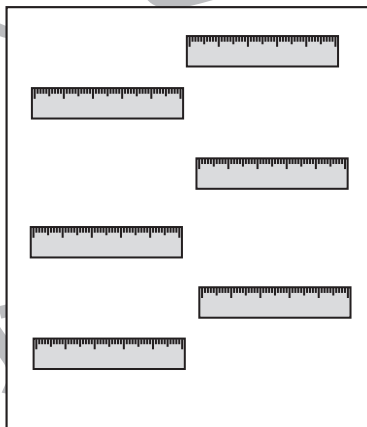
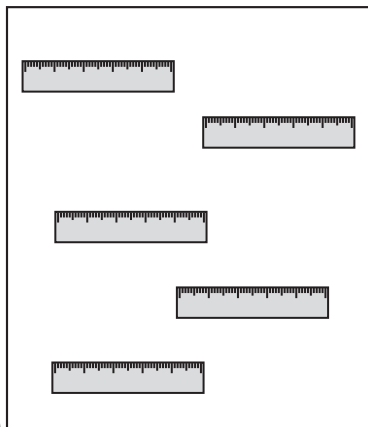

Study at home. 小学校受験の家庭学習教材

数量：加減7

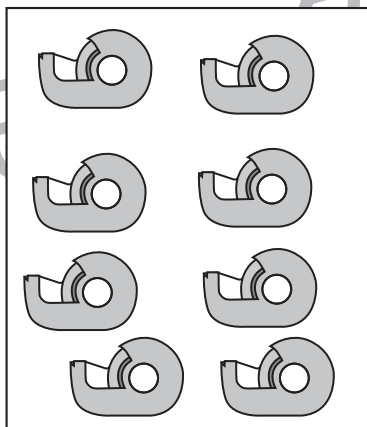
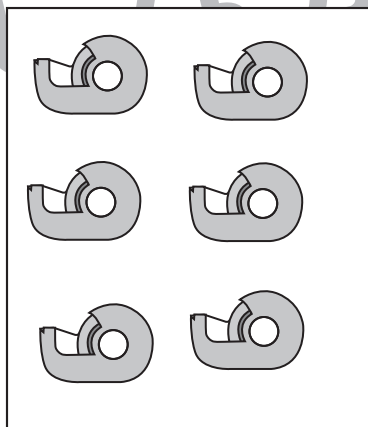

左の四角と右の四角の中の絵の違いはいくつですか。違う数だけ右の四角の中に○をかきます。



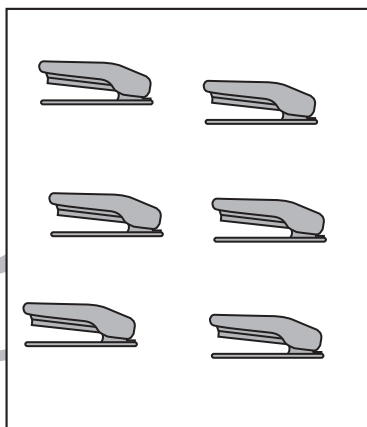
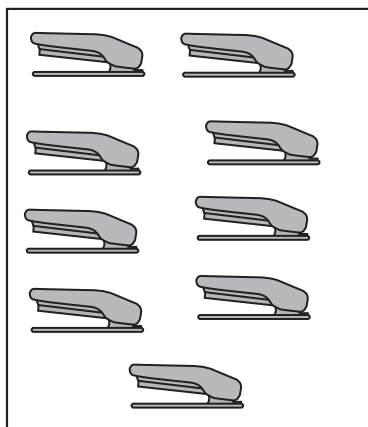

わ
→
ス




目
→
黒



→



わ
→
ス



※1. このプリントは、しながわ・目黒こどもスクールのウェブサイトでダウンロードができます。無断複写・引用はご遠慮ください。
※2. このプリントを活用したオンライン授業のスケジュールは、しながわ・目黒こどもスクールのウェブサイトでご確認ください。

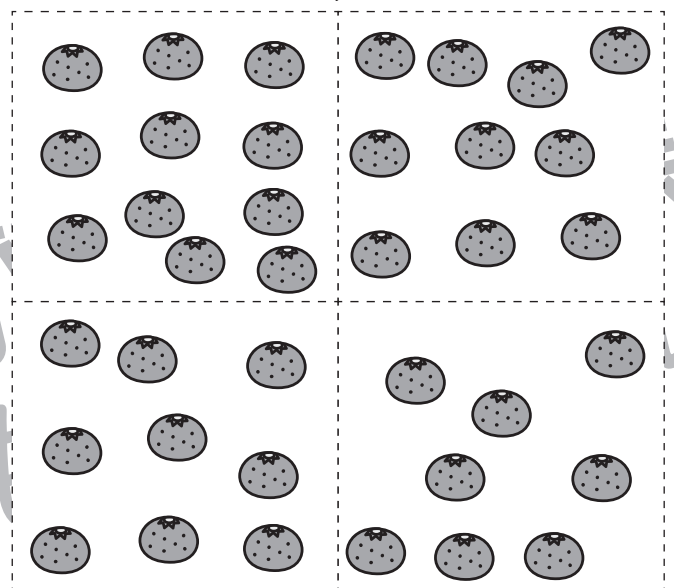

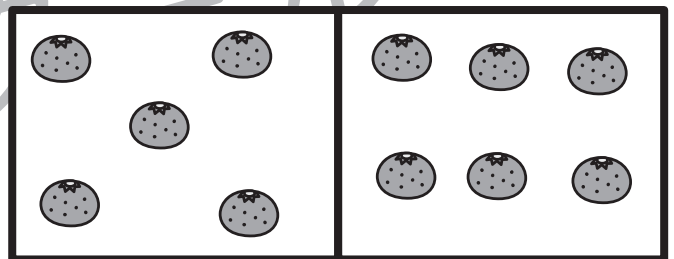
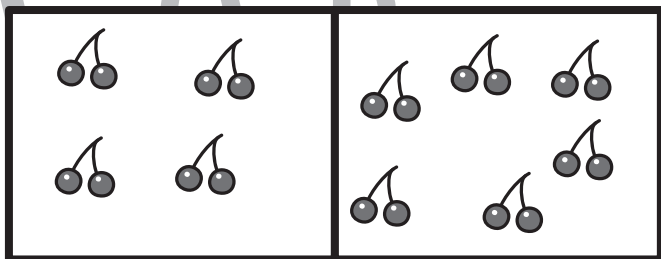

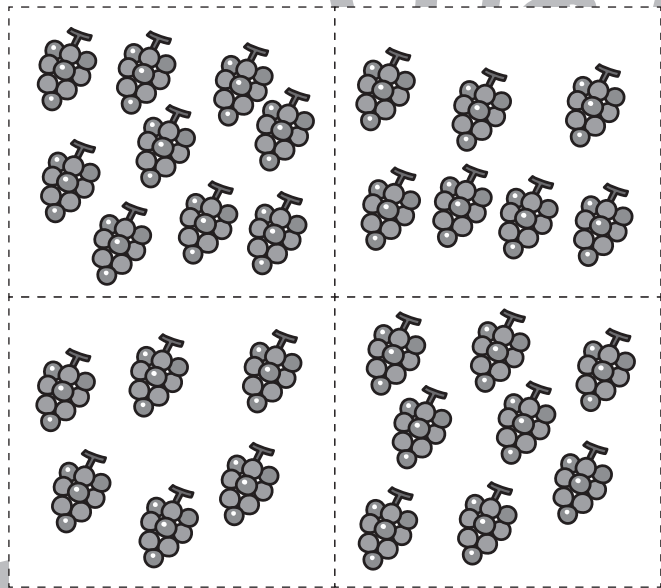

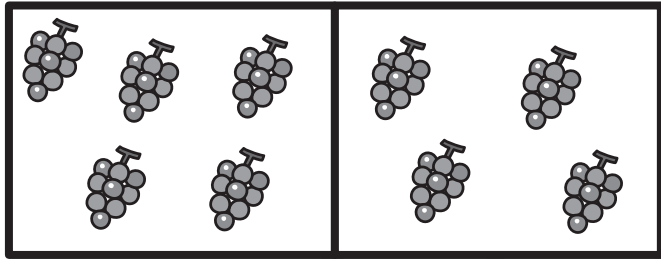


おうちで、やろう。

Study at home. 小学校受験の家庭学習教材

数量：加減 8

太い四角の中にある絵を合わせるといくつになりますか。下の四角の中から選んで○をつけます。



※1. このプリントは、しながわ・目黒こどもスクールのウェブサイトでダウンロードができます。無断複写・引用はご遠慮ください。

※2. このプリントを活用したオンライン授業のスケジュールは、しながわ・目黒こどもスクールのウェブサイトでご確認ください。





おうちで、やろう。

Study at home. 小学校受験の家庭学習教材

数量：余る数2

左にいるお友だちが真ん中の大きな四角の中の食べ物を仲良く同じ数になるように分けます。
この時、余る食べ物の数だけ右の四角に○をかきます。

※1. このプリントは、しながわ・目黒こどもスクールのウェブサイトでダウンロードができます。無断複写・引用はご遠慮ください。

※2. このプリントを活用したオンライン授業のスケジュールは、しながわ・目黒こどもスクールのウェブサイトでご確認ください。







おうちで、やろう。

Study at home. 小学校受験の家庭学習教材

数量：余る数3

左にいるお友だちが真ん中の大きな四角の中の食べ物を仲良く同じ数になるように分けます。
この時、余る食べ物の数だけ下の四角に○をかきます。

	
<div style="border: 1px solid black; height: 85px;"></div>	

	
<div style="border: 1px solid black; height: 85px;"></div>	

※1. このプリントは、しながわ・目黒こどもスクールのウェブサイトでダウンロードができます。無断複写・引用はご遠慮ください。
 ※2. このプリントを活用したオンライン授業のスケジュールは、しながわ・目黒こどもスクールのウェブサイトでご確認ください。


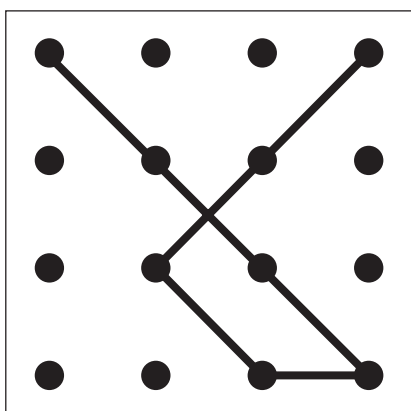
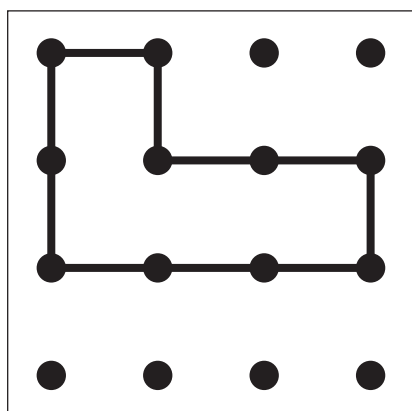

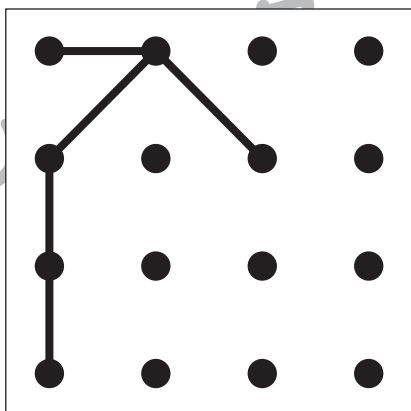
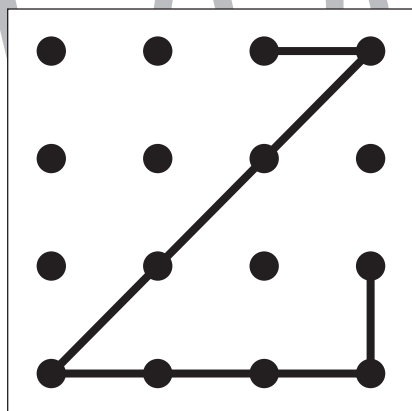

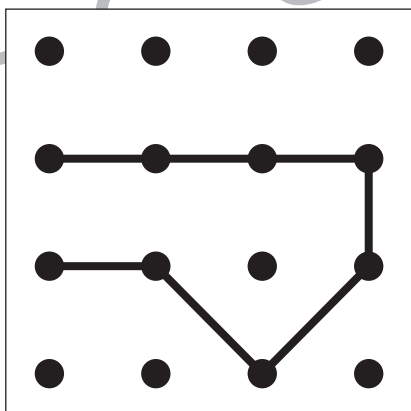
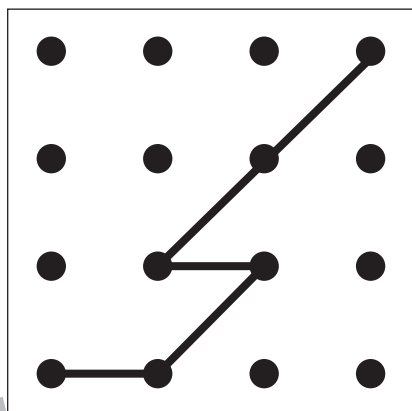

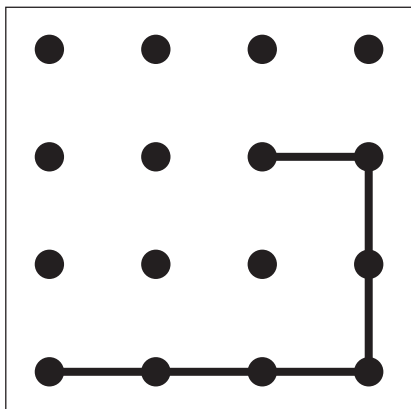
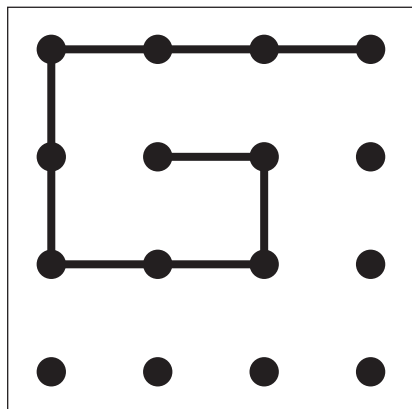


おうちで、やろう。

Study at home. 小学校受験の家庭学習教材

図形：重ね点図形 1

左の2枚の点図形を重ねた形を考えて、矢印の右の四角にかきます。



※1. このプリントは、しながわ・目黒こどもスクールのウェブサイトでダウンロードができます。無断複写・引用はご遠慮ください。

※2. このプリントを活用したオンライン授業のスケジュールは、しながわ・目黒こどもスクールのウェブサイトでご確認ください。