




おうちで、やろう。

Study at home. 小学校受験の家庭学習教材

常識：なぞなぞ1

①～⑤の問題を聞いて、下の四角の中から正しいものを選びます。

- ①私は肉が好きで顔の周りにたてがみがあります。私に○をつけてください。
- ②私は水の中にいることが多く、大きな口や長いしっぽがあります。私に△をつけてください。
- ③私は長い鼻を使って果物を食べます。私に□をつけてください。
- ④私のミルクは牛乳になって、みんなが飲むことができます。私に◎をつけてください。
- ⑤私はジャンプが得意で、耳が長いです。私に×をつけてください。



※1. このプリントは、しながわ・目黒こどもスクールのウェブサイトからダウンロードができます。無断複写・引用はご遠慮ください。
※2. このプリントを活用したオンライン授業のスケジュールは、しながわ・目黒こどもスクールのウェブサイトでご確認ください。



おうちで、やろう。

Study at home. 小学校受験の家庭学習教材

常識：なぜなぜ2

①～⑤の問題を聞いて、下の四角の中から正しいものを選びます。


①私は長い首があるので木の上の葉を食べます。私に○をつけてください。

②私は人間と一緒に生活することもあります。人なつこくて可愛がられることが多いです。私に△をつけてください。

③私は山に住んでいて、寒い冬の間は冬眠します。私に□をつけてください。

④私は鳥ですが、水の中にいることが多いです。私に◎をつけてください。

⑤私は鳥ですが、遠くまで空をとべません。頭にはトサカがあります。私に×をつけてください。



※1. このプリントは、しながわ・目黒こどもスクールのウェブサイトでダウンロードができます。無断複写・引用はご遠慮ください。

※2. このプリントを活用したオンライン授業のスケジュールは、しながわ・目黒こどもスクールのウェブサイトでご確認ください。



おうちで、やろう。

Study at home. 小学校受験の家庭学習教材

常識：なぞなぞ3

①～⑤の問題を聞いて、下の四角の中から正しいものを選びます。


①私はたくさんの人を一度で運ぶことができます。線路の上を走ります。私に○をつけてください。

②私は水の上を進み、島から島へ人を運ぶことができます。私に△をつけてください。

③私は頭にプロペラがあり空を飛びます。緊急の場合は病気の人を運ぶこともあります。私に□をつけてください。

④私はタイヤが2つあり、エンジンを使って動きます。私に◎をつけてください。

⑤私は火事のときにサイレンを鳴らしながら走り、火を消しに行きます。私に×をつけてください。



※1. このプリントは、しながわ・目黒こどもスクールのウェブサイトでダウンロードができます。無断複写・引用はご遠慮ください。

※2. このプリントを活用したオンライン授業のスケジュールは、しながわ・目黒こどもスクールのウェブサイトでご確認ください。














おうちで、やろう。

Study at home. 小学校受験の家庭学習教材

常識：昔あそび1

昔あそびをあつめました。子どもたちのポーズや表情から、何の昔あそびをしているかを考えて、使う道具を下の絵の中から選び、それぞれの左上にある記号を絵の下の四角にかきます。



※1. このプリントは、しながわ・目黒こどもスクールのウェブサイトからダウンロードできます。無断複写・引用はご遠慮ください。
※2. このプリントを活用したオンライン授業のスケジュールは、しながわ・目黒こどもスクールのウェブサイトでご確認ください。















おうちで、やろう。

Study at home. 小学校受験の家庭学習教材

常識：昔あそび2

昔あそびをあつめました。子どもたちのポーズや表情から、何の昔あそびをしているかを考えて、使う道具を下の絵の中から選び、それぞれの左上にある記号を絵の下の四角にかきます。



※1. このプリントは、しながわ・目黒こどもスクールのウェブサイトからダウンロードできます。無断複写・引用はご遠慮ください。
※2. このプリントを活用したオンライン授業のスケジュールは、しながわ・目黒こどもスクールのウェブサイトでご確認ください。



おうちで、やろう。

Study at home. 小学校受験の家庭学習教材

図形：移動 9

左の四角がお手本です。このお手本の○を矢印の方向へ移動させた場所を考えて右のマスに○をかきます。
矢印は上から順番にみていきます。

↓						
	○					
				○		

↓						
→	○					
					○	

→						
		○				
						○

↑						
→					○	
	○					

←						
			○			
						○

→						
↓						
		○				
						○

↑						
					○	

←						
↑						
						○

↑						
↑						
						○

→						
→						
	○					
						○

※1. このプリントは、しながわ・目黒こどもスクールのウェブサイトからダウンロードができます。無断複写・引用はご遠慮ください。
※2. このプリントを活用したオンライン授業のスケジュールは、しながわ・目黒こどもスクールのウェブサイトでご確認ください。



おうちで、やろう。

Study at home. 小学校受験の家庭学習教材

図形：移動 10

左の四角がお手本です。このお手本の○を矢印の方向へ移動させた場所を考えて右のマスに○をかきます。
矢印は上から順番にみていきます。

↑ ←	□	□	□	□	□	□
	□	□	□	○	□	□
	□	○	□	□	□	□

→ ↓ ←	□	○	□	□	□	□
	□	□	□	□	○	□
	□	□	□	□	□	□

↓ →	□	○	□	□	□	□
	□	□	□	□	□	○
	□	□	□	□	□	□

↑ → ↓	□	□	□	□	□	□
	○	□	□	□	○	□
	□	□	□	□	□	□

← →	□	□	○	□	□	○
	□	□	□	□	□	□
	□	□	□	□	□	□

↓ → →	○	□	□	□	□	□
	□	□	□	□	□	○
	□	□	□	□	□	□

↓ →	□	○	□	□	□	□
	□	□	□	□	□	○
	□	□	□	□	□	□

→ ↓ ↓	□	○	□	□	□	□
	□	□	□	□	□	□
	□	□	□	□	□	○

← ↑	□	□	□	○	□	□
	□	○	□	□	□	□
	□	□	□	□	□	□

← ↓ ←	□	□	□	□	□	□
	□	□	○	□	□	□
	□	□	□	○	□	□

※1. このプリントは、しながわ・目黒こどもスクールのウェブサイトからダウンロードができます。無断複写・引用はご遠慮ください。
 ※2. このプリントを活用したオンライン授業のスケジュールは、しながわ・目黒こどもスクールのウェブサイトでご確認ください。



おうちで、やろう。

Study at home. 小学校受験の家庭学習教材

図形：移動 11

左の四角がお手本です。このお手本の○を矢印の方向へ移動させた場所を考えて右のマスに○をかきます。
矢印は上から順番にみていきます。

↓		○					
→		○					○
							○

←		○		○			
↓				○		○	
↑							

↓	○	○					
↓							
						○	○

↓	○		○				
↓						○	
↑							○

←				○			
↓				○			
					○		
					○		

↑							
→			○				○
↓			○				○

→		○			○		
←							
		○				○	

←					○		
→			○				○
↑							○

←				○			
↓			○				
						○	

→	○	○					
↓						○	○
←							

※1. このプリントは、しながわ・目黒こどもスクールのウェブサイトからダウンロードができます。無断複写・引用はご遠慮ください。
※2. このプリントを活用したオンライン授業のスケジュールは、しながわ・目黒こどもスクールのウェブサイトでご確認ください。

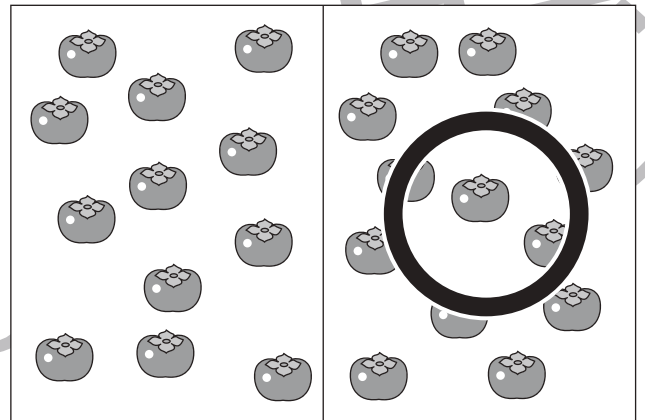

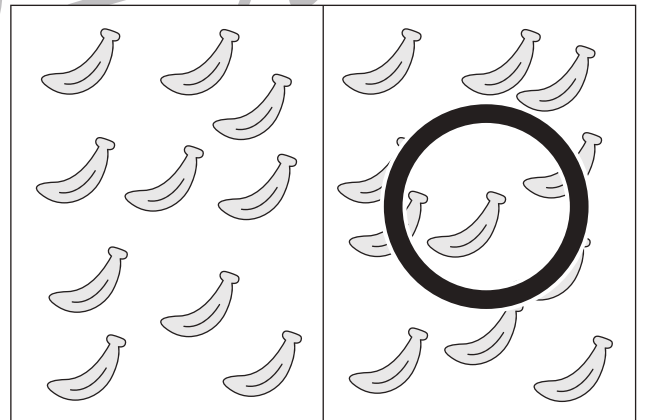

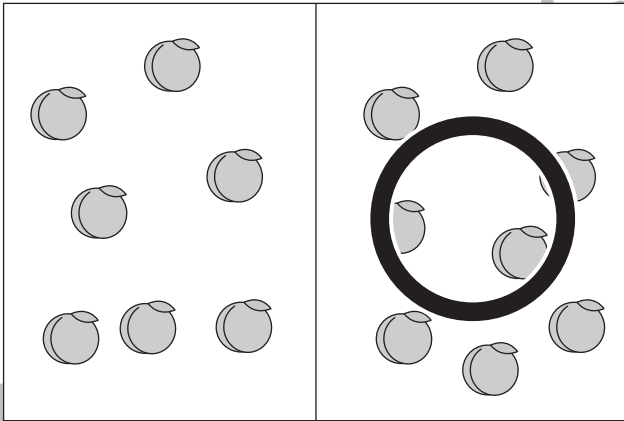
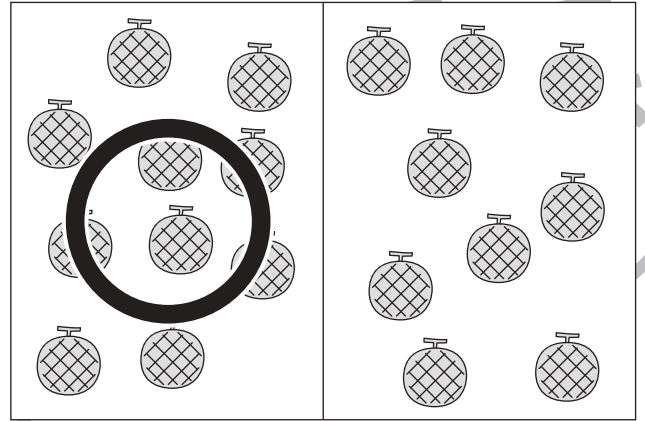
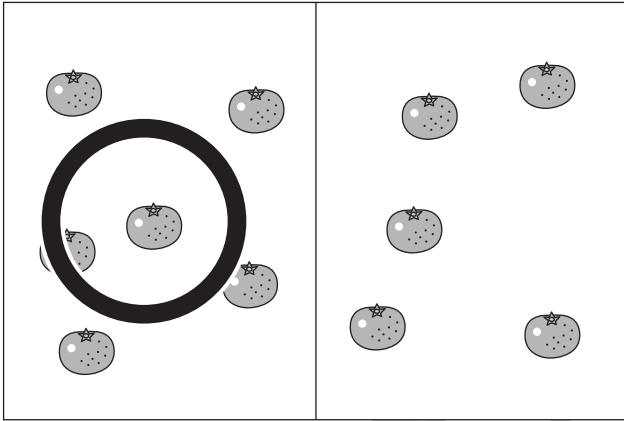


おうちで、やろう。

Study at home. 小学校受験の家庭学習教材

処理：多少1

横に並んだ2つの四角の中の果物のうち数が多い方の四角に○をつけます。
この問題はスピードを意識して取り組む練習をしてみましょう。(1分30秒～2分)



※1. このプリントは、しながわ・目黒こどもスクールのウェブサイトからダウンロードができます。無断複製・引用はご遠慮ください。
 ※2. このプリントを活用したオンライン授業のスケジュールは、しながわ・目黒こどもスクールのウェブサイトでご確認ください。