




おうちで、やろう。

Study at home. 小学校受験の家庭学習教材

常識：なぞなぞ1

①～⑤の問題を聞いて、下の四角の中から正しいものを選びます。

- ①私は肉が好きで顔の周りにたてがみがあります。私に○をつけてください。
- ②私は水の中にいることが多く、大きな口や長いしっぽがあります。私に△をつけてください。
- ③私は長い鼻を使って果物を食べます。私に□をつけてください。
- ④私のミルクは牛乳になって、みんなが飲むことができます。私に◎をつけてください。
- ⑤私はジャンプが得意で、耳が長いです。私に×をつけてください。



※1. このプリントは、しながわ・目黒こどもスクールのウェブサイトでダウンロードができます。無断複写・引用はご遠慮ください。
※2. このプリントを活用したオンライン授業のスケジュールは、しながわ・目黒こどもスクールのウェブサイトでご確認ください。



おうちで、やろう。

Study at home. 小学校受験の家庭学習教材

常識：なぞなぞ2

①～⑤の問題を聞いて、下の四角の中から正しいものを選びます。

①私は長い首があるので木の上の葉を食べます。私に○をつけてください。

②私は人間と一緒に生活することもあります。人なつこくて可愛がられることが多いです。私に△をつけてください。

③私は山に住んでいて、寒い冬の間は冬眠します。私に□をつけてください。

④私は鳥ですが、水の中にいることが多いです。私に◎をつけてください。

⑤私は鳥ですが、遠くまで空をとべません。頭にはトサカがあります。私に×をつけてください。



※1. このプリントは、しながわ・目黒こどもスクールのウェブサイトでダウンロードができます。無断複写・引用はご遠慮ください。

※2. このプリントを活用したオンライン授業のスケジュールは、しながわ・目黒こどもスクールのウェブサイトでご確認ください。



おうちで、やろう。

Study at home. 小学校受験の家庭学習教材

常識：なぞなぞ3

①～⑤の問題を聞いて、下の四角の中から正しいものを選びます。



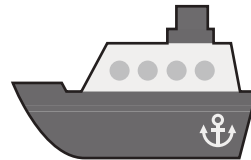
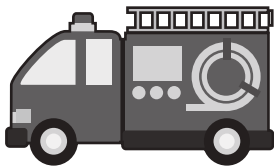
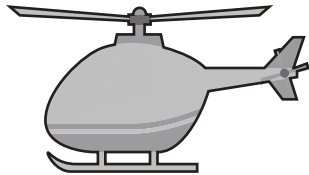
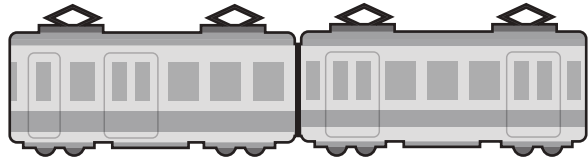

①私はたくさんの人を一度で運ぶことができます。線路の上を走ります。私に○をつけてください。

②私は水の上を進み、島から島へ人を運ぶことができます。私に△をつけてください。

③私は頭にプロペラがあり空を飛びます。緊急の場合は病気の人を運ぶこともあります。私に□をつけてください。

④私はタイヤが2つあり、エンジンを使って動きます。私に◎をつけてください。

⑤私は火事のときにサイレンを鳴らしながら走り、火を消しに行きます。私に×をつけてください。



※1. このプリントは、しながわ・目黒こどもスクールのウェブサイトからダウンロードができます。無断複製・引用はご遠慮ください。

※2. このプリントを活用したオンライン授業のスケジュールは、しながわ・目黒こどもスクールのウェブサイトでご確認ください。


















おうちで、やろう。

Study at home. 小学校受験の家庭学習教材

常識：昔あそび1

昔あそびをみつめました。子どもたちのポーズや表情から、何の昔あそびをしているかを考えて、使う道具を下の絵の中から選び、それぞれの左上にある記号を絵の下の四角にかきます。



※1. このプリントは、しながわ・目黒こどもスクールのウェブサイトからダウンロードできます。無断複写・引用はご遠慮ください。
※2. このプリントを活用したオンライン授業のスケジュールは、しながわ・目黒こどもスクールのウェブサイトでご確認ください。




















おうちで、やろう。

Study at home. 小学校受験の家庭学習教材

常識：昔あそび2

昔あそびをみつめました。子どもたちのポーズや表情から、何の昔あそびをしているかを考えて、使う道具を下の絵の中から選び、それぞれの左上にある記号を絵の下の四角にかきます。



※1. このプリントは、しながわ・目黒こどもスクールのウェブサイトでダウンロードができます。無断複写・引用はご遠慮ください。
※2. このプリントを活用したオンライン授業のスケジュールは、しながわ・目黒こどもスクールのウェブサイトでご確認ください。





おうちで、やろう。

Study at home. 小学校受験の家庭学習教材

図形：移動 9

左の四角がお手本です。このお手本の○を矢印の方向へ移動させた場所を考えて右のマスに○をかきます。
矢印は上から順番にみていきます。

↓							
	○						

↓	○						
→							

→		○					

↑							
→	○						

←							
		○					

→		○					
↓							

↑							
		○					

←							
↑							
						○	

↑							
↑							
						○	

→							
→	○						

※1. このプリントは、しながわ・目黒こどもスクールのウェブサイトからダウンロードができます。無断複写・引用はご遠慮ください。
 ※2. このプリントを活用したオンライン授業のスケジュールは、しながわ・目黒こどもスクールのウェブサイトでご確認ください。



おうちで、やろう。

Study at home. 小学校受験の家庭学習教材

図形：移動 10

左の四角がお手本です。このお手本の○を矢印の方向へ移動させた場所を考えて右のマスに○をかきます。
矢印は上から順番にみていきます。

↑						
←						
		○				

→		○				
↓						
←						

↓		○				
→						

↑						
→	○					
↓						

←			○			
→						

↓	○					
→						
→						

↓		○				
→						

→		○				
↓						
↓						

←						
↑		○				

←						
↓			○			
←						

※1. このプリントは、しながわ・目黒こどもスクールのウェブサイトからダウンロードができます。無断複写・引用はご遠慮ください。
 ※2. このプリントを活用したオンライン授業のスケジュールは、しながわ・目黒こどもスクールのウェブサイトでご確認ください。



おうちで、やろう。

Study at home. 小学校受験の家庭学習教材

図形：移動 11

左の四角がお手本です。このお手本の○を矢印の方向へ移動させた場所を考えて右のマスに○をかきます。
矢印は上から順番にみていきます。

↓		○					
→		○					

←		○					
↓						○	
↑							

↓	○	○					
↓							

↓	○		○				
↓							
↑							

←			○				
↓			○				

↑							
→		○					
↓		○					

→		○					
←							
		○					

←							
→		○					
↑							
						○	

←			○				
↓			○				

→	○	○					
↓							
←							

※1. このプリントは、しながわ・目黒こどもスクールのウェブサイトでダウンロードができます。無断複写・引用はご遠慮ください。
 ※2. このプリントを活用したオンライン授業のスケジュールは、しながわ・目黒こどもスクールのウェブサイトでご確認ください。





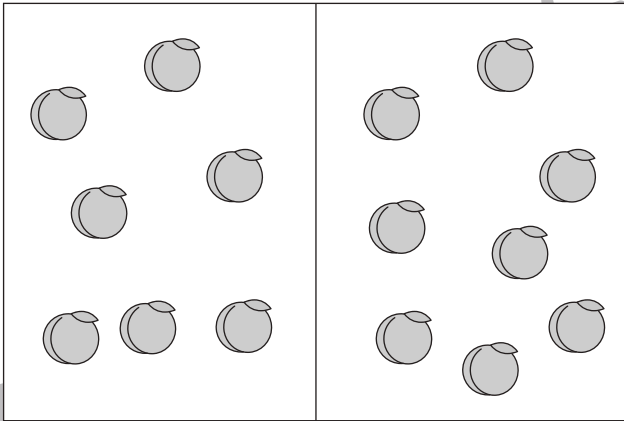
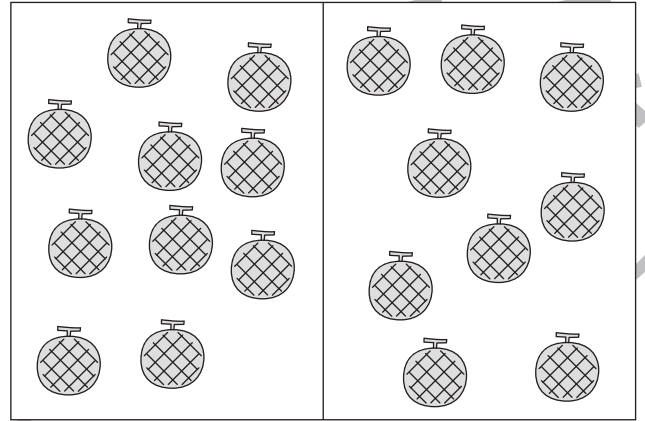



おうちで、やろう。

Study at home. 小学校受験の家庭学習教材

処理：多少1

横に並んだ2つの四角の中の果物のうち数が多い方の四角に○をつけます。
この問題はスピードを意識して取り組む練習をしてみましょう。(1分30秒～2分)



※1. このプリントは、しながわ・目黒こどもスクールのウェブサイトでダウンロードができます。無断複製・引用はご遠慮ください。
 ※2. このプリントを活用したオンライン授業のスケジュールは、しながわ・目黒こどもスクールのウェブサイトでご確認ください。




おうちで、やろう。

Study at home. 小学校受験の家庭学習教材

処理：運筆 4

黒い丸から一周線をかきます。壁にぶつからないようにきれいに素早く線をかきます。
この問題はスピードを意識して取り組む練習をしてみましょう。(1分～1分30秒)
※この問題に解答はありません。



※1. このプリントは、しながわ・目黒こどもスクールのウェブサイトからダウンロードができます。無断複写・引用はご遠慮ください。
※2. このプリントを活用したオンライン授業のスケジュールは、しながわ・目黒こどもスクールのウェブサイトでご確認ください。