




おうちで、やろう。

Study at home. 小学校受験の家庭学習教材


言語：音の理解 8

- ①はじめての音が「は」の絵をすべて見つけて○をつけます。
- ②はじめての音とおわりの音が同じ絵をすべて見つけて○をつけます。

1



2



※1. このプリントは、しながわ・目黒こどもスクールのウェブサイトからダウンロードができます。無断複写・引用はご遠慮ください。
 ※2. このプリントを活用したオンライン授業のスケジュールは、しながわ・目黒こどもスクールのウェブサイトでご確認ください。












おうちで、やろう。

Study at home. 小学校受験の家庭学習教材

推理：影2

左の太い四角の中には、動物が影になって重なっています。左の四角の中に見えない動物を見つけて○をつけます。



※1. このプリントは、しながわ・目黒こどもスクールのウェブサイトでダウンロードができます。無断複写・引用はご遠慮ください。

※2. このプリントを活用したオンライン授業のスケジュールは、しながわ・目黒こどもスクールのウェブサイトでご確認ください。



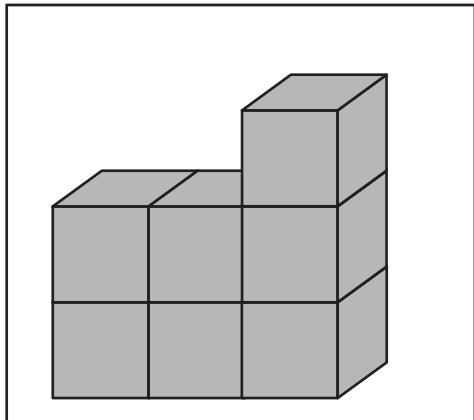


おうちで、やろう。

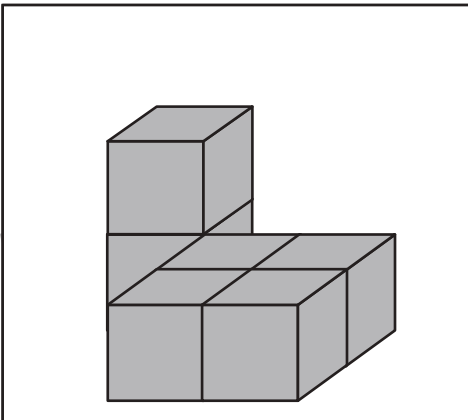
Study at home. 小学校受験の家庭学習教材

推理：積み木 11

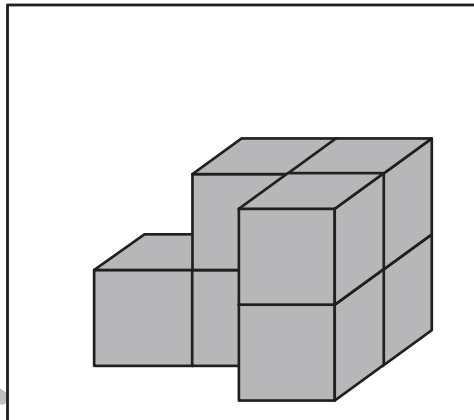
積み木の数だけ、すぐ下の四角に○をかきます。



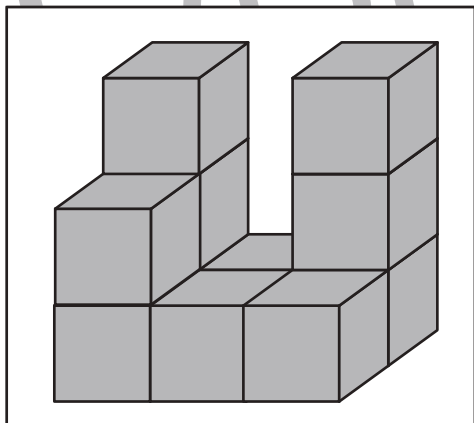
○ × 7



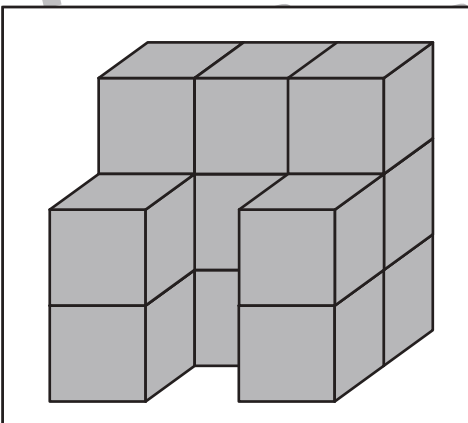
○ × 6



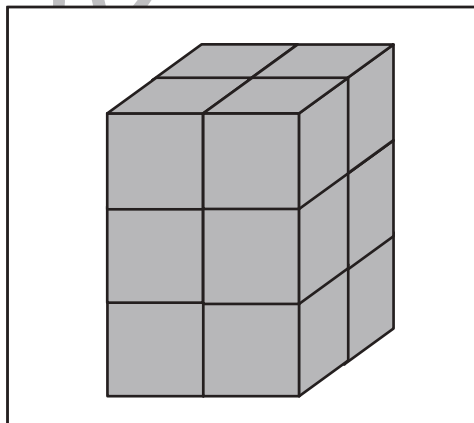
○ × 7



○ × 11



○ × 13



○ × 12

※1. このプリントは、しながわ・目黒こどもスクールのウェブサイトでダウンロードができます。無断複写・引用はご遠慮ください。
※2. このプリントを活用したオンライン授業のスケジュールは、しながわ・目黒こどもスクールのウェブサイトでご確認ください。

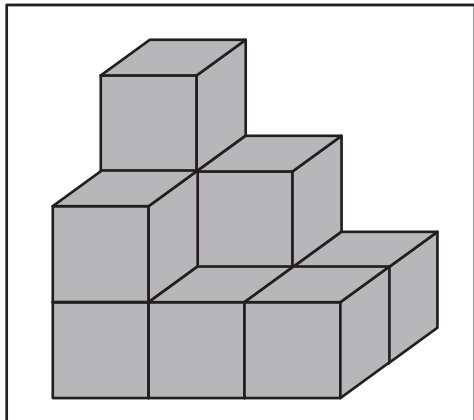


おうちで、やろう。

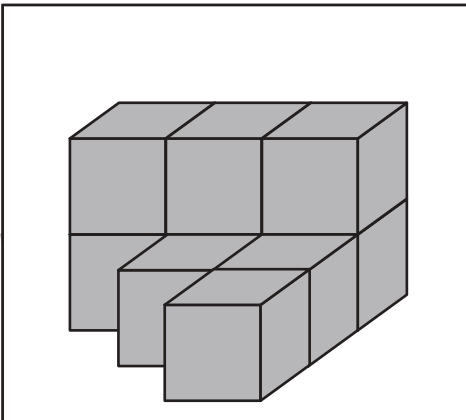
Study at home. 小学校受験の家庭学習教材

推理：積み木 12

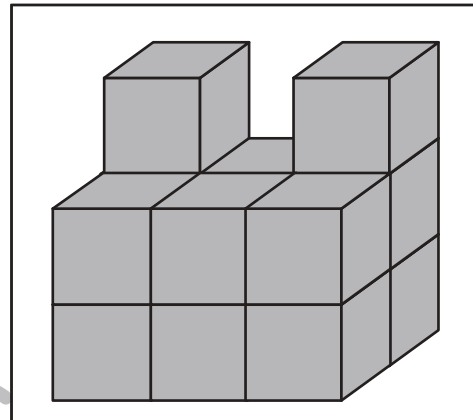
積み木の数だけ、すぐ下の四角に○をかきます。



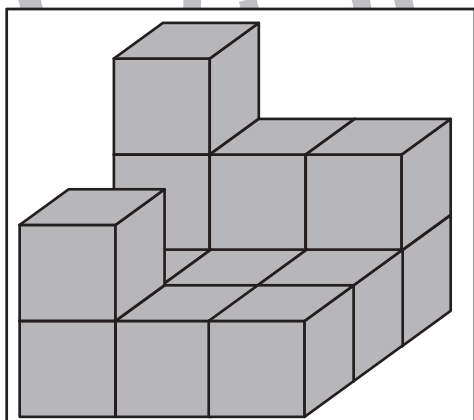
$$\bigcirc \times 10$$



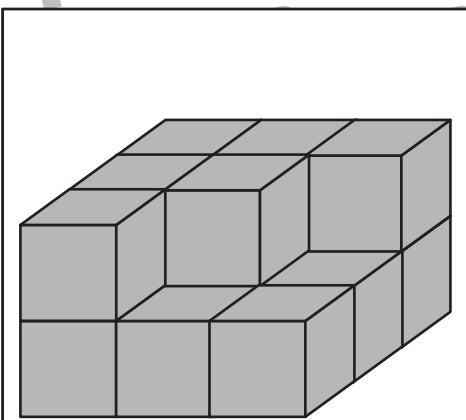
$$\bigcirc \times 9$$



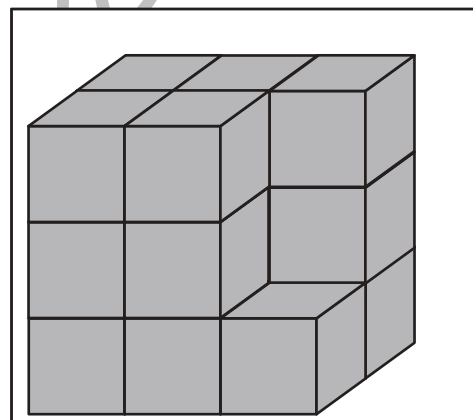
$$\bigcirc \times 14$$



$$\bigcirc \times 14$$



$$\bigcirc \times 15$$



$$\bigcirc \times 16$$

※1. このプリントは、しながわ・目黒こどもスクールのウェブサイトでダウンロードができます。無断複写・引用はご遠慮ください。
※2. このプリントを活用したオンライン授業のスケジュールは、しながわ・目黒こどもスクールのウェブサイトでご確認ください。



左の四角を矢印の方向へ矢印の数だけ倒したときの灰色のマスの見え方を考えて灰色のマスを塗ります。

※1. このプリントは、しながわ・目黒こどもスクールのウェブサイトでダウンロードができます。無断複写・引用はご遠慮ください。
 ※2. このプリントを活用したオンライン授業のスケジュールは、しながわ・目黒こどもスクールのウェブサイトでご確認ください。



左の四角を矢印の方向へ矢印の数だけ倒したときの灰色のマスの見え方を考えて灰色のマスを塗ります。

※1. このプリントは、しながわ・目黒こどもスクールのウェブサイトでダウンロードができます。無断複写・引用はご遠慮ください。
 ※2. このプリントを活用したオンライン授業のスケジュールは、しながわ・目黒こどもスクールのウェブサイトでご確認ください。

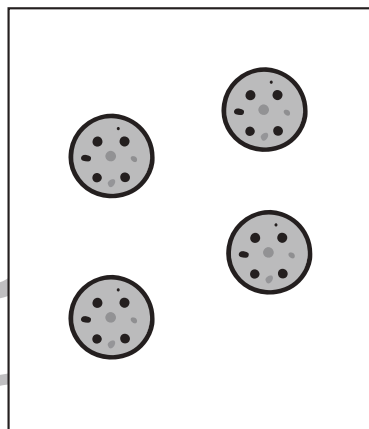
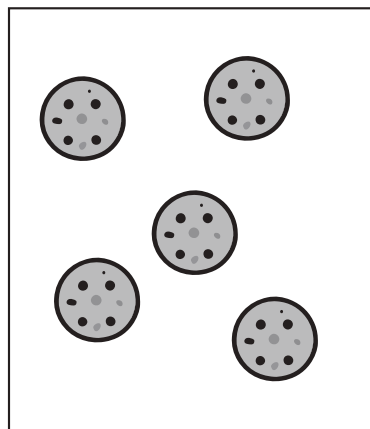


おうちで、やろう。

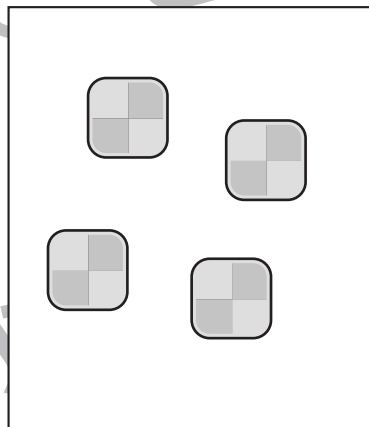
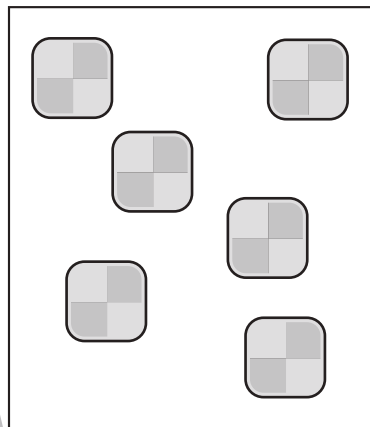
Study at home. 小学校受験の家庭学習教材

数量：加減5

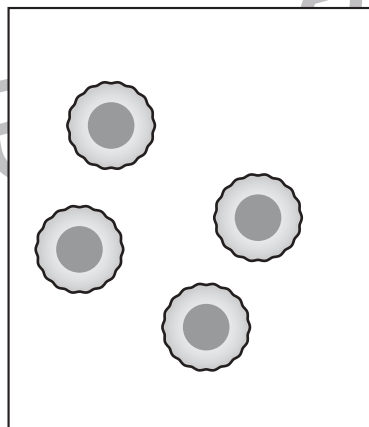
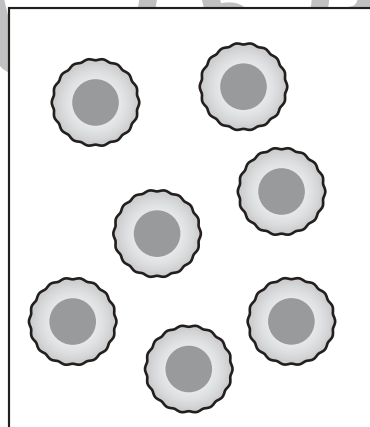
クッキーを左の四角から食べて右の四角のようになりました。減った数だけ矢印の右の四角の中に○をかきます。



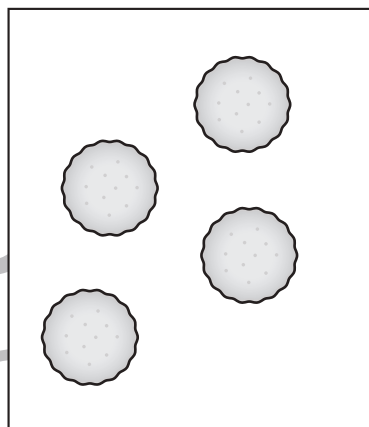
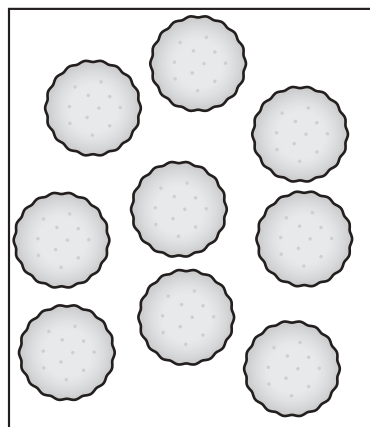
$$\bigcirc \times 1$$



$$\bigcirc \times 2$$



$$\bigcirc \times 3$$



$$\bigcirc \times 5$$

※1. このプリントは、しながわ・目黒こどもスクールのウェブサイトでダウンロードができます。無断複写・引用はご遠慮ください。

※2. このプリントを活用したオンライン授業のスケジュールは、しながわ・目黒こどもスクールのウェブサイトでご確認ください。



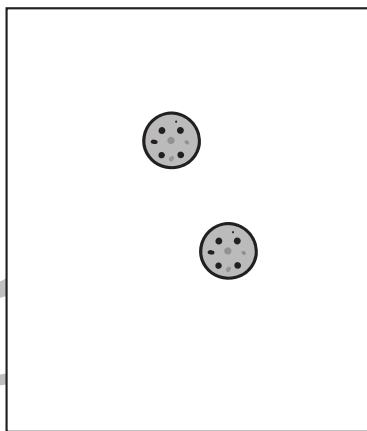
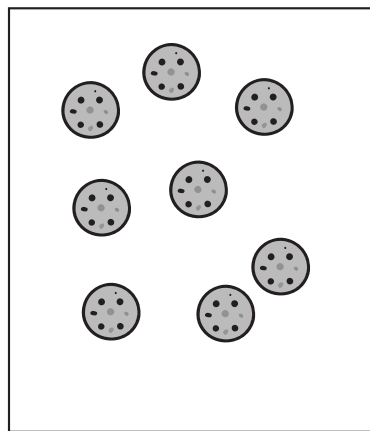


おうちで、やろう。

Study at home. 小学校受験の家庭学習教材

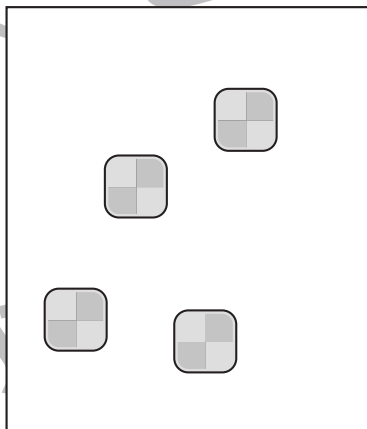
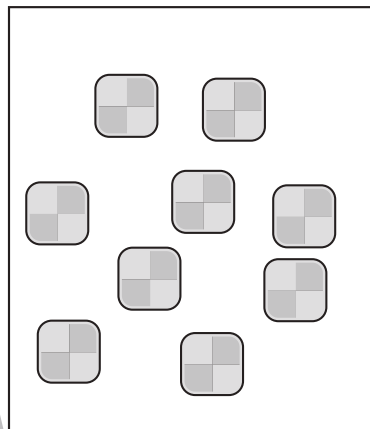
数量：加減 6

クッキーを左の四角から食べて右の四角のようになりました。減った数だけ矢印の右の四角の中に○をかきます。



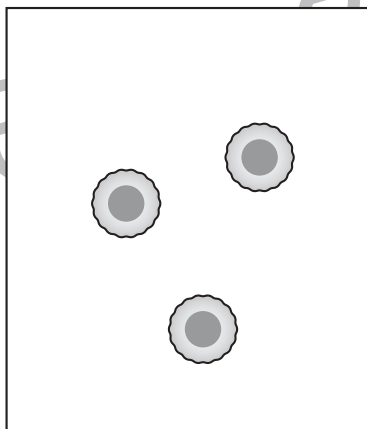
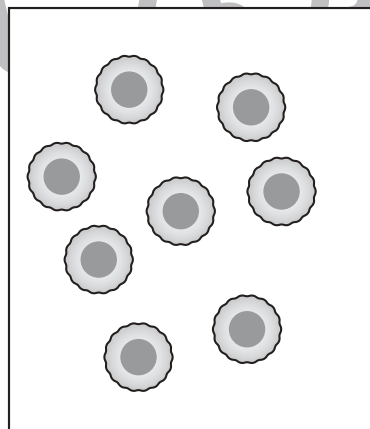
→

$$○ \times 6$$



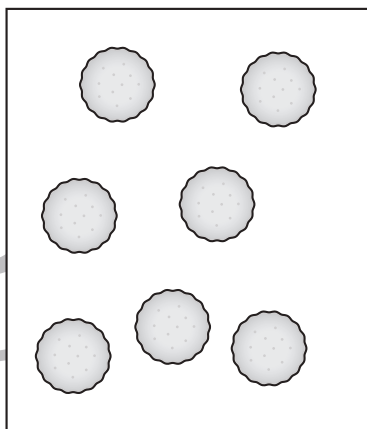
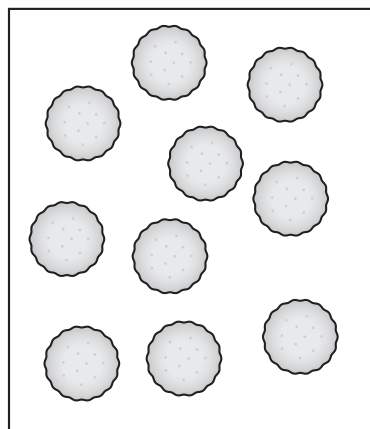
→

$$○ \times 5$$



→

$$○ \times 5$$



→

$$○ \times 3$$

※1. このプリントは、しながわ・目黒こどもスクールのウェブサイトからダウンロードできます。無断複写・引用はご遠慮ください。
※2. このプリントを活用したオンライン授業のスケジュールは、しながわ・目黒こどもスクールのウェブサイトでご確認ください。






おうちで、やろう。

Study at home. 小学校受験の家庭学習教材

処理：計数 8

大きな四角の中のものを数えます。その数だけ下の四角に○をかきましょう。



○ × 6



○ × 4



○ × 7



○ × 5