



おうちで、やろう。

Study at home. 小学校受験の家庭学習教材

指示の聞き取り6

それぞれの設問に答えましょう。指示は1度ですべて読み上げます。しっかり聞いて取り組みましょう。

- ①レモンの2つ上のマスの中にある果物に○をつけます。
- ②イチゴの4つ左のマスに△をかきます。
- ③上から4段目の左から2番目のマスの中にある果物に□をつけます。
- ④一番下の段の真ん中のマスに◎をかきます。

※1. このプリントは、しながわ・目黒こどもスクールのウェブサイトでダウンロードができます。無断複写・引用はご遠慮ください。
 ※2. このプリントを活用したオンライン授業のスケジュールは、しながわ・目黒こどもスクールのウェブサイトでご確認ください。

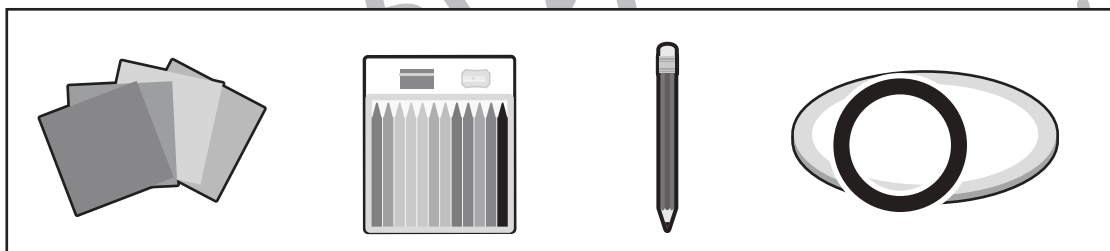
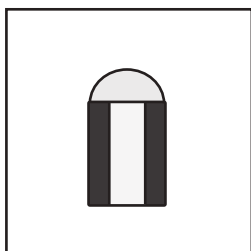
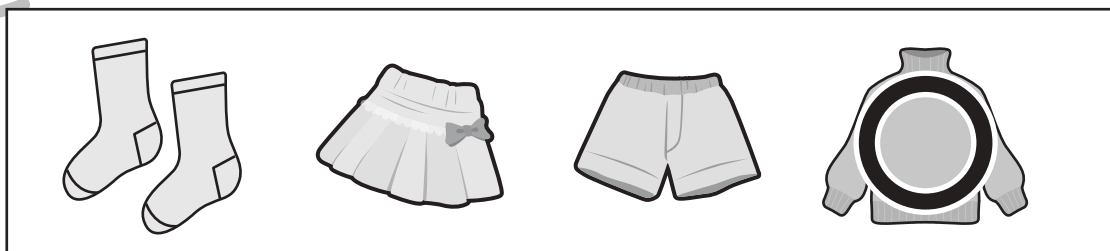
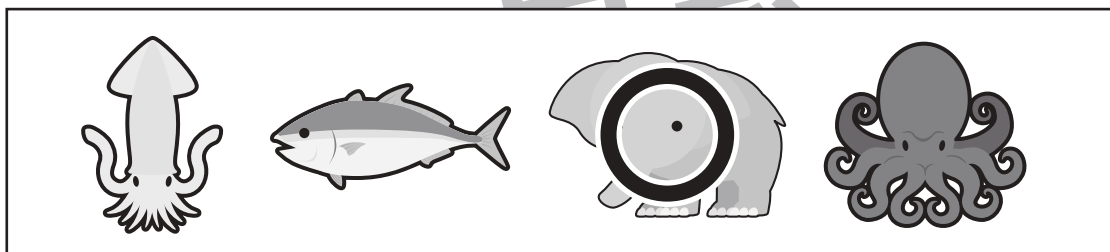

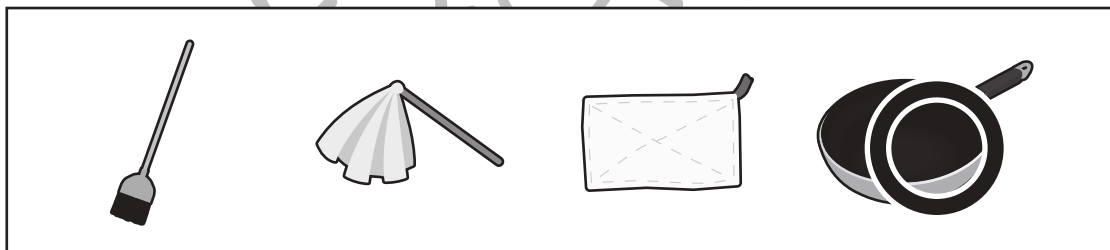


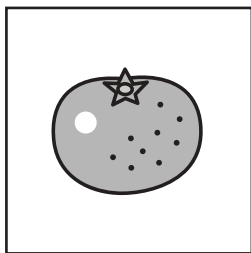


おうちで、やろう。

Study at home. 小学校受験の家庭学習教材

常識：仲間外れ1

左の四角の絵の中の絵と仲間ではないものを右の四角の中から見つけて○をつけます。



※1. このプリントは、しながわ・目黒こどもスクールのウェブサイトからダウンロードできます。無断複写・引用はご遠慮ください。
※2. このプリントを活用したオンライン授業のスケジュールは、しながわ・目黒こどもスクールのウェブサイトでご確認ください。



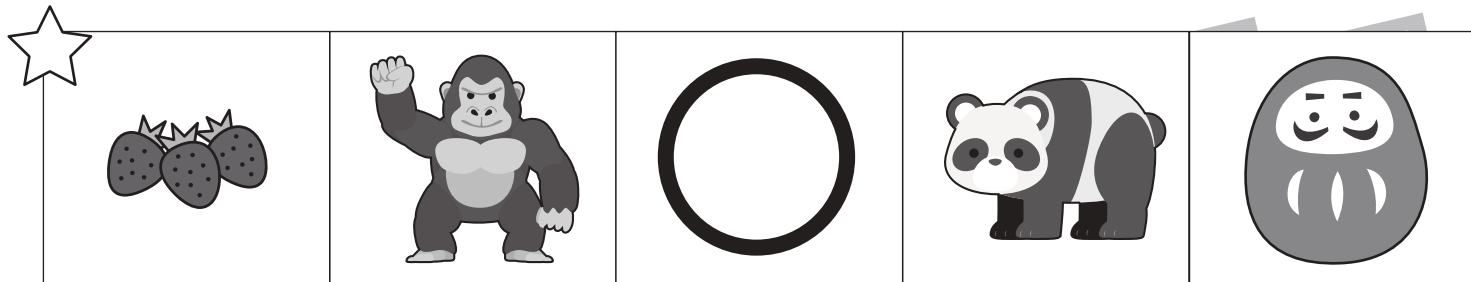


おうちで、やろう。


Study at home. 小学校受験の家庭学習教材

言語：しりとり5



左上の☆から右下の★まで、しりとりでつなげていきます。太い四角の中に入る絵を下の四角の中から選んで、それぞれの四角の中の記号をつけます。



しながわ
こどもスク



がわ
スクール



※1. このプリントは、しながわ・目黒こどもスクールのウェブサイトからダウンロードできます。無断複写・引用はご遠慮ください。
 ※2. このプリントを活用したオンライン授業のスケジュールは、しながわ・目黒こどもスクールのウェブサイトでご確認ください。



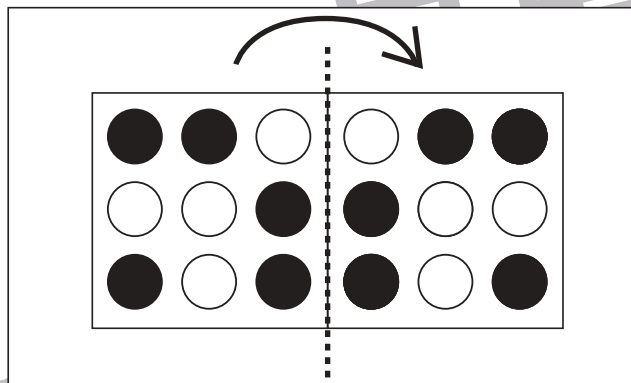
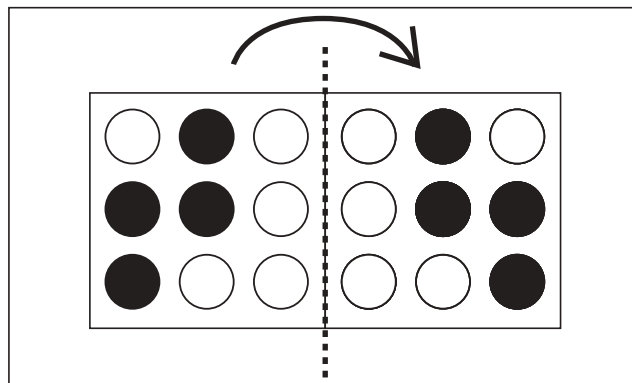
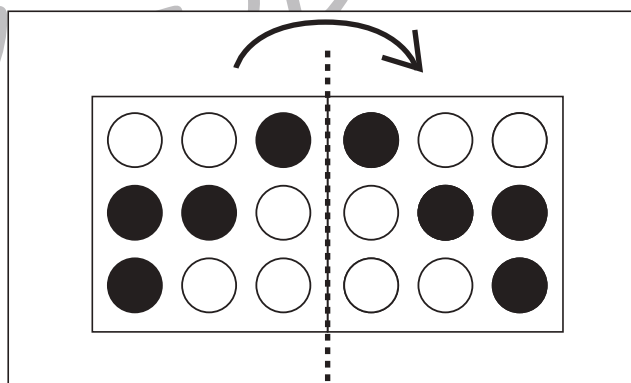
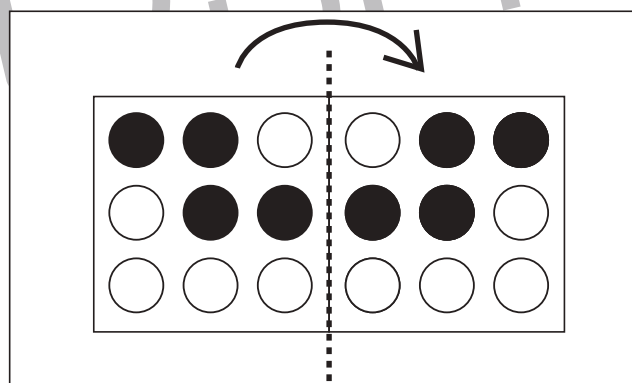
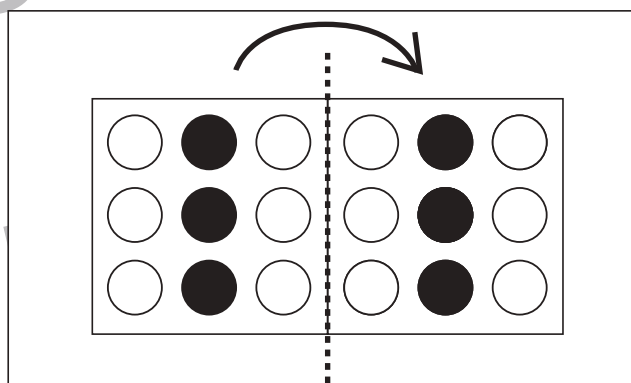
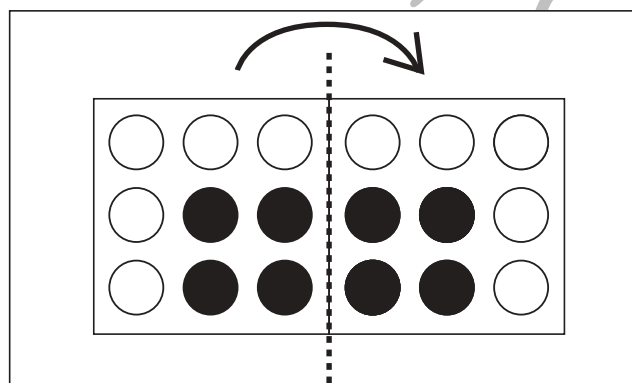
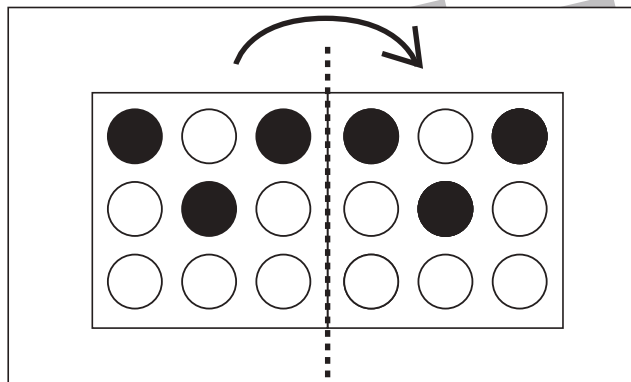
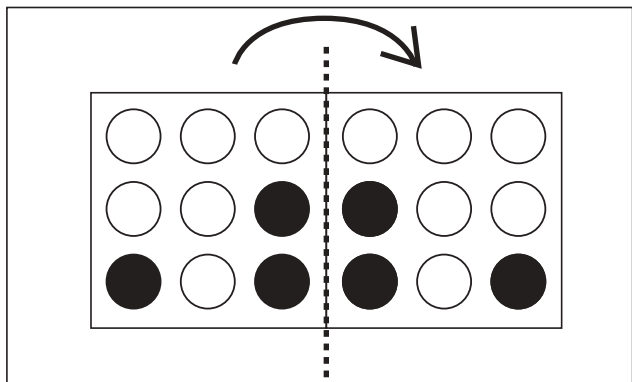


おうちで、やろう。

Study at home. 小学校受験の家庭学習教材

図形：折り重ね9

左の四角が右の四角に重なった時の見え方を考えて○を塗ります。



※1. このプリントは、しながわ・目黒こどもスクールのウェブサイトでダウンロードができます。無断複写・引用はご遠慮ください。
※2. このプリントを活用したオンライン授業のスケジュールは、しながわ・目黒こどもスクールのウェブサイトでご確認ください。



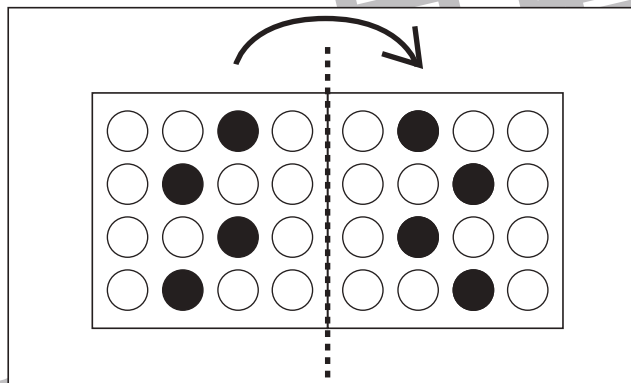
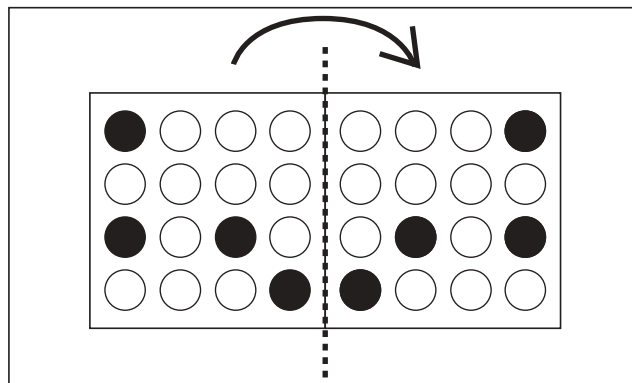
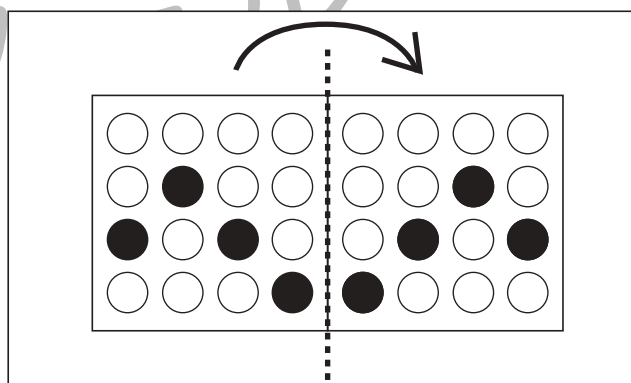
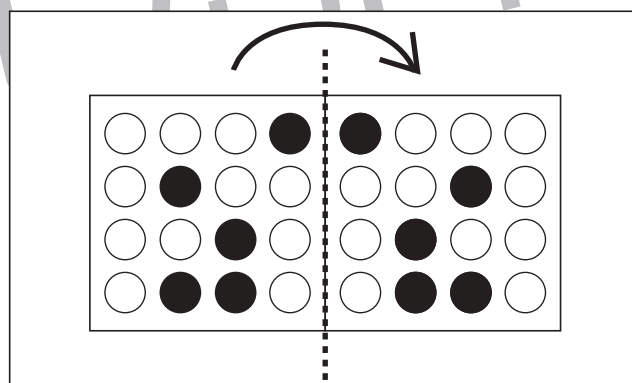
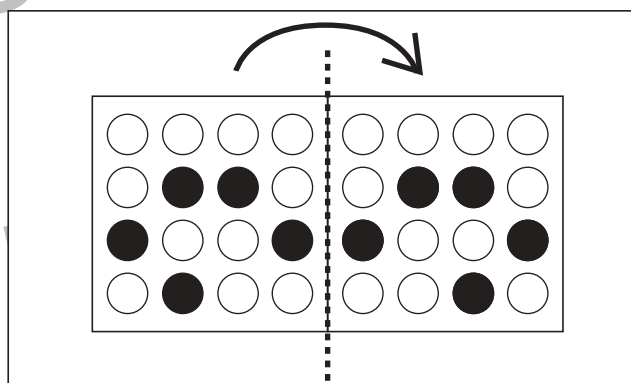
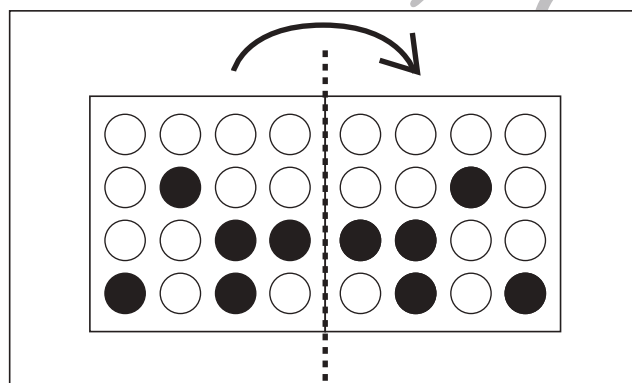
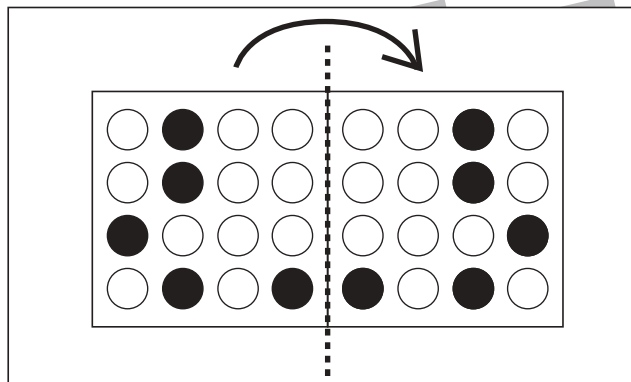
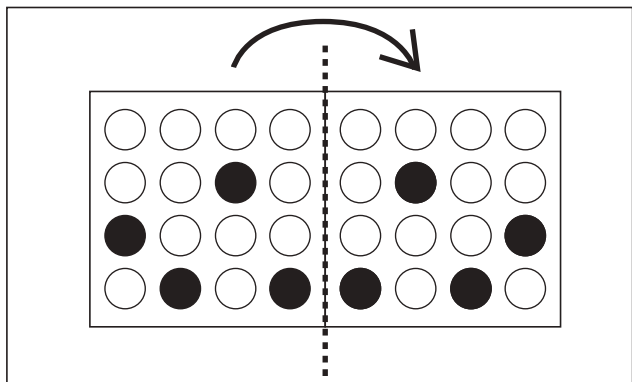


おうちで、やろう。

Study at home. 小学校受験の家庭学習教材

図形：折り重ね 10

左の四角が右の四角に重なった時の見え方を考えて○を塗ります。



※1. このプリントは、しながわ・目黒こどもスクールのウェブサイトでダウンロードができます。無断複写・引用はご遠慮ください。
※2. このプリントを活用したオンライン授業のスケジュールは、しながわ・目黒こどもスクールのウェブサイトでご確認ください。







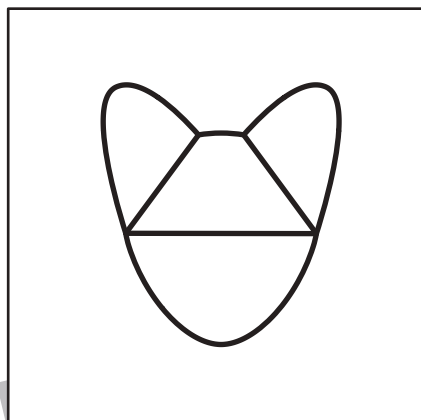




おうちで、やろう。

Study at home. 小学校受験の家庭学習教材

図形：構成5

左の四角がお手本です。左の四角の中の形を作るのに使わない形を見つけて × をつけます。
図形は回転させたり裏返しにはしてはいけません。



※1. このプリントは、しながわ・目黒こどもスクールのウェブサイトからダウンロードできます。無断複写・引用はご遠慮ください。
※2. このプリントを活用したオンライン授業のスケジュールは、しながわ・目黒こどもスクールのウェブサイトでご確認ください。

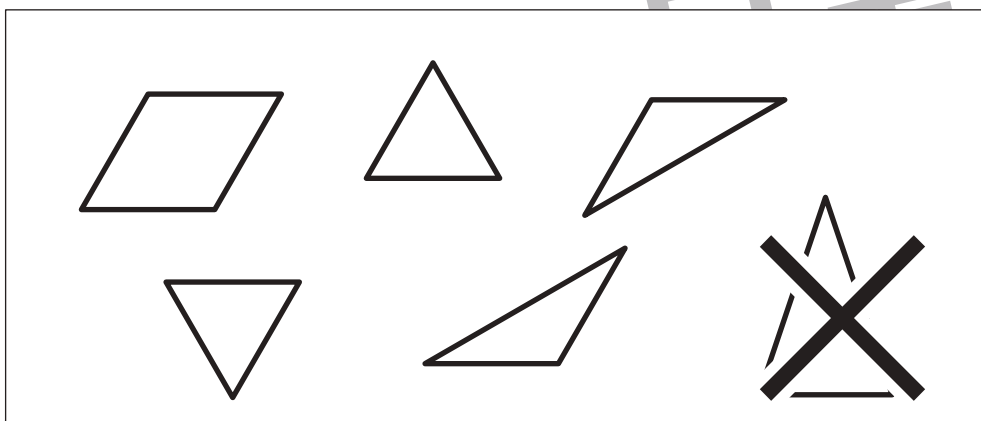
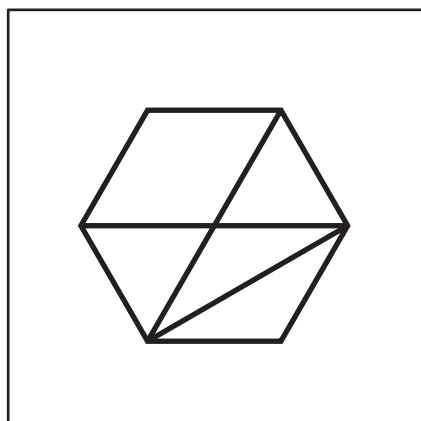

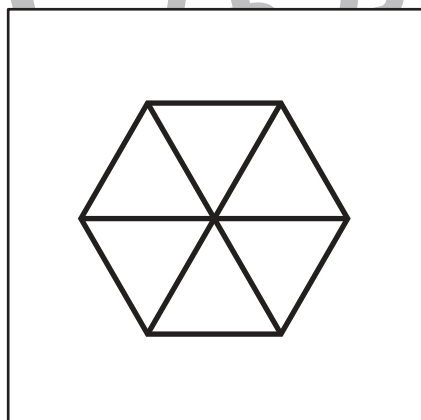

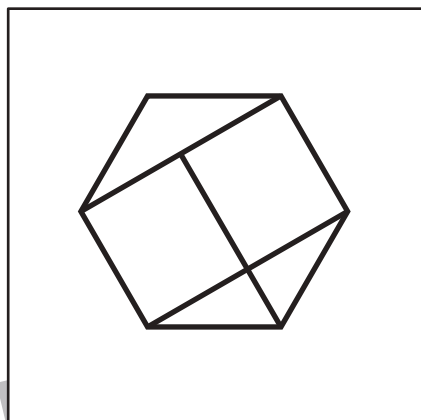
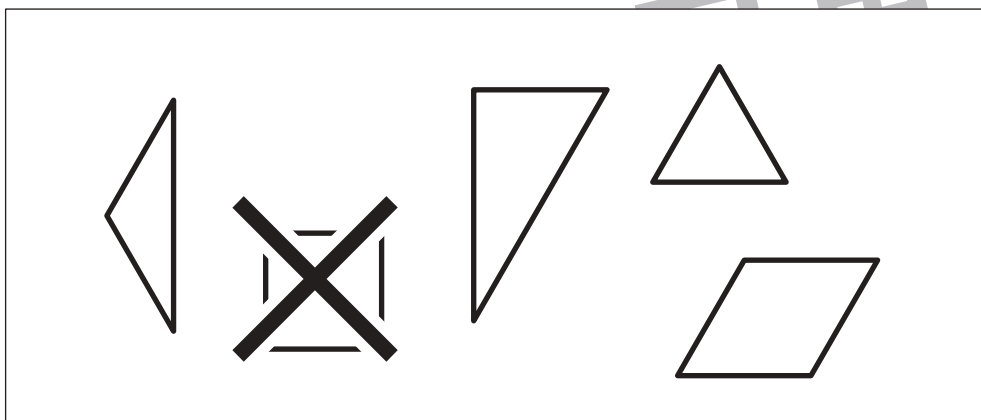
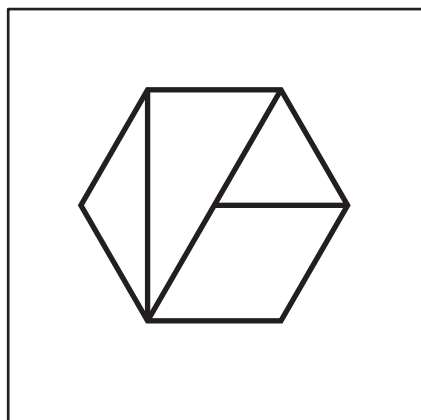


おうちで、やろう。

Study at home. 小学校受験の家庭学習教材

図形：構成6

左の四角がお手本です。左の四角の中の形を作るのに使わない形を見つけて × をつけます。
図形は回転させたり裏返しにはしてはいけません。



※1. このプリントは、しながわ・目黒こどもスクールのウェブサイトでダウンロードができます。無断複写・引用はご遠慮ください。
※2. このプリントを活用したオンライン授業のスケジュールは、しながわ・目黒こどもスクールのウェブサイトでご確認ください。



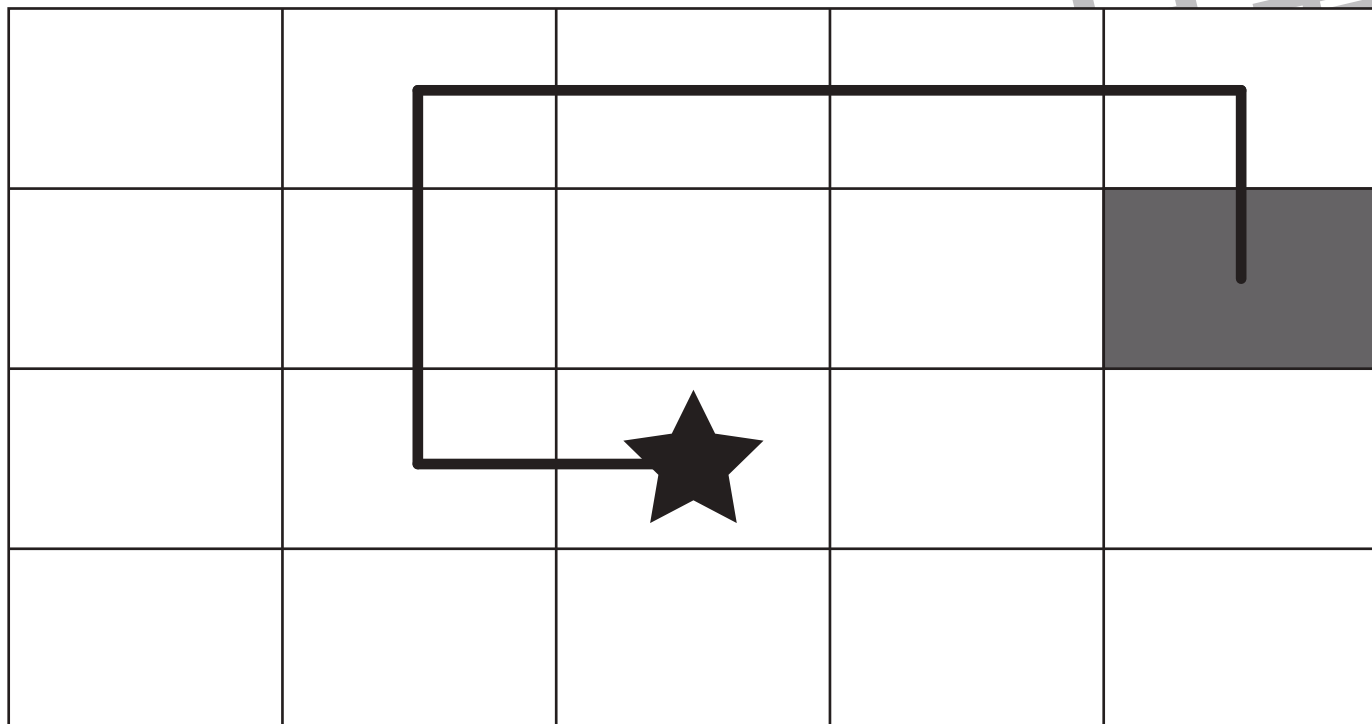
おうちで、やろう。

Study at home. 小学校受験の家庭学習教材

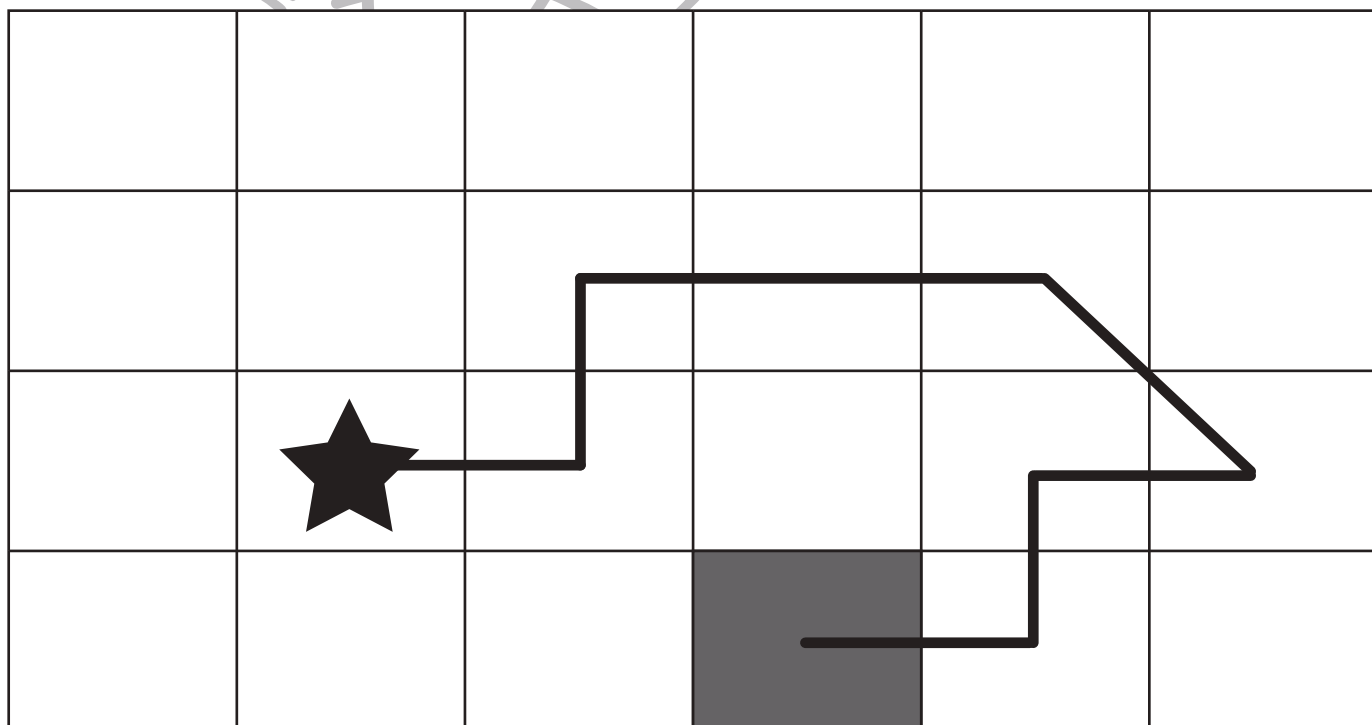
図形：移動 12

黒い星からスタートして、矢印の方向にマスを進みます。最後に着いたマスを塗ります。矢印は左から順番に見ます。

← ↑ ↑ → → → ↓



→ ↑ → → ↓ ← ↓ ←



※1. このプリントは、しながわ・目黒こどもスクールのウェブサイトでダウンロードができます。無断複写・引用はご遠慮ください。
 ※2. このプリントを活用したオンライン授業のスケジュールは、しながわ・目黒こどもスクールのウェブサイトでご確認ください。



おうちで、やろう。

Study at home. 小学校受験の家庭学習教材

推理：ブラックボックス1

一番上の四角の中が約束です。☆の箱に入ると1つ増え、★の箱に入ると2つ減ります。この約束で下の問題を考えます。リンゴが矢印の順番に箱の中を通ったとき、?の場所のリンゴはいくつになりますか。その数だけ右の四角の中に○をかきます。

	$\bigcirc \times 3$
	$\bigcirc \times 2$
	$\bigcirc \times 1$
	$\bigcirc \times 5$

※1. このプリントは、しながわ・目黒こどもスクールのウェブサイトでダウンロードができます。無断複写・引用はご遠慮ください。

※2. このプリントを活用したオンライン授業のスケジュールは、しながわ・目黒こどもスクールのウェブサイトでご確認ください。