






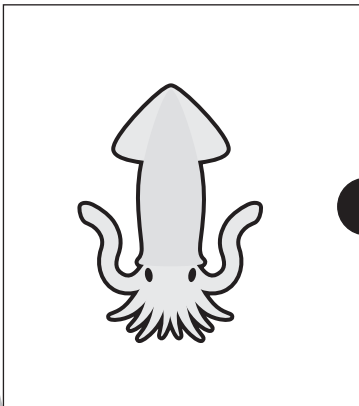

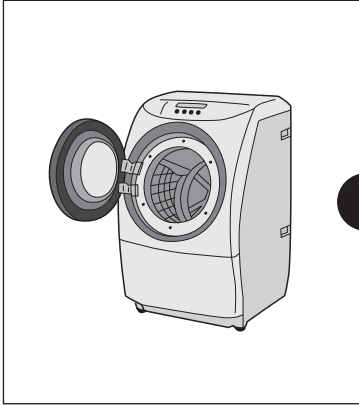


おうちで、やろう。

Study at home. 小学校受験の家庭学習教材

言語：数え方3

左の四角の中の絵と同じ数え方をする絵を右の四角の中から見つけて、点と点を線で結びます。



※1. このプリントは、しながわ・目黒こどもスクールのウェブサイトでダウンロードができます。無断複写・引用はご遠慮ください。
※2. このプリントを活用したオンライン授業のスケジュールは、しながわ・目黒こどもスクールのウェブサイトでご確認ください。





おうちで、やろう。

Study at home. 小学校受験の家庭学習教材

推理：ブラックボックス2

一番上の四角の中が約束です。☆の箱に入ると2つ増え、★の箱に入ると3つ減ります。この約束で下の問題を考えます。リンゴが矢印の順番に箱の中を通ったとき、?の場所のリンゴはいくつになりますか。その数だけ右の四角の中に○をかきます。

※1. このプリントは、しながわ・目黒こどもスクールのウェブサイトでダウンロードができます。無断複写・引用はご遠慮ください。
※2. このプリントを活用したオンライン授業のスケジュールは、しながわ・目黒こどもスクールのウェブサイトでご確認ください。



おうちで、やろう。

Study at home. 小学校受験の家庭学習教材

推理：ブラックボックス3

一番上の四角の中が約束です。☆の箱に入ると2つ増え、★の箱に入ると3つ減ります。この約束で下の問題を考えます。リンゴが矢印の順番に箱の中を通ったとき、?の場所のリンゴはいくつになりますか。その数だけ右の四角の中に○をかきます。

※1. このプリントは、しながわ・目黒こどもスクールのウェブサイトでダウンロードができます。無断複写・引用はご遠慮ください。
※2. このプリントを活用したオンライン授業のスケジュールは、しながわ・目黒こどもスクールのウェブサイトでご確認ください。






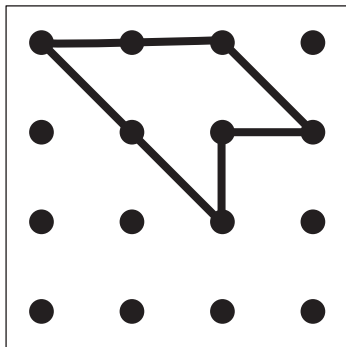
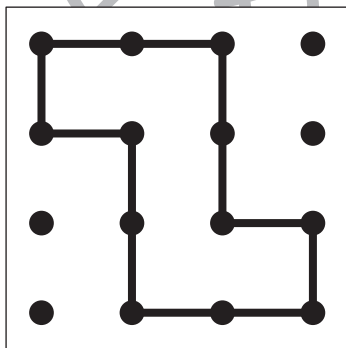
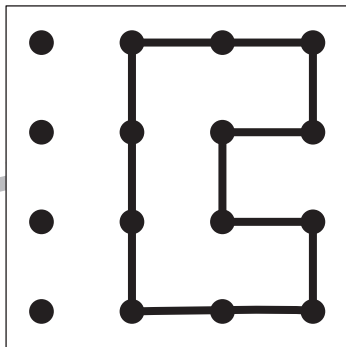
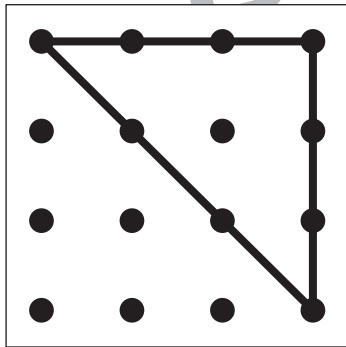
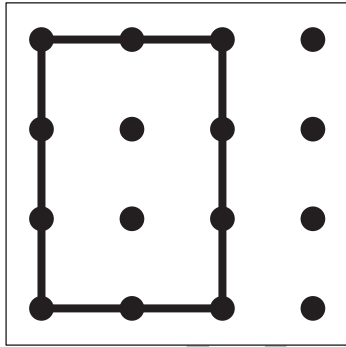


おうちで、やろう。

Study at home. 小学校受験の家庭学習教材

図形：鏡 8

左の点図形を黒い線の上に鏡を置いて見た時の見え方を考えて、右の四角にかきます。



黒
ル

黒
ル

※1. このプリントは、しながわ・目黒こどもスクールのウェブサイトでダウンロードができます。無断複写・引用はご遠慮ください。
※2. このプリントを活用したオンライン授業のスケジュールは、しながわ・目黒こどもスクールのウェブサイトでご確認ください。






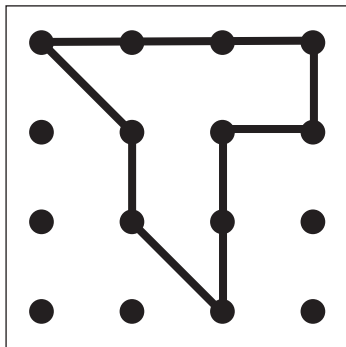
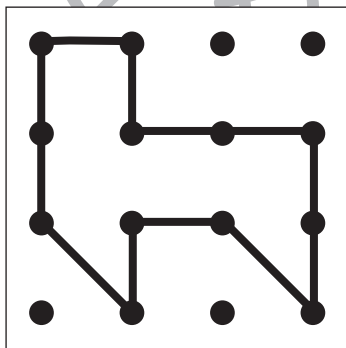
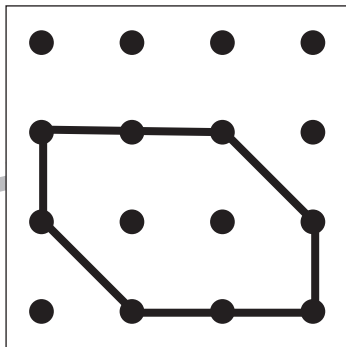
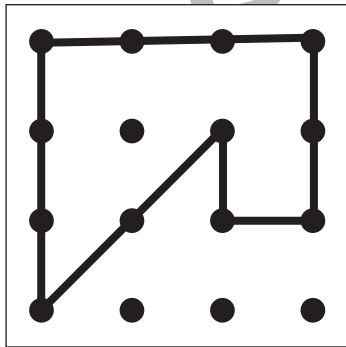
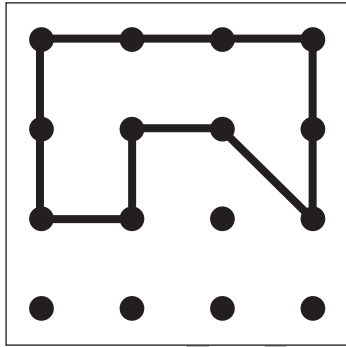


おうちで、やろう。

Study at home. 小学校受験の家庭学習教材

図形：鏡 9

左の点図形を黒い線の上に鏡を置いて見た時の見え方を考えて、右の四角にかきます。



黒
ル

黒
ル

※1. このプリントは、しながわ・目黒こどもスクールのウェブサイトでダウンロードができます。無断複写・引用はご遠慮ください。
※2. このプリントを活用したオンライン授業のスケジュールは、しながわ・目黒こどもスクールのウェブサイトでご確認ください。



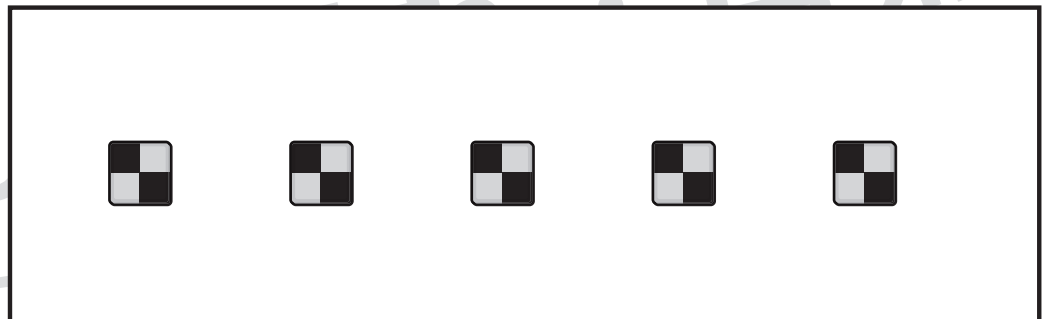
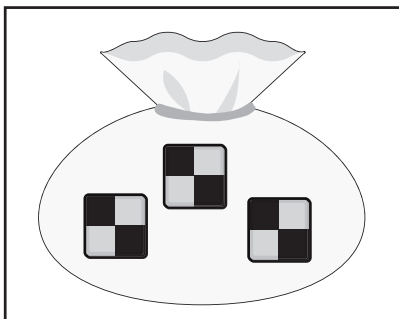

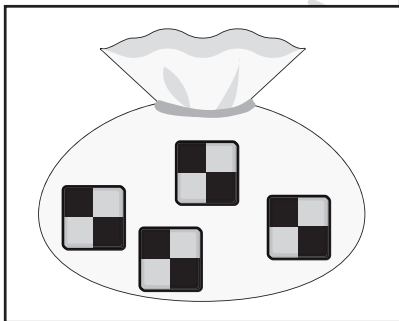
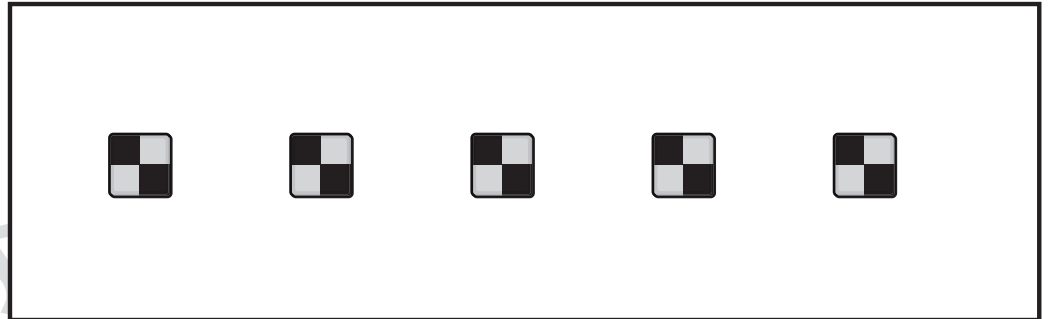
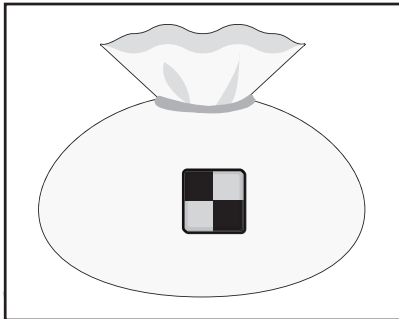

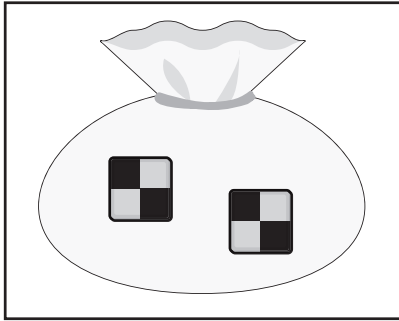


おうちで、やろう。

Study at home. 小学校受験の家庭学習教材

数量：合わせた数6

袋にはいくつかのクッキーが入っています。袋の中のクッキーとを6つにするにはあといくつ必要なのかを考えます。必要な数だけ右の四角のクッキーに○をつけます。



※1. このプリントは、しながわ・目黒こどもスクールのウェブサイトでダウンロードができます。無断複写・引用はご遠慮ください。
※2. このプリントを活用したオンライン授業のスケジュールは、しながわ・目黒こどもスクールのウェブサイトでご確認ください。

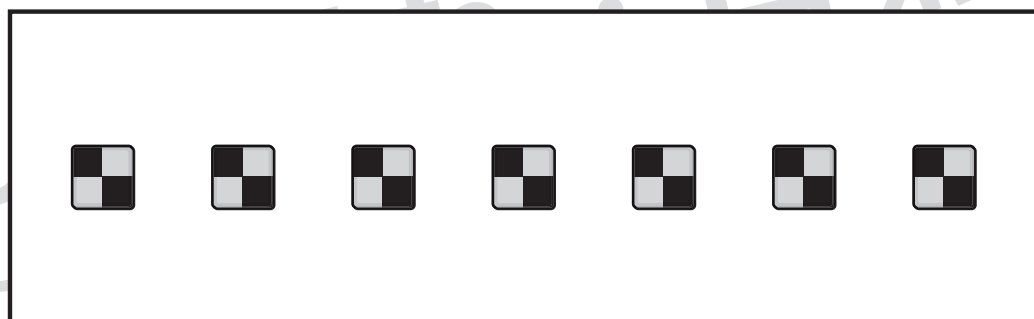
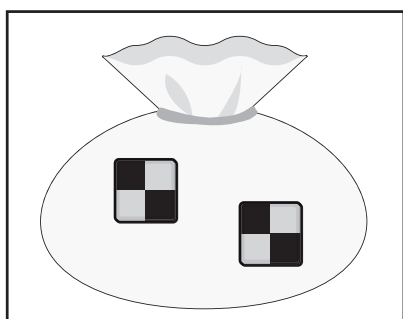
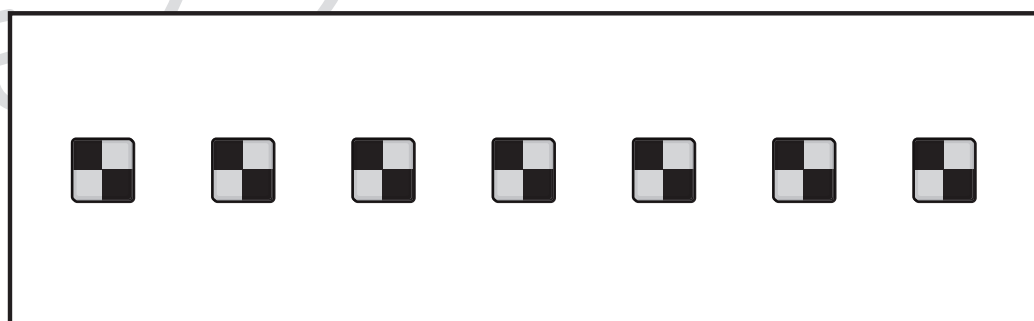
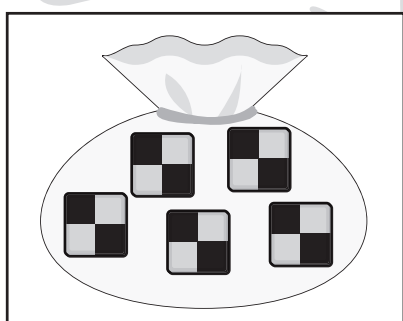
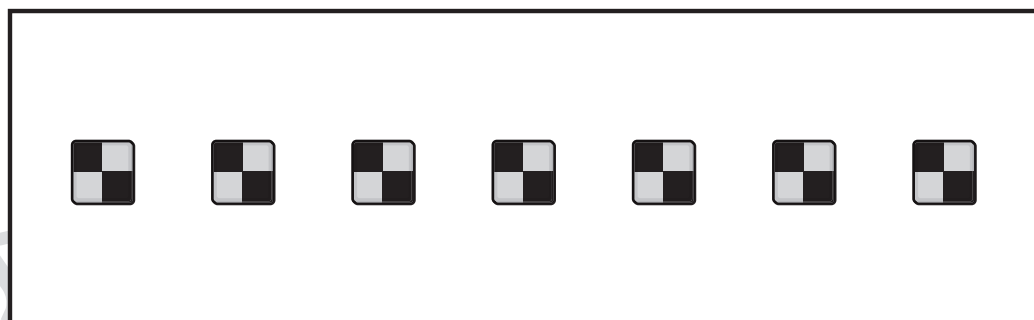
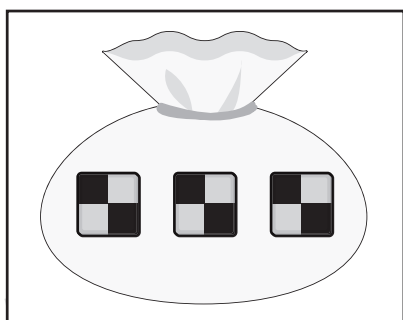
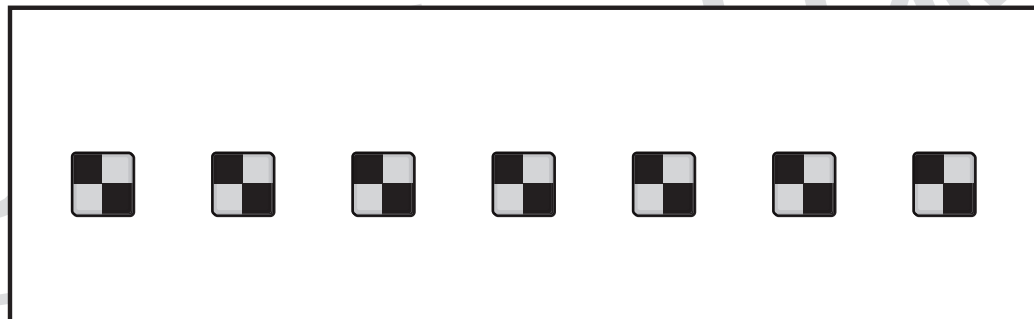
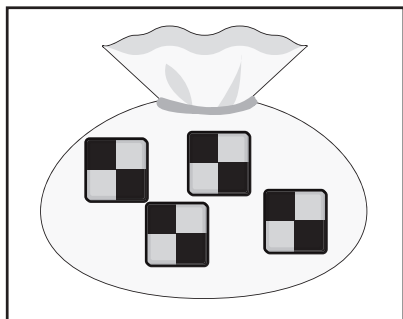


おうちで、やろう。

Study at home. 小学校受験の家庭学習教材

数量：合わせた数7

袋にはいくつかのクッキーが入っています。袋の中のクッキーとを6つにするにはあといくつ必要なのかを考えます。必要な数だけ右の四角のクッキーに○をつけます。



※1. このプリントは、しながわ・目黒こどもスクールのウェブサイトでダウンロードができます。無断複写・引用はご遠慮ください。
※2. このプリントを活用したオンライン授業のスケジュールは、しながわ・目黒こどもスクールのウェブサイトでご確認ください。



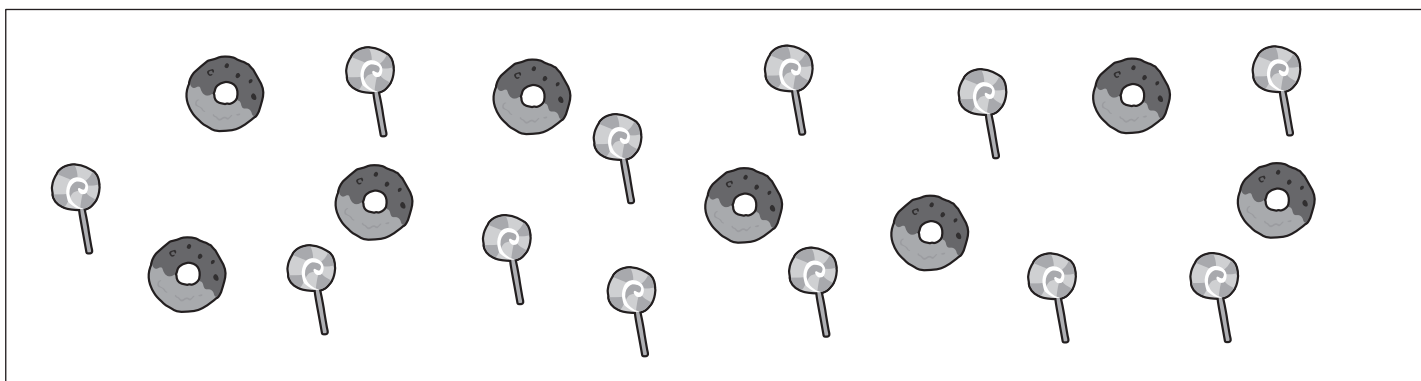

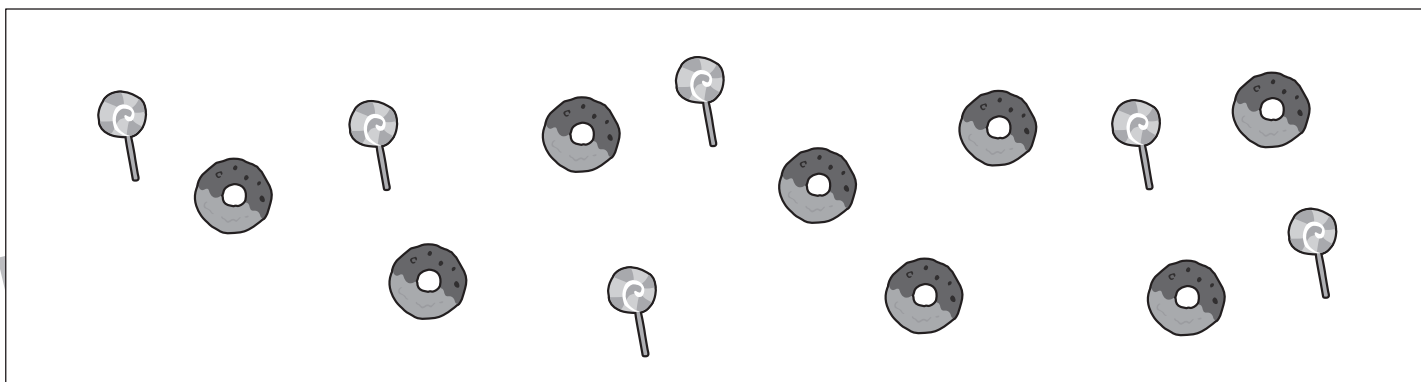

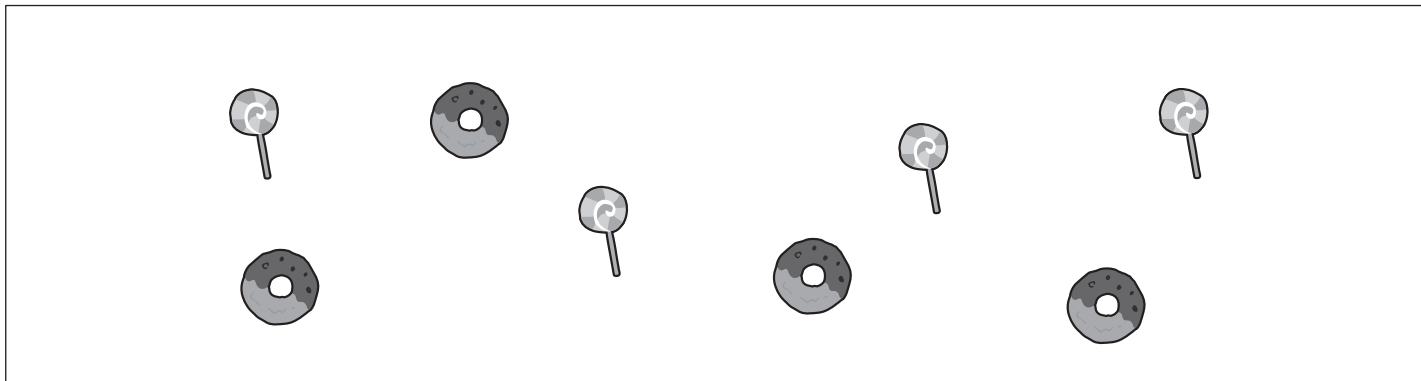


おうちで、やろう。

Study at home. 小学校受験の家庭学習教材

図形：分割5

四角の中のお菓子を2人で同じ数になるように分けると1人分はいくつになりますか。
その数だけ下のそれぞれの四角に○をかきます。



※1. このプリントは、しながわ・目黒こどもスクールのウェブサイトからダウンロードできます。無断複写・引用はご遠慮ください。
※2. このプリントを活用したオンライン授業のスケジュールは、しながわ・目黒こどもスクールのウェブサイトでご確認ください。


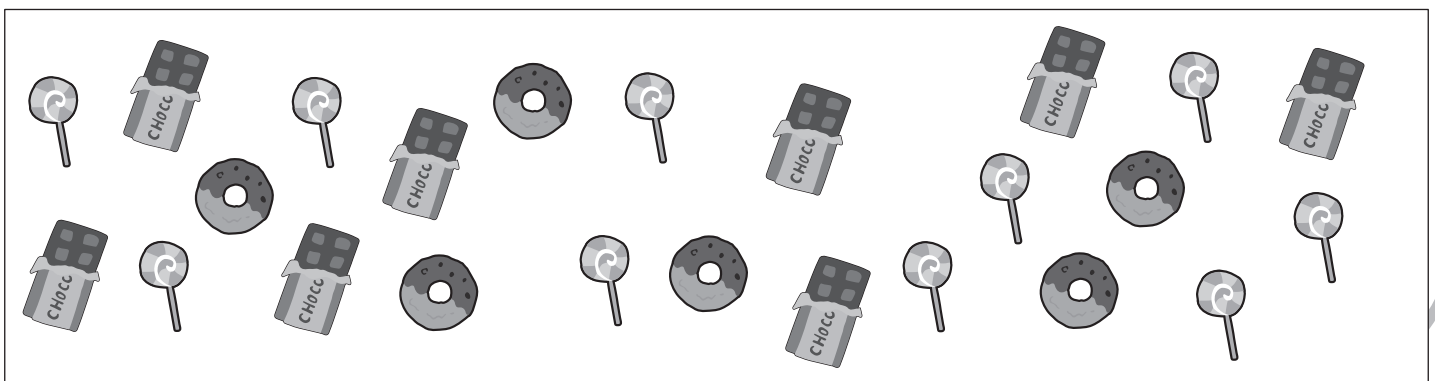

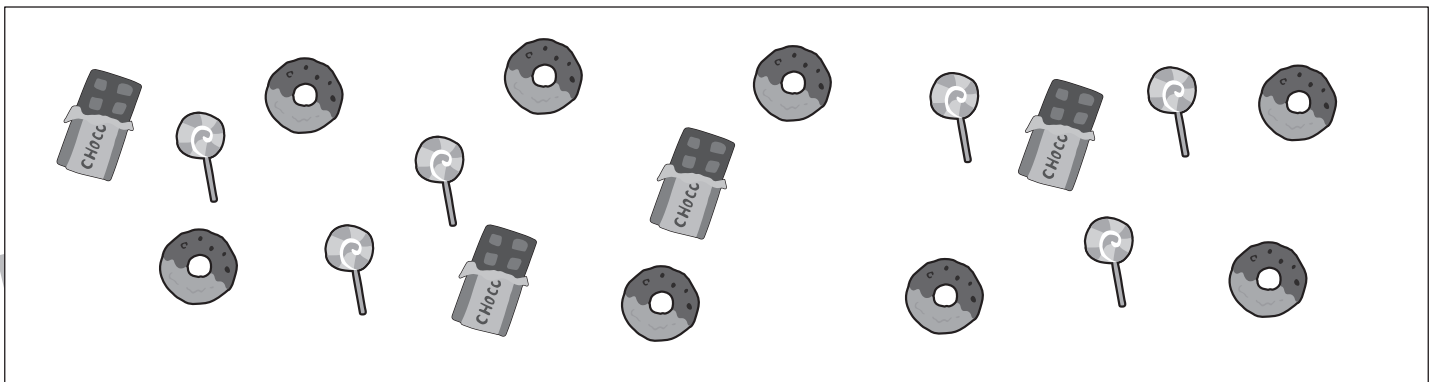
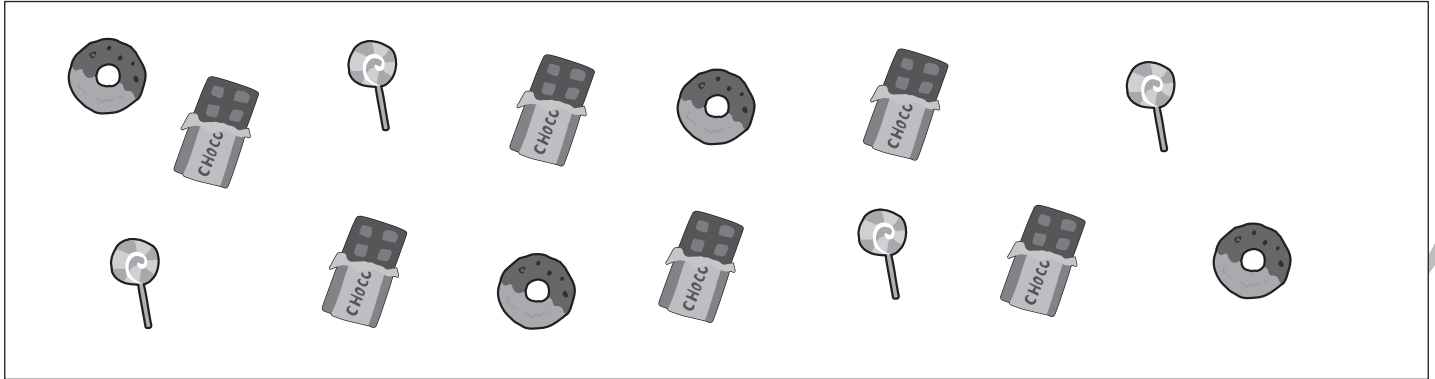


おうちで、やろう。

Study at home. 小学校受験の家庭学習教材

図形：分割6

四角の中のお菓子を2人で同じ数になるように分けると1人分はいくつになりますか。
その数だけ下のそれぞれの四角に○をかきます。



※1. このプリントは、しながわ・目黒こどもスクールのウェブサイトからダウンロードできます。無断複写・引用はご遠慮ください。
※2. このプリントを活用したオンライン授業のスケジュールは、しながわ・目黒こどもスクールのウェブサイトでご確認ください。





おうちで、やろう。

Study at home. 小学校受験の家庭学習教材

処理：運筆5

●から○まで一本の線をかきます。この時、壁にぶつからないようにきれいに素早く線をかきます。(1分～1分30秒)
※この問題に解答はありません。



※1. このプリントは、しながわ・目黒こどもスクールのウェブサイトでダウンロードができます。無断複写・引用はご遠慮ください。
※2. このプリントを活用したオンライン授業のスケジュールは、しながわ・目黒こどもスクールのウェブサイトでご確認ください。

