



おうちで、やろう。

Study at home. 小学校受験の家庭学習教材

指示の聞き取り7

それぞれのお話通りになるように色を塗ったり、記号をかきます。問題は1度しか読みませんのでしっかり聞きましょう。

- ①真ん中の丸の左に丸を、右に三角を鉛筆でかきます。
- ②四角の中に丸を、四角の左にバツを、四角の右に四角を鉛筆でかきます。
- ③丸を3つ並べてかきます。左の丸は青のクーピー、真ん中の丸は緑のクーピーで塗ります。右の丸は塗りません。

①

②

③

※1. このプリントは、しながわ・目黒こどもスクールのウェブサイトでダウンロードができます。無断複写・引用はご遠慮ください。

※2. このプリントを活用したオンライン授業のスケジュールは、しながわ・目黒こどもスクールのウェブサイトでご確認ください。












おうちで、やろう。

Study at home. 小学校受験の家庭学習教材

言語：音の数 12

左の動物と同じ音の数になる動物を右の四角の中から選び○をつけます。



※1. このプリントは、しながわ・目黒こどもスクールのウェブサイトでダウンロードができます。無断複写・引用はご遠慮ください。

※2. このプリントを活用したオンライン授業のスケジュールは、しながわ・目黒こどもスクールのウェブサイトでご確認ください。







おうちで、やろう。


Study at home. 小学校受験の家庭学習教材

推理：重さの置き換え1

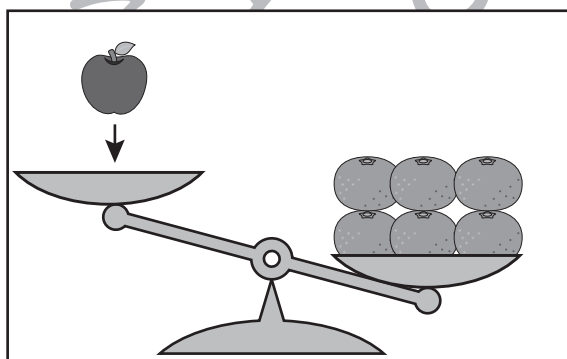
太線の天秤はつり合っています。下の四角の中の天秤がつり合うには矢印の上の果物をいくつ置けばよいですか。その数だけ、右の四角の中に○をかきます。



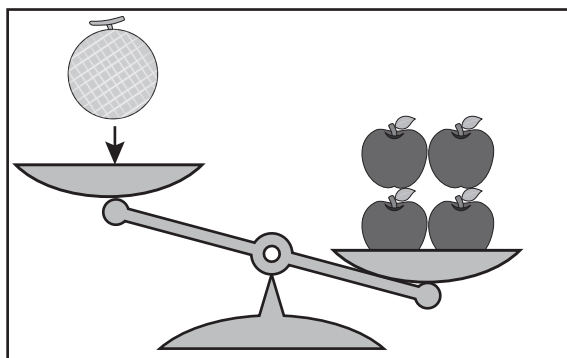
$$\bigcirc \times 2$$



$$\bigcirc \times 2$$



$$\bigcirc \times 3$$



$$\bigcirc \times 2$$

※1. このプリントは、しながわ・目黒こどもスクールのウェブサイトでダウンロードができます。無断複写・引用はご遠慮ください。

※2. このプリントを活用したオンライン授業のスケジュールは、しながわ・目黒こどもスクールのウェブサイトでご確認ください。



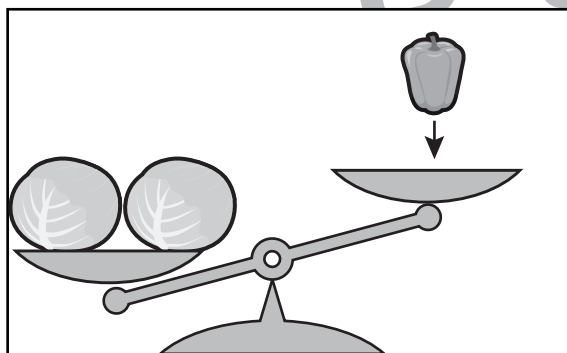
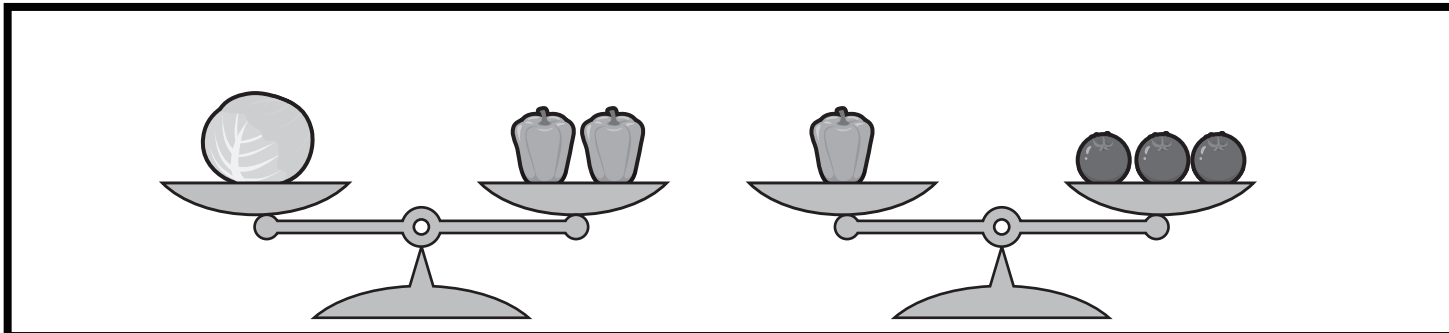


おうちで、やろう。

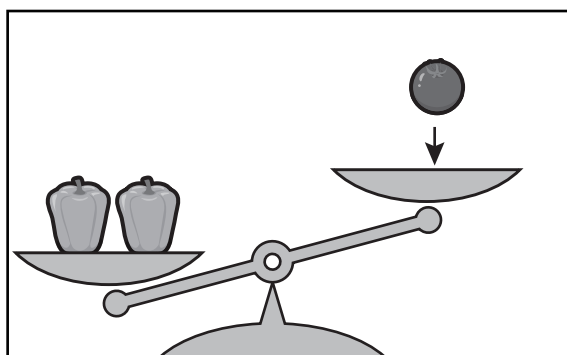
Study at home. 小学校受験の家庭学習教材

推理：重さの置き換え2

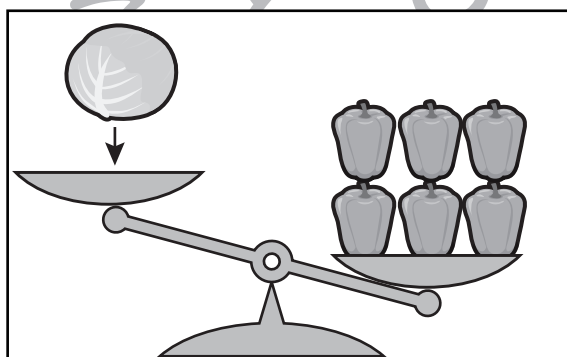
太線の天秤はつり合っています。下の四角の中の天秤がつり合うには矢印の上の野菜をいくつ置けばよいですか。その数だけ、右の四角の中に○をかきます。



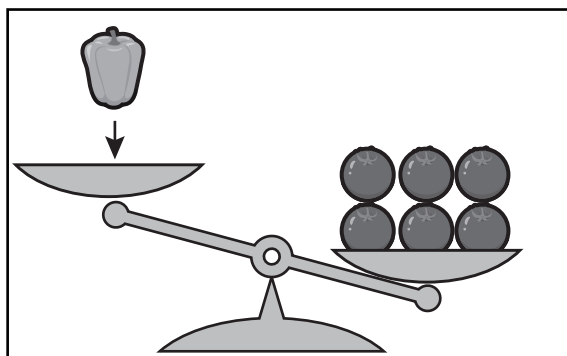
$$\bigcirc \times 4$$



$$\bigcirc \times 6$$



$$\bigcirc \times 3$$



$$\bigcirc \times 2$$

※1. このプリントは、しながわ・目黒こどもスクールのウェブサイトからダウンロードできます。無断複写・引用はご遠慮ください。

※2. このプリントを活用したオンライン授業のスケジュールは、しながわ・目黒こどもスクールのウェブサイトでご確認ください。





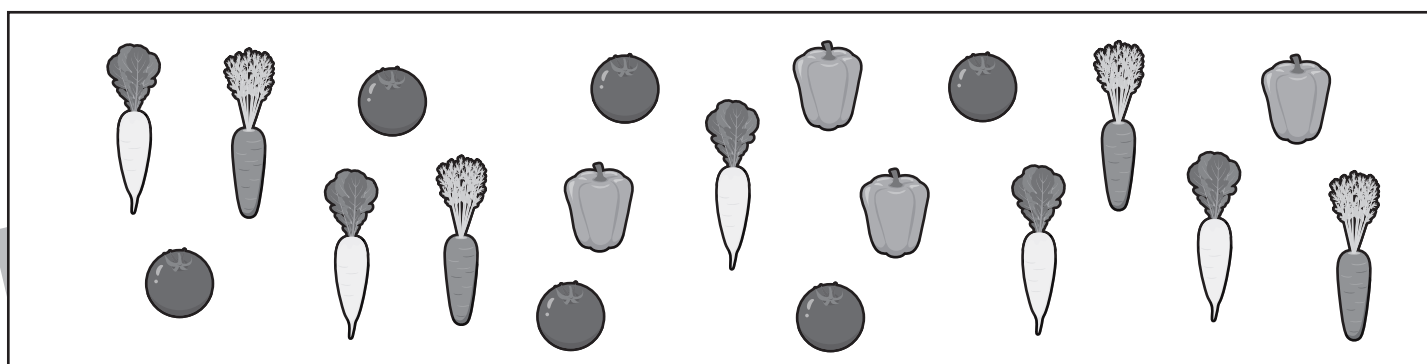




おうちで、やろう。

Study at home. 小学校受験の家庭学習教材

数量：同数5

上の四角の中から同じ数同士の絵を2つ見つけて下の四角の中の絵に○をつけます。



※1. このプリントは、しながわ・目黒こどもスクールのウェブサイトからダウンロードできます。無断複写・引用はご遠慮ください。
※2. このプリントを活用したオンライン授業のスケジュールは、しながわ・目黒こどもスクールのウェブサイトでご確認ください。








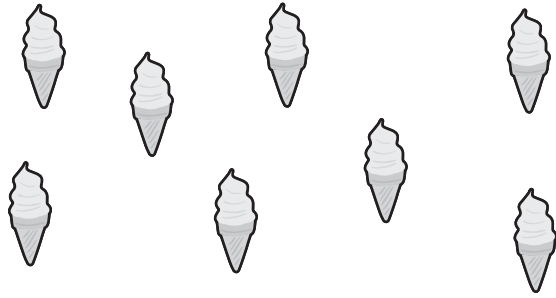



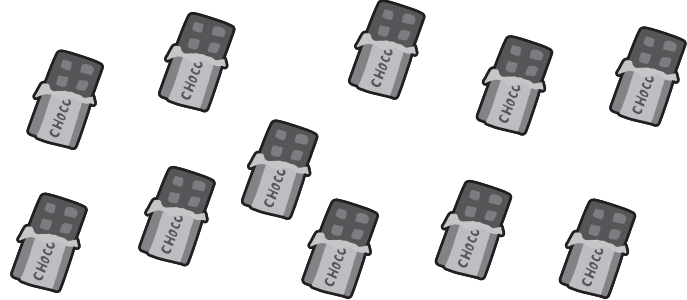


おうちで、やろう。

Study at home. 小学校受験の家庭学習教材

数量：余る数 1

左にいるお友だちが真ん中の大きな四角の中の食べ物を仲良く同じ数になるように分けます。
この時、余る食べ物の数だけ右の四角に○をかきます。

		$\bigcirc \times 1$
		$\bigcirc \times 1$
		$\bigcirc \times 2$
		$\bigcirc \times 2$
		$\bigcirc \times 3$

※1. このプリントは、しながわ・目黒こどもスクールのウェブサイトからダウンロードできます。無断複写・引用はご遠慮ください。

※2. このプリントを活用したオンライン授業のスケジュールは、しながわ・目黒こどもスクールのウェブサイトでご確認ください。

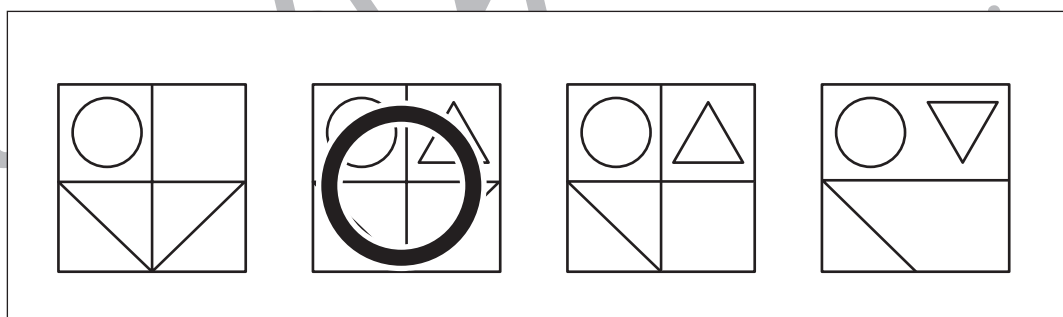
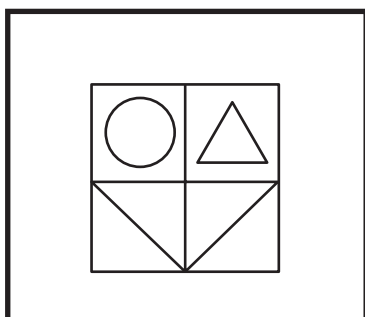
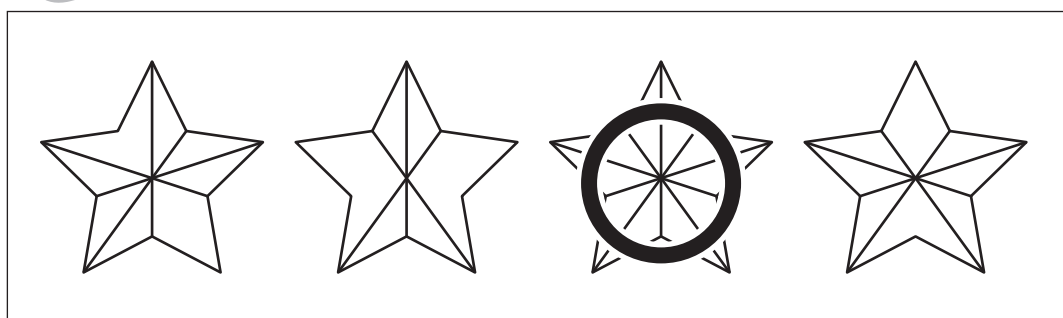
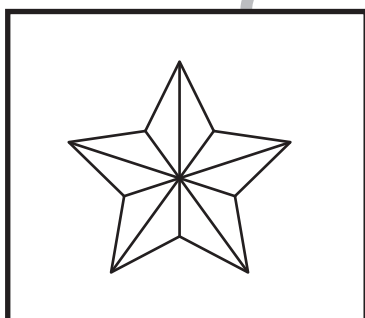

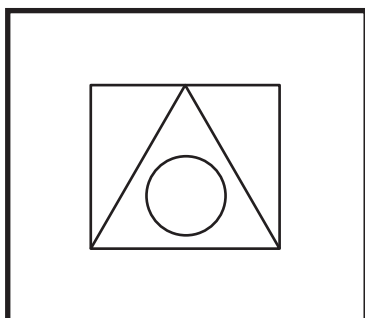
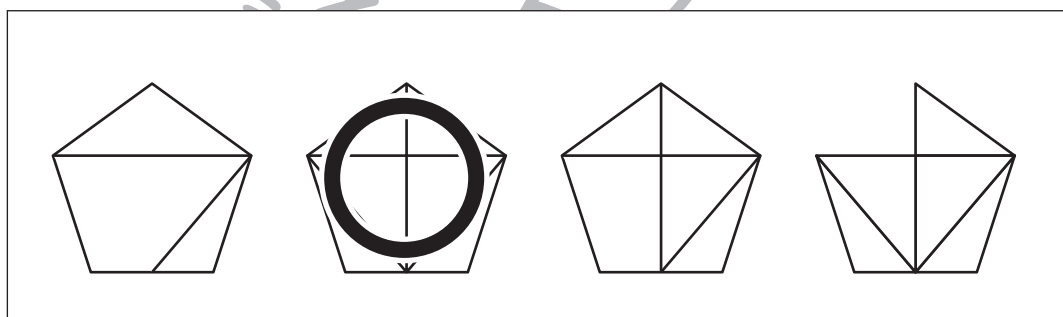
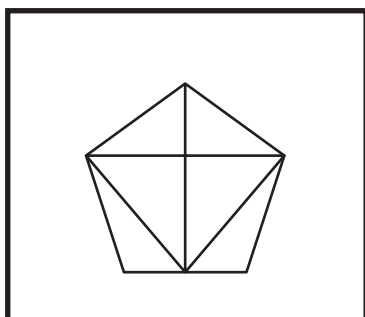
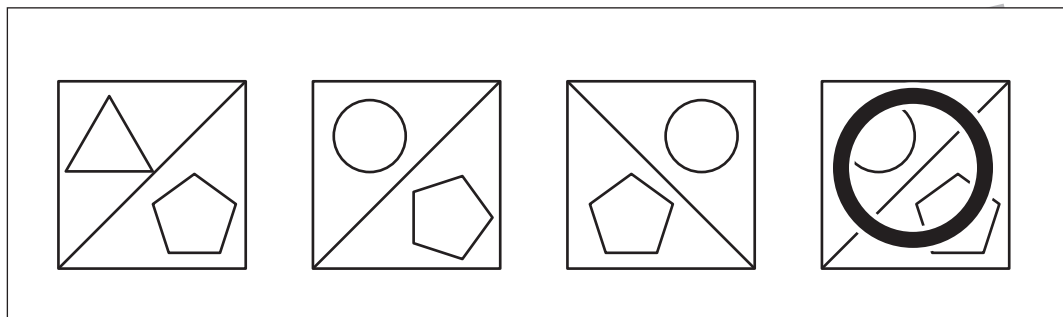
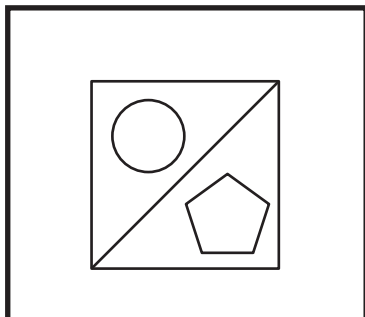


おうちで、やろう。

Study at home. 小学校受験の家庭学習教材

図形：同図形 5

左の太い四角の中がお手本です。このお手本と同じ形を右の4つの中から見つけて○をつけます。
四角の中の形は回転をさせてはいけません。



※1. このプリントは、しながわ・目黒こどもスクールのウェブサイトでダウンロードができます。無断複写・引用はご遠慮ください。
※2. このプリントを活用したオンライン授業のスケジュールは、しながわ・目黒こどもスクールのウェブサイトでご確認ください。





おうちで、やろう。

Study at home. 小学校受験の家庭学習教材

図形：置き換え 1

上の黒い四角を○に置き換えます。この約束で下の四角に○をかきます。間違えてしまった場合は一番下の四角にかきます。

※1. このプリントは、しながわ・目黒こどもスクールのウェブサイトからダウンロードできます。無断複写・引用はご遠慮ください。

※2. このプリントを活用したオンライン授業のスケジュールは、しながわ・目黒こどもスクールのウェブサイトでご確認ください。

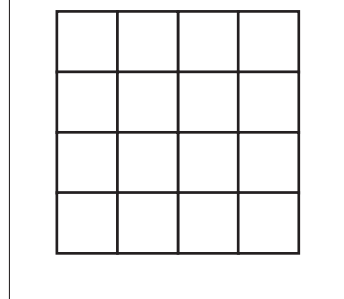

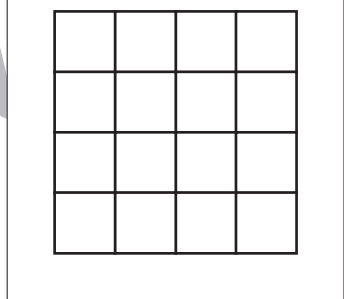

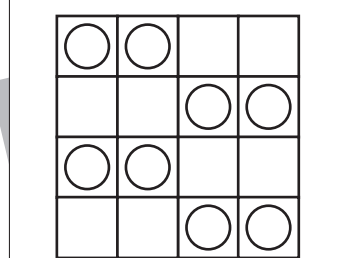
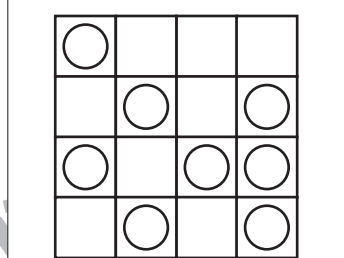
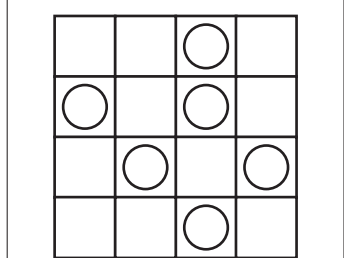
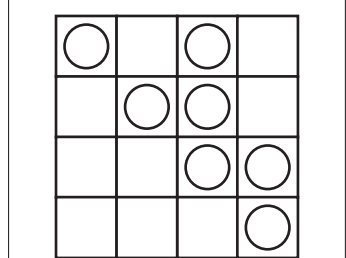
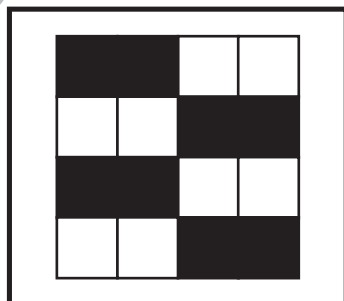



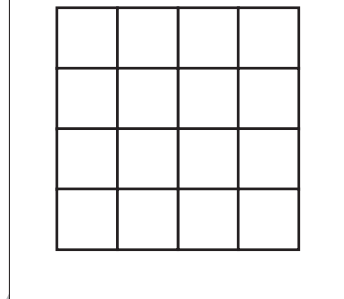

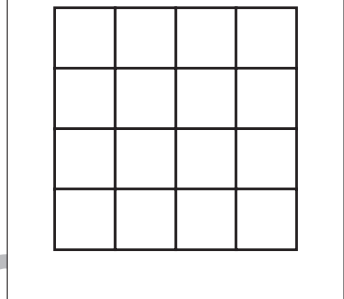
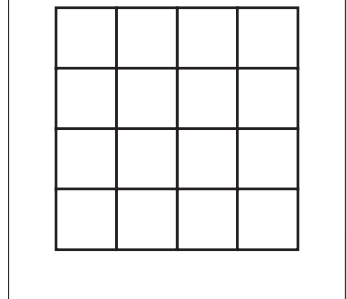
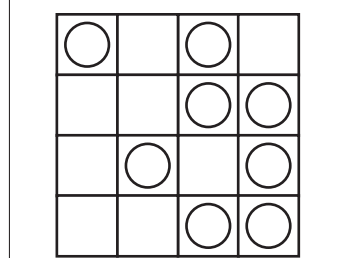
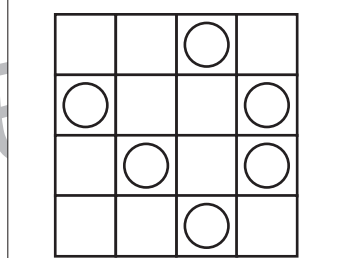
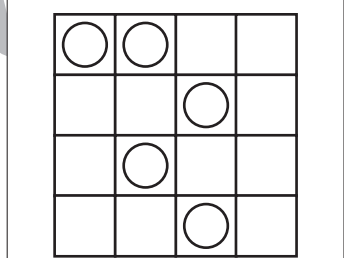
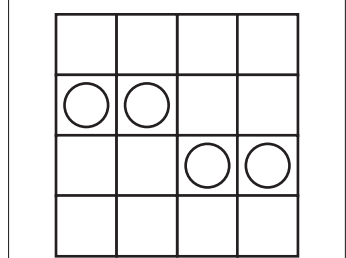



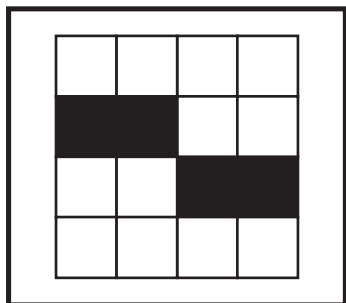


おうちで、やろう。

Study at home. 小学校受験の家庭学習教材

図形：置き換え 2

上の黒い四角を○に置き換えます。この約束で下の四角に○をかきます。間違えてしまった場合は一番下の四角にかきます。



※1. このプリントは、しながわ・目黒こどもスクールのウェブサイトでダウンロードができます。無断複写・引用はご遠慮ください。

※2. このプリントを活用したオンライン授業のスケジュールは、しながわ・目黒こどもスクールのウェブサイトでご確認ください。

