



おうちで、やろう。

Study at home. 小学校受験の家庭学習教材

記憶：絵の記憶6 記憶用紙

別紙「記憶：絵の記憶6」を行う際に使用します。記憶用紙は点線で折り、それぞれ20秒間ずつ記憶させてください。

記憶する際は問題用紙は裏返しにします。記憶後①、②それぞれの問題に答えましょう。

お手本と同じように記号をかきます。

※2024年1月22日(月)のオンライン授業では実施中に記憶する絵を画面で表示します。

①・②今見た絵と全く同じになるようにマスの中を塗ります。

①

②

※1. このプリントは、しながわ・目黒こどもスクールのウェブサイトからダウンロードができます。無断複写・引用はご遠慮ください。

※2. このプリントを活用したオンライン授業のスケジュールは、しながわ・目黒こどもスクールのウェブサイトでご確認ください。



おうちで、やろう。

Study at home. 小学校受験の家庭学習教材

記憶：絵の記憶6

別紙『記憶 - 絵の記憶6 記憶用紙』を使用します。記憶用紙の絵を見た後に問題に取り組みましょう。

※この問題に解答はありませんので、記憶用紙で確認してください。

①・②今見た絵と全く同じになるようにマスの中を塗ります。

①

②

※1. このプリントは、しながわ・目黒こどもスクールのウェブサイトからダウンロードができます。無断複写・引用はご遠慮ください。

※2. このプリントを活用したオンライン授業のスケジュールは、しながわ・目黒こどもスクールのウェブサイトでご確認ください。

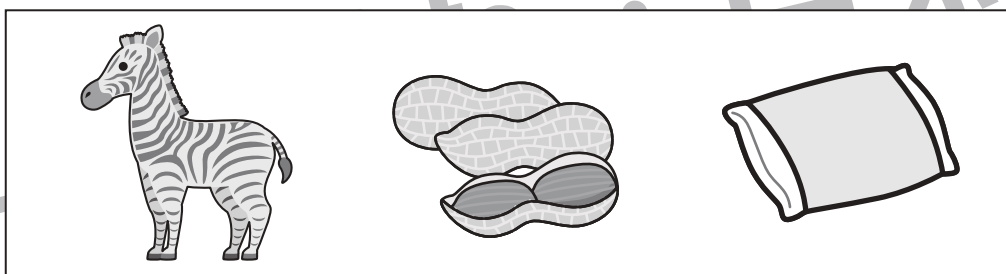





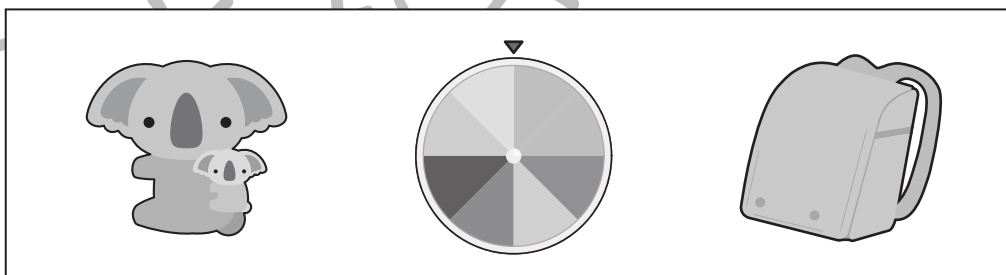

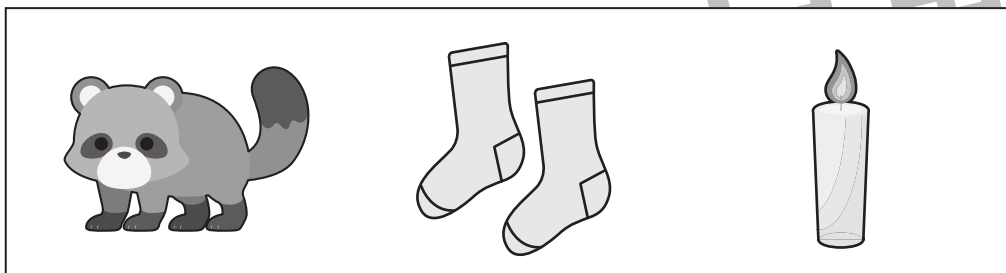
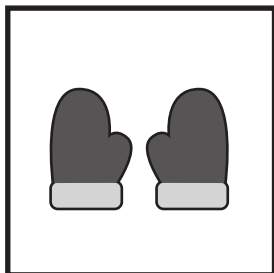


おうちで、やろう。

Study at home. 小学校受験の家庭学習教材

言語：しりとり6

左の四角の中の絵からしりとりをします。右の中でしりとりの最後になる絵を見つけて○をつけます。



※1. このプリントは、しながわ・目黒こどもスクールのウェブサイトでダウンロードができます。無断複写・引用はご遠慮ください。
※2. このプリントを活用したオンライン授業のスケジュールは、しながわ・目黒こどもスクールのウェブサイトでご確認ください。






おうちで、やろう。

Study at home. 小学校受験の家庭学習教材

常識：季節8

下の大きな四角の絵の中で春の絵には○、冬の絵には△をつけます。



※1. このプリントは、しながわ・目黒こどもスクールのウェブサイトからダウンロードできます。無断複写・引用はご遠慮ください。

※2. このプリントを活用したオンライン授業のスケジュールは、しながわ・目黒こどもスクールのウェブサイトでご確認ください。




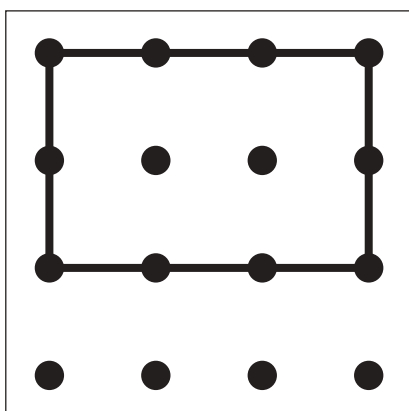
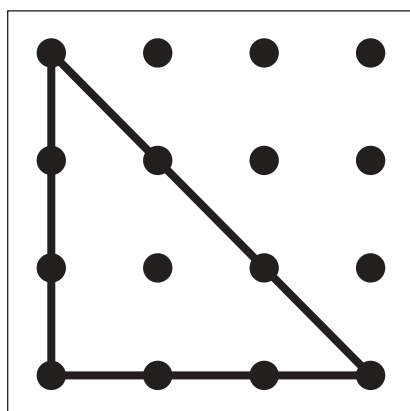

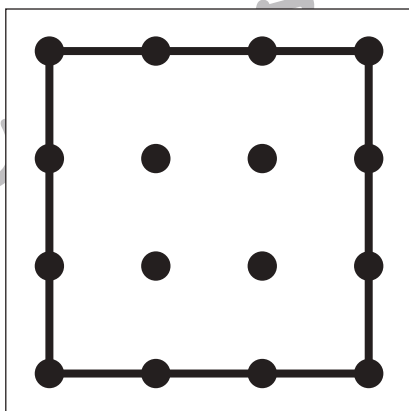
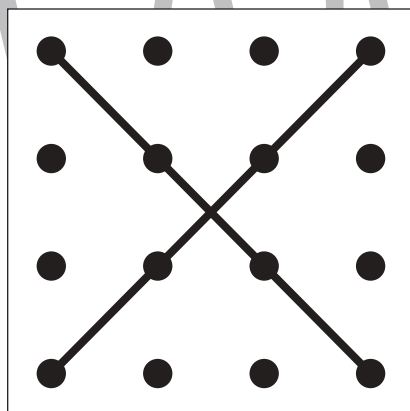

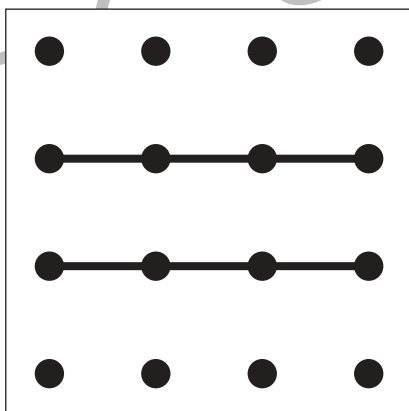
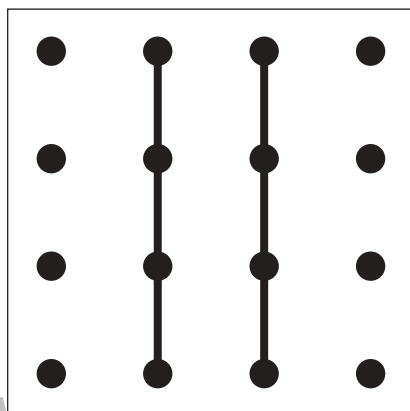

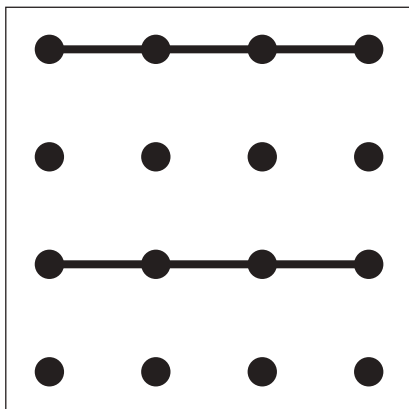
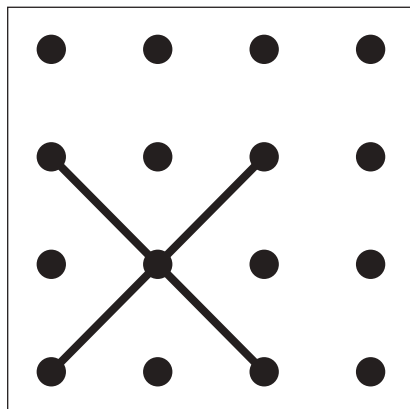


おうちで、やろう。

Study at home. 小学校受験の家庭学習教材

図形：重ね点図形 2

左の2枚の板は透明です。2枚の点図形を重ねた形を考えて、矢印の右の四角にかきます。



※1. このプリントは、しながわ・目黒こどもスクールのウェブサイトでダウンロードができます。無断複写・引用はご遠慮ください。

※2. このプリントを活用したオンライン授業のスケジュールは、しながわ・目黒こどもスクールのウェブサイトでご確認ください。





おうちで、やろう。

Study at home. 小学校受験の家庭学習教材

図形：鏡 10

太い線の場所に鏡を置いて絵を写したときの見え方を考えて、正しいものに○をつけます。

<hr/>	<hr/>	<hr/>	<hr/>
<hr/>	<hr/>	<hr/>	<hr/>

※1. このプリントは、しながわ・目黒こどもスクールのウェブサイトでダウンロードができます。無断複写・引用はご遠慮ください。

※2. このプリントを活用したオンライン授業のスケジュールは、しながわ・目黒こどもスクールのウェブサイトでご確認ください。





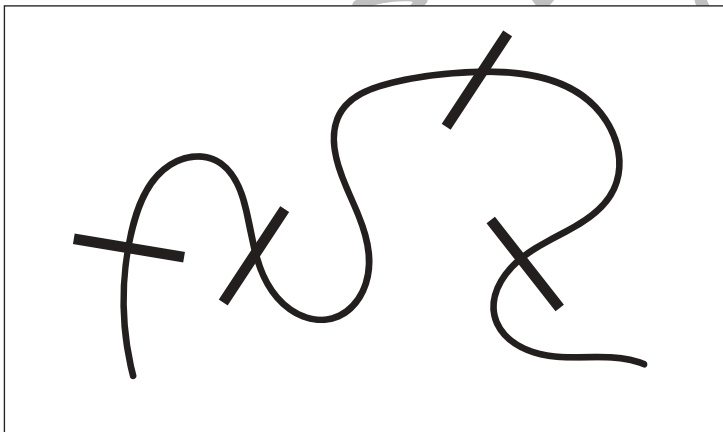

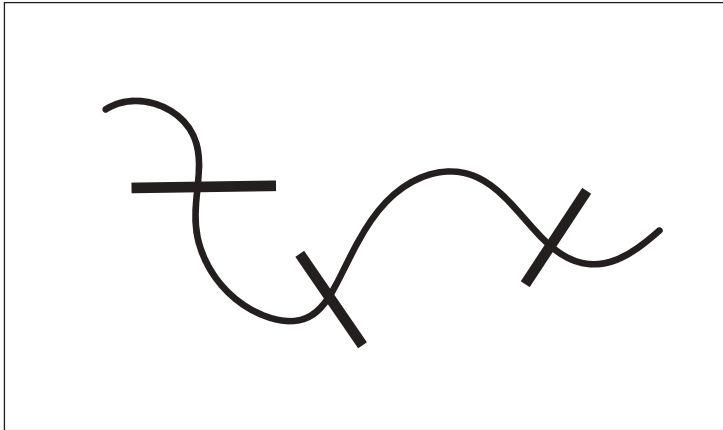


おうちで、やろう。

Study at home. 小学校受験の家庭学習教材

推理：ひも1

四角の中のひもを太い黒線のところでハサミで切った時、ひもは何本になりますか。その数だけ右の四角の中に○をかきます。



※1. このプリントは、しながわ・目黒こどもスクールのウェブサイトでダウンロードができます。無断複写・引用はご遠慮ください。
※2. このプリントを活用したオンライン授業のスケジュールは、しながわ・目黒こどもスクールのウェブサイトでご確認ください。







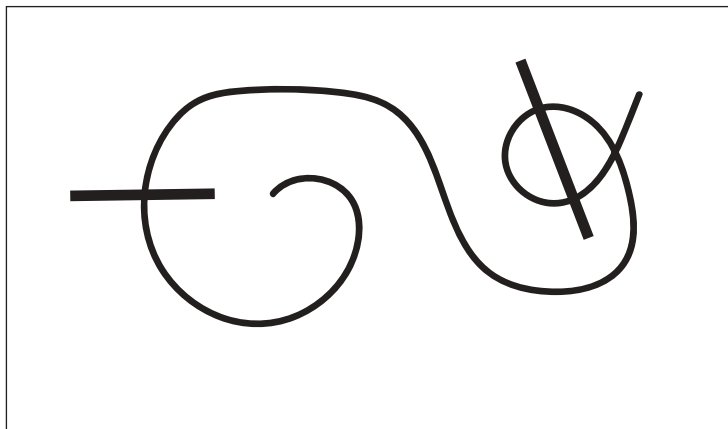


おうちで、やろう。

Study at home. 小学校受験の家庭学習教材

推理：ひも2

四角の中のひもを太い黒線のところでハサミで切った時、ひもは何本になりますか。その数だけ右の四角の中に○をかきます。



※1. このプリントは、しながわ・目黒こどもスクールのウェブサイトでダウンロードができます。無断複写・引用はご遠慮ください。
※2. このプリントを活用したオンライン授業のスケジュールは、しながわ・目黒こどもスクールのウェブサイトでご確認ください。










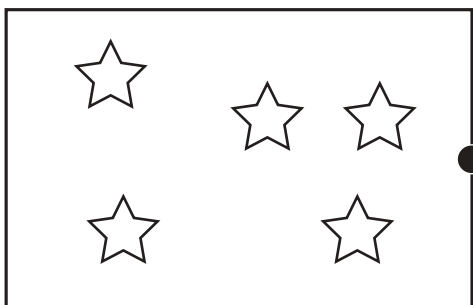

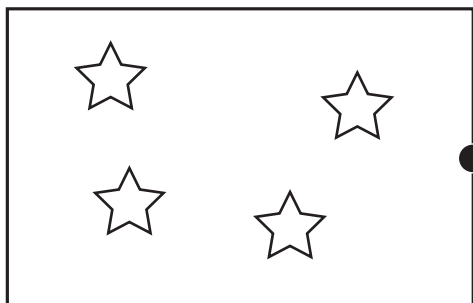
おうちで、やろう。

Study at home. 小学校受験の家庭学習教材

数量：加減9

上の灰色の星の数がお手本の数です。

左の白い星と右の黒い星を合わせると灰色の星の数になる組み合わせを考えて点を点を結びます。



※1. このプリントは、しながわ・目黒こどもスクールのウェブサイトでダウンロードができます。無断複写・引用はご遠慮ください。

※2. このプリントを活用したオンライン授業のスケジュールは、しながわ・目黒こどもスクールのウェブサイトでご確認ください。





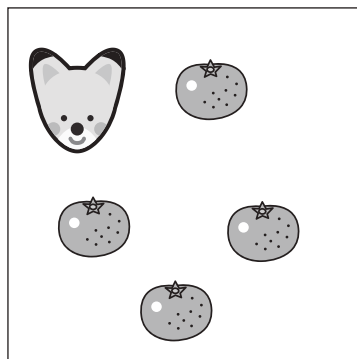



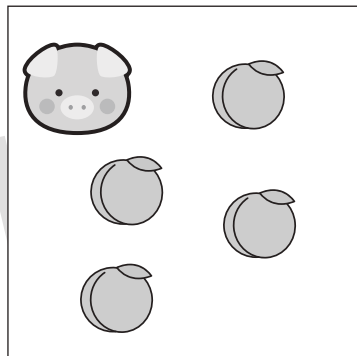




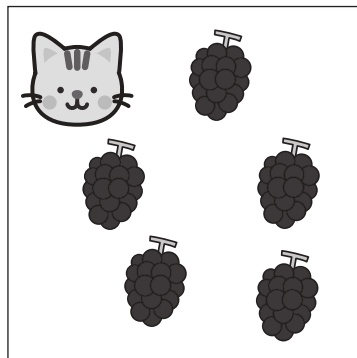


おうちで、やろう。

Study at home. 小学校受験の家庭学習教材

数量：加減9

動物たちがそれぞれ果物を持っています。どちらがいくつ多いのか考えて、その数だけ多い方の動物の四角に○をかきます。



※1. このプリントは、しながわ・目黒こどもスクールのウェブサイトからダウンロードできます。無断複写・引用はご遠慮ください。

※2. このプリントを活用したオンライン授業のスケジュールは、しながわ・目黒こどもスクールのウェブサイトでご確認ください。



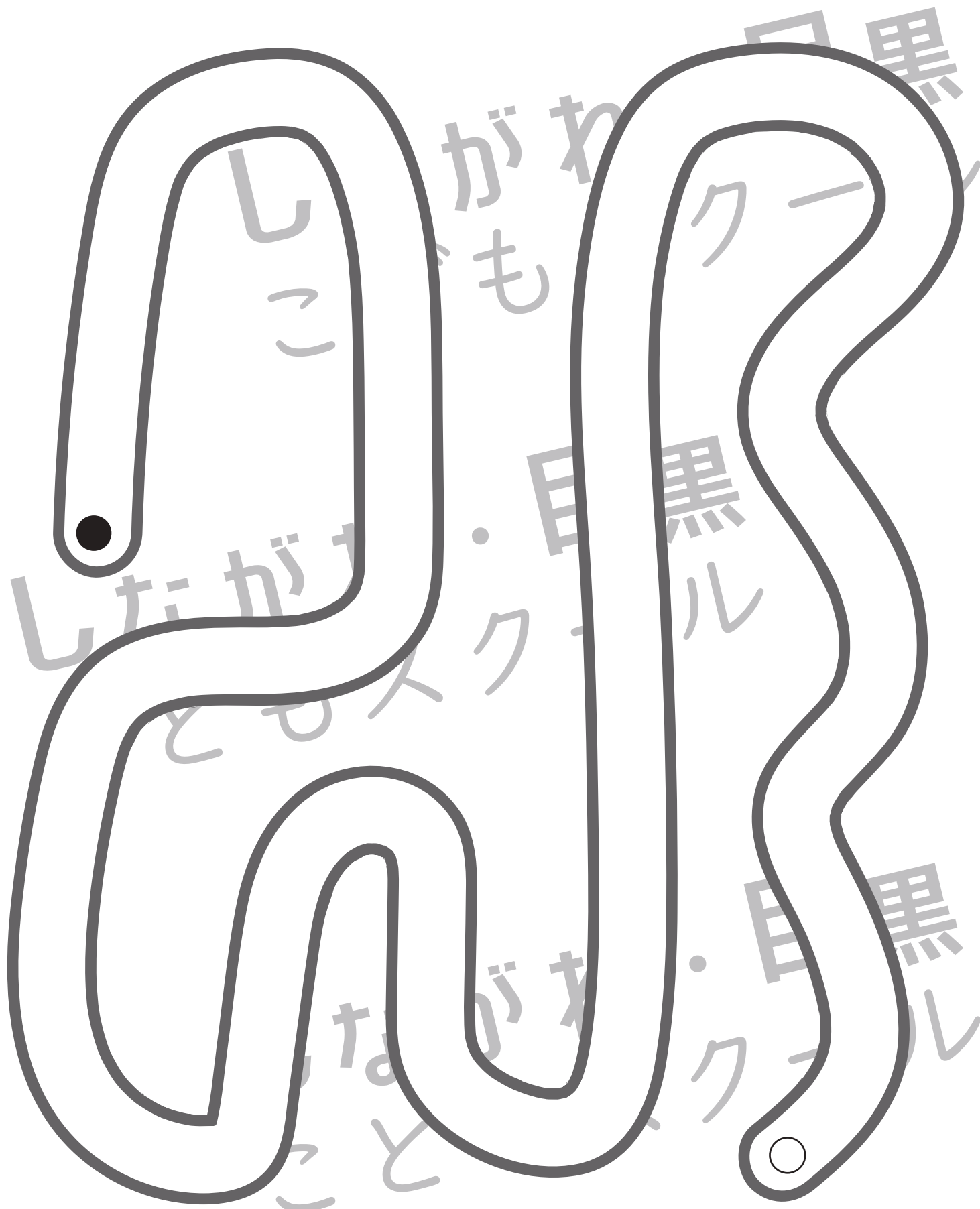


おうちで、やろう。

Study at home. 小学校受験の家庭学習教材

処理：運筆6

●から○まで一本の線をかきます。この時、壁にぶつからないようにきれいに素早く線をかきます。(1分～1分30秒)
※この問題に解答はありません。



※1. このプリントは、しながわ・目黒こどもスクールのウェブサイトでダウンロードができます。無断複写・引用はご遠慮ください。
※2. このプリントを活用したオンライン授業のスケジュールは、しながわ・目黒こどもスクールのウェブサイトでご確認ください。