



おうちで、やろう。

Study at home. 小学校受験の家庭学習教材

指示の聞き取り 8

- ①上から3段目の右から2番目のマスを鉛筆で薄く塗ります。
- ②下から4段目の左から3番目のマスに青のクーピーで塗ります。
- ③一番上の段の真ん中のマスに緑のクーピーで塗ります。
- ④上から5段目の右から4番目のマスに紫のクーピーで塗ります。
- ⑤下から2段目の左から2番目のマスに赤のクーピーで塗ります。

		緑		
		青		
			鉛筆 薄く	
	赤			
	紫			

※1. このプリントは、しながわ・目黒こどもスクールのウェブサイトでダウンロードができます。無断複写・引用はご遠慮ください。

※2. このプリントを活用したオンライン授業のスケジュールは、しながわ・目黒こどもスクールのウェブサイトでご確認ください。

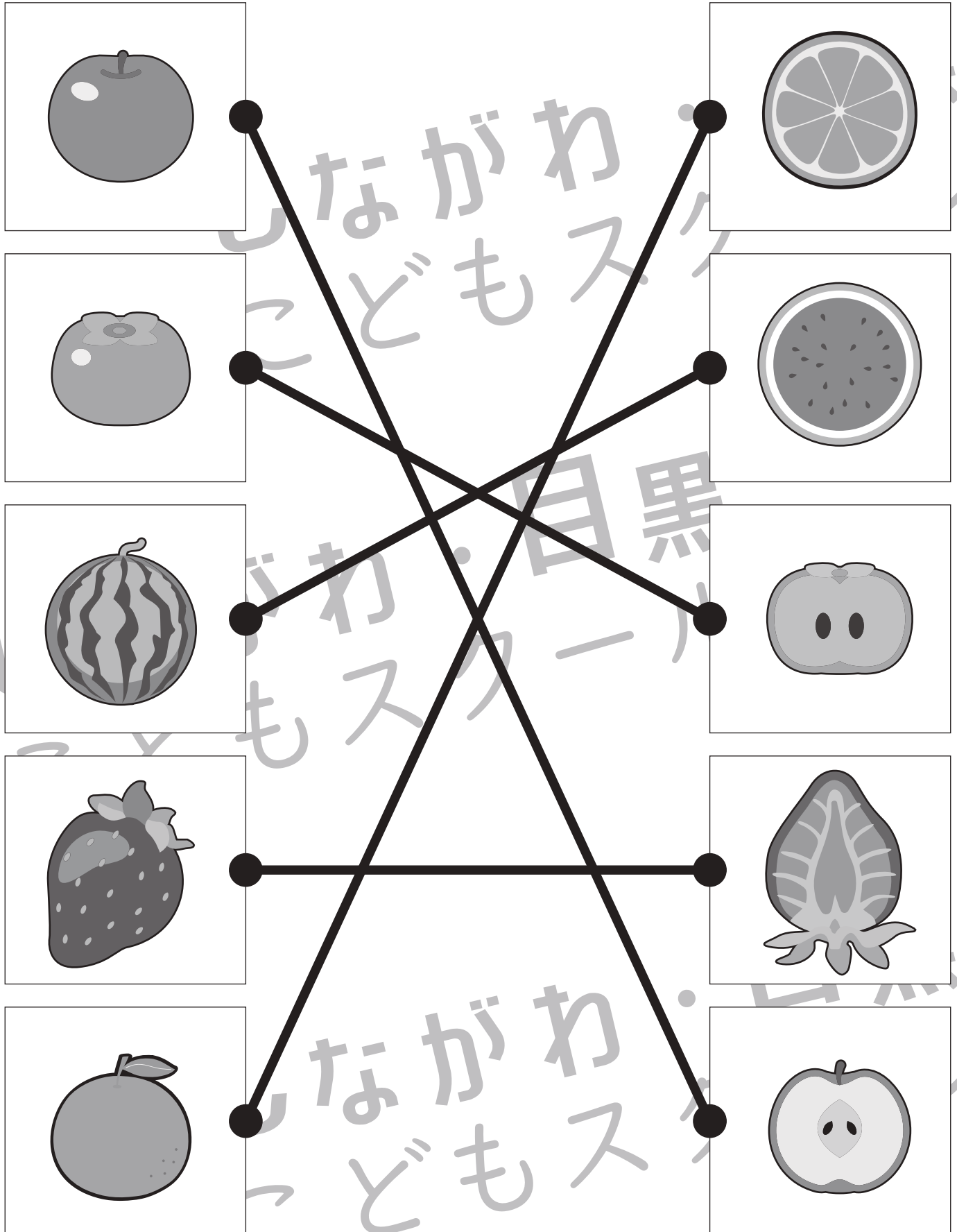


おうちで、やろう。

Study at home. 小学校受験の家庭学習教材

常識：果物 5

左の四角の中の果物を半分に切ったときの見え方を考えて、右から選んで点と点を線で結びます。



※1. このプリントは、しながわ・目黒こどもスクールのウェブサイトでダウンロードができます。無断複写・引用はご遠慮ください。
 ※2. このプリントを活用したオンライン授業のスケジュールは、しながわ・目黒こどもスクールのウェブサイトでご確認ください。












おうちで、やろう。

Study at home. 小学校受験の家庭学習教材

図形：重なり 10

左の太い四角の中は右の四角の中の形のうちいくつかを重ねて作ったものです。右の形の中で使っていないものを見つけて○をつけます。



※1. このプリントは、しながわ・目黒こどもスクールのウェブサイトでダウンロードができます。無断複写・引用はご遠慮ください。
※2. このプリントを活用したオンライン授業のスケジュールは、しながわ・目黒こどもスクールのウェブサイトでご確認ください。

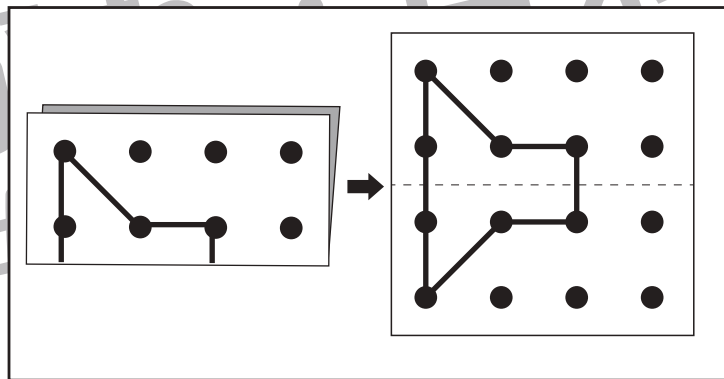
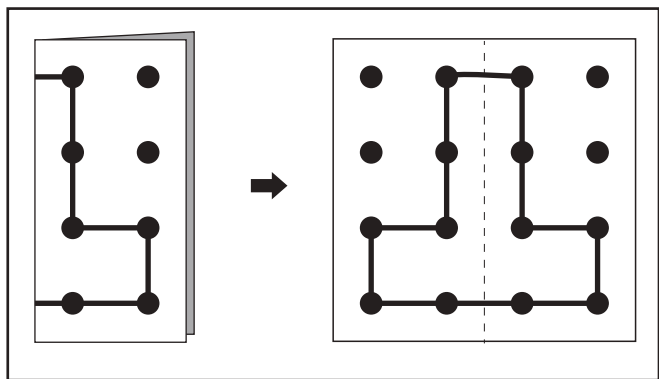
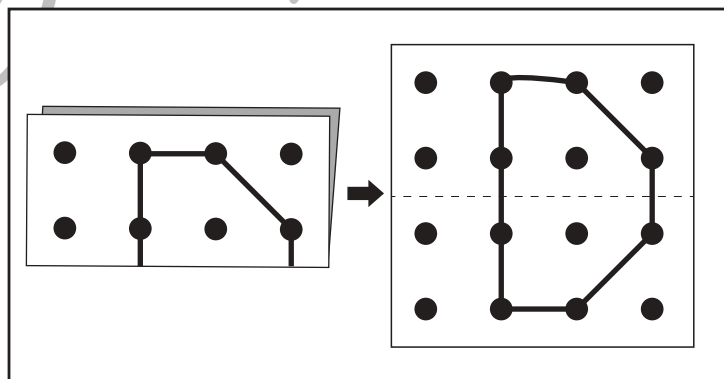
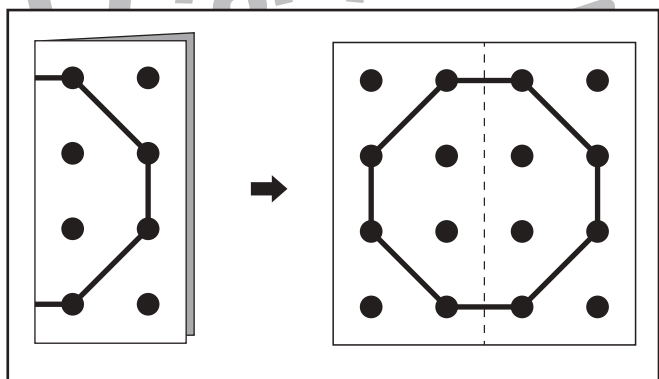
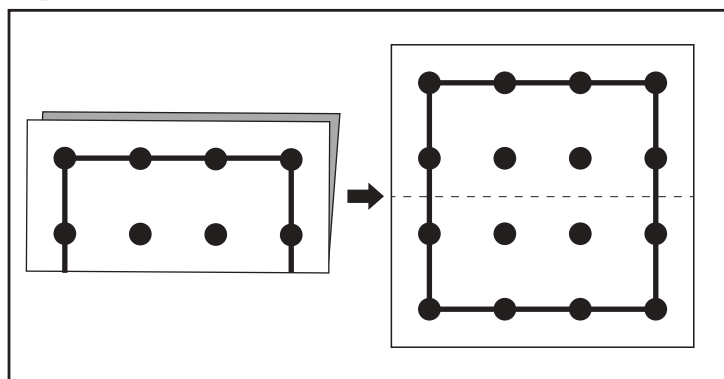
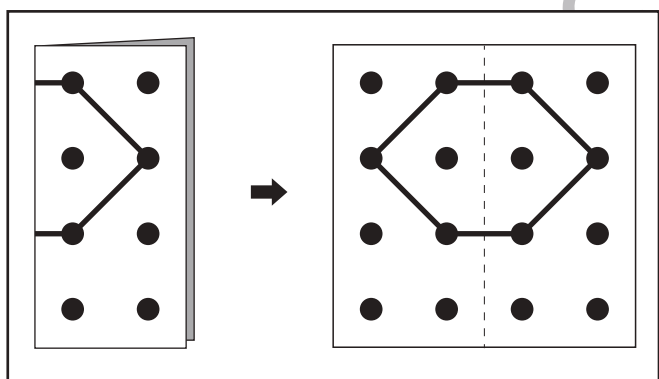
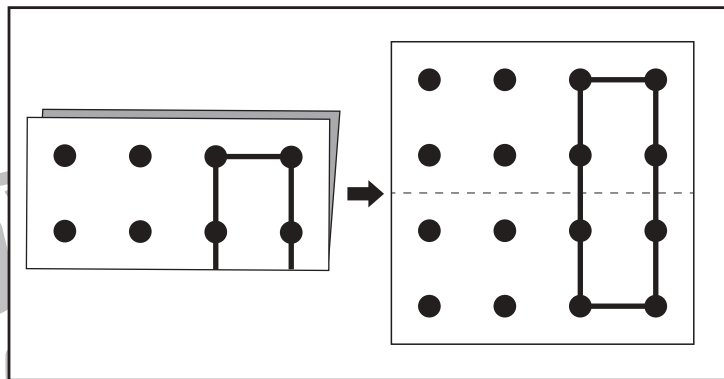
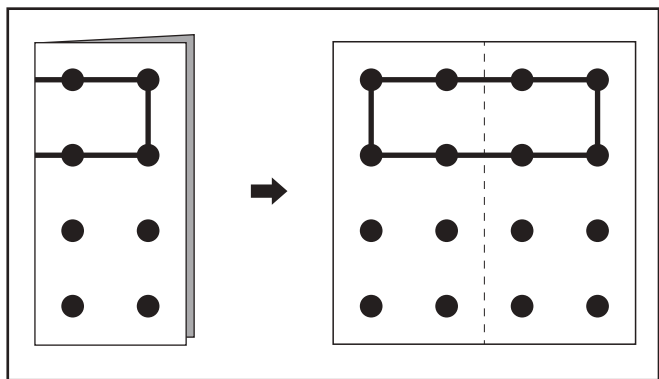


おうちで、やろう。

Study at home. 小学校受験の家庭学習教材

図形：切り抜き3

左の折り紙を線のところではさみで切って広げました。切ったあとの見え方を考えて右側の折り紙に線をかきます。



※1. このプリントは、しながわ・目黒こどもスクールのウェブサイトでダウンロードができます。無断複写・引用はご遠慮ください。
※2. このプリントを活用したオンライン授業のスケジュールは、しながわ・目黒こどもスクールのウェブサイトでご確認ください。



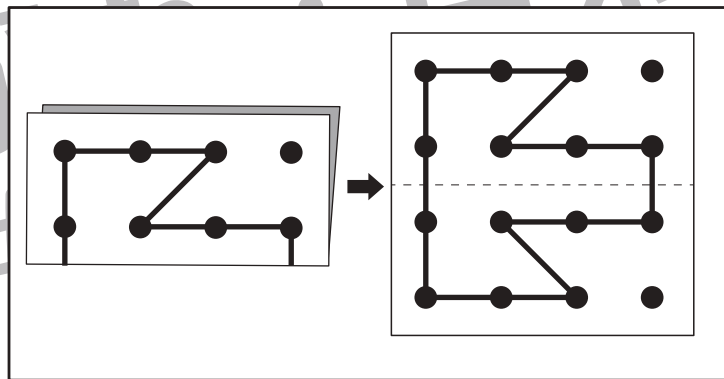
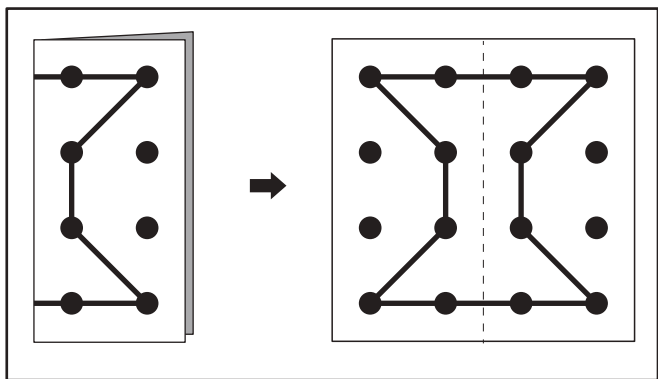
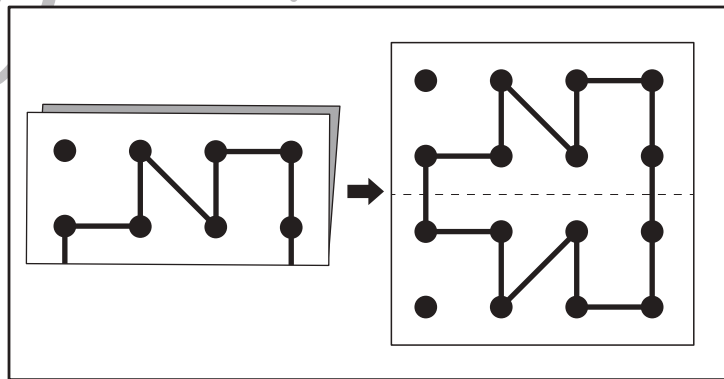
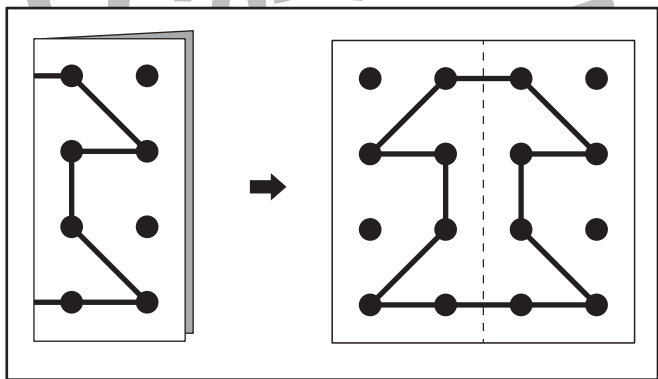
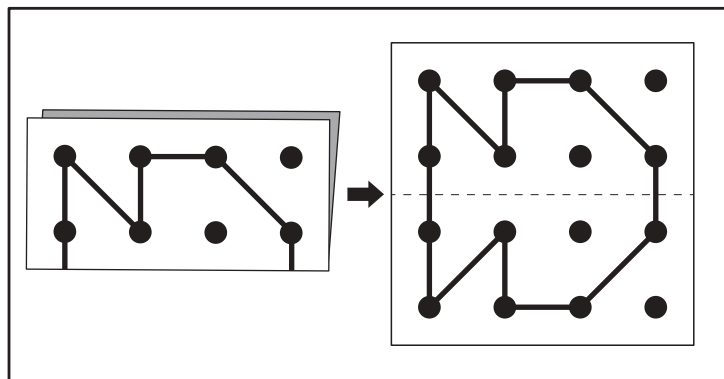
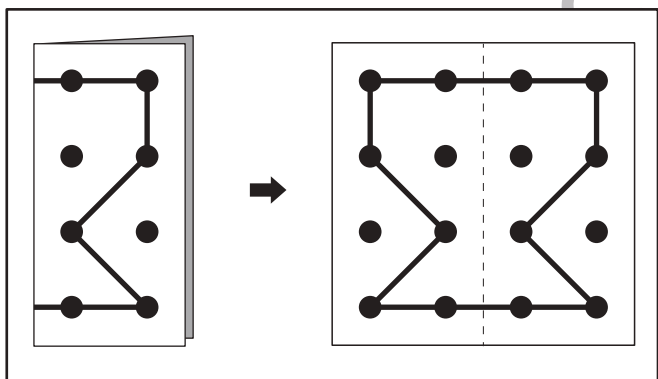
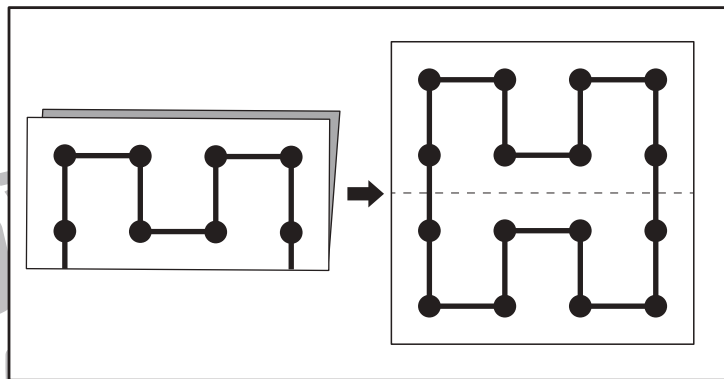
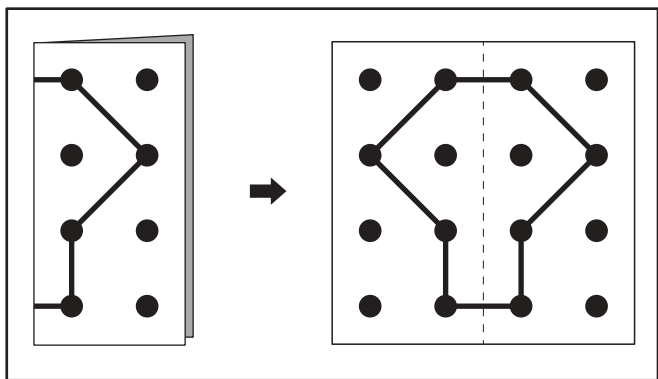


おうちで、やろう。

Study at home. 小学校受験の家庭学習教材

図形：切り抜き4

左の折り紙を線のところではさみで切って広げました。切ったあとの見え方を考えて右側の折り紙に線をかきます。



※1. このプリントは、しながわ・目黒こどもスクールのウェブサイトでダウンロードができます。無断複写・引用はご遠慮ください。
※2. このプリントを活用したオンライン授業のスケジュールは、しながわ・目黒こどもスクールのウェブサイトでご確認ください。










おうちで、やろう。

Study at home. 小学校受験の家庭学習教材

推理：四方観察 4

左の太い四角の中の積み木を男の子の方（左側）から見たときの見え方を考えます。
男の子が見えている積み木の数だけ右の四角の○をかきます。



※1. このプリントは、しながわ・目黒こどもスクールのウェブサイトでダウンロードができます。無断複写・引用はご遠慮ください。

※2. このプリントを活用したオンライン授業のスケジュールは、しながわ・目黒こどもスクールのウェブサイトでご確認ください。





おうちで、やろう。

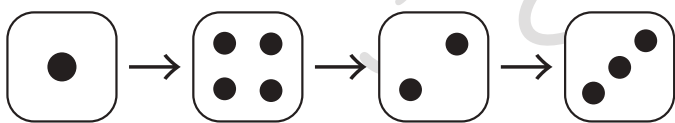
Study at home. 小学校受験の家庭学習教材

数量：すごろく 1

星から上のサイコロの目の数だけマスを進んでいき、最後に着いた場所に○をつけます。
サイコロは左から右へ順番通りに進みます。

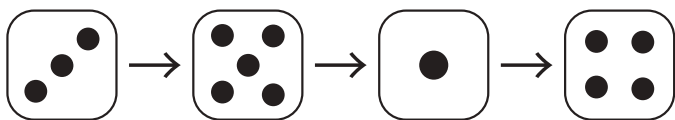


★								○
---	--	--	--	--	--	--	--	---



★								
---	--	--	--	--	--	--	--	--

						○	
--	--	--	--	--	--	---	--



★							
---	--	--	--	--	--	--	--

			○				
--	--	--	---	--	--	--	--

※1. このプリントは、しながわ・目黒こどもスクールのウェブサイトでダウンロードができます。無断複写・引用はご遠慮ください。
 ※2. このプリントを活用したオンライン授業のスケジュールは、しながわ・目黒こどもスクールのウェブサイトでご確認ください。



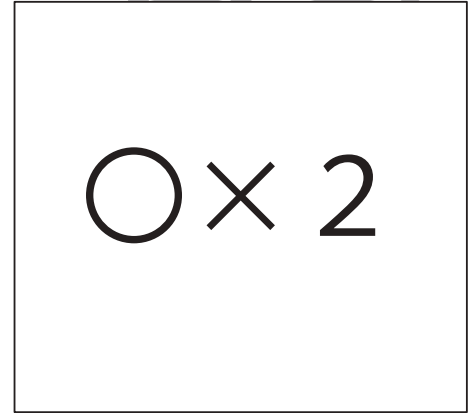

おうちで、やろう。

Study at home. 小学校受験の家庭学習教材


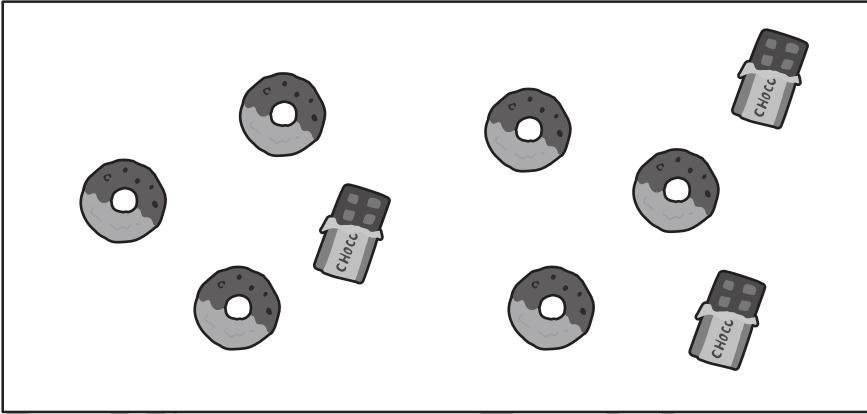
数量：違う数 3

- ①左の四角の中のニンジンとトウモロコシの数を数えて、違う数だけ右の四角の中に○をかきます。
- ②左の四角の中のドーナツとチョコレートの数を数えて、違う数だけ右の四角の中に○をかきます。
- ③左の四角の中のペンギンとクマの数を数えて、違う数だけ右の四角の中に○をかきます。
- ④左の四角の中のカニとイカの数を数えて、違う数だけ右の四角の中に○をかきます。



①




②



③



④



※1. このプリントは、しながわ・目黒こどもスクールのウェブサイトでダウンロードができます。無断複写・引用はご遠慮ください。
 ※2. このプリントを活用したオンライン授業のスケジュールは、しながわ・目黒こどもスクールのウェブサイトでご確認ください。





おうちで、やろう。

Study at home. 小学校受験の家庭学習教材


数量：違う数4

- ①左の四角の中のブロッコリーとピーマンの数を数えて、違う数だけ右の四角の中に○をかきます。
- ②左の四角の中のウサギとニワトリの数を数えて、違う数だけ右の四角の中に○をかきます。
- ③左の四角の中のケーキとアイスクリームの数を数えて、違う数だけ右の四角の中に○をかきます。
- ④左の四角の中のイルカとカメの数を数えて、違う数だけ右の四角の中に○をかきます。

①





②



③



④



※1. このプリントは、しながわ・目黒こどもスクールのウェブサイトからダウンロードができます。無断複写・引用はご遠慮ください。
 ※2. このプリントを活用したオンライン授業のスケジュールは、しながわ・目黒こどもスクールのウェブサイトでご確認ください。