



おうちで、やろう。


Study at home. 小学校受験の家庭学習教材

指示の聞き取り 9


お友だちが並んでいます。それぞれのお話を聞いて答えます。

- ① 一番右の子に○、左から3番目の子に△をつけます。
- ② 右から5番目の子に○、左から4番目の子に△をつけます。
- ③ 右から6番目の子に×、左から7番目の子に□をつけます。
- ④ 右から9番目の子に□、一番左の子に○をつけます。
- ⑤ 真ん中の子に◎をつけます。


①




②




③



④



⑤



※1. このプリントは、しながわ・目黒こどもスクールのウェブサイトでダウンロードができます。無断複写・引用はご遠慮ください。
 ※2. このプリントを活用したオンライン授業のスケジュールは、しながわ・目黒こどもスクールのウェブサイトでご確認ください。

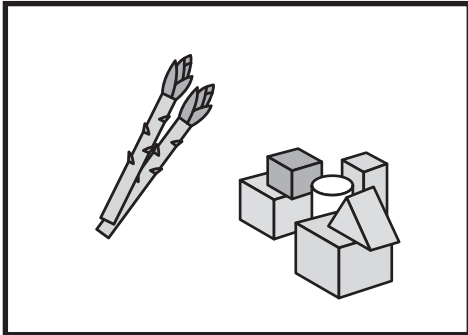


おうちで、やろう。


Study at home. 小学校受験の家庭学習教材

言語：音の数 13


太い四角の中の絵の音の数を合わせるといくつになるかを考えて、その数だけ右の四角の中に○をかきます。




Blank space for writing the number of circles.



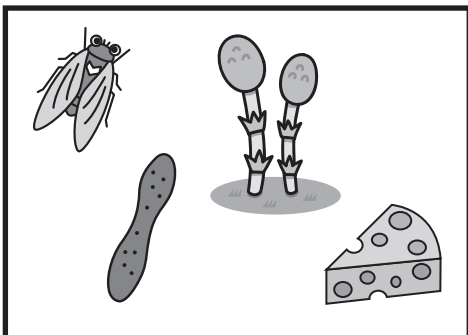
Blank space for writing the number of circles.



Blank space for writing the number of circles.



Blank space for writing the number of circles.



Blank space for writing the number of circles.

※1. このプリントは、しながわ・目黒こどもスクールのウェブサイトからダウンロードができます。無断複写・引用はご遠慮ください。
※2. このプリントを活用したオンライン授業のスケジュールは、しながわ・目黒こどもスクールのウェブサイトでご確認ください。



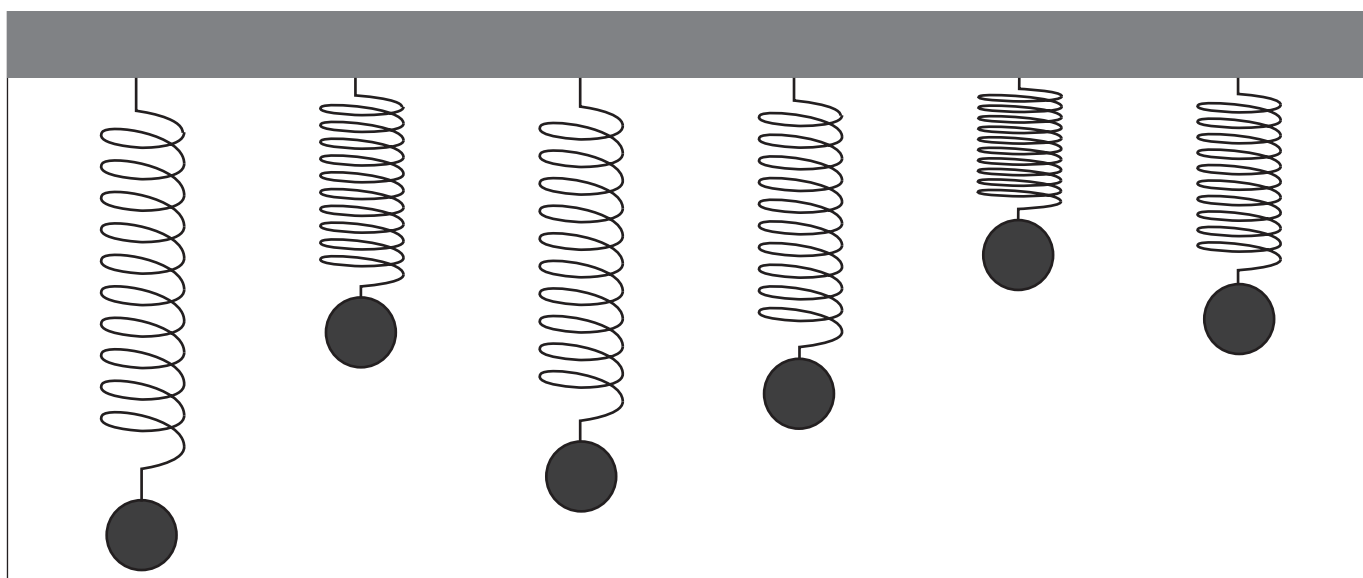
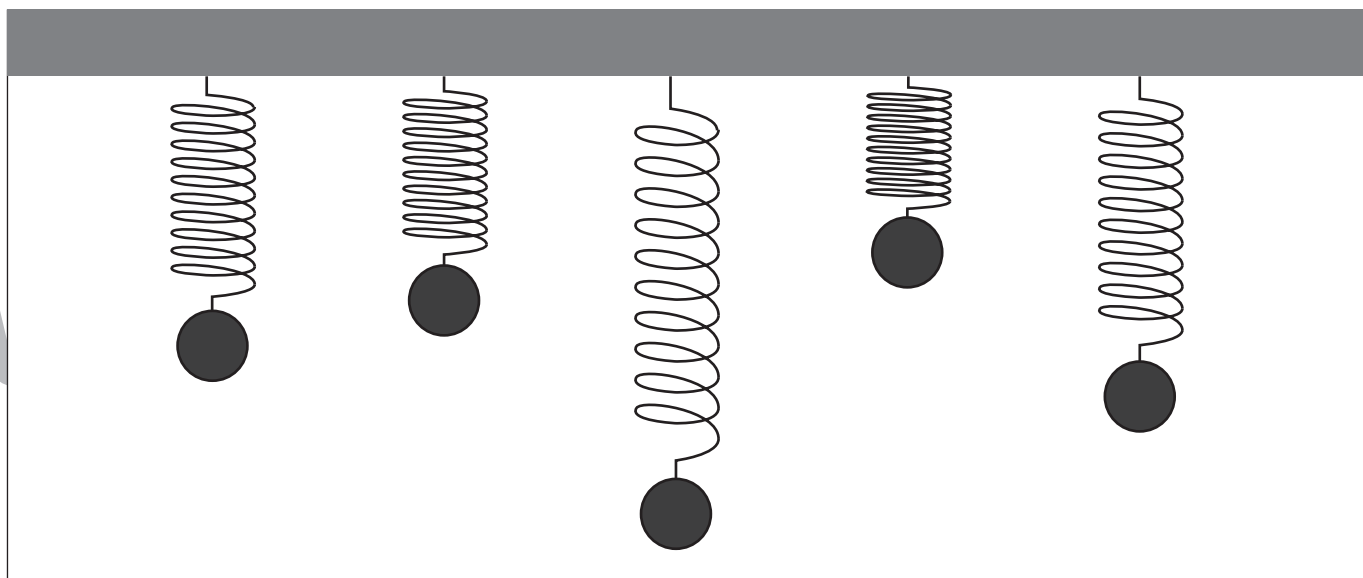
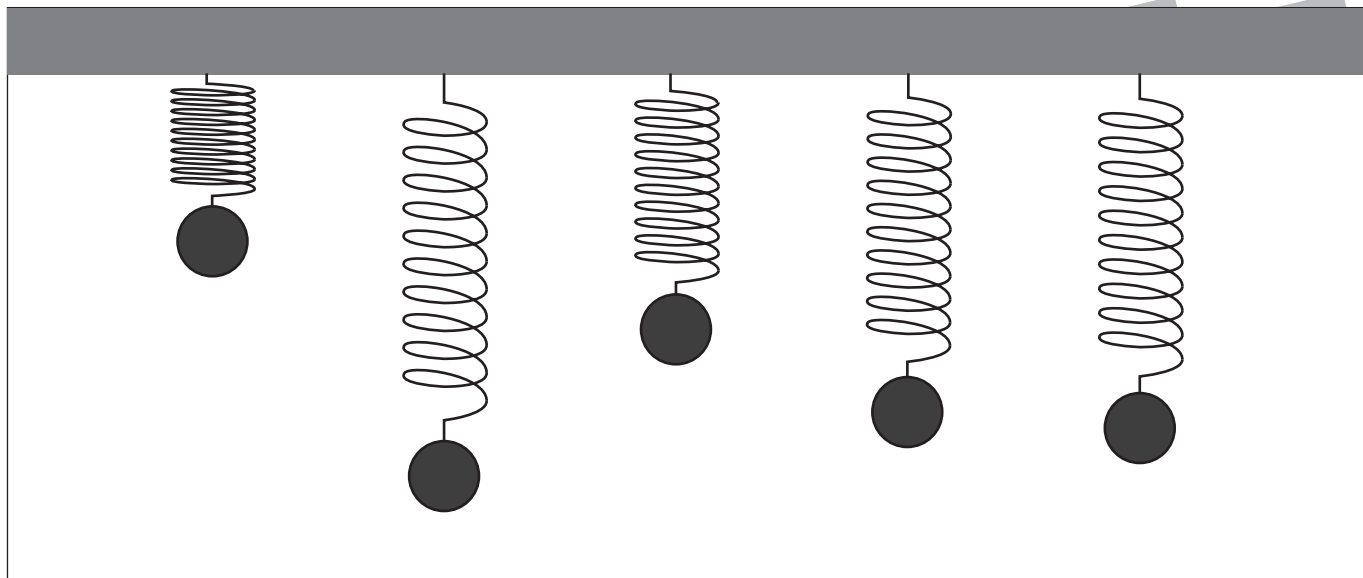


おうちで、やろう。

Study at home. 小学校受験の家庭学習教材

推理：重さ4

バネにボールをつるして重さ比べをしました。一番重いボールに○、一番軽いボールに△をつけます。



※1. このプリントは、しながわ・目黒こどもスクールのウェブサイトでダウンロードができます。無断複写・引用はご遠慮ください。
※2. このプリントを活用したオンライン授業のスケジュールは、しながわ・目黒こどもスクールのウェブサイトでご確認ください。

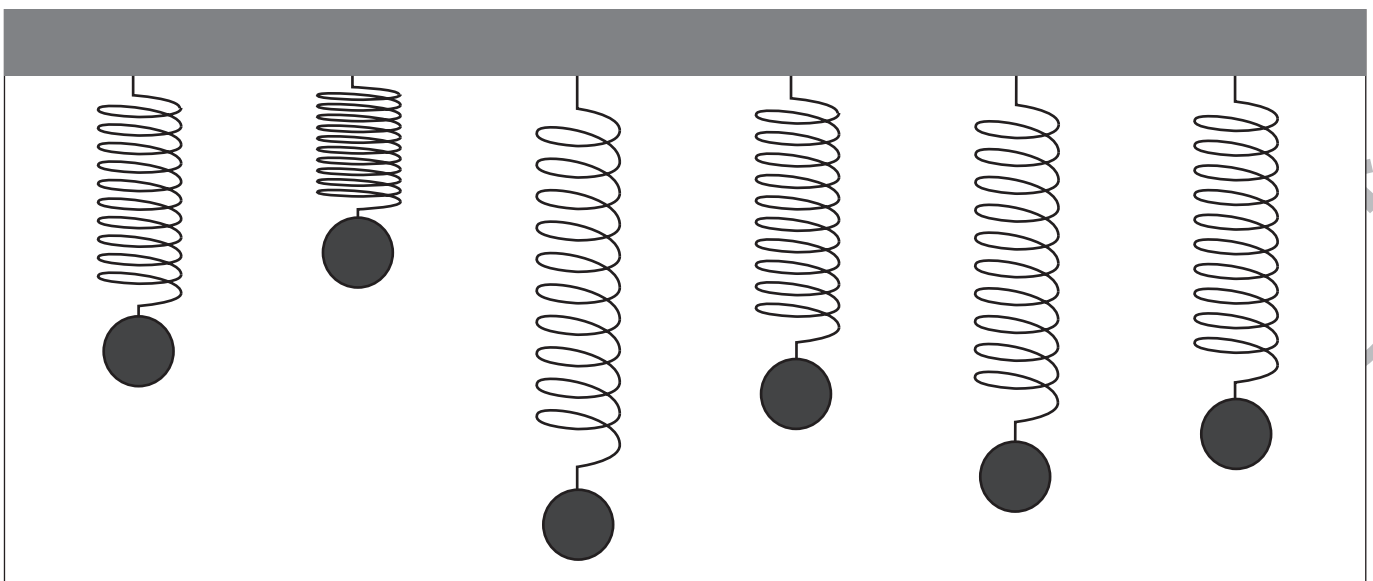
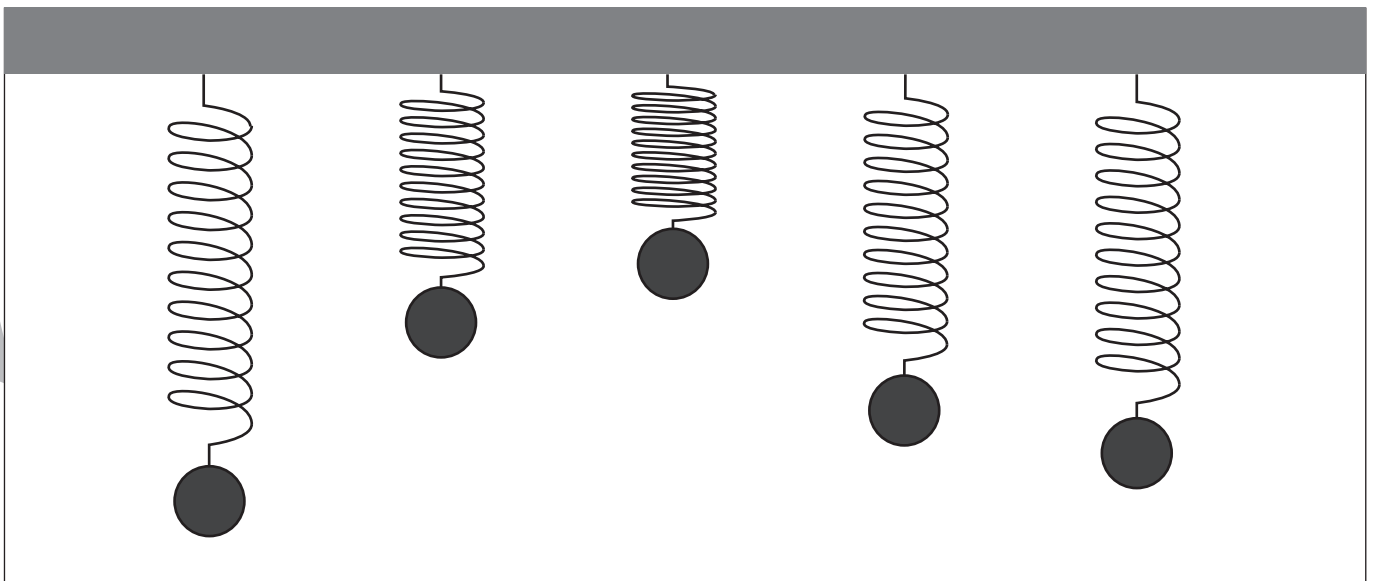
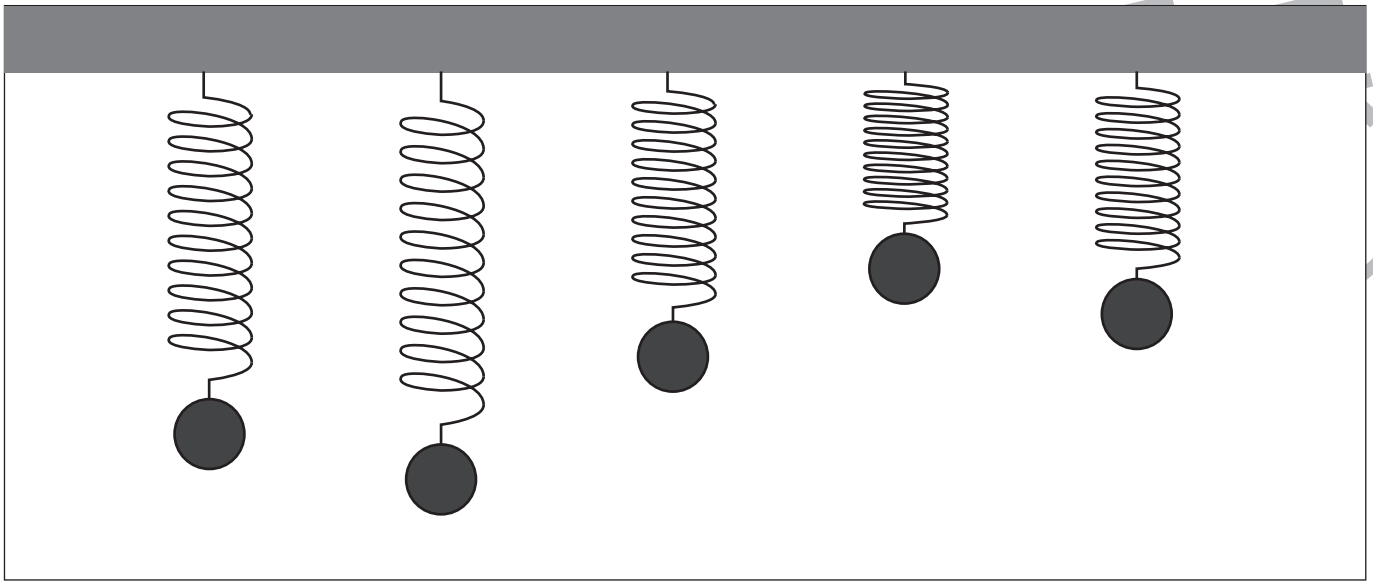


おうちで、やろう。

Study at home. 小学校受験の家庭学習教材

推理：重さ5

バネにボールをつるして重さ比べをしました。二番目に重いボールに○、二番目に軽いボールに△をつけます。



※1. このプリントは、しながわ・目黒こどもスクールのウェブサイトでダウンロードができます。無断複写・引用はご遠慮ください。

※2. このプリントを活用したオンライン授業のスケジュールは、しながわ・目黒こどもスクールのウェブサイトでご確認ください。

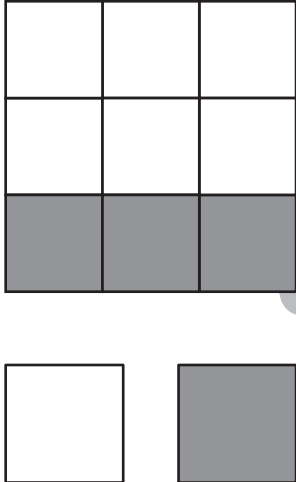
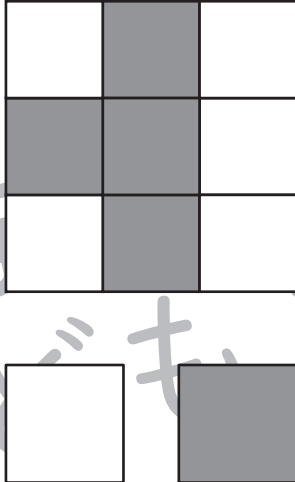
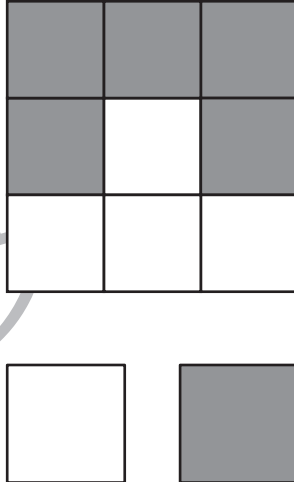
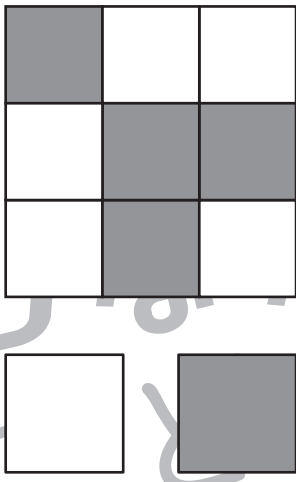
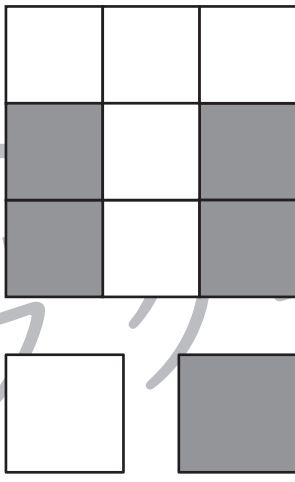

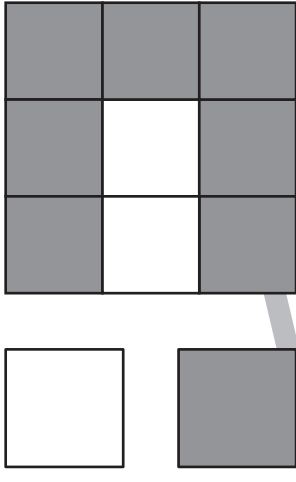
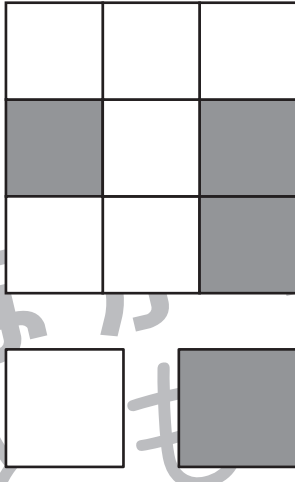
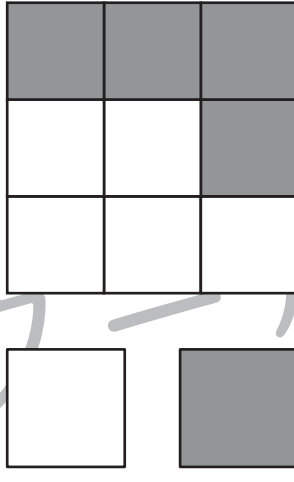


おうちで、やろう。

Study at home. 小学校受験の家庭学習教材

数量：広さ5

それぞれの四角の白い部分と灰色の部分の広さを比べます。広い方を考えて下のマスに○をつけます。

※1. このプリントは、しながわ・目黒こどもスクールのウェブサイトでダウンロードができます。無断複写・引用はご遠慮ください。

※2. このプリントを活用したオンライン授業のスケジュールは、しながわ・目黒こどもスクールのウェブサイトでご確認ください。




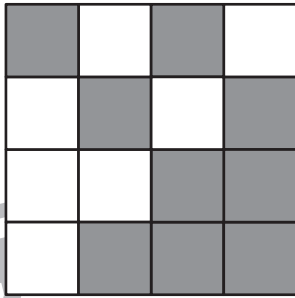


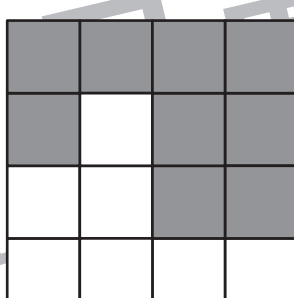


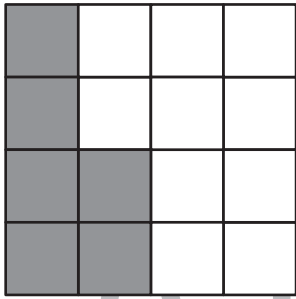



















おうちで、やろう。

Study at home. 小学校受験の家庭学習教材

数量：広さ6

それぞれの四角の白い部分と灰色の部分の広さを比べます。広い方を考えて下のマスに○をつけます。

※1. このプリントは、しながわ・目黒こどもスクールのウェブサイトでダウンロードができます。無断複写・引用はご遠慮ください。

※2. このプリントを活用したオンライン授業のスケジュールは、しながわ・目黒こどもスクールのウェブサイトでご確認ください。



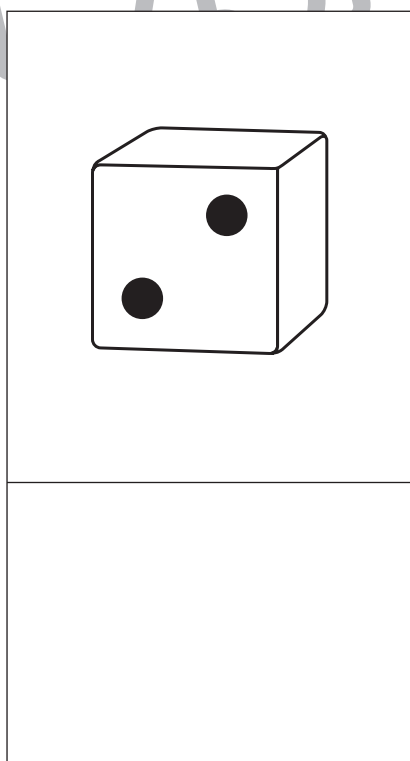

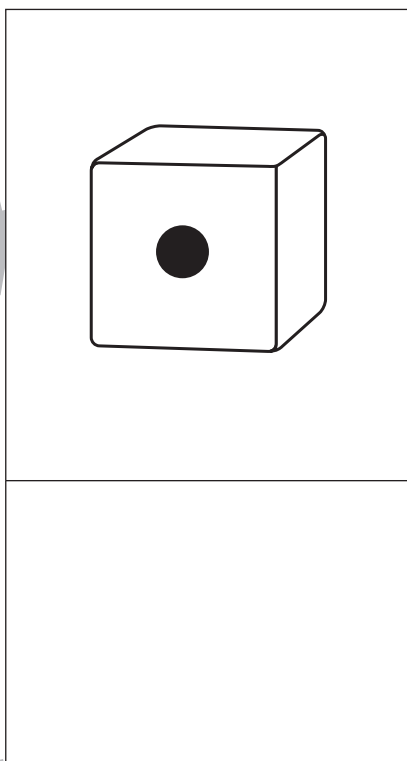



おうちで、やろう。

Study at home. 小学校受験の家庭学習教材

数量：サイコロ 2

サイコロは表の目と裏の目の数を合わせると7になります。それぞれの四角の中のサイコロの目が表のとき、裏の目を考えてその数だけ下の四角に○をかきます。



※1. このプリントは、しながわ・目黒こどもスクールのウェブサイトでダウンロードができます。無断複写・引用はご遠慮ください。
※2. このプリントを活用したオンライン授業のスケジュールは、しながわ・目黒こどもスクールのウェブサイトでご確認ください。




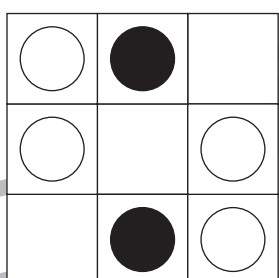
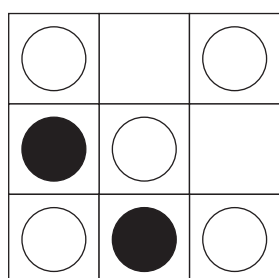
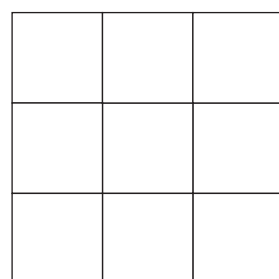



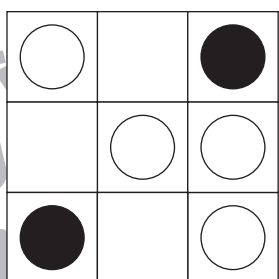
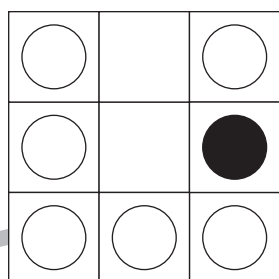


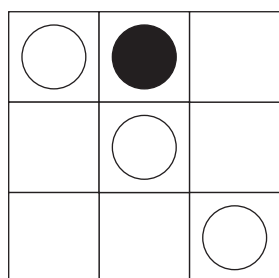

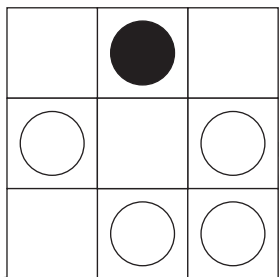
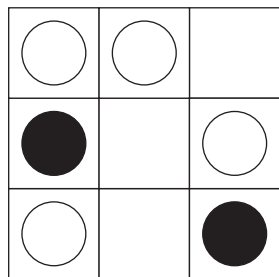


おうちで、やろう。

Study at home. 小学校受験の家庭学習教材

図形：重ね 14

左の2枚の透明な板が重なった時の見え方を考えて、白い丸になる場所だけ矢印の右の四角に○をかきます。



※1. このプリントは、しながわ・目黒こどもスクールのウェブサイトでダウンロードができます。無断複写・引用はご遠慮ください。
※2. このプリントを活用したオンライン授業のスケジュールは、しながわ・目黒こどもスクールのウェブサイトでご確認ください。




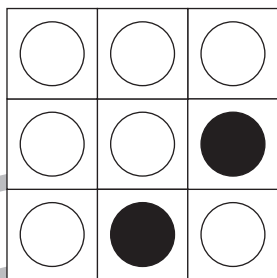
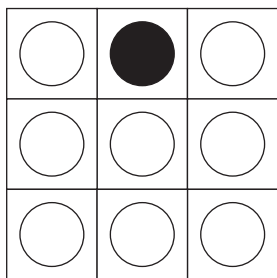



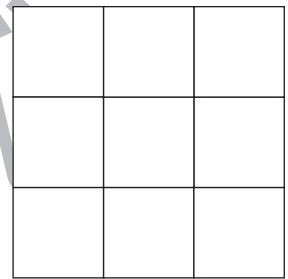





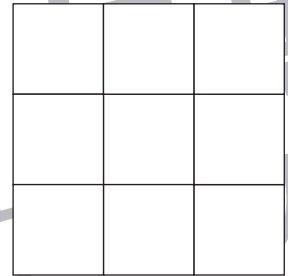




おうちで、やろう。

Study at home. 小学校受験の家庭学習教材

図形：重ね 15

左の2枚の透明な板が重なった時の見え方を考えて、白い丸になる場所だけ矢印の右の四角に○をかきます。



※1. このプリントは、しながわ・目黒こどもスクールのウェブサイトでダウンロードができます。無断複写・引用はご遠慮ください。
※2. このプリントを活用したオンライン授業のスケジュールは、しながわ・目黒こどもスクールのウェブサイトでご確認ください。



おうちで、やろう。

Study at home. 小学校受験の家庭学習教材

図形：点図形 13

左のお手本と同じになるように右の四角に線をかきます。 ※このプリントに解答はありません。

--	--	--	--

--	--	--	--

--	--	--	--

--	--	--	--

※1. このプリントは、しながわ・目黒こどもスクールのウェブサイトでダウンロードができます。無断複写・引用はご遠慮ください。
 ※2. このプリントを活用したオンライン授業のスケジュールは、しながわ・目黒こどもスクールのウェブサイトでご確認ください。