



おうちで、やろう。


Study at home. 小学校受験の家庭学習教材

指示の聞き取り 9

お友だちが並んでいます。それぞれのお話を聞いて答えます。

- ① 一番右の子に○、左から3番目の子に△をつけます。
- ② 右から5番目の子に○、左から4番目の子に△をつけます。
- ③ 右から6番目の子に×、左から7番目の子に□をつけます。
- ④ 右から9番目の子に□、一番左の子に○をつけます。
- ⑤ 真ん中の子に◎をつけます。


①




②




③



④



⑤



※1. このプリントは、しながわ・目黒こどもスクールのウェブサイトでダウンロードができます。無断複写・引用はご遠慮ください。

※2. このプリントを活用したオンライン授業のスケジュールは、しながわ・目黒こどもスクールのウェブサイトでご確認ください。

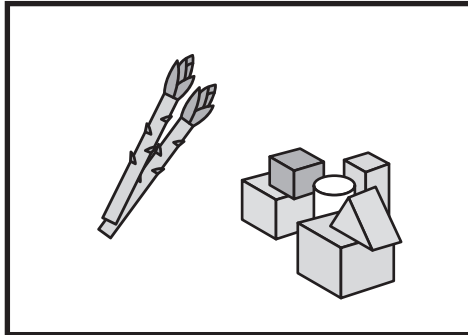


おうちで、やろう。


Study at home. 小学校受験の家庭学習教材

言語：音の数 13


太い四角の中の絵の音の数を合わせるといくつになるかを考えて、その数だけ右の四角の中に○をかきます。




○ × 9




○ × 10



○ × 8



○ × 12



○ × 11

※1. このプリントは、しながわ・目黒こどもスクールのウェブサイトでダウンロードができます。無断複写・引用はご遠慮ください。

※2. このプリントを活用したオンライン授業のスケジュールは、しながわ・目黒こどもスクールのウェブサイトでご確認ください。



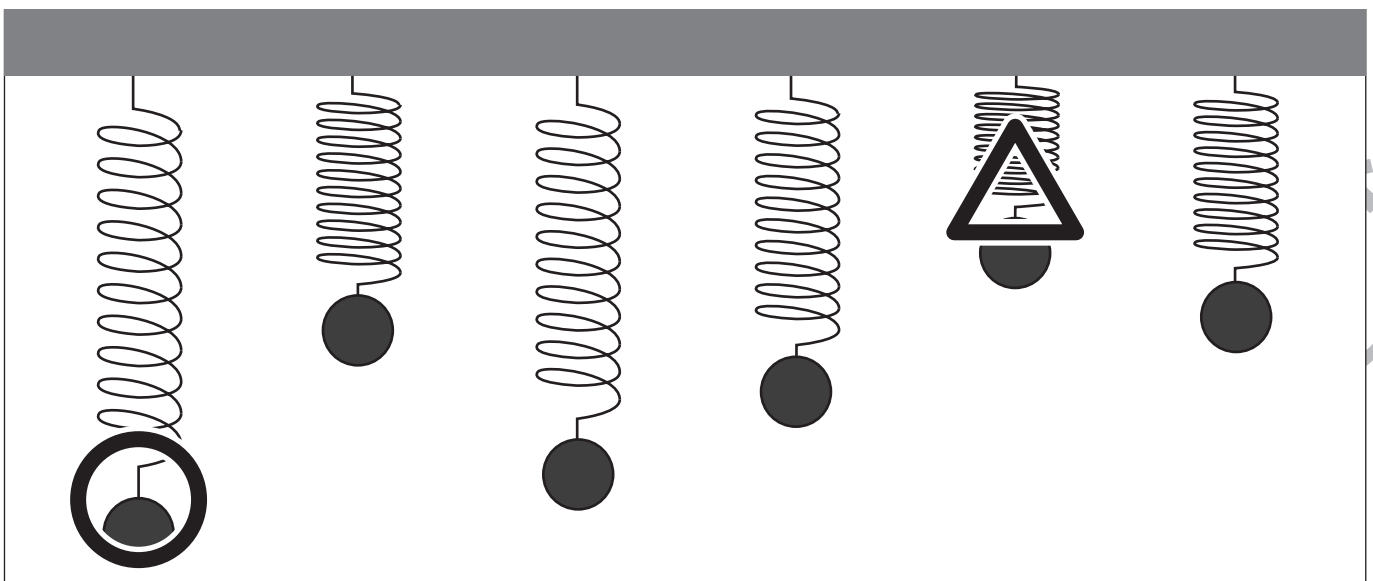
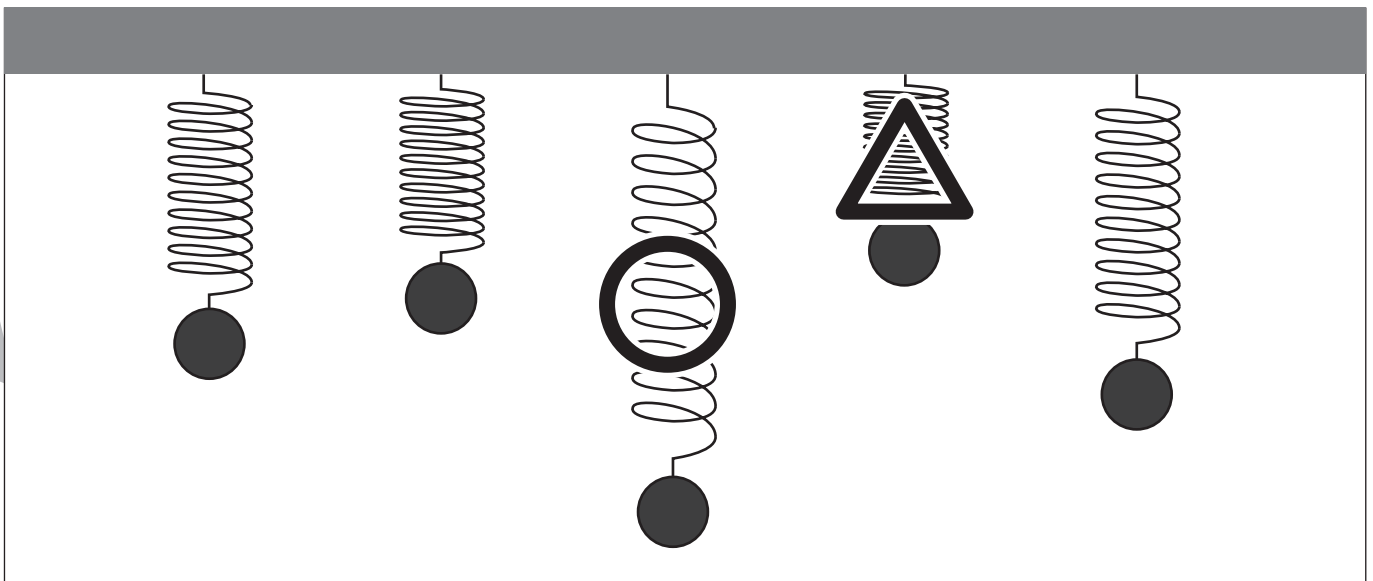
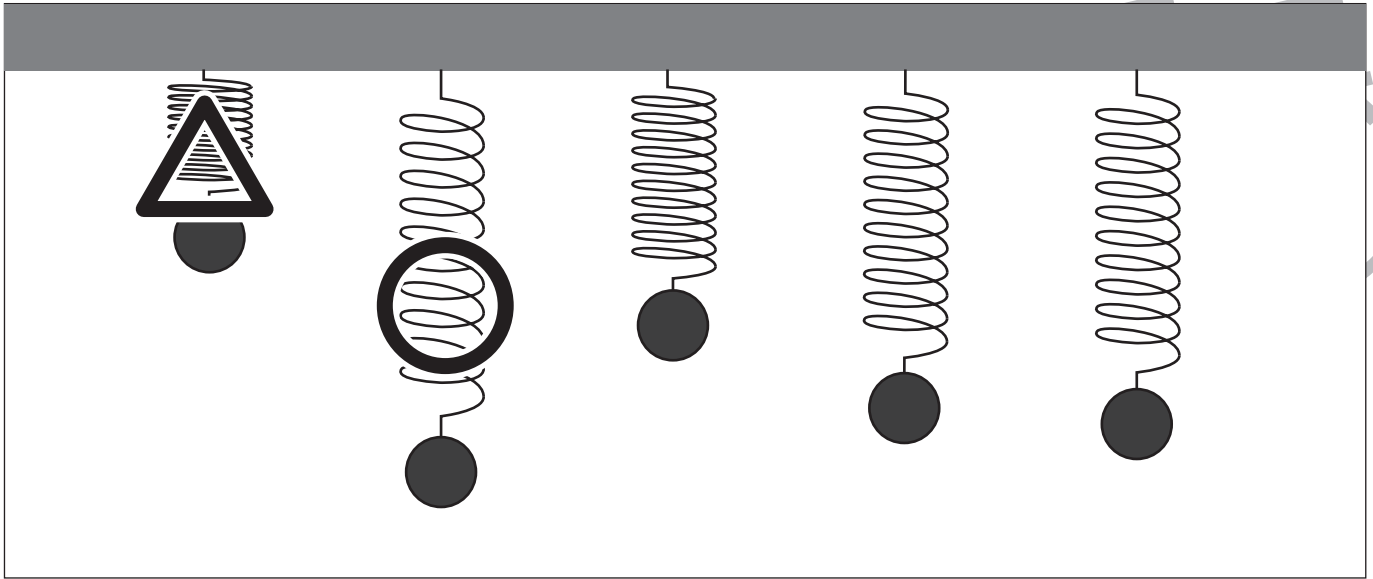


おうちで、やろう。

Study at home. 小学校受験の家庭学習教材

推理：重さ4

バネにボールをつるして重さ比べをしました。一番重いボールに○、一番軽いボールに△をつけます。



※1. このプリントは、しながわ・目黒こどもスクールのウェブサイトでダウンロードができます。無断複写・引用はご遠慮ください。
 ※2. このプリントを活用したオンライン授業のスケジュールは、しながわ・目黒こどもスクールのウェブサイトでご確認ください。

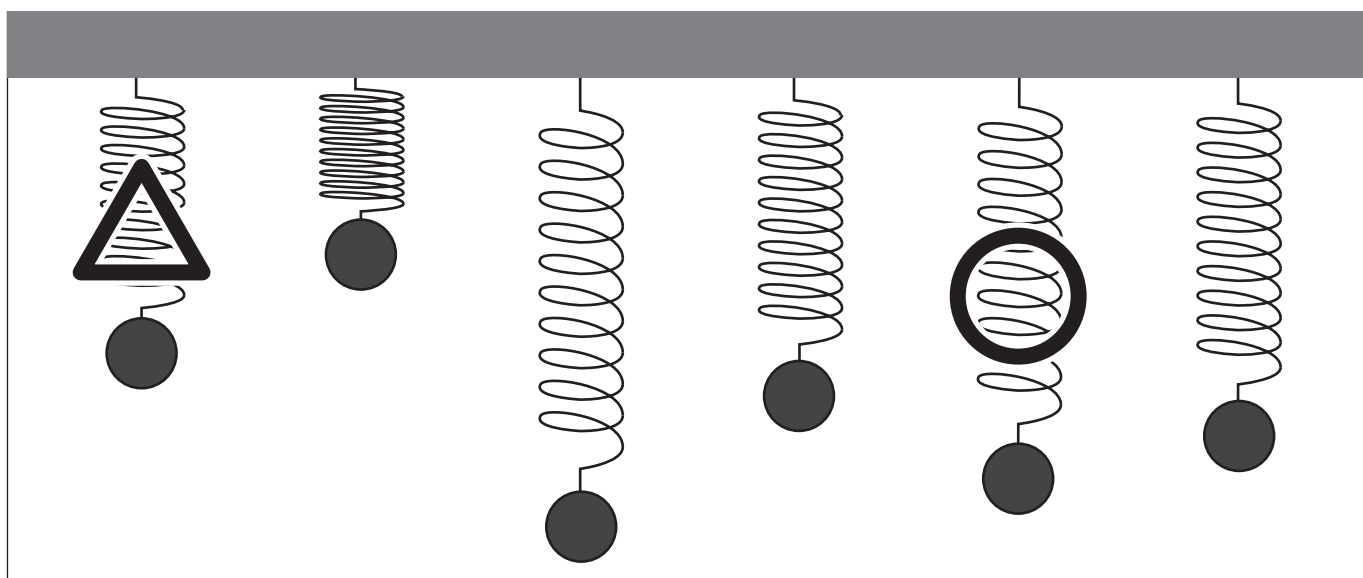
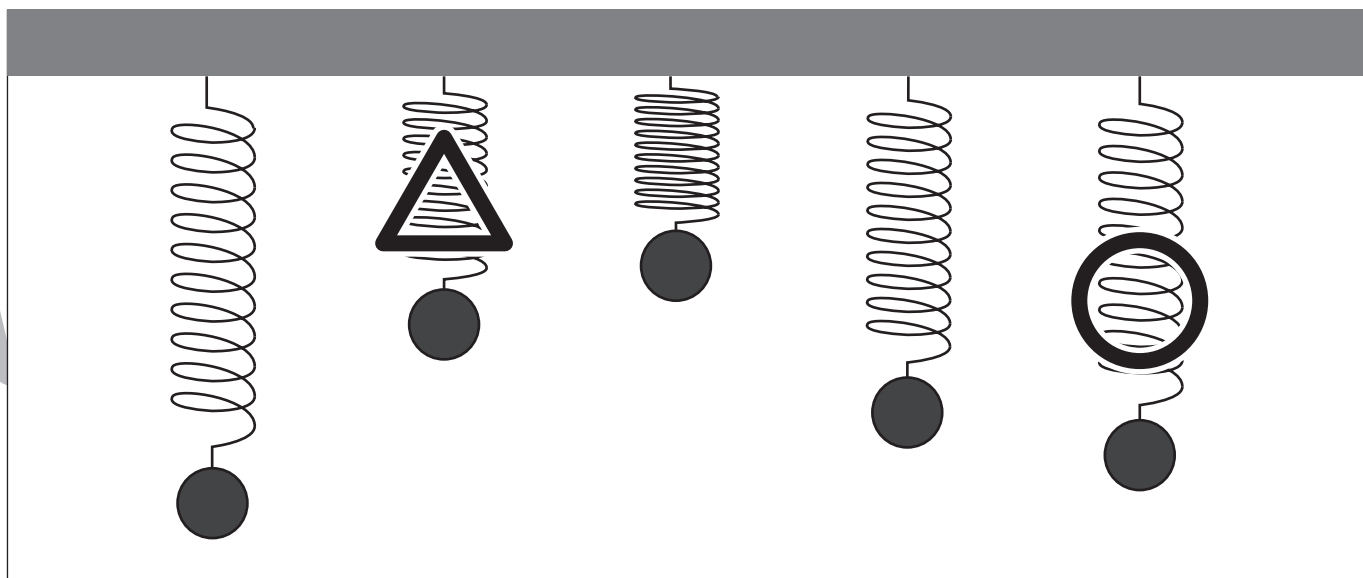
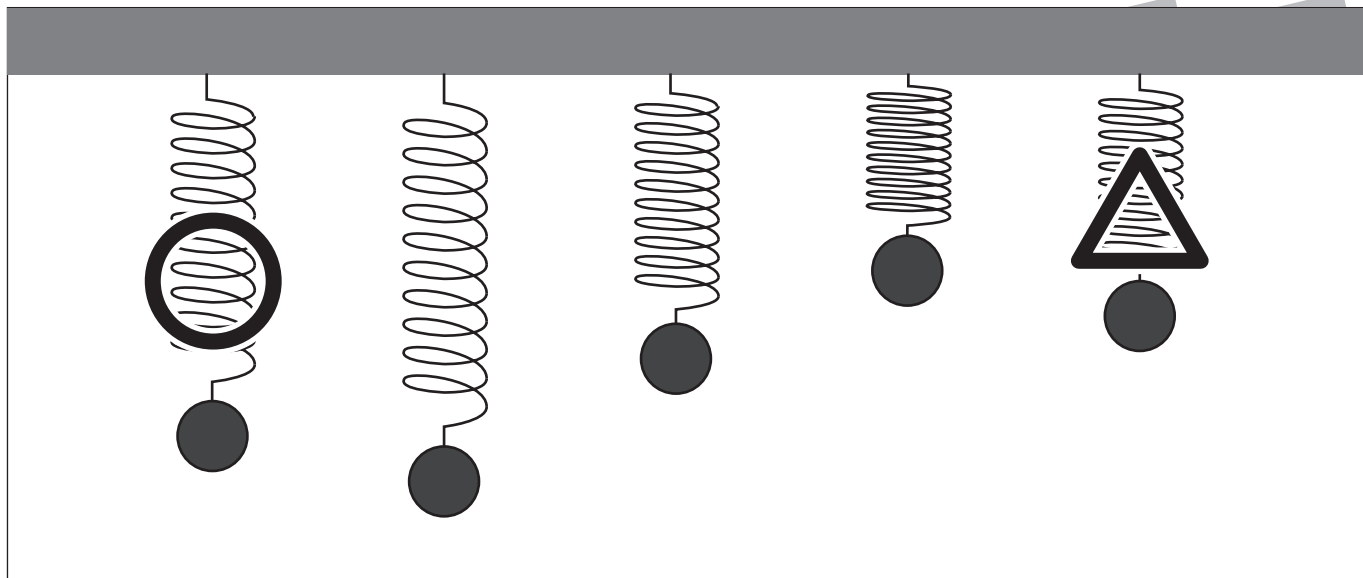


おうちで、やろう。

Study at home. 小学校受験の家庭学習教材

推理：重さ5

バネにボールをつるして重さ比べをしました。二番目に重いボールに○、二番目に軽いボールに△をつけます。



※1. このプリントは、しながわ・目黒こどもスクールのウェブサイトでダウンロードができます。無断複写・引用はご遠慮ください。

※2. このプリントを活用したオンライン授業のスケジュールは、しながわ・目黒こどもスクールのウェブサイトでご確認ください。

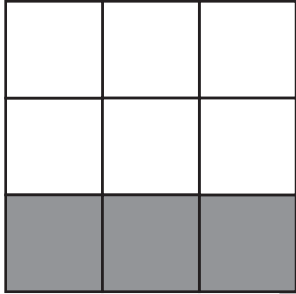
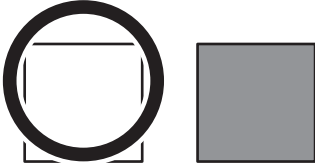

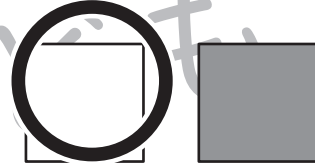
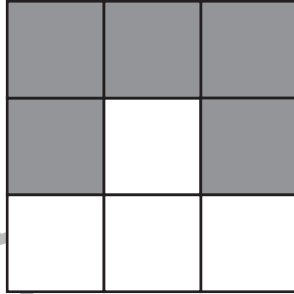



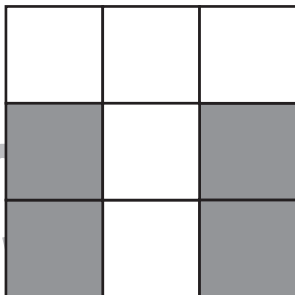

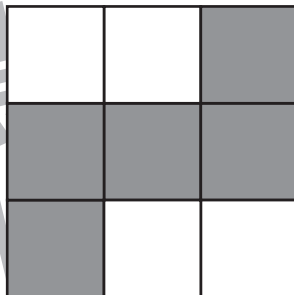
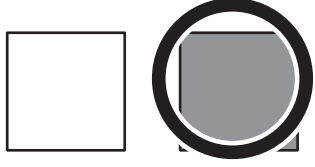

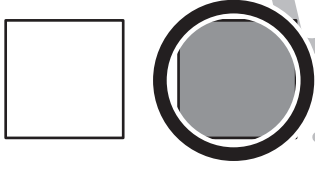
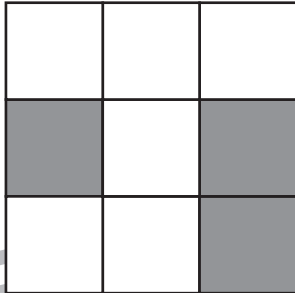
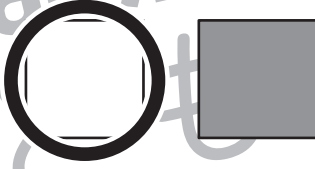
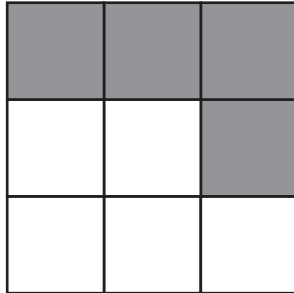
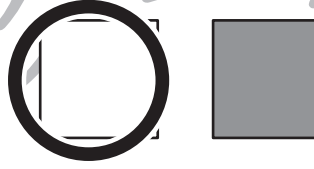


おうちで、やろう。

Study at home. 小学校受験の家庭学習教材

数量：広さ5

それぞれの四角の白い部分と灰色の部分の広さを比べます。広い方を考えて下のマスに○をつけます。

※1. このプリントは、しながわ・目黒こどもスクールのウェブサイトでダウンロードができます。無断複写・引用はご遠慮ください。

※2. このプリントを活用したオンライン授業のスケジュールは、しながわ・目黒こどもスクールのウェブサイトでご確認ください。



おうちで、やろう。

Study at home. 小学校受験の家庭学習教材

数量：広さ6

それぞれの四角の白い部分と灰色の部分の広さを比べます。広い方を考えて下のマスに○をつけます。

※1. このプリントは、しながわ・目黒こどもスクールのウェブサイトでダウンロードができます。無断複写・引用はご遠慮ください。

※2. このプリントを活用したオンライン授業のスケジュールは、しながわ・目黒こどもスクールのウェブサイトでご確認ください。




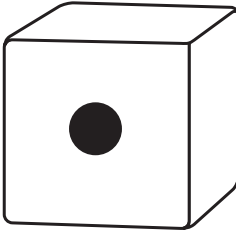
おうちで、やろう。


Study at home. 小学校受験の家庭学習教材


数量：サイコロ2


サイコロは表の目と裏の目の数を合わせると7になります。それぞれの四角の中のサイコロの目が表のとき、裏の目を考えてその数だけ下の四角に○をかきます。




$$\bigcirc \times 4$$


$$\bigcirc \times 6$$


$$\bigcirc \times 2$$


$$\bigcirc \times 5$$


$$\bigcirc \times 3$$


$$\bigcirc \times 1$$


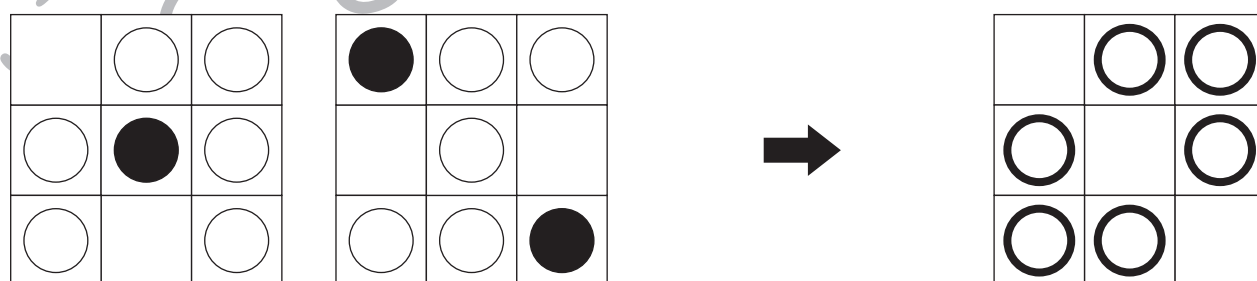
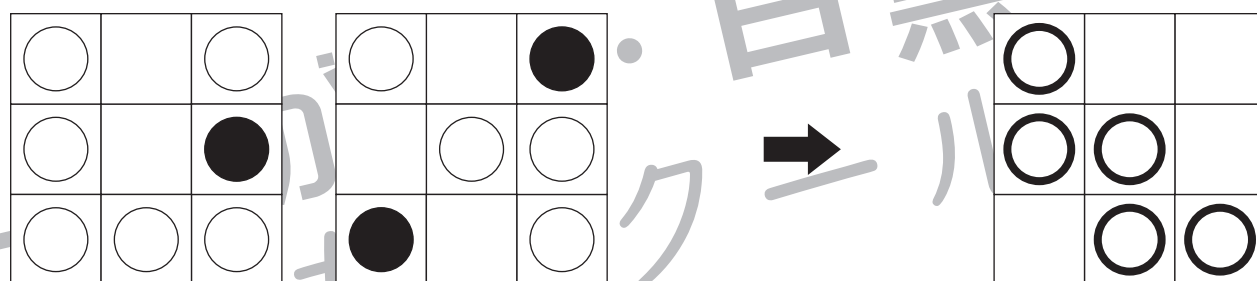

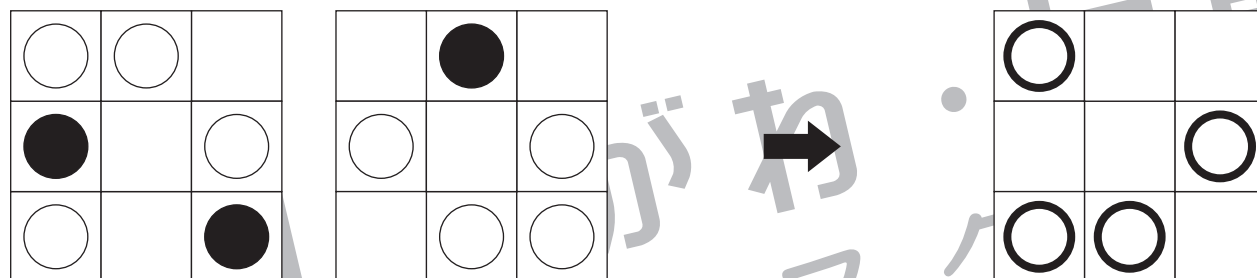


おうちで、やろう。

Study at home. 小学校受験の家庭学習教材

図形：重ね 14

左の2枚の透明な板が重なった時の見え方を考えて、白い丸になる場所だけ矢印の右の四角に○をかきます。



※1. このプリントは、しながわ・目黒こどもスクールのウェブサイトからダウンロードできます。無断複写・引用はご遠慮ください。
 ※2. このプリントを活用したオンライン授業のスケジュールは、しながわ・目黒こどもスクールのウェブサイトでご確認ください。


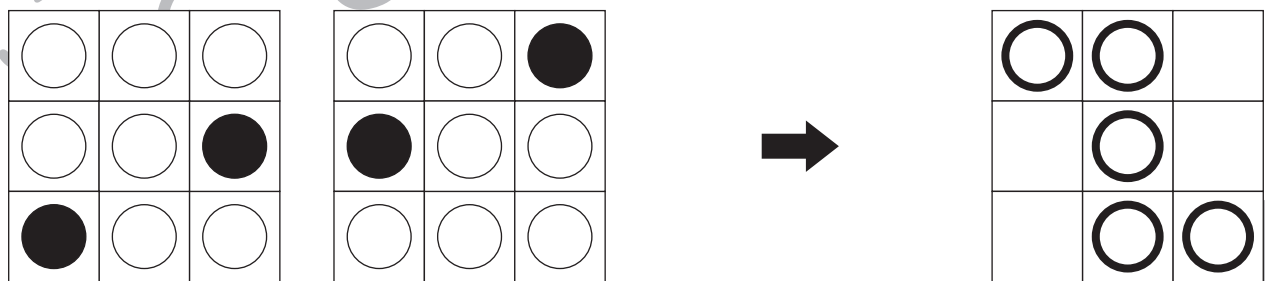
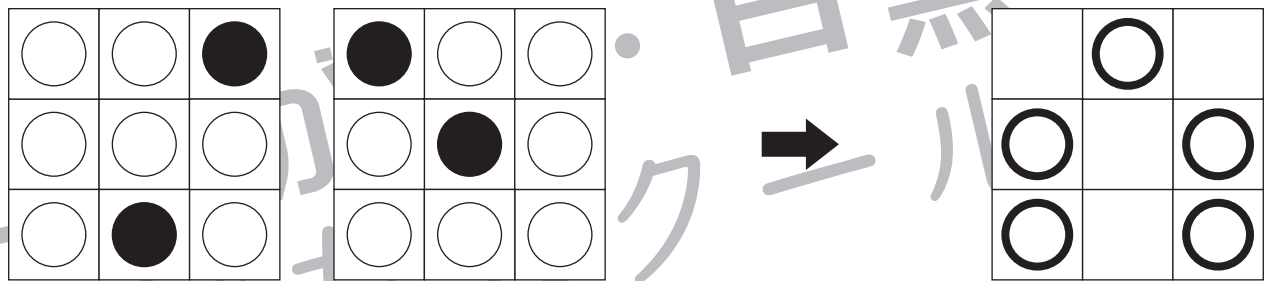

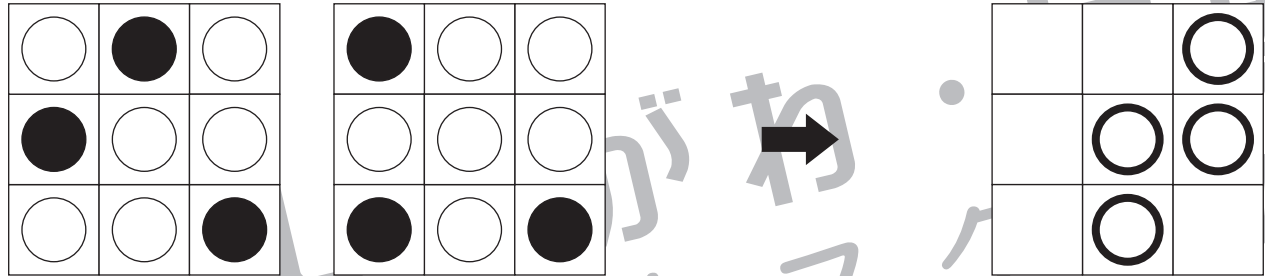


おうちで、やろう。

Study at home. 小学校受験の家庭学習教材

図形：重ね 15

左の2枚の透明な板が重なった時の見え方を考えて、白い丸になる場所だけ矢印の右の四角に○をかきます。



※1. このプリントは、しながわ・目黒こどもスクールのウェブサイトでダウンロードができます。無断複写・引用はご遠慮ください。
 ※2. このプリントを活用したオンライン授業のスケジュールは、しながわ・目黒こどもスクールのウェブサイトでご確認ください。