





- ①真ん中の形を緑色のクーピー、一番左の形に青色のクーピーで塗ります。
- ②三角の左半分を黄色のクーピー、六角形の下半分を赤色のクーピーで塗ります。
- ③左から2番目と右から2番目を緑色のクーピーで塗ります。

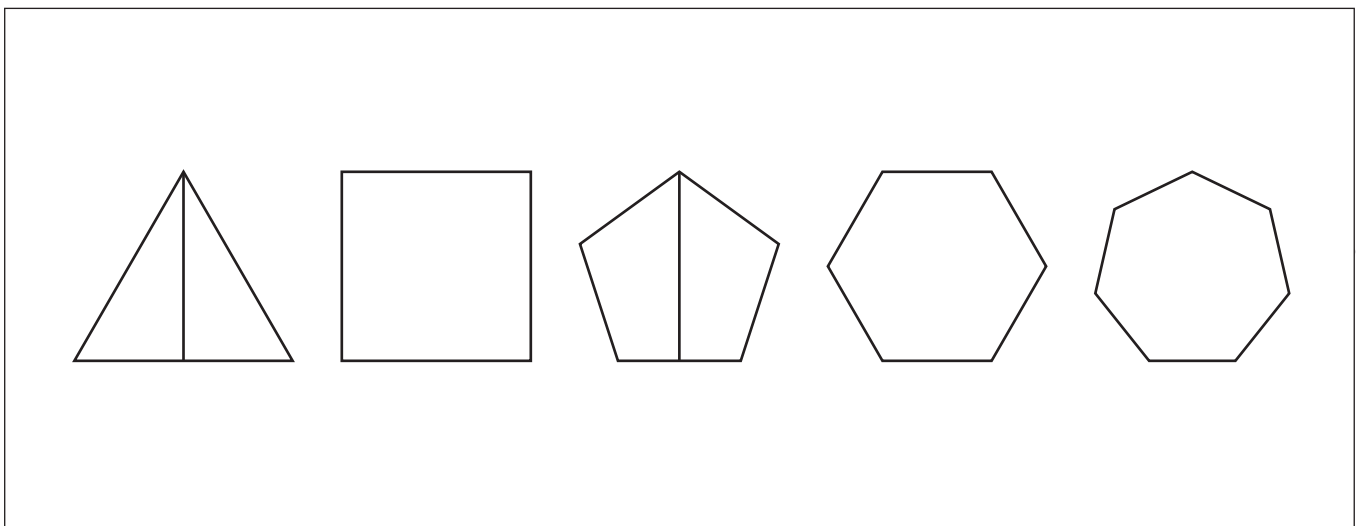
①



②



③



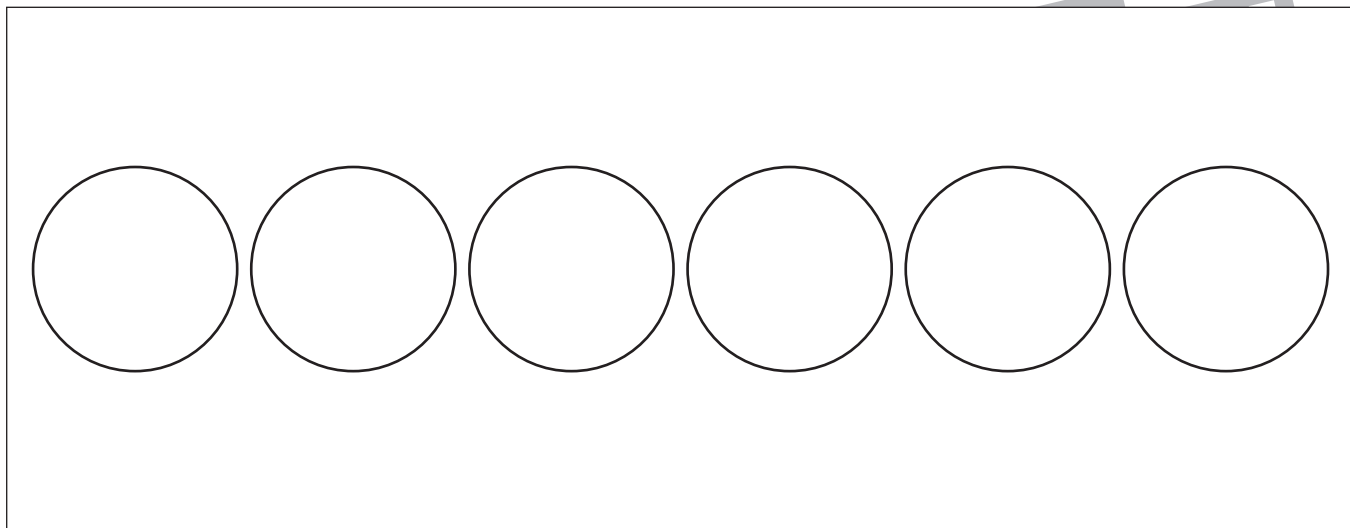
※1. このプリントは、しながわ・目黒こどもスクールのウェブサイトからダウンロードができます。無断複写・引用はご遠慮ください。

※2. このプリントを活用したオンライン授業のスケジュールは、しながわ・目黒こどもスクールのウェブサイトでご確認ください。

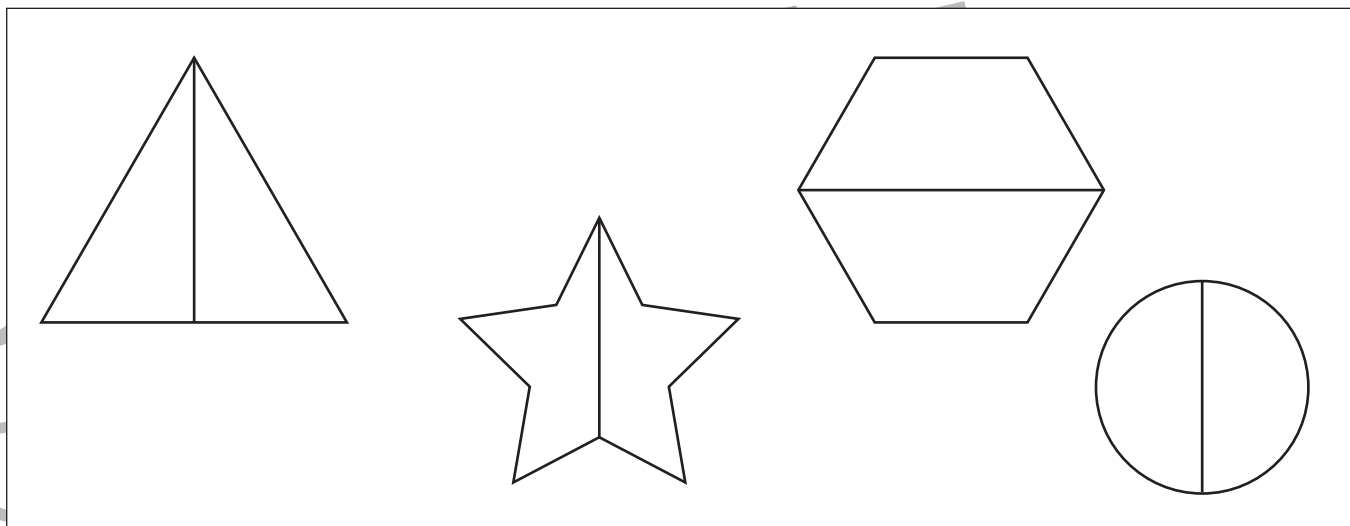


- ①左から6番目の丸を赤色のクーピーで塗ります。
- ②三角の右半分を紫色のクーピー、三角の左半分を桃色のクーピーで塗ります。
- ③上の段の四角を茶色のクーピーで、下の段の三角を水色のクーピーで塗ります。

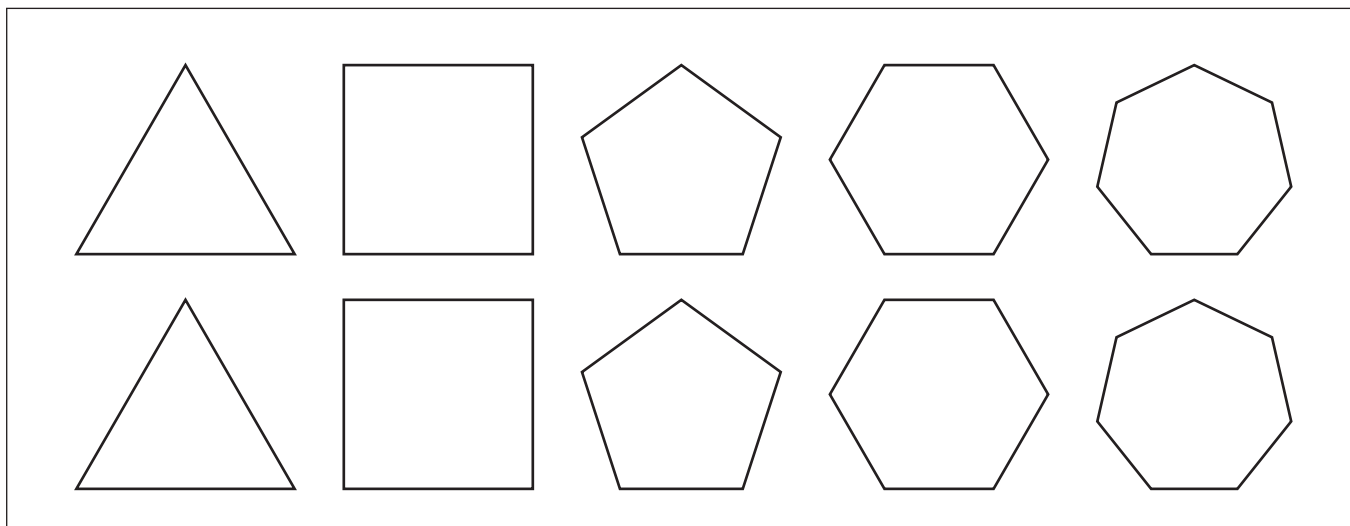
①



②



③



※1. このプリントは、しながわ・目黒こどもスクールのウェブサイトでダウンロードができます。無断複写・引用はご遠慮ください。

※2. このプリントを活用したオンライン授業のスケジュールは、しながわ・目黒こどもスクールのウェブサイトでご確認ください。





おうちで、やろう。 年中児版

Study at home. 小学校受験の家庭学習教材

常識：人体1


下のお話を聞いて、問題に答えましょう。

①首に○、左耳に△をかきましょう。

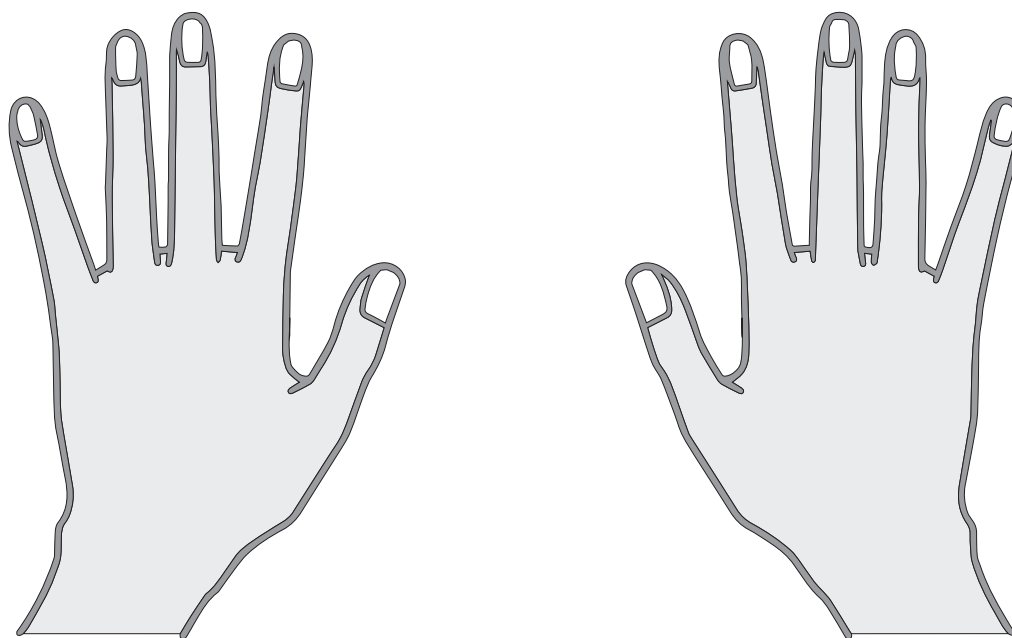
②左手の親指に○、右手の小指に×をかきましょう。

目黒

①



②



※1. このプリントは、しながわ・目黒こどもスクールのウェブサイトからダウンロードできます。無断複写・引用はご遠慮ください。

※2. このプリントを活用したオンライン授業のスケジュールは、しながわ・目黒こどもスクールのウェブサイトでご確認ください。





おうちで、やろう。年中児版

Study at home. 小学校受験の家庭学習教材

常識：人体2


下のお話を聞いて、問題に答えましょう。

①右目に○、右耳に△をかきましょう。

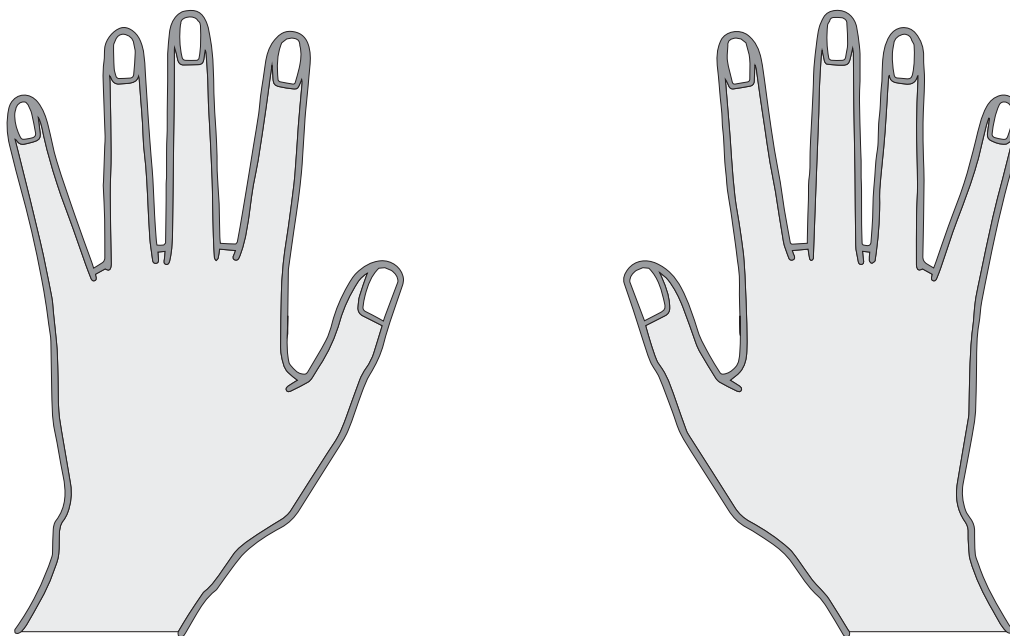
②左手の中指に○、右手のくすり指と人差し指に×をかきましょう。

目黒

①



②



※1. このプリントは、しながわ・目黒こどもスクールのウェブサイトからダウンロードできます。無断複写・引用はご遠慮ください。

※2. このプリントを活用したオンライン授業のスケジュールは、しながわ・目黒こどもスクールのウェブサイトでご確認ください。



おうちで、やろう。 年中児版

Study at home. 小学校受験の家庭学習教材

図形：回転3

左の四角の絵が矢印の方向に一度倒れた時、どのように見えますか。あてはまるものに○をつけます。

Rotation 3 exercise grid:

- Row 1:**
 - Panel 1: A child is upside down on a circular mat, holding a ball. An arrow points to the right.
 - Panel 2: A child is upside down on a circular mat, holding a ball. (Same as Panel 1)
 - Panel 3: A child is standing on a circular mat, holding a ball. (Rotated 180 degrees from Panel 1)
 - Panel 4: A child is upside down on a circular mat, holding a ball. (Same as Panel 1)
- Row 2:**
 - Panel 1: A child is lying on their side on a circular mat, holding a ball. An arrow points to the right.
 - Panel 2: A child is upside down on a circular mat, holding a ball. (Rotated 90 degrees clockwise from Panel 1)
 - Panel 3: A child is standing on a circular mat, holding a ball. (Rotated 180 degrees from Panel 1)
 - Panel 4: A child is lying on their side on a circular mat, holding a ball. (Same as Panel 1)
- Row 3:**
 - Panel 1: A child is lying on their back on a circular mat, holding a ball. An arrow points to the right.
 - Panel 2: Two children are kneeling on a circular mat, holding a large ball together. (Rotated 180 degrees from Panel 1)
 - Panel 3: A child is lying on their back on a circular mat, holding a ball. (Same as Panel 1)
 - Panel 4: A child is upside down on a circular mat, holding a ball. (Rotated 180 degrees from Panel 1)
- Row 4:**
 - Panel 1: Two children are standing on a circular mat, holding a trophy together. An arrow points to the right.
 - Panel 2: Two children are upside down on a circular mat, holding a trophy together. (Rotated 180 degrees from Panel 1)
 - Panel 3: Two children are standing on a circular mat, holding a trophy together. (Same as Panel 1)
 - Panel 4: Two children are standing on a circular mat, holding a trophy together. (Same as Panel 1)

※1. このプリントは、しながわ・目黒こどもスクールのウェブサイトでダウンロードができます。無断複写・引用はご遠慮ください。
 ※2. このプリントを活用したオンライン授業のスケジュールは、しながわ・目黒こどもスクールのウェブサイトでご確認ください。



おうちで、やろう。 年中児版

Study at home. 小学校受験の家庭学習教材

図形：回転 4

左の四角の絵が矢印の方向に一度倒れた時、どのように見えますか。あてはまるものに○をつけます。

Row 1: A square containing an upright triangle with a black dot in its center. An arrow points to the right. The next three squares show the triangle rotated 90 degrees clockwise, 180 degrees, and 270 degrees clockwise, with the black dot remaining in its original position relative to the triangle's orientation.

Row 2: A square containing a five-pointed star with a black dot at the top point and a white dot at the bottom-left point. An arrow points to the right. The next three squares show the star rotated 90 degrees clockwise, 180 degrees, and 270 degrees clockwise, with the black dot moving to the right point and the white dot moving to the top-left point.

Row 3: A square containing a black circle with a white star at the top, a white triangle pointing right at the right, and a white triangle pointing up at the bottom. An arrow points to the right. The next three squares show the circle rotated 90 degrees clockwise, 180 degrees, and 270 degrees clockwise, with the white shapes moving accordingly.

Row 4: A square containing a black hexagon with a white triangle pointing left at the left and a white circle at the right. An arrow points to the right. The next three squares show the hexagon rotated 90 degrees clockwise, 180 degrees, and 270 degrees clockwise, with the white shapes moving accordingly.

※1. このプリントは、しながわ・目黒こどもスクールのウェブサイトからダウンロードができます。無断複写・引用はご遠慮ください。
 ※2. このプリントを活用したオンライン授業のスケジュールは、しながわ・目黒こどもスクールのウェブサイトでご確認ください。

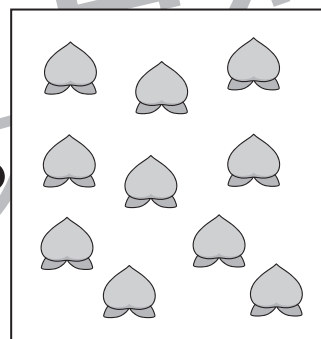

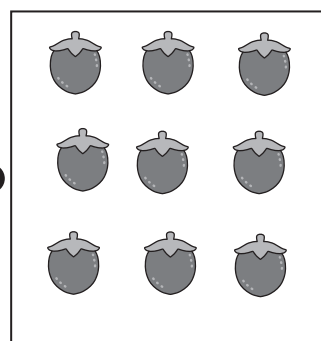
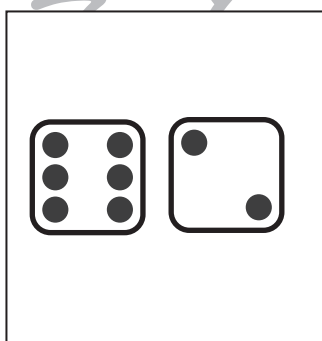


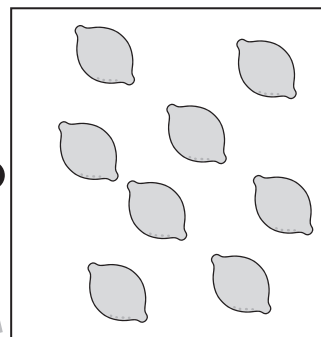





おうちで、やろう。

Study at home. 小学校受験の家庭学習教材

数量：計数5

四角の中の2つのサイコロの目を合わせた数と同じ数のものを右側から見つけて、点と点を線で結びます。



※1. このプリントは、しながわ・目黒こどもスクールのウェブサイトでダウンロードができます。無断複写・引用はご遠慮ください。
※2. このプリントを活用したオンライン授業のスケジュールは、しながわ・目黒こどもスクールのウェブサイトでご確認ください。



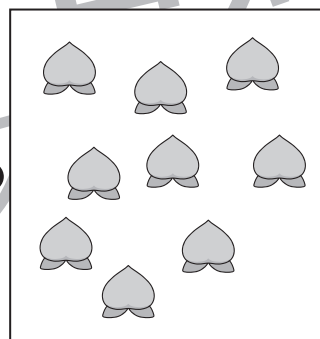
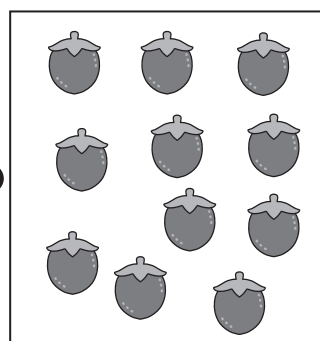
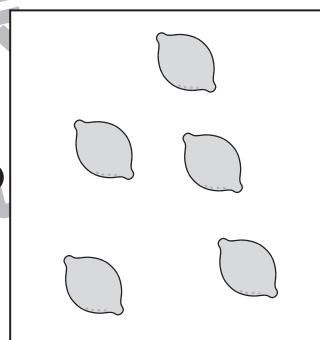






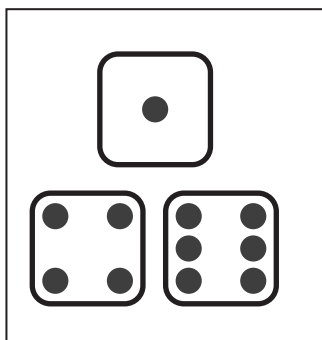


おうちで、やろう。

Study at home. 小学校受験の家庭学習教材

数量：計数6

四角の中の全てのサイコロの目を合わせた数と同じ数のものを右側から見つけて、点と点を線で結びます。



※1. このプリントは、しながわ・目黒こどもスクールのウェブサイトからダウンロードできます。無断複写・引用はご遠慮ください。
※2. このプリントを活用したオンライン授業のスケジュールは、しながわ・目黒こどもスクールのウェブサイトでご確認ください。

