


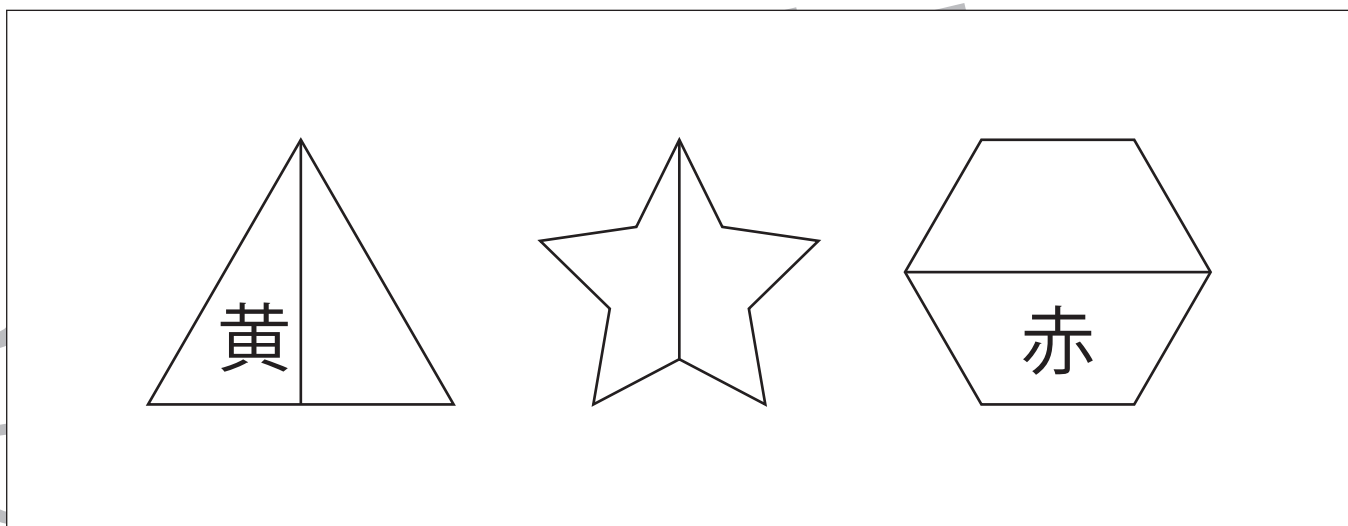


- ①真ん中の形を緑色のクーピー、一番左の形に青色のクーピーで塗ります。
- ②三角の左半分を黄色のクーピー、六角形の下半分を赤色のクーピーで塗ります。
- ③左から2番目と右から2番目を緑色のクーピーで塗ります。

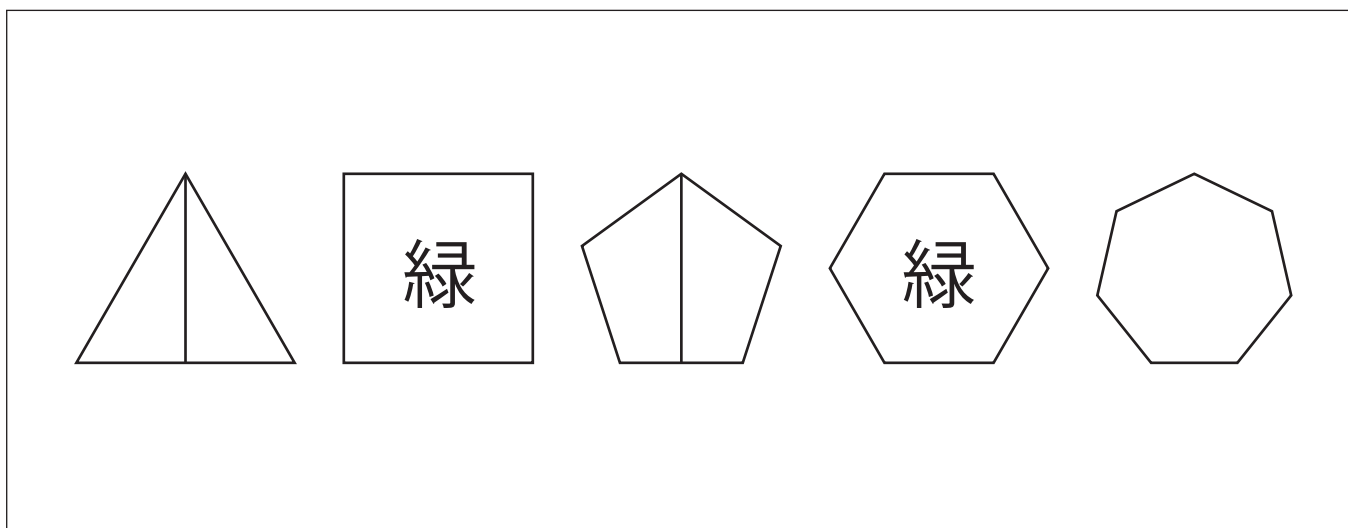
①



②



③



※1. このプリントは、しながわ・目黒こどもスクールのウェブサイトからダウンロードができます。無断複写・引用はご遠慮ください。

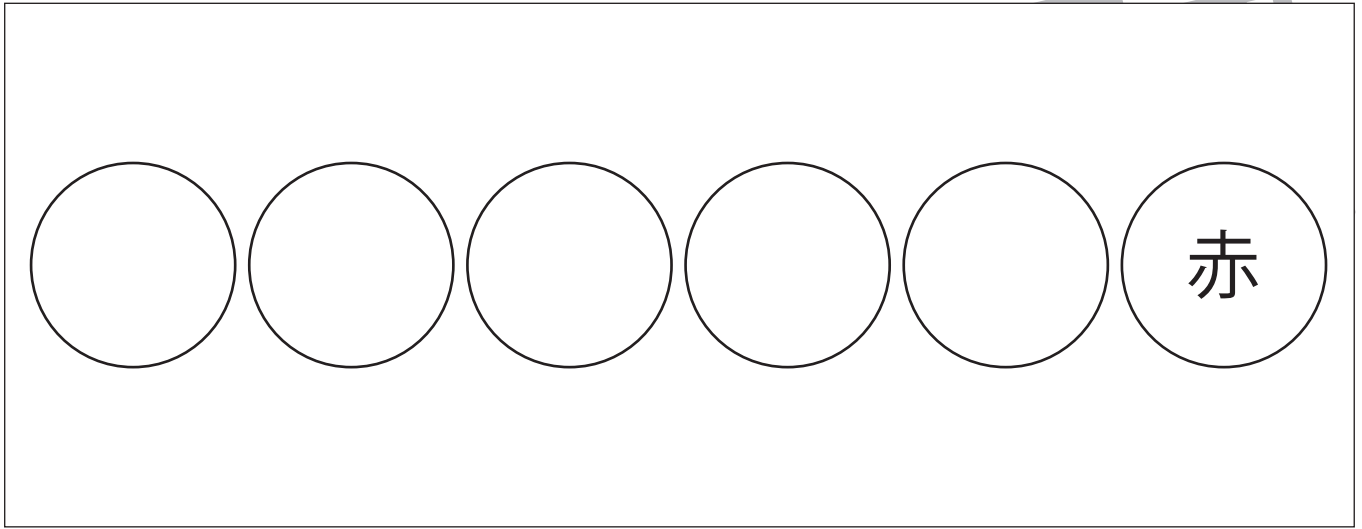
※2. このプリントを活用したオンライン授業のスケジュールは、しながわ・目黒こどもスクールのウェブサイトでご確認ください。



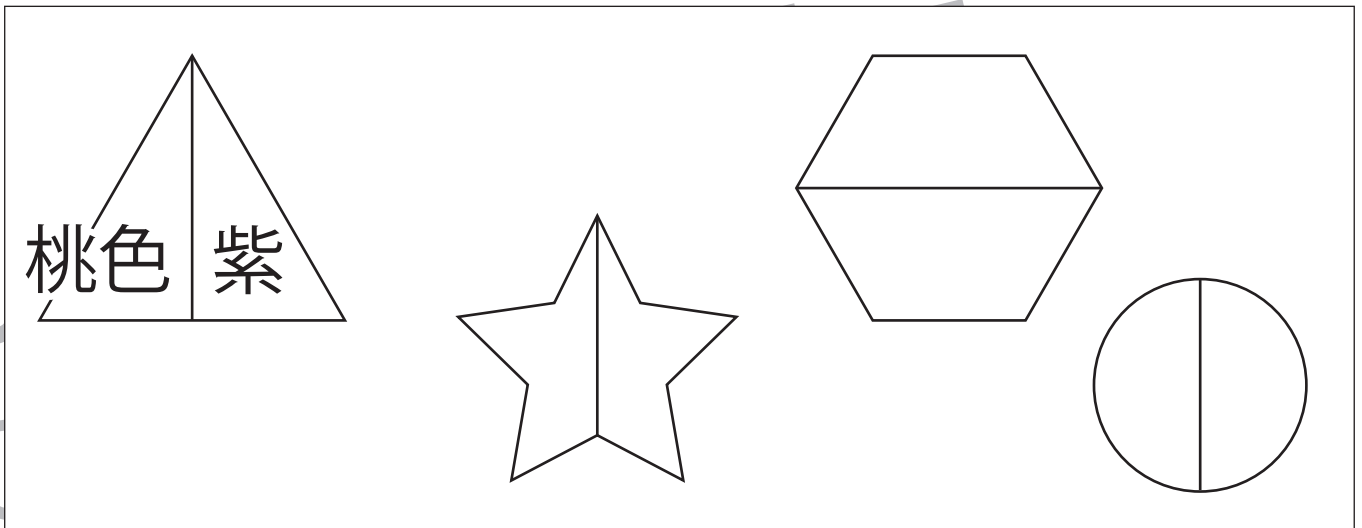


- ①左から6番目の丸を赤色のクーピーで塗ります。
- ②三角の右半分を紫色のクーピー、三角の左半分を桃色のクーピーで塗ります。
- ③上の段の四角を茶色のクーピーで、下の段の三角を水色のクーピーで塗ります。

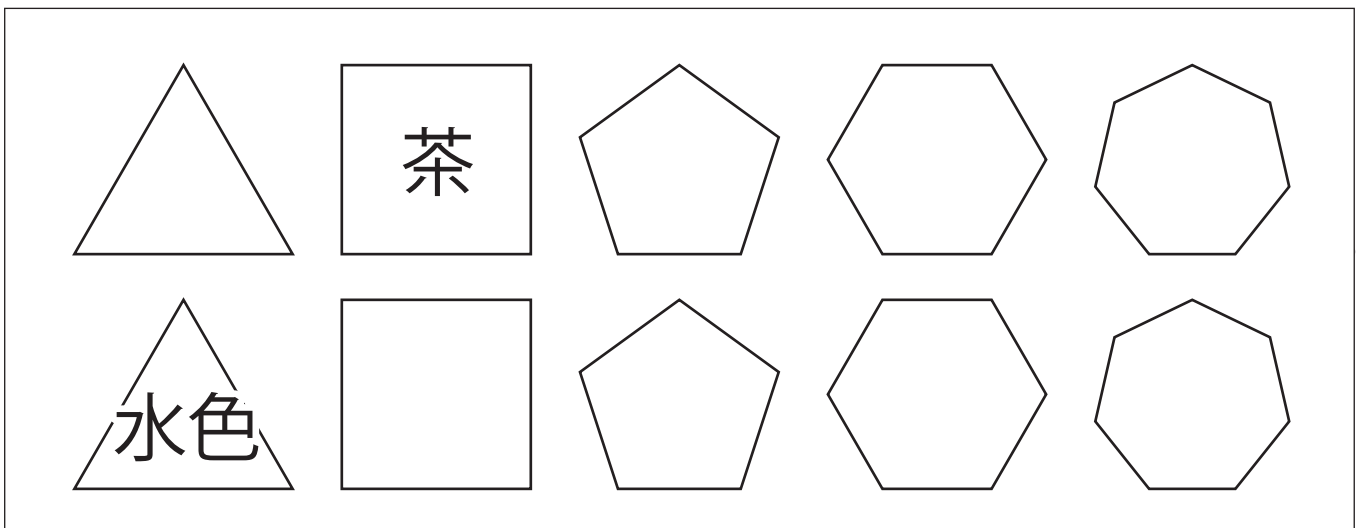
①



②



③



※1. このプリントは、しながわ・目黒こどもスクールのウェブサイトでダウンロードができます。無断複写・引用はご遠慮ください。

※2. このプリントを活用したオンライン授業のスケジュールは、しながわ・目黒こどもスクールのウェブサイトでご確認ください。



おうちで、やろう。 年中児版

Study at home. 小学校受験の家庭学習教材


常識：人体 1

下のお話を聞いて、問題に答えましょう。

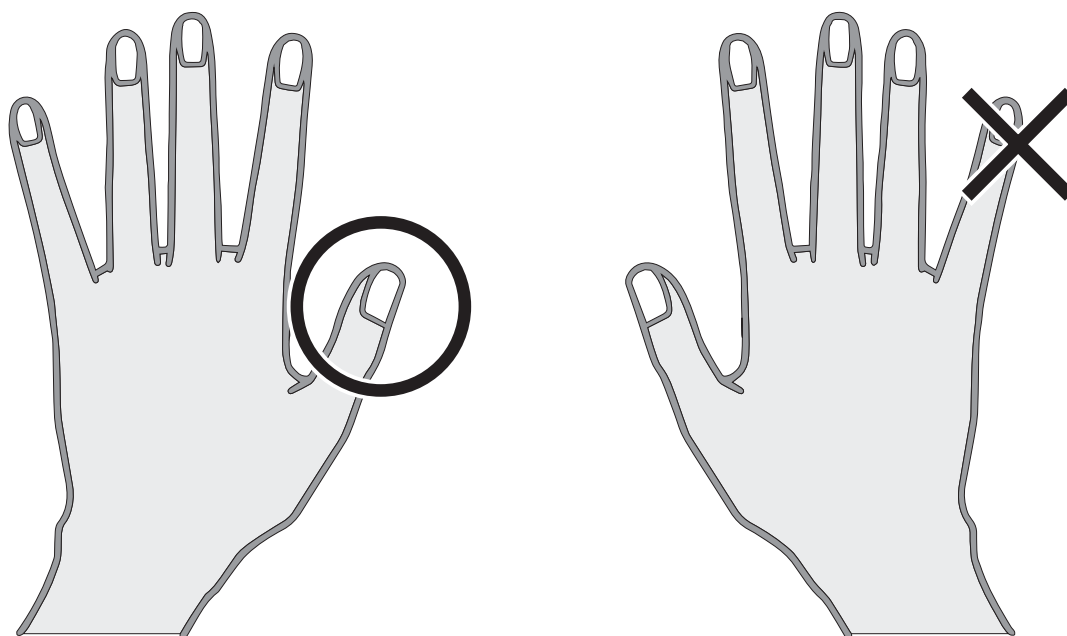
①首に○、左耳に△をかきましょう。

②左手の親指に○、右手の小指に×をかきましょう。

①



②



※1. このプリントは、しながわ・目黒こどもスクールのウェブサイトからダウンロードできます。無断複写・引用はご遠慮ください。

※2. このプリントを活用したオンライン授業のスケジュールは、しながわ・目黒こどもスクールのウェブサイトでご確認ください。





おうちで、やろう。 年中児版

Study at home. 小学校受験の家庭学習教材


常識：人体2

下のお話を聞いて、問題に答えましょう。

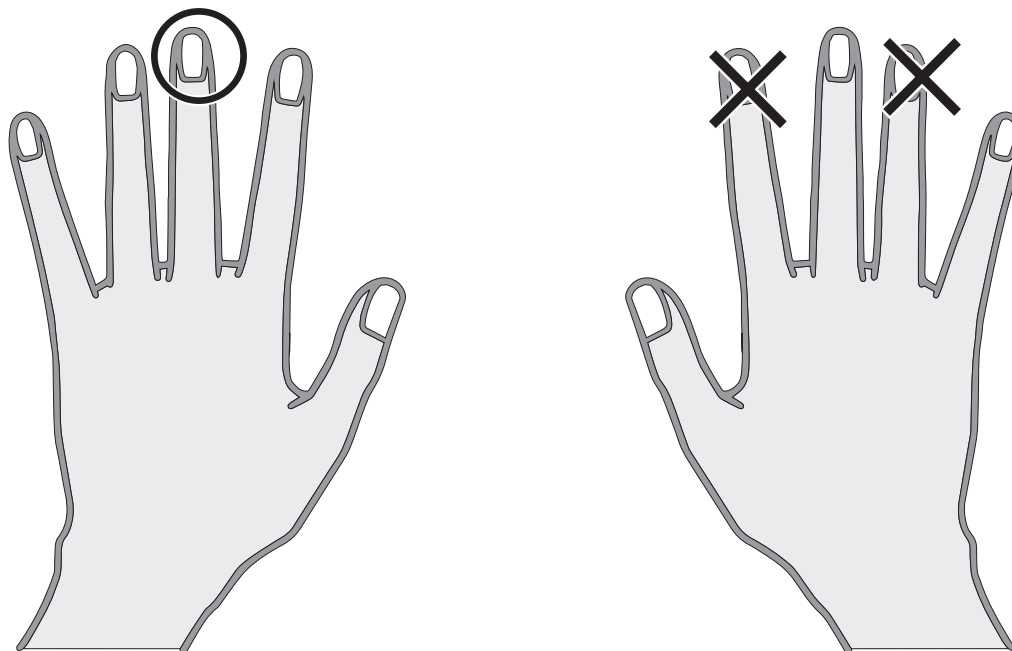
①右目に○、右耳に△をかきましょう。

②左手の中指に○、右手のくすり指と人差し指に×をかきましょう。

①



②



※1. このプリントは、しながわ・目黒こどもスクールのウェブサイトからダウンロードできます。無断複写・引用はご遠慮ください。

※2. このプリントを活用したオンライン授業のスケジュールは、しながわ・目黒こどもスクールのウェブサイトでご確認ください。





おうちで、やろう。 年中児版

Study at home. 小学校受験の家庭学習教材

図形：回転3

左の四角の絵が矢印の方向に一度倒れた時、どのように見えますか。あてはまるものに○をつけます。

Rotation 3 exercise grid:

- Row 1:**
 - Panel 1: A child upside down on a circular mat with confetti. An arrow points to the right.
 - Panel 2: A child upside down on a circular mat with confetti.
 - Panel 3: A child standing on a circular mat with confetti.
 - Panel 4: A child upside down on a circular mat with confetti, enclosed in a thick black circle.
- Row 2:**
 - Panel 1: A child lying on their side on a circular mat.
 - Panel 2: A child upside down on a circular mat.
 - Panel 3: A child standing on a circular mat, enclosed in a thick black circle.
 - Panel 4: A child lying on their side on a circular mat.
- Row 3:**
 - Panel 1: A child on a circular mat with a large white circle below it.
 - Panel 2: Two children pushing a large white circle.
 - Panel 3: A child on a circular mat with a large white circle above it.
 - Panel 4: A child on a circular mat with a large white circle above it, enclosed in a thick black circle.
- Row 4:**
 - Panel 1: Two children holding a trophy.
 - Panel 2: Two children upside down holding a trophy.
 - Panel 3: Two children holding a trophy.
 - Panel 4: Two children holding a trophy, enclosed in a thick black circle.

※1. このプリントは、しながわ・目黒こどもスクールのウェブサイトでダウンロードができます。無断複写・引用はご遠慮ください。
 ※2. このプリントを活用したオンライン授業のスケジュールは、しながわ・目黒こどもスクールのウェブサイトでご確認ください。



おうちで、やろう。 年中児版

Study at home. 小学校受験の家庭学習教材

図形：回転 4

左の四角の絵が矢印の方向に一度倒れた時、どのように見えますか。あてはまるものに○をつけます。

Row 1: A square containing an upright triangle with a black dot in its center. An arrow points to the right.

Row 2: A square containing a five-pointed star with a black dot at the top point and a white dot at the bottom-left point. An arrow points to the right.

Row 3: A square containing a black circle with a white star in the center and two white triangles (one pointing left, one pointing up) on the right and bottom edges. An arrow points to the right.

Row 4: A square containing a black hexagon with a white triangle pointing left and a white circle on the right side. An arrow points to the right.

Each row is followed by four squares showing the original shape rotated 90 degrees clockwise. In each of these four squares, one of the original shape's features is highlighted with a white circle, representing the correct answer to the rotation question.

※1. このプリントは、しながわ・目黒こどもスクールのウェブサイトからダウンロードができます。無断複写・引用はご遠慮ください。
 ※2. このプリントを活用したオンライン授業のスケジュールは、しながわ・目黒こどもスクールのウェブサイトでご確認ください。

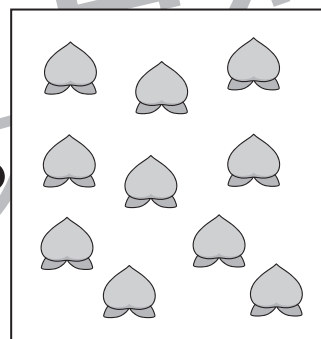
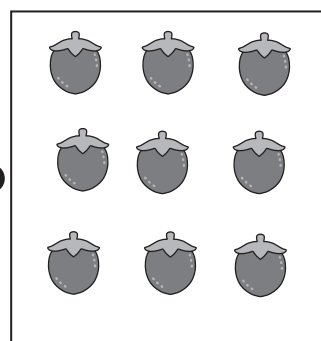

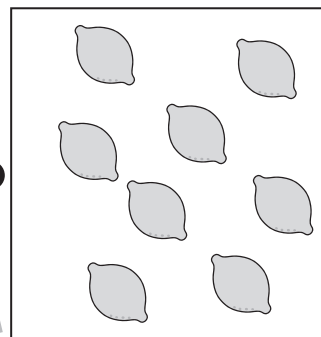


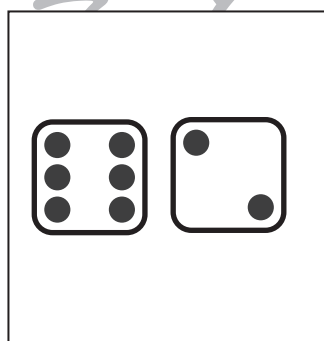





おうちで、やろう。

Study at home. 小学校受験の家庭学習教材

数量：計数5

四角の中の2つのサイコロの目を合わせた数と同じ数のものを右側から見つけて、点と点を線で結びます。



※1. このプリントは、しながわ・目黒こどもスクールのウェブサイトでダウンロードができます。無断複写・引用はご遠慮ください。
※2. このプリントを活用したオンライン授業のスケジュールは、しながわ・目黒こどもスクールのウェブサイトでご確認ください。





おうちで、やろう。

Study at home. 小学校受験の家庭学習教材

数量：計数6

四角の中の全てのサイコロの目を合わせた数と同じ数のものを右側から見つけて、点と点を線で結びます。

The image shows a matching exercise. On the left, there are five boxes containing dice faces. On the right, there are five boxes containing different types of fruit. Lines connect the dice boxes to the fruit boxes based on their total counts.

Box (Left)	Contents	Total Count	Box (Right)	Contents	Total Count
1	1, 2, 2	5	1	12 Pineapples	12
2	4	4	2	10 Apples	10
3	2, 2	4	3	6 Lemons	6
4	1, 1, 2, 2	6	4	9 Apples	9
5	1, 1, 2, 4	8	5	10 Peaches	10

※1. このプリントは、しながわ・目黒こどもスクールのウェブサイトでダウンロードができます。無断複写・引用はご遠慮ください。

※2. このプリントを活用したオンライン授業のスケジュールは、しながわ・目黒こどもスクールのウェブサイトでご確認ください。