



おうちで、やろう。


Study at home. 小学校受験の家庭学習教材

指示の聞き取り 10


それぞれのお話を聞いて答えます。お話は一回しか読みませんのでよく聞きましょう。

- ①色々な形が並んでいます。この中で△だけに○をつけます。
- ②色々な果物が並んでいます。この中でミカンには○、モモには△をつけます。
- ③○がいくつか並んでいます。真ん中の○を黄色のクーピーで塗ります。
- ④チューリップと葉っぱが並んでいます。チューリップだけを数えて左から3番目に○をつけます。
- ⑤紅葉とイチョウの葉っぱが並んでいます。イチョウだけを数えて右から4番目に○をつけます。

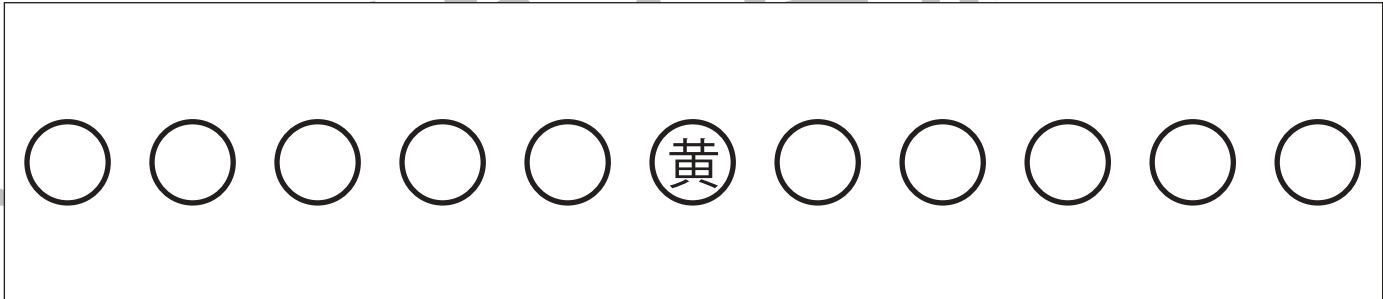
①




②



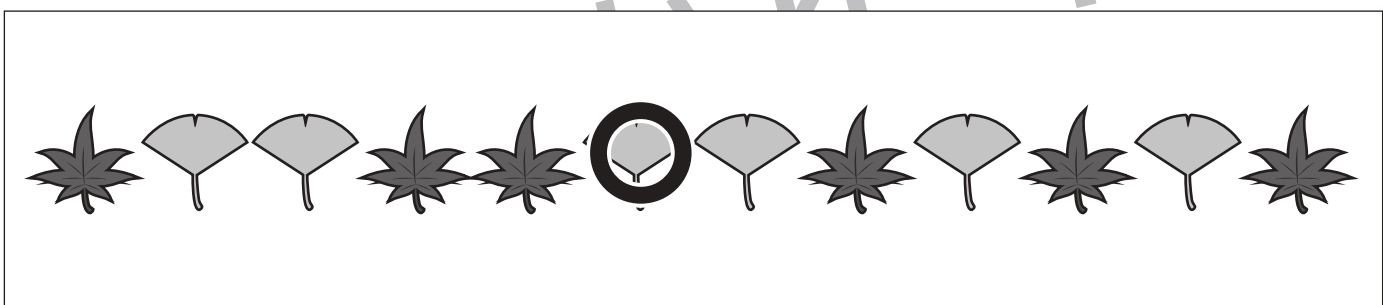
③



④



⑤



※1. このプリントは、しながわ・目黒こどもスクールのウェブサイトでダウンロードができます。無断複写・引用はご遠慮ください。
 ※2. このプリントを活用したオンライン授業のスケジュールは、しながわ・目黒こどもスクールのウェブサイトでご確認ください。



おうちで、やろう。

Study at home. 小学校受験の家庭学習教材

言語：音の数 14

太い四角の中の絵の音の数を合わせるといくつになるかを考えて、その数だけ真ん中の四角の中に○をかきます。
この時、音の数が10よりも多くなる時は○、少なくなる時は×を一番右の四角にかきます。

	$\bigcirc \times 6$	
	$\bigcirc \times 7$	
	$\bigcirc \times 9$	
	$\bigcirc \times 12$	
	$\bigcirc \times 12$	

※1. このプリントは、しながわ・目黒こどもスクールのウェブサイトでダウンロードができます。無断複写・引用はご遠慮ください。

※2. このプリントを活用したオンライン授業のスケジュールは、しながわ・目黒こどもスクールのウェブサイトでご確認ください。



おうちで、やろう。

Study at home. 小学校受験の家庭学習教材

言語：音の数 15

太い四角の中の絵の音の数を合わせるといくつになるかを考えて、その数だけ真ん中の四角の中に○をかきます。
この時、音の数が10よりも多くなる時は○、少なくなる時は×を一番右の四角にかきます。

	$\bigcirc \times 15$	
--	----------------------	--

	$\bigcirc \times 9$	
--	---------------------	--

	$\bigcirc \times 8$	
--	---------------------	--

	$\bigcirc \times 14$	
--	----------------------	--

	$\bigcirc \times 12$	
--	----------------------	--

※1. このプリントは、しながわ・目黒こどもスクールのウェブサイトでダウンロードができます。無断複写・引用はご遠慮ください。
 ※2. このプリントを活用したオンライン授業のスケジュールは、しながわ・目黒こどもスクールのウェブサイトでご確認ください。


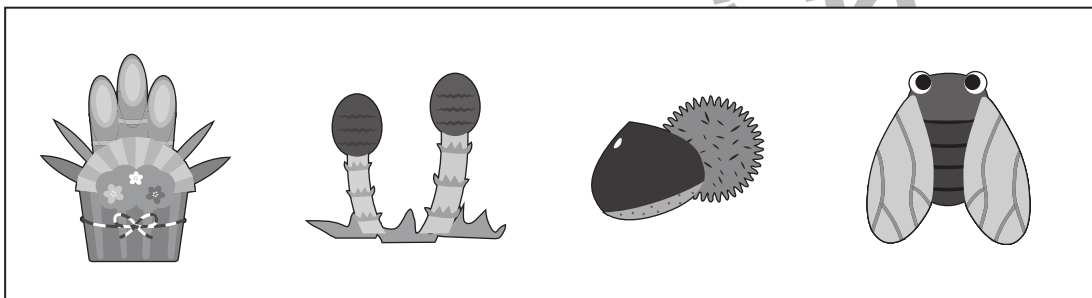



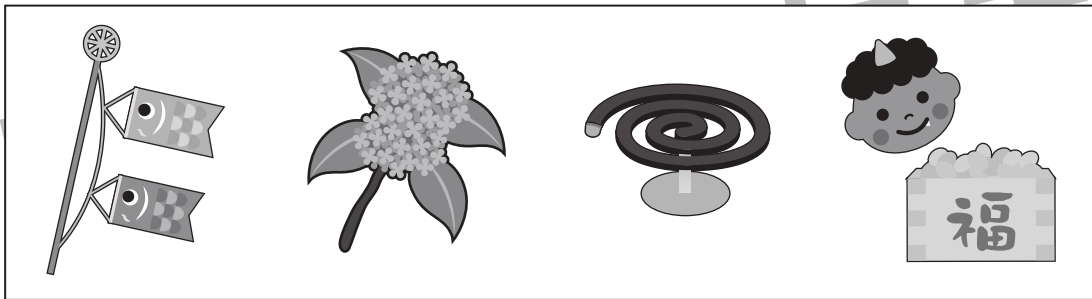






おうちで、やろう。

Study at home. 小学校受験の家庭学習教材

常識：季節9

左から順番に季節の絵が並んでいます。季節の順番が正しいときは○、間違っているときは×を一番右の四角にかきます。



※1. このプリントは、しながわ・目黒こどもスクールのウェブサイトからダウンロードできます。無断複写・引用はご遠慮ください。
※2. このプリントを活用したオンライン授業のスケジュールは、しながわ・目黒こどもスクールのウェブサイトでご確認ください。



おうちで、やろう。

Study at home. 小学校受験の家庭学習教材

図形：移動 15

左の四角がお手本です。右に一マス、上に一マス進んだ時の見え方を考えて、右の四角にかきます。

※1. このプリントは、しながわ・目黒こどもスクールのウェブサイトでダウンロードができます。無断複写・引用はご遠慮ください。
 ※2. このプリントを活用したオンライン授業のスケジュールは、しながわ・目黒こどもスクールのウェブサイトでご確認ください。



おうちで、やろう。

Study at home. 小学校受験の家庭学習教材

図形：移動 16

左の四角がお手本です。右に一マス、上に一マス進んだ時の見え方を考えて、右の四角にかきます。

※1. このプリントは、しながわ・目黒こどもスクールのウェブサイトでダウンロードができます。無断複写・引用はご遠慮ください。
 ※2. このプリントを活用したオンライン授業のスケジュールは、しながわ・目黒こどもスクールのウェブサイトでご確認ください。



おうちで、やろう。

Study at home. 小学校受験の家庭学習教材

推理：じゃんけん6

お友だちとあなたがじゃんけんをして、あなたが負けました。
このとき、お友だちが出した手を考えて点線の中の手に○をつけます。

Illustration of a girl with a speech bubble showing an open hand (losing hand). A dashed box contains three options: a rock hand, a hand with a circle around it (the correct answer), and an open hand.

Illustration of a boy with a speech bubble showing a rock hand (losing hand). A dashed box contains three options: a rock hand, a hand with a circle around it (the correct answer), and a peace hand.

Illustration of a girl with a speech bubble showing a peace hand (losing hand). A dashed box contains three options: a hand with a circle around it (the correct answer), a rock hand, and a peace hand.

Illustration of a boy with a speech bubble showing an open hand (losing hand). A dashed box contains three options: a rock hand, a hand with a circle around it (the correct answer), and a peace hand.

Illustration of a girl with a speech bubble showing a peace hand (losing hand). A dashed box contains three options: a hand with a circle around it (the correct answer), a rock hand, and a peace hand.

Illustration of a boy with a speech bubble showing a peace hand (losing hand). A dashed box contains three options: a hand with a circle around it (the correct answer), a rock hand, and a peace hand.

Illustration of a boy with a speech bubble showing a rock hand (losing hand). A dashed box contains three options: a rock hand, a hand with a circle around it (the correct answer), and a peace hand.

Illustration of a girl with a speech bubble showing a rock hand (losing hand). A dashed box contains three options: a rock hand, a hand with a circle around it (the correct answer), and a peace hand.

※1. このプリントは、しながわ・目黒こどもスクールのウェブサイトでダウンロードができます。無断複写・引用はご遠慮ください。

※2. このプリントを活用したオンライン授業のスケジュールは、しながわ・目黒こどもスクールのウェブサイトでご確認ください。



おうちで、やろう。

Study at home. 小学校受験の家庭学習教材

数量：すごろく2

キツネさんとタヌキさんがすごろく遊びをしています。星から上のサイコロの目の数だけマスを進みます。キツネさんが着いたマスには○、タヌキさんが着いたマスには△をつけます。

		→		→		
		→		→		

		→		→		→	
		→		→		→	

※1. このプリントは、しながわ・目黒こどもスクールのウェブサイトでダウンロードができます。無断複写・引用はご遠慮ください。
 ※2. このプリントを活用したオンライン授業のスケジュールは、しながわ・目黒こどもスクールのウェブサイトでご確認ください。



おうちで、やろう。

Study at home. 小学校受験の家庭学習教材

数量：すごろく3

キツネさんとタヌキさんがすごろく遊びをしています。星から上のサイコロの目の数だけマスを進みます。キツネさんが着いたマスには○、タヌキさんが着いたマスには△つけます。

		→		→		→	
		→		→		→	

--	--	--	--	--	--	--	--

--	--	--	--	--	--	--	--

		→		→		→		→	
		→		→		→		→	

--	--	--	--	--	--	--	--

--	--	--	--	--	--	--	--

※1. このプリントは、しながわ・目黒こどもスクールのウェブサイトからダウンロードできます。無断複写・引用はご遠慮ください。
 ※2. このプリントを活用したオンライン授業のスケジュールは、しながわ・目黒こどもスクールのウェブサイトでご確認ください。