



おうちで、やろう。

Study at home. 小学校受験の家庭学習教材

言語：おわりの音 7

左上の太い四角の中の絵のおわりの音と同じおわりの音の絵を、大きい四角の中から探して○をつけます。

Illustration of a matching exercise. The top-left corner has a thick-bordered square containing a bell pepper. The rest of the large square contains various items: a donut, an eggplant, a slice of ham, a fox, a crab, a turtle, a carrot (circled with a thin line), a candy, and a piece of fish (circled with a thin line).

Illustration of a matching exercise. The top-left corner has a thick-bordered square containing a dolphin. The rest of the large square contains various items: a chocolate bar, a drum, a pencil, a slide, an apple, a trash can, a hand (circled with a thin line), and a watermelon (circled with a thin line).

※1. このプリントは、しながわ・目黒こどもスクールのウェブサイトでダウンロードができます。無断複写・引用はご遠慮ください。

※2. このプリントを活用したオンライン授業のスケジュールは、しながわ・目黒こどもスクールのウェブサイトでご確認ください。


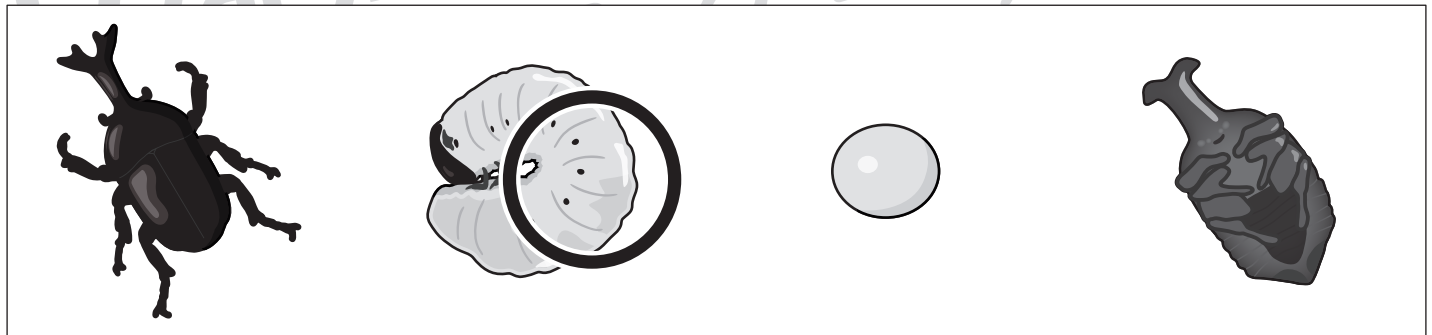




おうちで、やろう。

Study at home. 小学校受験の家庭学習教材

常識：生き物1

それぞれの四角には生き物が成長していく様子の絵があります。順番通りに並べた時、2番目になる絵に○をつけます。



※1. このプリントは、しながわ・目黒こどもスクールのウェブサイトでダウンロードができます。無断複写・引用はご遠慮ください。
※2. このプリントを活用したオンライン授業のスケジュールは、しながわ・目黒こどもスクールのウェブサイトでご確認ください。















おうちで、やろう。

Study at home. 小学校受験の家庭学習教材

推理：水量3

左の太い四角の中のコップの水よりも水が多く入っているコップを、右の四角から探して○をつけます。



※1. このプリントは、しながわ・目黒こどもスクールのウェブサイトでダウンロードができます。無断複写・引用はご遠慮ください。
※2. このプリントを活用したオンライン授業のスケジュールは、しながわ・目黒こどもスクールのウェブサイトでご確認ください。



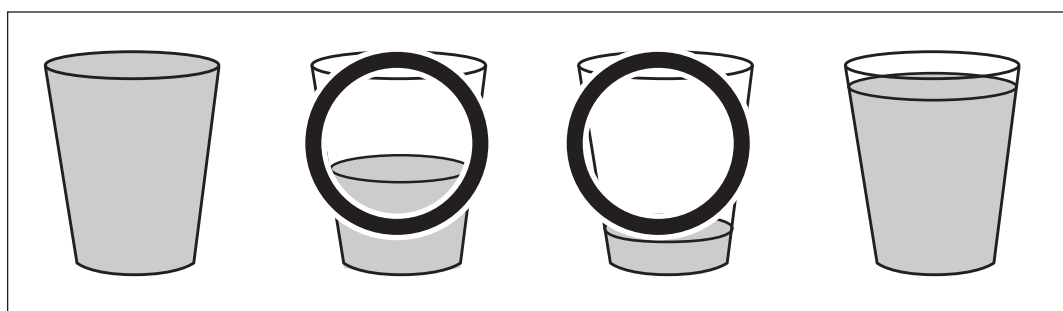







おうちで、やろう。

Study at home. 小学校受験の家庭学習教材

推理：水量 4

左の太い四角の中の水よりも水が少ないコップを、右の四角から探して○をつけます。



※1. このプリントは、しながわ・目黒こどもスクールのウェブサイトでダウンロードができます。無断複写・引用はご遠慮ください。
※2. このプリントを活用したオンライン授業のスケジュールは、しながわ・目黒こどもスクールのウェブサイトでご確認ください。



おうちで、やろう。

Study at home. 小学校受験の家庭学習教材

推理：四方観察5

左の太い四角の中の積み木を上からのぞいて見た時の見え方を考えて、右の四角の中から選んで○をつけます。

※1. このプリントは、しながわ・目黒こどもスクールのウェブサイトからダウンロードできます。無断複写・引用はご遠慮ください。

※2. このプリントを活用したオンライン授業のスケジュールは、しながわ・目黒こどもスクールのウェブサイトでご確認ください。

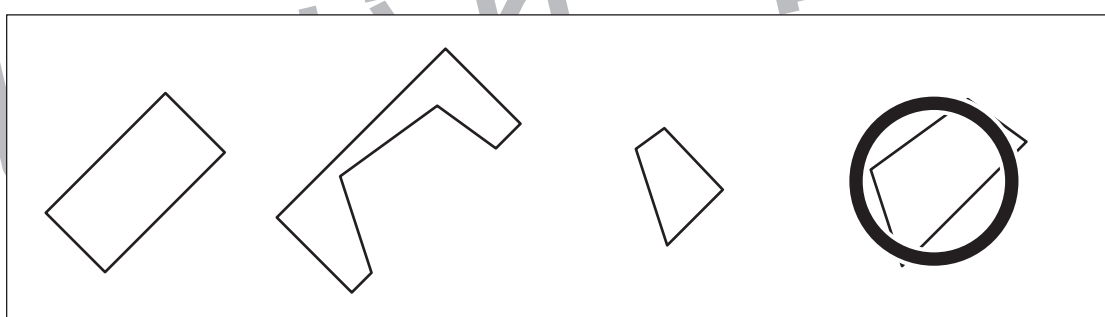
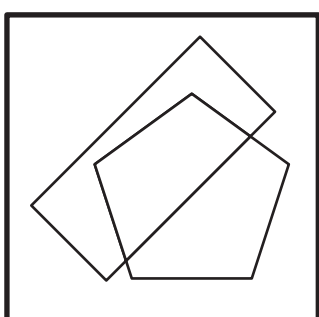
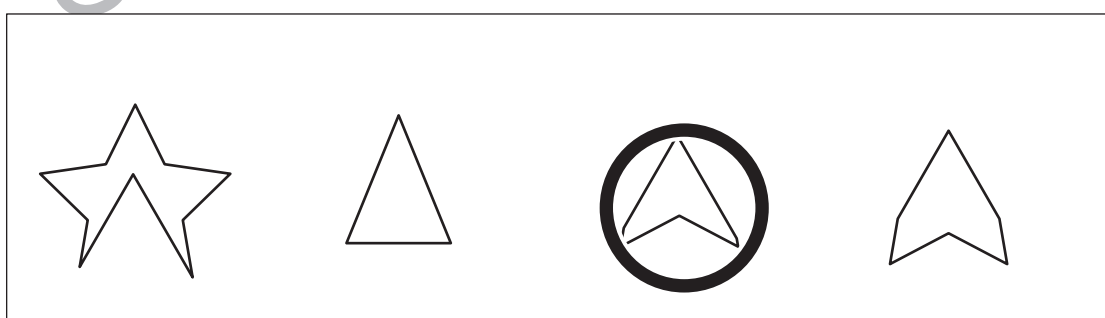

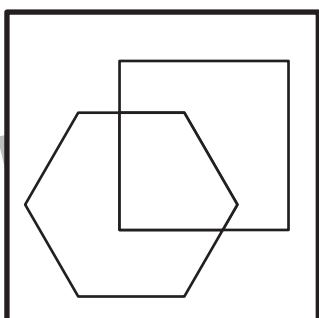
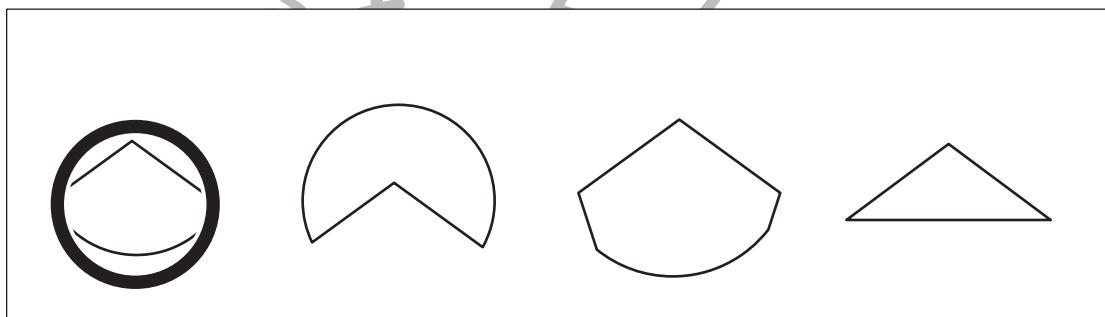
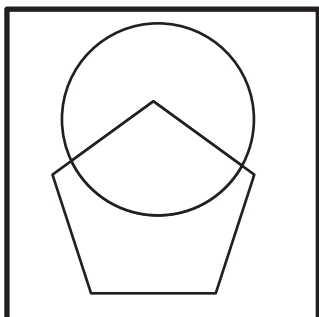
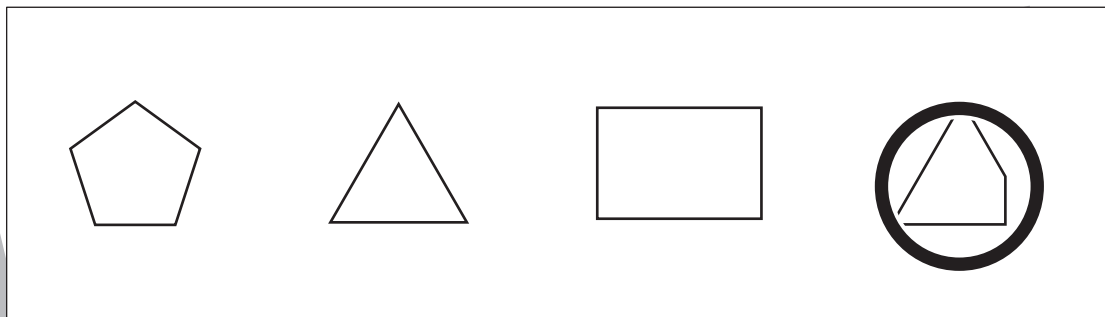
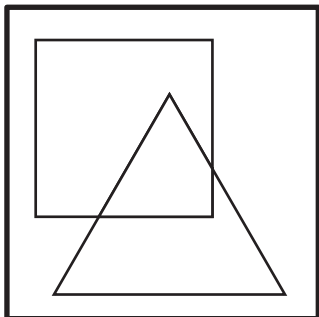


おうちで、よろう。

Study at home. 小学校受験の家庭学習教材

図形：重なり 11

左の太い四角の中の形が重なっている部分を右の四角の中から探して○をつけます。



※1. このプリントは、しながわ・目黒こどもスクールのウェブサイトからダウンロードできます。無断複写・引用はご遠慮ください。
※2. このプリントを活用したオンライン授業のスケジュールは、しながわ・目黒こどもスクールのウェブサイトでご確認ください。



おうちで、やろう。

Study at home. 小学校受験の家庭学習教材

数量：多少 9

横に並んだ 4 つの四角の中で灰色のマスが一番多い四角に○をつけます。

--	--	--	--

--	--	--	--

--	--	--	--

--	--	--	--

※1. このプリントは、しながわ・目黒こどもスクールのウェブサイトからダウンロードできます。無断複写・引用はご遠慮ください。
 ※2. このプリントを活用したオンライン授業のスケジュールは、しながわ・目黒こどもスクールのウェブサイトでご確認ください。



おうちで、やろう。

Study at home. 小学校受験の家庭学習教材

数量：多少 10

横に並んだ 4 つの四角の中で灰色のマスが一番多い四角に○をつけます。

--	--	--	--

--	--	--	--

--	--	--	--

--	--	--	--

※1. このプリントは、しながわ・目黒こどもスクールのウェブサイトでダウンロードができます。無断複写・引用はご遠慮ください。
 ※2. このプリントを活用したオンライン授業のスケジュールは、しながわ・目黒こどもスクールのウェブサイトでご確認ください。




おうちで、やろう。

Study at home. 小学校受験の家庭学習教材

数量：加減 13


それぞれの問題に答えましょう。

イヌが 10 匹います。5 匹散歩に行きました。イヌはあと何匹残っていますか。その数だけ右の四角に○をかきます。



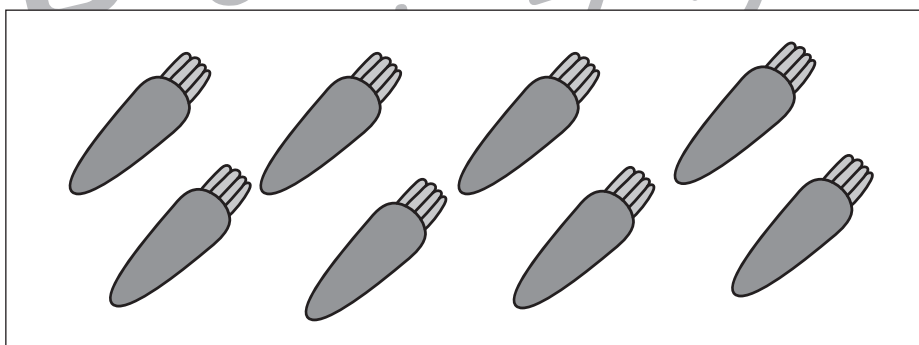
○ × 5

野原にウサギが 4 羽います。そこに鳥が 3 羽飛んできました。ウサギと鳥は合わせて何羽ですか。その数だけ右の四角に○をかきます。



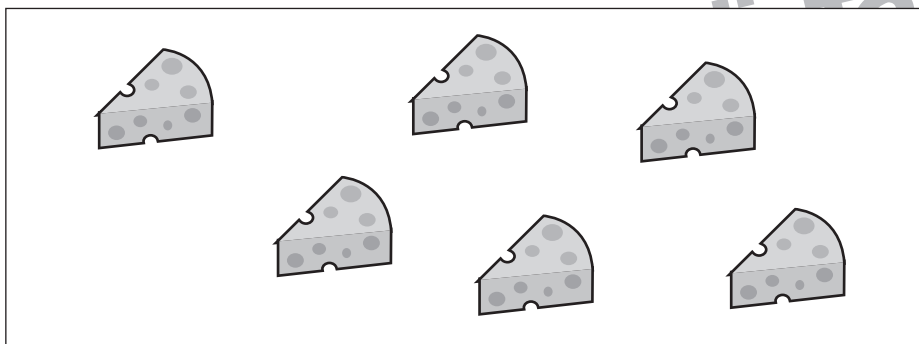
○ × 7

ウマがニンジンを 8 本持っています。そのうち 3 本食べました。残りはいくつですか。その数だけ右の四角に○をかきます。



○ × 5

ネズミはチーズを 6 つ持っています。朝に 2 つ、昼に 3 つ食べました。残りはいくつですか。その数だけ右の四角に○をかきます。



○ × 1