

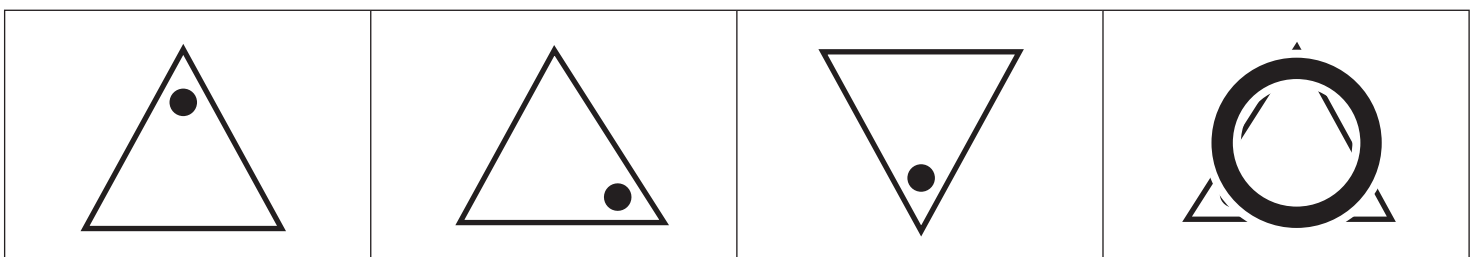
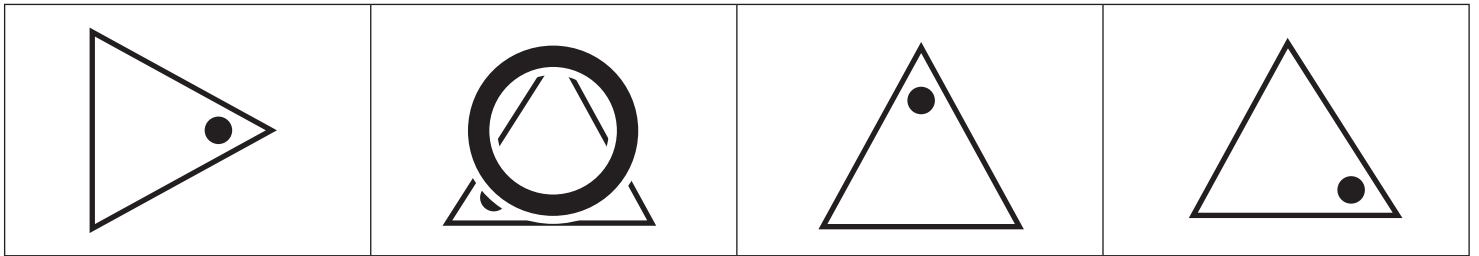
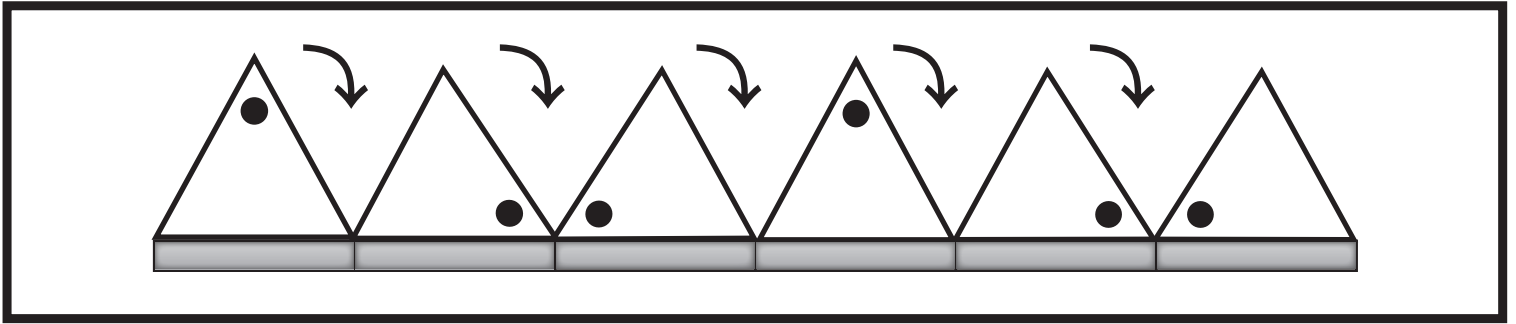


# おうちで、やろう。 年中児版

Study at home. 小学校受験の家庭学習教材

図形：回転7

上の太い四角の中は三角が板の上を矢印の向きに一回ずつ倒れていく様子です。この様子を見て、一番左にある三角が矢印の向きに一回ずつ倒れていくとき、黒い板の場所に来たときの見え方を、下の四角の中から見つけて○をつけます。



※1. このプリントは、しながわ・目黒こどもスクールのウェブサイトでダウンロードができます。無断複写・引用はご遠慮ください。  
※2. このプリントを活用したオンライン授業のスケジュールは、しながわ・目黒こどもスクールのウェブサイトでご確認ください。



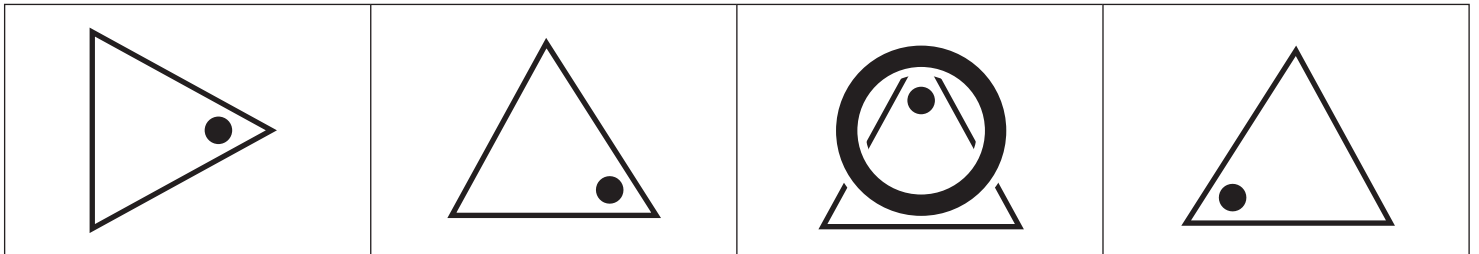
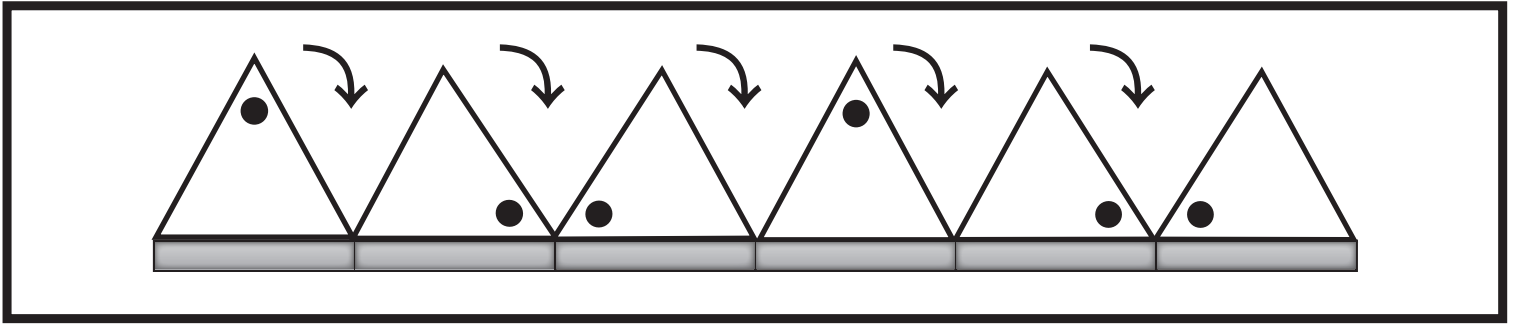


# おうちで、やろう。 年中児版

Study at home. 小学校受験の家庭学習教材

図形：回転8

上の太い四角の中は三角が板の上を矢印の向きに一回ずつ倒れていく様子です。この様子を見て、一番左にある三角が矢印の向きに一回ずつ倒れていく時、黒い板の場所に来たときの見え方を、下の四角の中から見つけて○をつけます。



※1. このプリントは、しながわ・目黒こどもスクールのウェブサイトでダウンロードができます。無断複写・引用はご遠慮ください。  
※2. このプリントを活用したオンライン授業のスケジュールは、しながわ・目黒こどもスクールのウェブサイトでご確認ください。





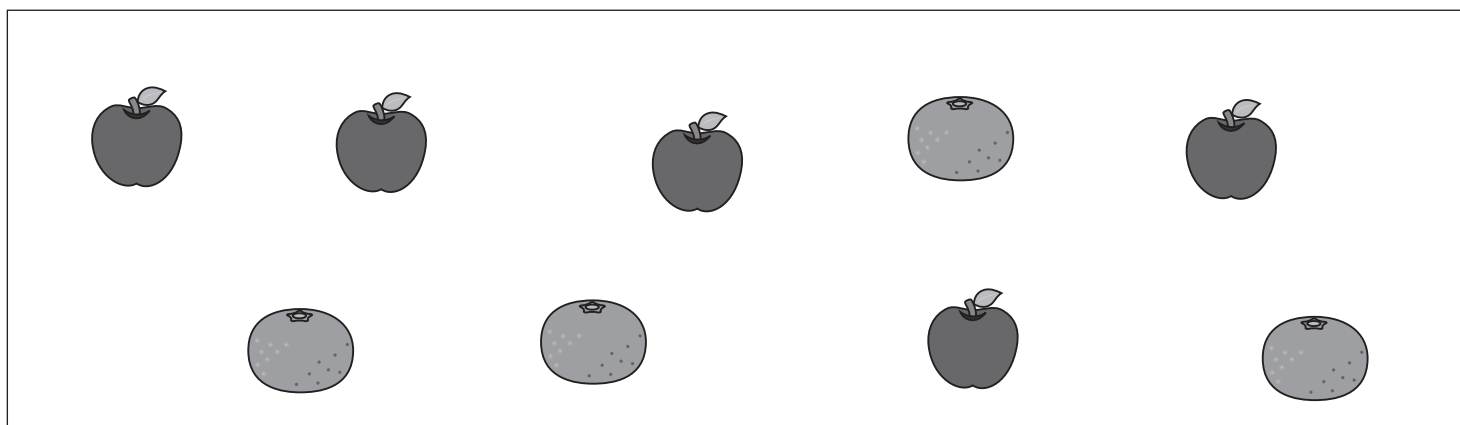
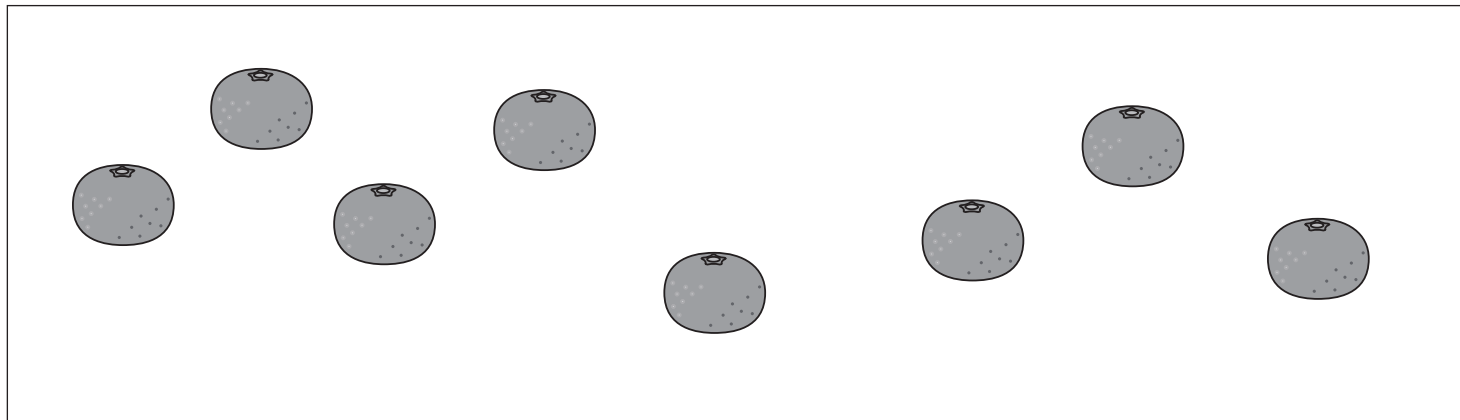


# おうちで、やろう。年中児版

Study at home. 小学校受験の家庭学習教材

数量：計数 10

それぞれの四角の中の果物がいくつあるのかを数えて、その数だけ下の四角に○をかきます。



※1. このプリントは、しながわ・目黒こどもスクールのウェブサイトからダウンロードができます。無断複写・引用はご遠慮ください。

※2. このプリントを活用したオンライン授業のスケジュールは、しながわ・目黒こどもスクールのウェブサイトでご確認ください。










# おうちで、やろう。 年中児版

Study at home. 小学校受験の家庭学習教材

数量：計数 11

それぞれの四角の中の果物がいくつあるのかを数えて、その数だけ下の四角に○をかきます。



※1. このプリントは、しながわ・目黒こどもスクールのウェブサイトからダウンロードができます。無断複写・引用はご遠慮ください。

※2. このプリントを活用したオンライン授業のスケジュールは、しながわ・目黒こどもスクールのウェブサイトでご確認ください。









# おうちで、やろう。 年中児版

Study at home. 小学校受験の家庭学習教材

推理：系列完成 4

下の絵はある約束の通りに並んでいます。太い四角の中に入る絵を考えて、下の四角の中の絵にそれぞれの記号をつけましょう。



※1. このプリントは、しながわ・目黒こどもスクールのウェブサイトでダウンロードができます。無断複写・引用はご遠慮ください。  
※2. このプリントを活用したオンライン授業のスケジュールは、しながわ・目黒こどもスクールのウェブサイトでご確認ください。



左のお手本の白い○だけを右の四角の同じ場所にあります。

	→			→	
	→			→	
	→			→	
	→			→	
	→			→	

※1. このプリントは、しながわ・目黒こどもスクールのウェブサイトからダウンロードできます。無断複写・引用はご遠慮ください。  
 ※2. このプリントを活用したオンライン授業のスケジュールは、しながわ・目黒こどもスクールのウェブサイトでご確認ください。