



おうちで、やろう。

Study at home. 小学校受験の家庭学習教材

言語：しりとり7

上の段・真ん中の段・下の段で上から順番にしりとりでつながるように、点と点を線で結びます。

The image shows a word chain puzzle with three rows of five boxes each. The boxes contain various illustrations. Lines connect the bottom of one box in a row to the top of another box in the row below it, forming a continuous path across the three rows. The connections are as follows:

- Row 1, Box 1 connects to Row 2, Box 2.
- Row 1, Box 2 connects to Row 2, Box 1.
- Row 1, Box 3 connects to Row 2, Box 4.
- Row 1, Box 4 connects to Row 2, Box 3.
- Row 1, Box 5 connects to Row 2, Box 5.
- Row 2, Box 1 connects to Row 3, Box 2.
- Row 2, Box 2 connects to Row 3, Box 1.
- Row 2, Box 3 connects to Row 3, Box 4.
- Row 2, Box 4 connects to Row 3, Box 3.
- Row 2, Box 5 connects to Row 3, Box 5.

※1. このプリントは、しながわ・目黒こどもスクールのウェブサイトからダウンロードできます。無断複写・引用はご遠慮ください。
 ※2. このプリントを活用したオンライン授業のスケジュールは、しながわ・目黒こどもスクールのウェブサイトでご確認ください。


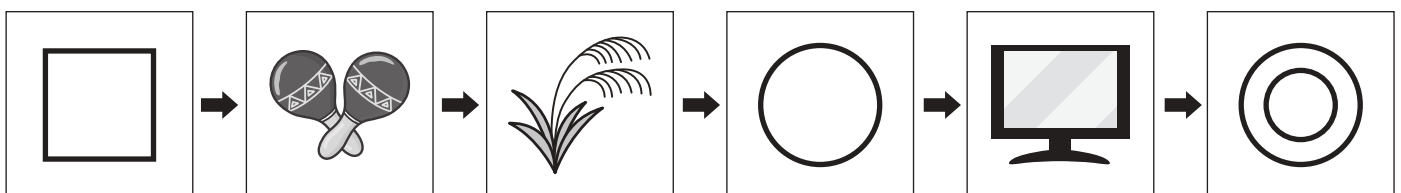

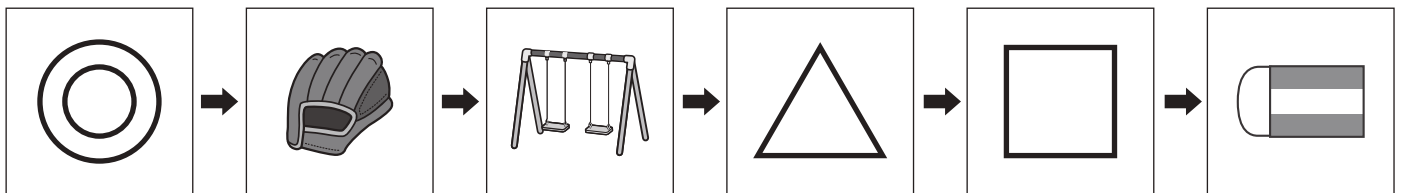

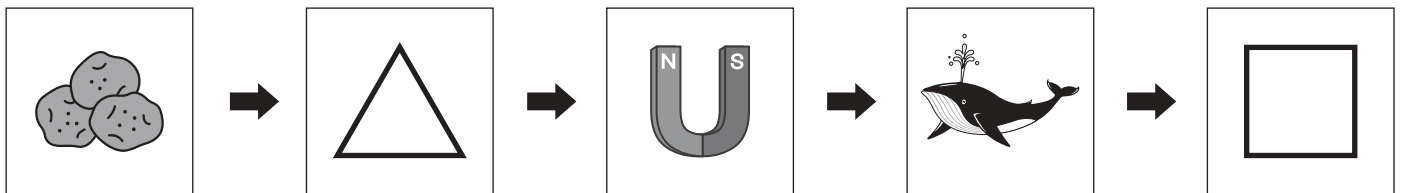




おうちで、やろう。

Study at home. 小学校受験の家庭学習教材

言語：しりとり 8

左の四角から右の四角までしりとりでつなぐ時、空いている所に入る絵を下の四角の中から選んで記号をつけます。



※1. このプリントは、しながわ・目黒こどもスクールのウェブサイトからダウンロードできます。無断複写・引用はご遠慮ください。
 ※2. このプリントを活用したオンライン授業のスケジュールは、しながわ・目黒こどもスクールのウェブサイトでご確認ください。



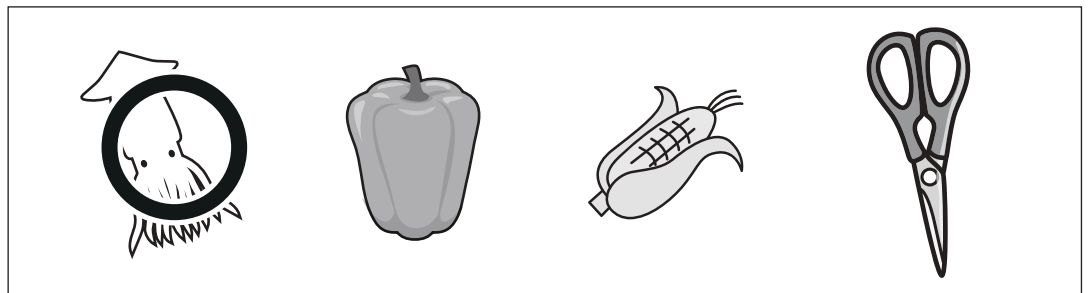


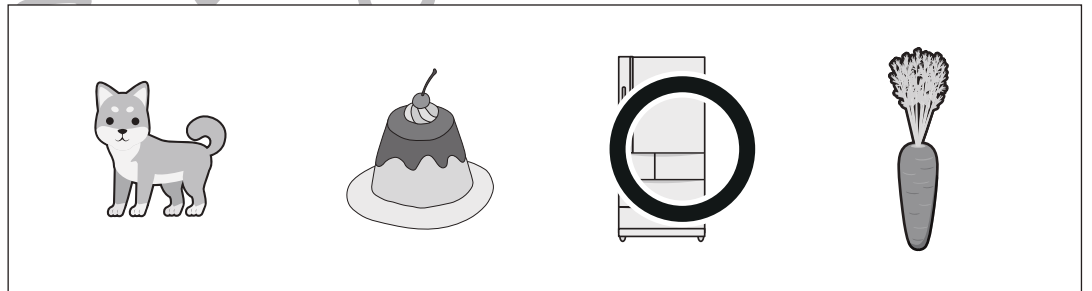

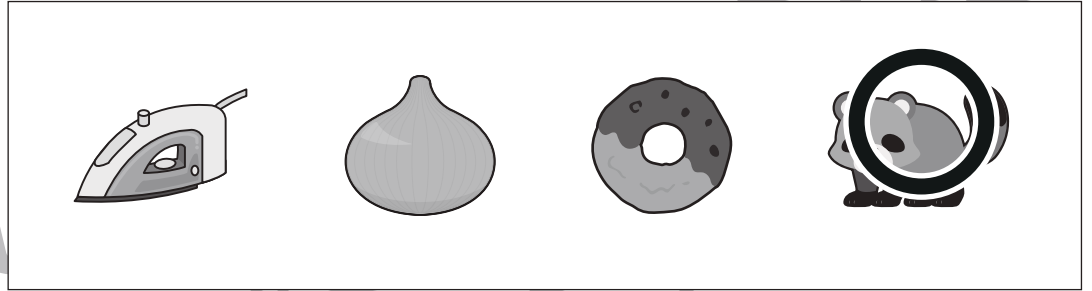



おうちで、やろう。

Study at home. 小学校受験の家庭学習教材

言語：音の理解 10

左の四角の絵のはじめの音と、右の四角の中の絵のおわりの音が同じものを見つけて○をつけます。



※1. このプリントは、しながわ・目黒こどもスクールのウェブサイトからダウンロードできます。無断複写・引用はご遠慮ください。
※2. このプリントを活用したオンライン授業のスケジュールは、しながわ・目黒こどもスクールのウェブサイトでご確認ください。

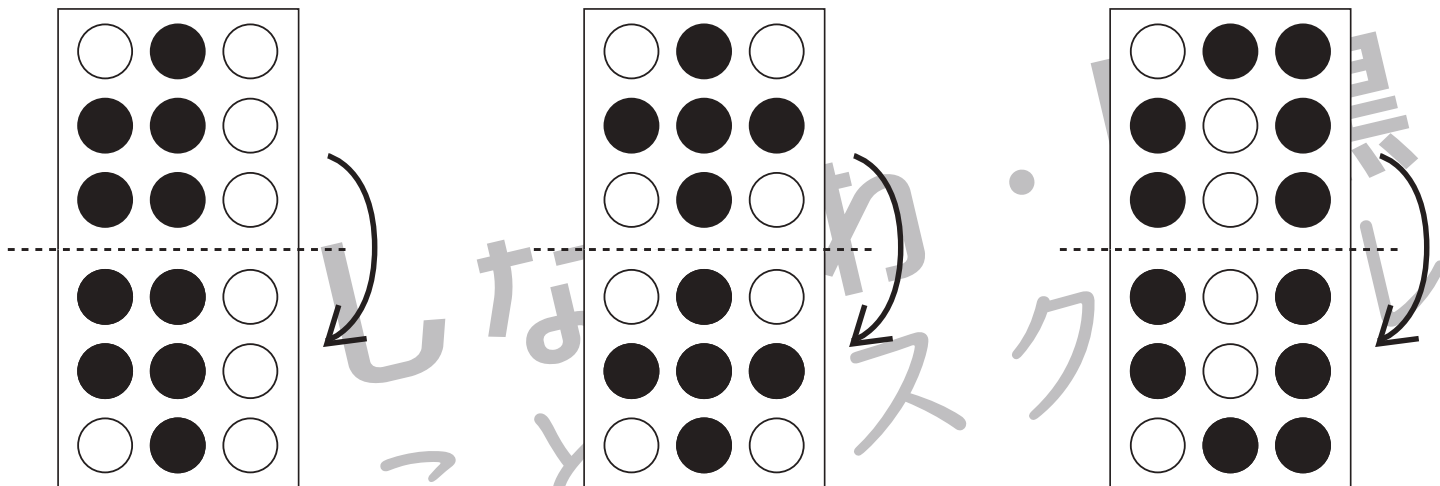
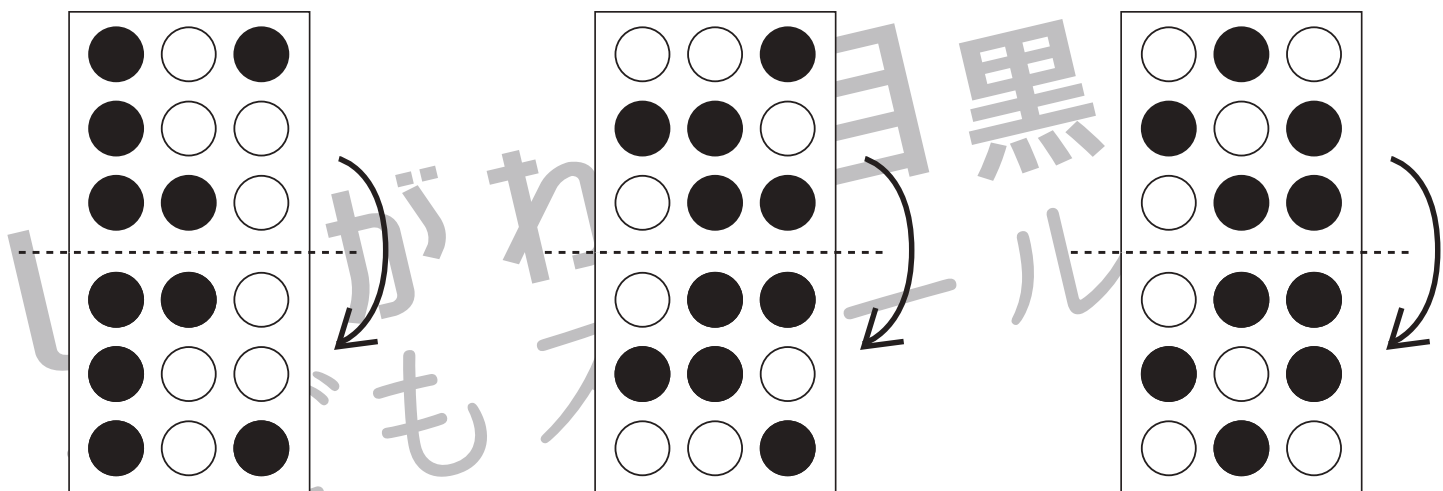
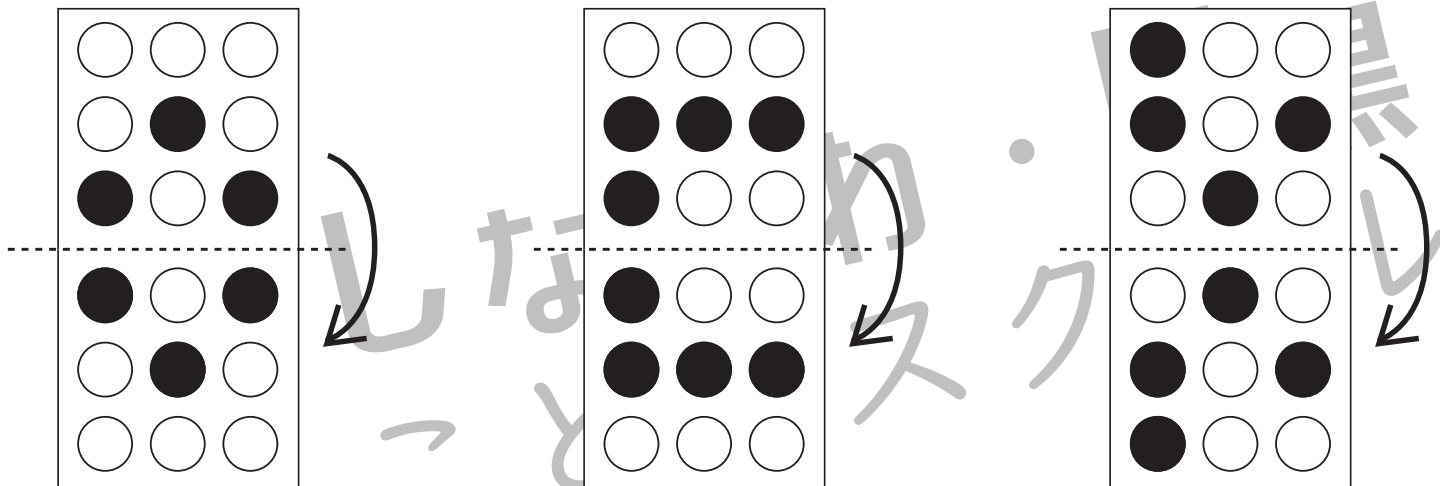


おうちで、やろう。

Study at home. 小学校受験の家庭学習教材

図形：折り重ね 13

真ん中の点線で矢印の方向へ折り重ねたときの見え方を考えて下の○を塗ります



※1. このプリントは、しながわ・目黒こどもスクールのウェブサイトでダウンロードができます。無断複写・引用はご遠慮ください。
 ※2. このプリントを活用したオンライン授業のスケジュールは、しながわ・目黒こどもスクールのウェブサイトでご確認ください。

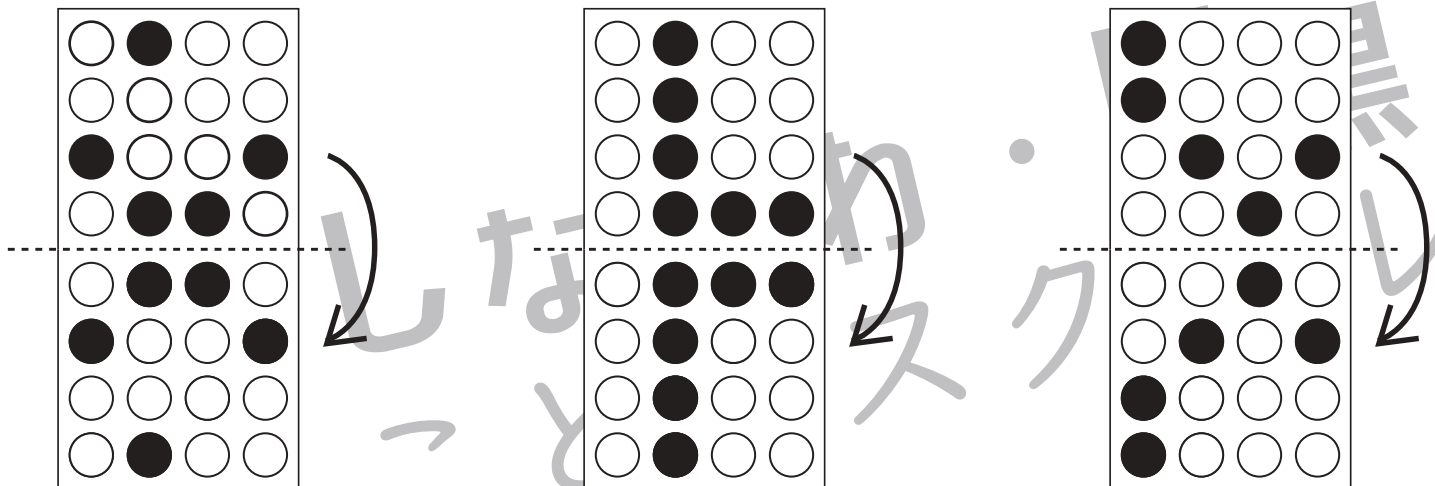


おうちで、やろう。

Study at home. 小学校受験の家庭学習教材

図形：折り重ね 14

真ん中の点線で矢印の方向へ折り重ねたときの見え方を考えて下の○を塗ります



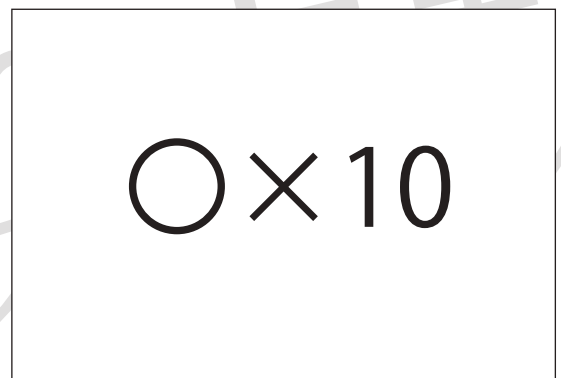

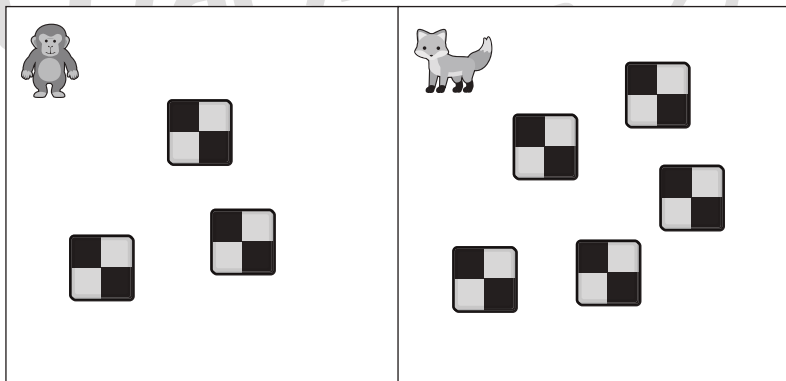




おうちで、やろう。

Study at home. 小学校受験の家庭学習教材

数量：合わせた数 8

サルとキツネが持っているクッキーは合わせて何枚ですか。その数だけ右の四角に○をかきます。



※1. このプリントは、しながわ・目黒こどもスクールのウェブサイトでダウンロードができます。無断複写・引用はご遠慮ください。
※2. このプリントを活用したオンライン授業のスケジュールは、しながわ・目黒こどもスクールのウェブサイトでご確認ください。













おうちで、やろう。












Study at home. 小学校受験の家庭学習教材

数量：合わせた数 9














サルとキツネとブタが持っているクッキーは合わせて何枚ですか。その数だけ右の四角に○をかきます。
















○ × 7

○ × 8

○ × 10

○ × 12

※1. このプリントは、しながわ・目黒こどもスクールのウェブサイトでダウンロードができます。無断複写・引用はご遠慮ください。
 ※2. このプリントを活用したオンライン授業のスケジュールは、しながわ・目黒こどもスクールのウェブサイトでご確認ください。



おうちで、やろう。

Study at home. 小学校受験の家庭学習教材

図形：置き換え3

左のお手本の灰色のマスと黒のマス場所を考えます。右のマスと同じ場所に灰色のマスは○、黒のマスは×をかきます。

※1. このプリントは、しながわ・目黒こどもスクールのウェブサイトでダウンロードができます。無断複写・引用はご遠慮ください。
※2. このプリントを活用したオンライン授業のスケジュールは、しながわ・目黒こどもスクールのウェブサイトでご確認ください。




おうちで、やろう。

Study at home. 小学校受験の家庭学習教材

処理：計数 9

大きな四角の中の動物を数えます。その数だけ下の四角に○をかきます。



○ × 4



○ × 5



○ × 7



○ × 9