






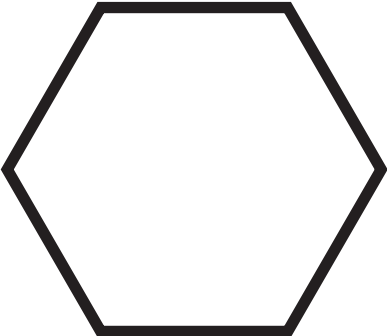




おうちで、やろう。

Study at home. 小学校受験の家庭学習教材

運筆：濃淡1

左の四角の中の食べものの絵をその食べものの色のクーピーで濃く塗ります。
右の四角の中の形は左の食べものの絵と同じクーピーの色で薄く塗ります。
※この問題に解答はありません。

※1. このプリントは、しながわ・目黒こどもスクールのウェブサイトでダウンロードができます。無断複写・引用はご遠慮ください。

※2. このプリントを活用したオンライン授業のスケジュールは、しながわ・目黒こどもスクールのウェブサイトでご確認ください。





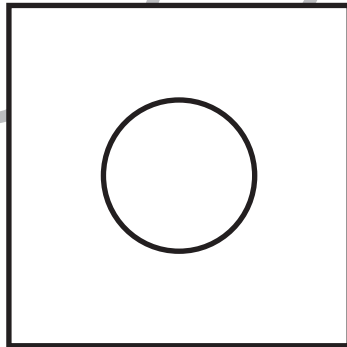
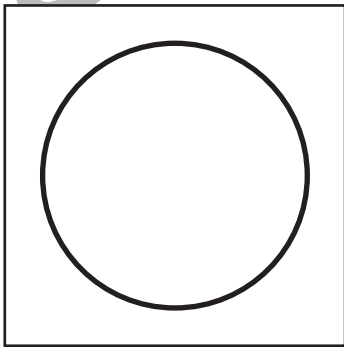




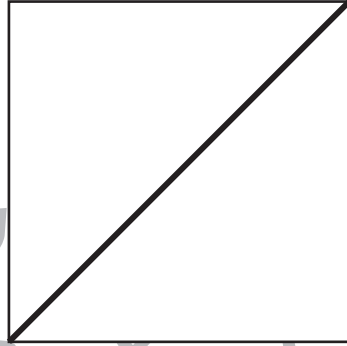



おうちで、よろう。 年中児版

Study at home. 小学校受験の家庭学習教材

図形：重ね5

左にある2枚の四角い透明の板をぴったり重ねたらどのように見えるかを考えて、太い四角の中にかきます。



※1. このプリントは、しながわ・目黒こどもスクールのウェブサイトからダウンロードができます。無断複写・引用はご遠慮ください。
※2. このプリントを活用したオンライン授業のスケジュールは、しながわ・目黒こどもスクールのウェブサイトでご確認ください。





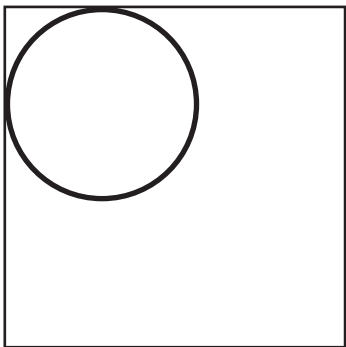


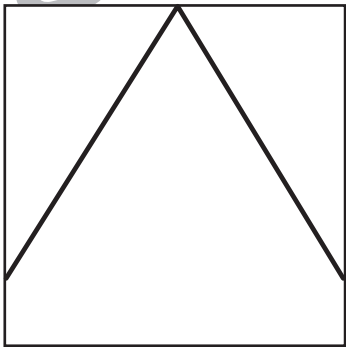

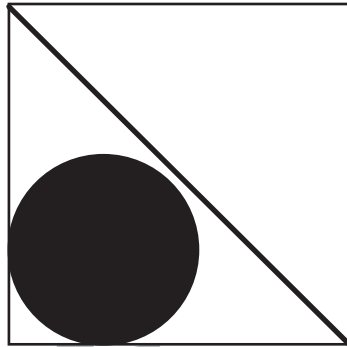


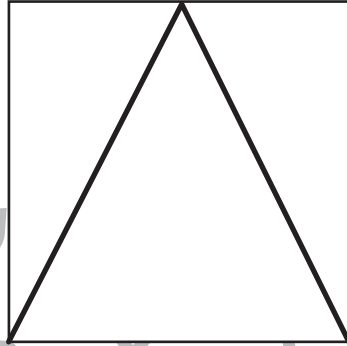
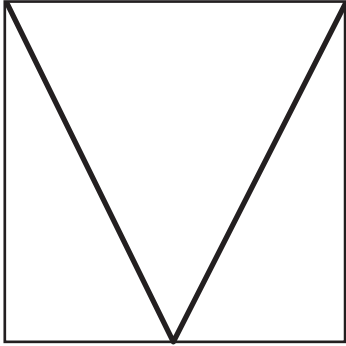


おうちで、やろう。 年中児版

Study at home. 小学校受験の家庭学習教材

図形：重ね6

左にある2枚の四角い透明の板をぴったり重ねたらどのように見えるかを考えて、太い四角の中にかきます。



※1. このプリントは、しながわ・目黒こどもスクールのウェブサイトでダウンロードができます。無断複写・引用はご遠慮ください。
※2. このプリントを活用したオンライン授業のスケジュールは、しながわ・目黒こどもスクールのウェブサイトでご確認ください。



おうちで、やろう。 年中児版

Study at home. 小学校受験の家庭学習教材

推理：系列完成5

① ☆から★まで □→○→□→□の順番に記号を鉛筆でかきます。

② ☆から★まで △→▽→×→×の順番に記号を鉛筆でかきます。

※点線はなぞります。また、この問題に解答はありません。

①

☆	□	○	□	□	□	○	□
							□
★							

①

☆	△	▽	×	×			
							★



おうちで、やろう。 年中児版

Study at home. 小学校受験の家庭学習教材

推理：系列完成6

- ① ☆から★まで□→△→△→□の順番に記号を鉛筆でかきます。
 - ② ☆から★まで△→○→×→□の順番に記号を鉛筆でかきます。
- ※点線はなぞります。また、この問題に解答はありません。

☆ □	△	△	□	□	△	△
--------	---	---	---	---	---	---

						□
--	--	--	--	--	--	---

★						
---	--	--	--	--	--	--

☆						
---	--	--	--	--	--	--

--	--	--	--	--	--	--

--	--	--	--	--	--	--

--	--	--	--	--	--	--

						★
--	--	--	--	--	--	---

※1. このプリントは、しながわ・目黒こどもスクールのウェブサイトからダウンロードができます。無断複写・引用はご遠慮ください。
 ※2. このプリントを活用したオンライン授業のスケジュールは、しながわ・目黒こどもスクールのウェブサイトでご確認ください。


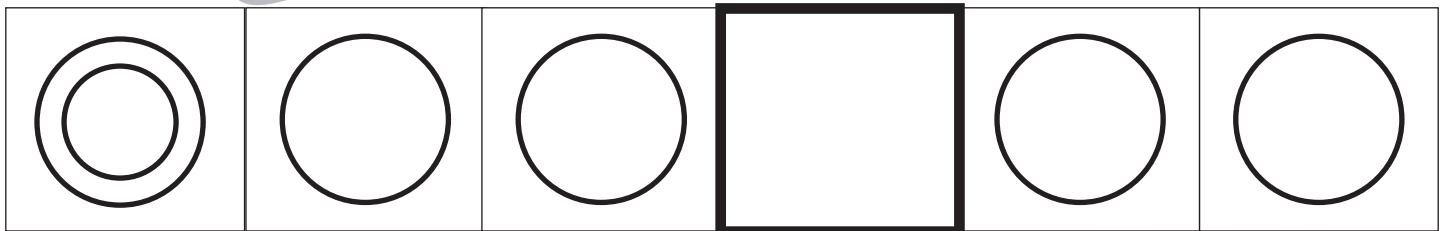

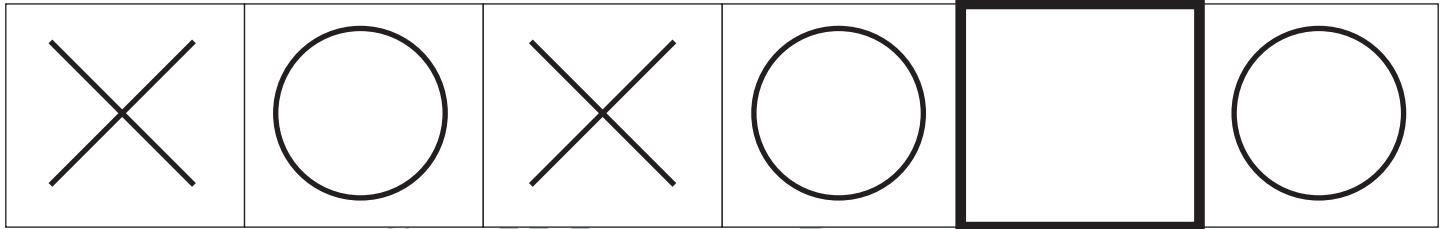
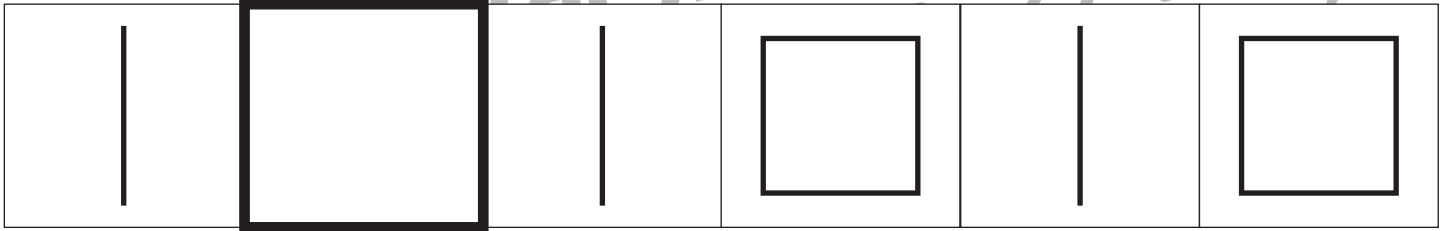
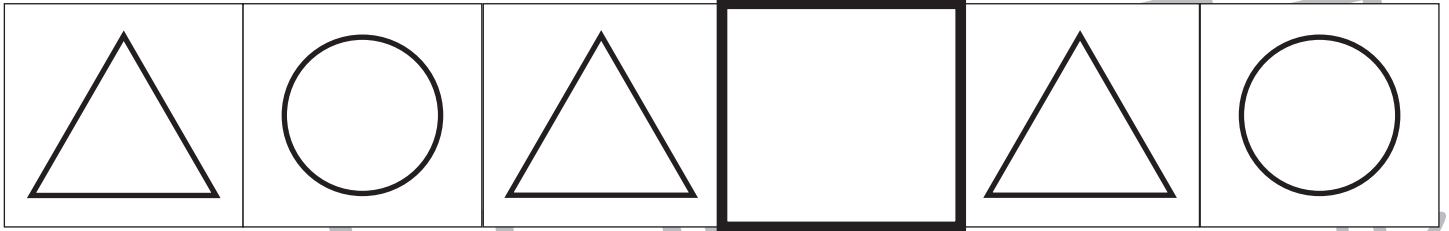


おうちで、やろう。 年中児版

Study at home. 小学校受験の家庭学習教材

推理：系列完成7

四角の中の記号は左から順番にある決まりに従って並んでいます。太い四角に入る形を考えてかきます。



※1. このプリントは、しながわ・目黒こどもスクールのウェブサイトでダウンロードができます。無断複写・引用はご遠慮ください。
 ※2. このプリントを活用したオンライン授業のスケジュールは、しながわ・目黒こどもスクールのウェブサイトでご確認ください。




おうちで、やろう。 年中児版

Study at home. 小学校受験の家庭学習教材

数量：置き換え 12

太い四角の中はお約束です。イチゴ1つでジュースを2つ作ることができます。
このお約束のとき下の四角の中のイチゴでいくつジュースを作れるか考えて、その数だけコップの絵に○をつけます。



※1. このプリントは、しながわ・目黒こどもスクールのウェブサイトからダウンロードができます。無断複写・引用はご遠慮ください。

※2. このプリントを活用したオンライン授業のスケジュールは、しながわ・目黒こどもスクールのウェブサイトでご確認ください。









おうちで、やろう。 年中児版

Study at home. 小学校受験の家庭学習教材

数量：置き換え 13

太い四角の中はお約束です。イチゴ1つでジュースを2つ作ることができます。
このお約束のとき下の四角の中のイチゴでいくつジュースを作れるか考えて、その数だけコップの絵に○をつけます。



※1. このプリントは、しながわ・目黒こどもスクールのウェブサイトからダウンロードができます。無断複写・引用はご遠慮ください。

※2. このプリントを活用したオンライン授業のスケジュールは、しながわ・目黒こどもスクールのウェブサイトでご確認ください。

