




# おうちで、やろう。

Study at home. 小学校受験の家庭学習教材

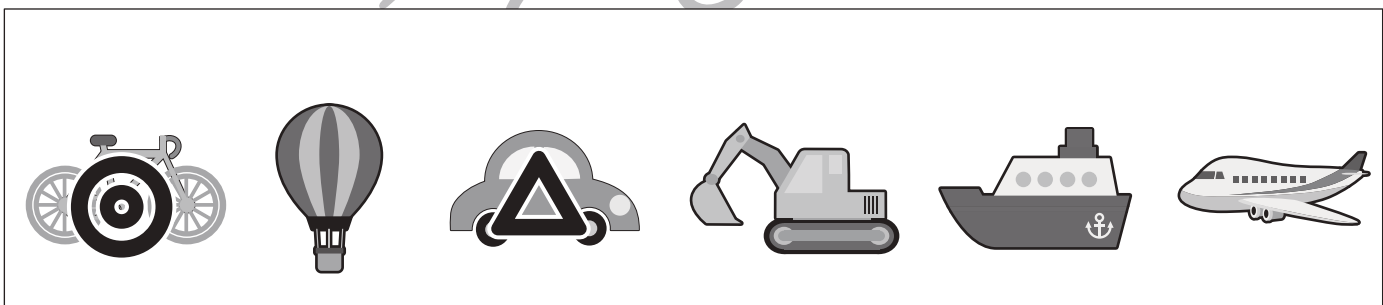
それぞれのお話を聞いて答えます。お話は一回しか読みませんのでよく聞きましょう。

- ①色々な動物が並んでいます。この中でウサギに○、ネコに×をつけます。
- ②色々な乗り物が並んでいます。車に△、自転車に◎をつけます。
- ③☆がいくつか並んでいます。左から2番目と4番目の☆を緑色のクーピーで色を塗ります。
- ④□がいくつか並んでいます。右から3番目と5番目の□を赤色のクーピーで色を塗ります。
- ⑤△がいくつか並んでいます。真ん中の△に青色のクーピーで色を塗ります。

①



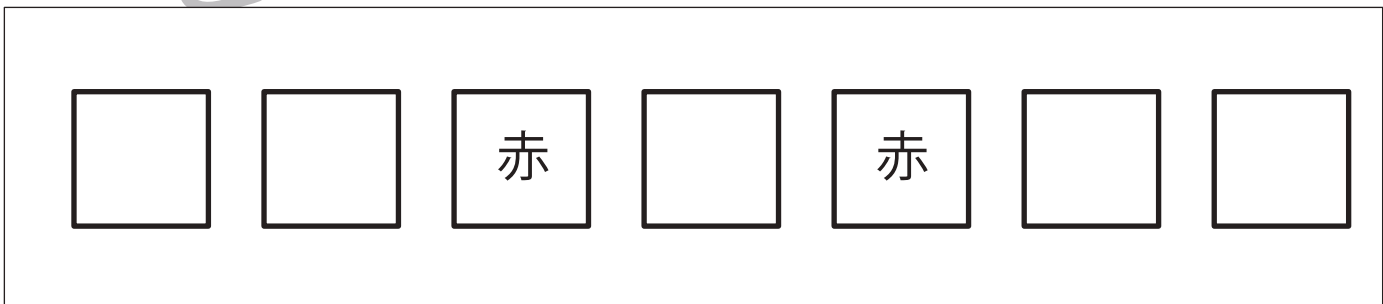
②



③



④



⑤



※1. このプリントは、しながわ・目黒こどもスクールのウェブサイトでダウンロードができます。無断複写・引用はご遠慮ください。  
 ※2. このプリントを活用したオンライン授業のスケジュールは、しながわ・目黒こどもスクールのウェブサイトでご確認ください。





# おうちで、やろう。

Study at home. 小学校受験の家庭学習教材

言語：言葉2

同じ言葉だけど違う動きをしているもの同士を見つけて、点と点を線で結びます。



※1. このプリントは、しながわ・目黒子どもスクールのウェブサイトでダウンロードができます。無断複写・引用はご遠慮ください。  
※2. このプリントを活用したオンライン授業のスケジュールは、しながわ・目黒子どもスクールのウェブサイトでご確認ください。



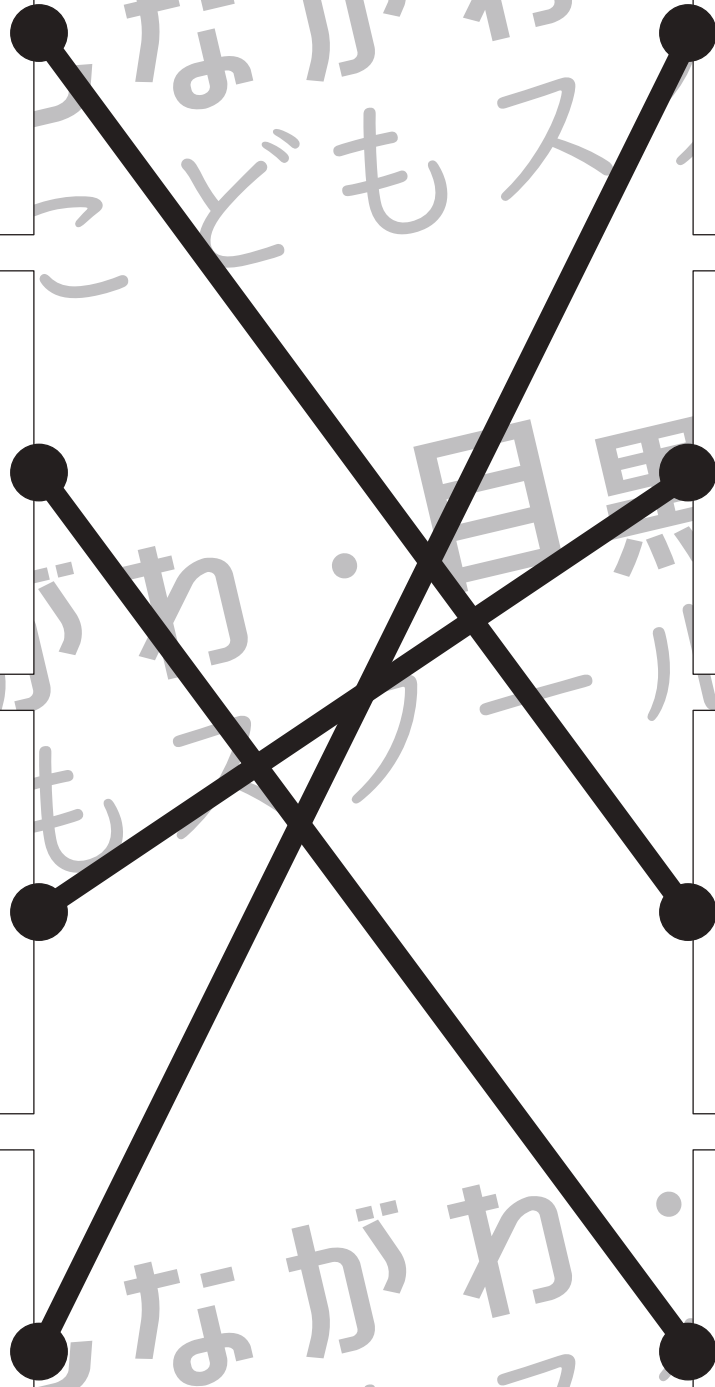






# おうちで、やろう。

Study at home. 小学校受験の家庭学習教材

言語：言葉3

同じ言葉だけど違う動きをしているもの同士を見つけて、点と点を線で結びます。



※1. このプリントは、しながわ・目黒こどもスクールのウェブサイトでダウンロードができます。無断複写・引用はご遠慮ください。  
※2. このプリントを活用したオンライン授業のスケジュールは、しながわ・目黒こどもスクールのウェブサイトでご確認ください。



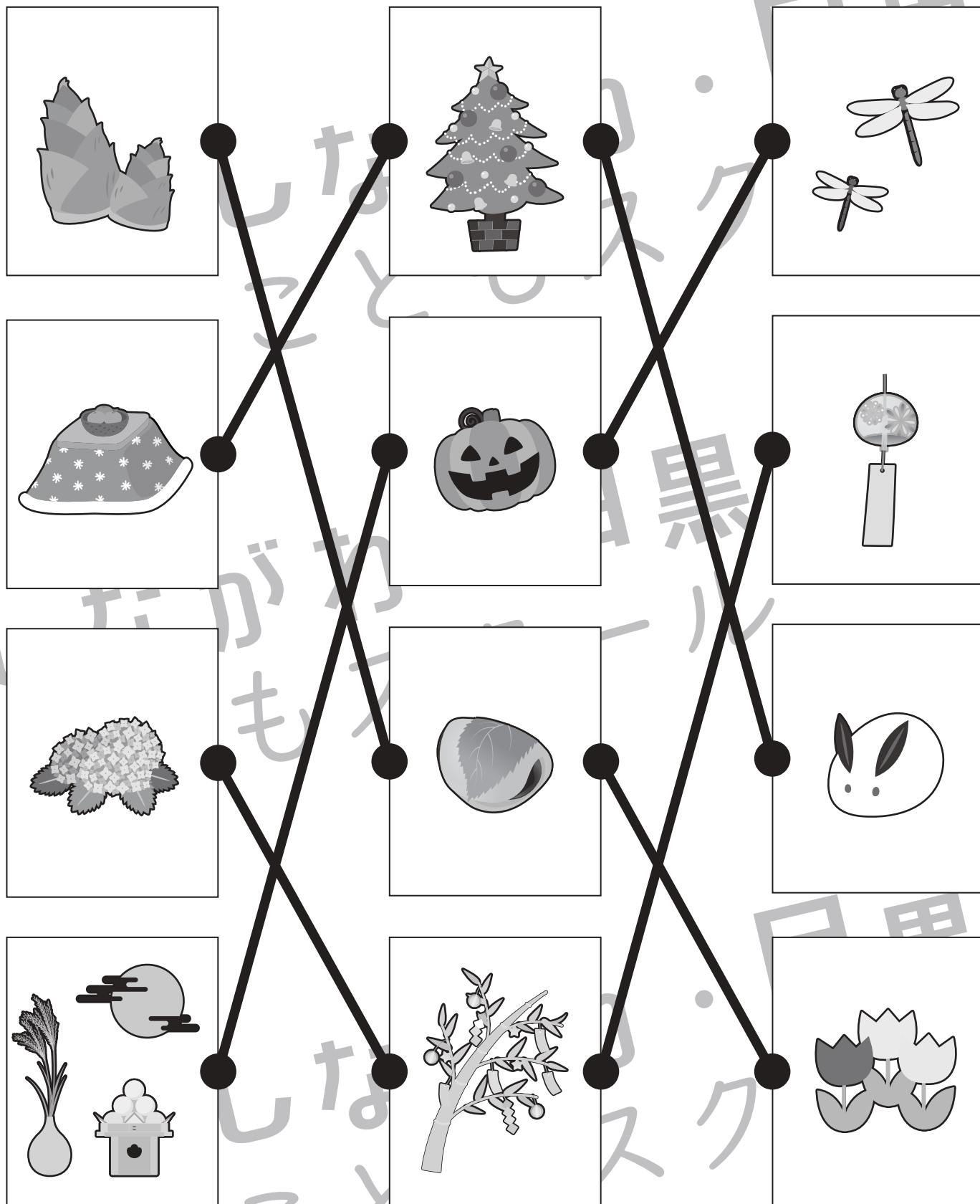


# おうちで、やろう。

Study at home. 小学校受験の家庭学習教材

常識：季節 10

左の四角の中の絵と同じ季節の絵を真ん中、右の四角の中から選んで点と点を線で結びましょう。



※1. このプリントは、しながわ・目黒こどもスクールのウェブサイトでダウンロードができます。無断複写・引用はご遠慮ください。  
 ※2. このプリントを活用したオンライン授業のスケジュールは、しながわ・目黒こどもスクールのウェブサイトでご確認ください。











# おうちで、やろう。

Study at home. 小学校受験の家庭学習教材

## 常識：昔話 1

左の四角の中のお話に出てくる絵を右の四角の中から見つけて点と点を線で結びます。



※1. このプリントは、しながわ・目黒こどもスクールのウェブサイトでダウンロードができます。無断複写・引用はご遠慮ください。  
※2. このプリントを活用したオンライン授業のスケジュールは、しながわ・目黒こどもスクールのウェブサイトでご確認ください。





# おうちで、やろう。

Study at home. 小学校受験の家庭学習教材

推理：じゃんけん7

ウサギが矢印からスタートしてじゃんけんをした時、マスの手で勝つ手を考えて進みます。

太い線より右側のたどり着いた手に○をつけます。この時、縦と横には進めませんがななめに進んではいけません。

①




②




※1. このプリントは、しながわ・目黒こどもスクールのウェブサイトからダウンロードできます。無断複写・引用はご遠慮ください。

※2. このプリントを活用したオンライン授業のスケジュールは、しながわ・目黒こどもスクールのウェブサイトでご確認ください。



# おうちで、やろう。

Study at home. 小学校受験の家庭学習教材

推理：じゃんけん8

ウサギが矢印からスタートしてじゃんけんをした時、マスの手で勝つ手を考えて進みます。

太い線より右側のたどり着いた手に○をつけます。この時、縦と横には進めませんがななめに進んではいけません。

①


A rabbit icon with an arrow points to the Rock hand in the 5th row, 1st column. A thick black line traces a path: Rock (5,1) → Paper (5,2) → Rock (3,2) → Paper (3,3) → Scissors (2,3) → Rock (2,4) → Paper (2,5). The final cell contains a circled Paper hand.

②


A rabbit icon with an arrow points to the Paper hand in the 2nd row, 1st column. A thick black line traces a path: Paper (2,1) → Scissors (2,2) → Rock (2,3) → Paper (2,4) → Scissors (2,5). The final cell contains a circled Paper hand.

※1. このプリントは、しながわ・目黒こどもスクールのウェブサイトからダウンロードできます。無断複写・引用はご遠慮ください。

※2. このプリントを活用したオンライン授業のスケジュールは、しながわ・目黒こどもスクールのウェブサイトでご確認ください。









# おうちで、やろう。


Study at home. 小学校受験の家庭学習教材

数量：置き換え1

上の四角が約束です。太い四角の中の果物を買うために必要な葉っぱの数だけ右の四角に○をかきます。

	$\bigcirc \times 3$
--	---------------------

	$\bigcirc \times 4$
---	---------------------

	$\bigcirc \times 6$
---	---------------------

	$\bigcirc \times 4$
---	---------------------

※1. このプリントは、しながわ・目黒こどもスクールのウェブサイトでダウンロードができます。無断複写・引用はご遠慮ください。  
 ※2. このプリントを活用したオンライン授業のスケジュールは、しながわ・目黒こどもスクールのウェブサイトでご確認ください。











# おうちで、やろう。


Study at home. 小学校受験の家庭学習教材

数量：置き換え2

上の四角が約束です。太い四角の中の果物を買うために必要な葉っぱの数だけ右の四角に○をかきます。

	$\bigcirc \times 5$
--	---------------------

	$\bigcirc \times 8$
---	---------------------

	$\bigcirc \times 7$
---	---------------------

	$\bigcirc \times 7$
---	---------------------

※1. このプリントは、しながわ・目黒こどもスクールのウェブサイトでダウンロードができます。無断複写・引用はご遠慮ください。

※2. このプリントを活用したオンライン授業のスケジュールは、しながわ・目黒こどもスクールのウェブサイトでご確認ください。