



おうちで、やろう。

Study at home. 小学校受験の家庭学習教材

それぞれのお話を聞いて答えます。お話は一回しか読みませんのでよく聞きましょう。

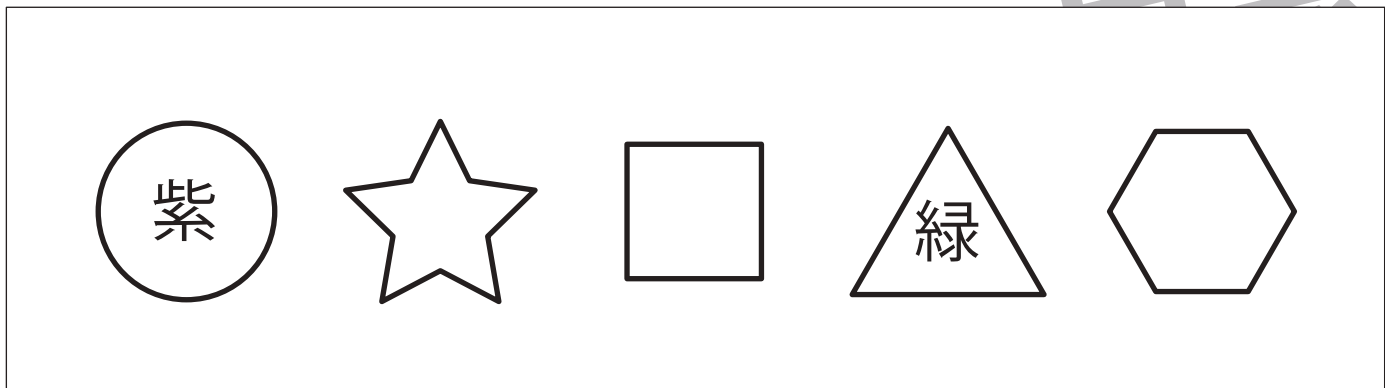
①形がいくつかあります。この中で△は緑色、○は紫色のクーピーで塗ります。

②真ん中の○の左隣りに□、右隣りに△を青色のクーピーでかきます。

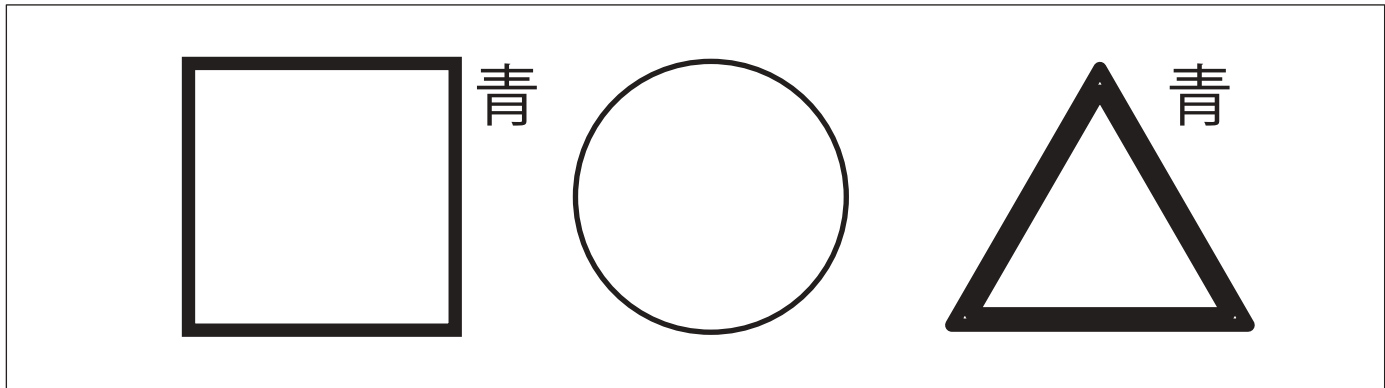
③黄色のクーピーで○を3つ横並びにかき、真ん中の○を塗ります。

④○、△、◎を左から順番に鉛筆で2回かきます。

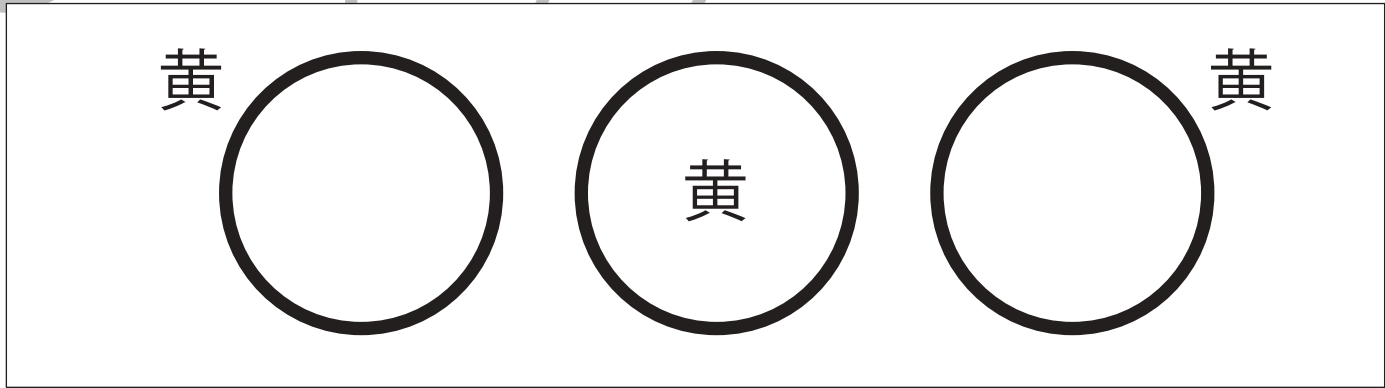
①




②



③



④



※1. このプリントは、しながわ・目黒こどもスクールのウェブサイトでダウンロードができます。無断複写・引用はご遠慮ください。

※2. このプリントを活用したオンライン授業のスケジュールは、しながわ・目黒こどもスクールのウェブサイトでご確認ください。



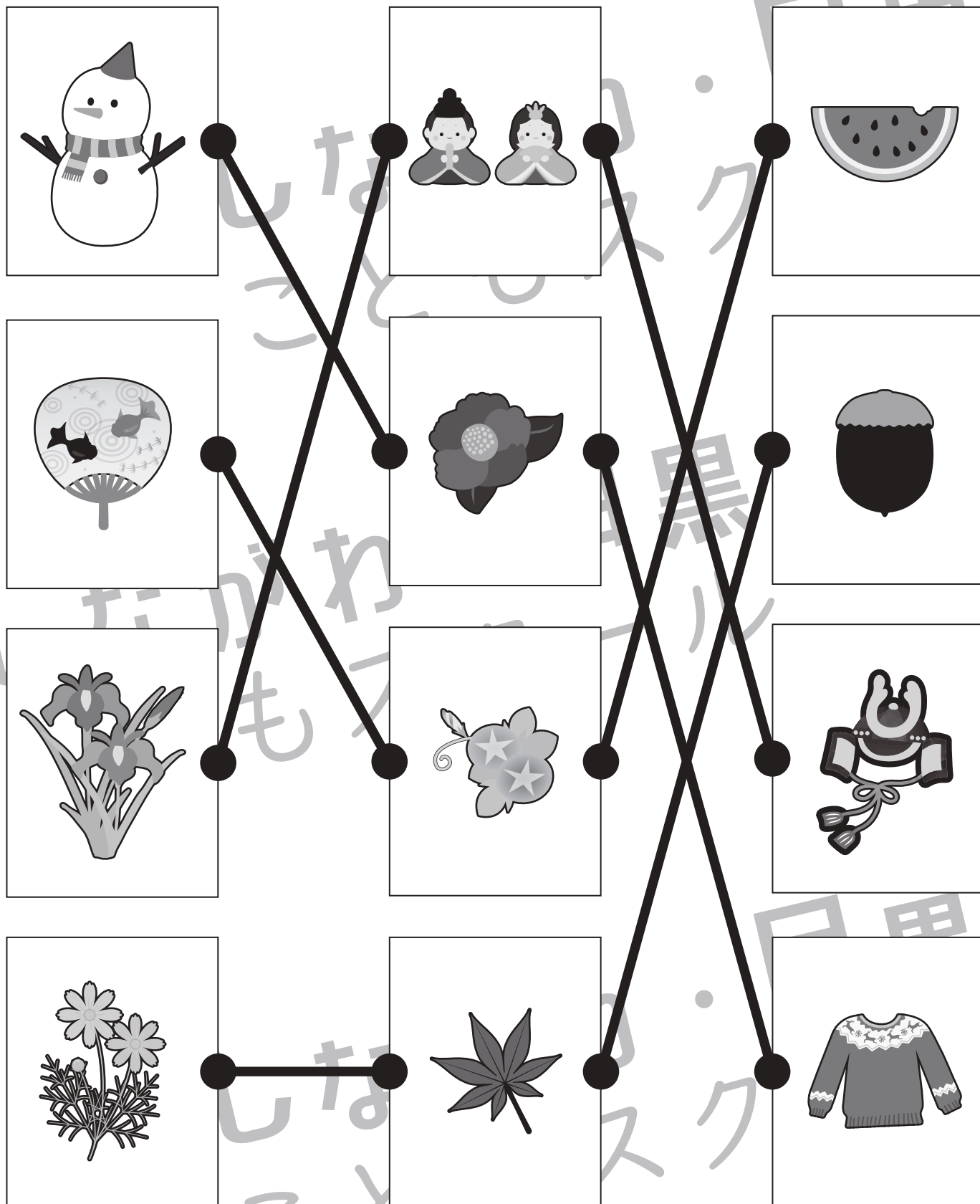


おうちで、やろう。

Study at home. 小学校受験の家庭学習教材

常識：季節 11

左の四角の中の絵と同じ季節の絵を真ん中、右の四角の中から選んで点と点を線で結びましょう。



※1. このプリントは、しながわ・目黒こどもスクールのウェブサイトからダウンロードできます。無断複写・引用はご遠慮ください。

※2. このプリントを活用したオンライン授業のスケジュールは、しながわ・目黒こどもスクールのウェブサイトでご確認ください。



おうちで、やろう。

Study at home. 小学校受験の家庭学習教材

図形：移動 17

★を左の矢印の上から順番に移動させます。進んだ道をなぞり、着いた○を塗ります。

→	○ ○ ○ ○
→	○ - + - ○
↑	● ———— ○
←	○ —★— ○
←	○ ———— ○
←	○ ○ ○ ○

↓	○ ○ ○ ○
←	○ - + - ○
←	○ ———— ○
↓	○ ———— ○
→	○ ———— ○
→	○ ———— ○
↓	○ ○ ○ ○

←	○ ○ ○ ○
↓	○ - + - ○
→	○ ———— ○
→	○ ———— ○
↓	○ ———— ○
↓	○ ○ ○ ○

→	○ ○ ○ ○
↓	○ —★— ○
→	○ ———— ○
↓	○ ———— ○
←	○ ———— ○
←	○ ———— ○
←	○ ○ ○ ○

←	○ ○ ○ ○
←	○ ———— ○
↑	○ ———— ○
→	○ ———— ○
→	○ ———— ○
↑	○ ○ ○ ○

↑	○ ○ ○ ○
↑	○ ———— ○
→	○ ———— ○
↓	○ ———— ○
↓	○ ———— ○
→	○ ———— ○
→	○ ○ ○ ○

※1. このプリントは、しながわ・目黒こどもスクールのウェブサイトでダウンロードができます。無断複写・引用はご遠慮ください。
 ※2. このプリントを活用したオンライン授業のスケジュールは、しながわ・目黒こどもスクールのウェブサイトでご確認ください。



おうちで、やろう。

Study at home. 小学校受験の家庭学習教材

図形：移動 18

★を左の矢印の上から順番に移動させます。進んだ道をなぞり、着いた○を塗ります。

←	○ ○ ○ ○ ○
↑	○ - - - ○
→	○ - - - ○
→	○ - - - ○
↑	○ - - - ○
→	○ - - - ○

→	○ ○ ○ ○ ○
↑	○ - - - ○
↑	○ - - - ○
→	○ - - - ○
↓	○ - - - ○
→	○ - - - ○
→	○ - - - ○

→	○ ○ ○ ○ ○
↑	○ - - - ○
←	○ - - - ○
←	○ - - - ○
↓	○ - - - ○
←	○ - - - ○

↑	○ ○ ○ ○ ○
←	○ - - - ○
↑	○ - - - ○
←	○ - - - ○
↓	○ - - - ○
↓	○ - - - ○
←	○ - - - ○

→	○ ○ ○ ○ ○
↓	○ - - - ○
←	○ - - - ○
↑	○ - - - ○
←	○ - - - ○
↑	○ - - - ○

↓	○ ○ ○ ○ ○
→	○ - - - ○
↓	○ - - - ○
↓	○ - - - ○
←	○ - - - ○
←	○ - - - ○
↓	○ - - - ○

※1. このプリントは、しながわ・目黒こどもスクールのウェブサイトでダウンロードができます。無断複写・引用はご遠慮ください。
 ※2. このプリントを活用したオンライン授業のスケジュールは、しながわ・目黒こどもスクールのウェブサイトでご確認ください。

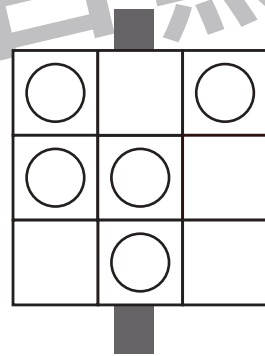
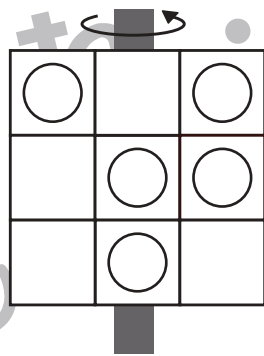
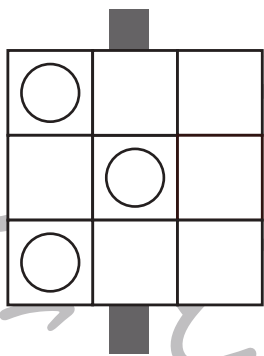
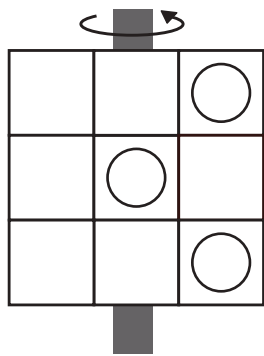
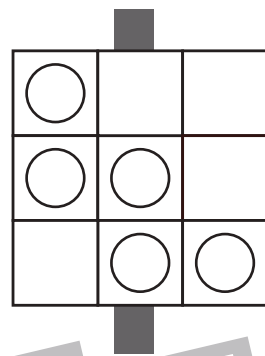
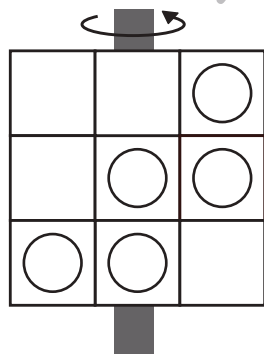
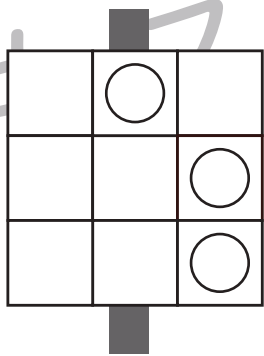
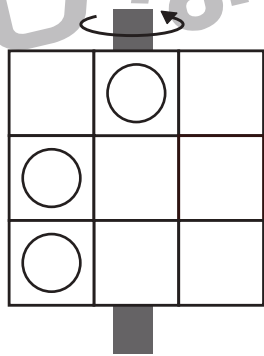
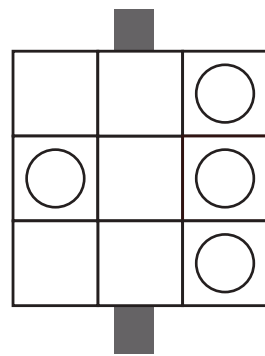
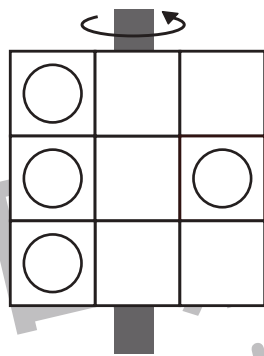
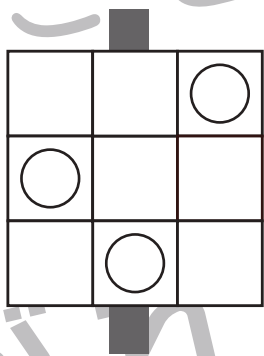
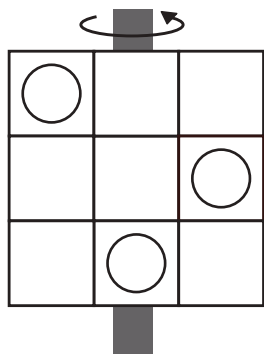
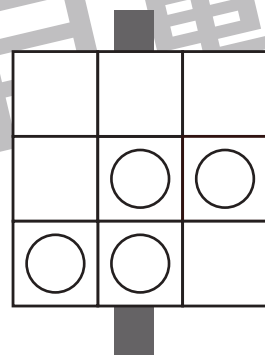
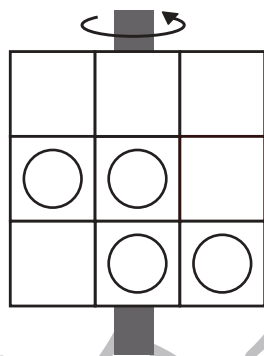
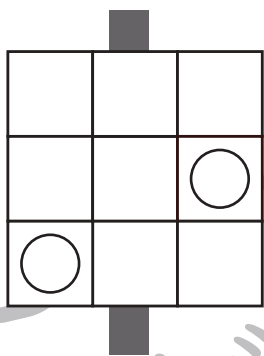
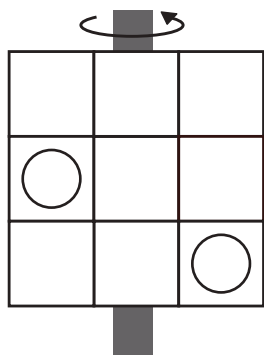


おうちで、やろう。

Study at home. 小学校受験の家庭学習教材

図形：反転5

左の四角は透明な板です。この板を矢印の方向へくると裏返しにした時の見え方を考えて右にかきます。



※1. このプリントは、しながわ・目黒こどもスクールのウェブサイトでダウンロードができます。無断複写・引用はご遠慮ください。
※2. このプリントを活用したオンライン授業のスケジュールは、しながわ・目黒こどもスクールのウェブサイトでご確認ください。



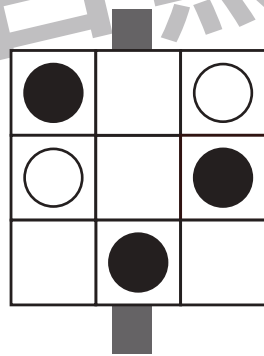

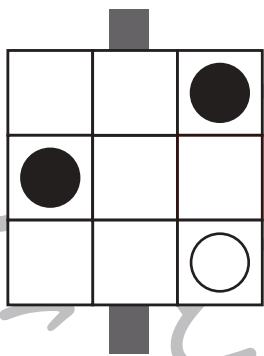
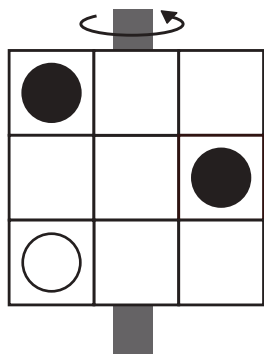
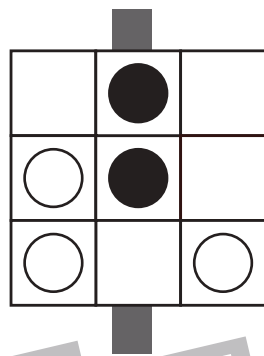
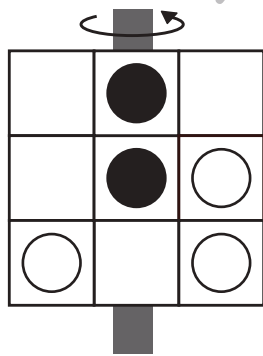
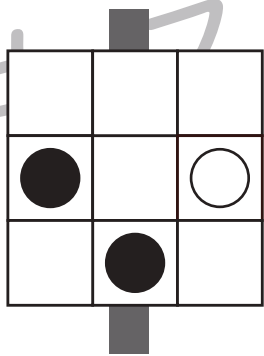

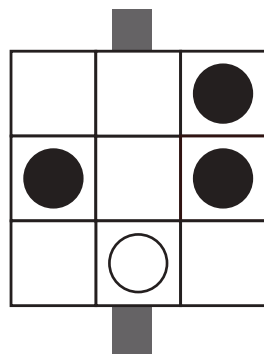
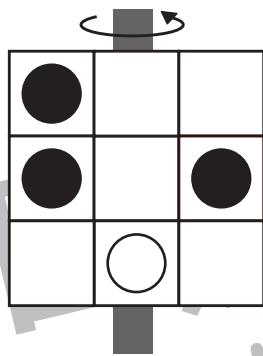
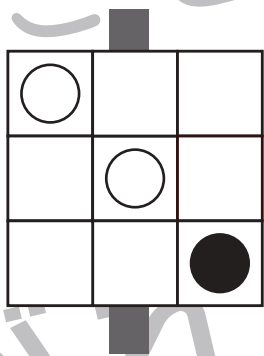
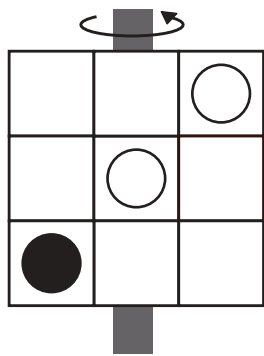
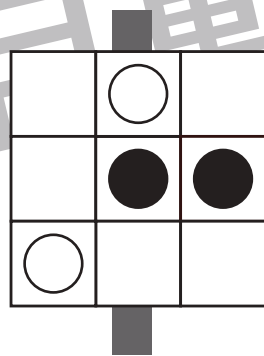
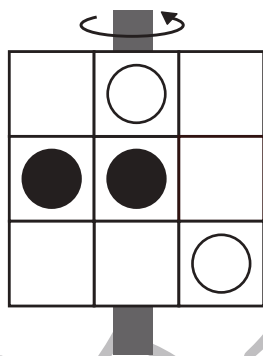
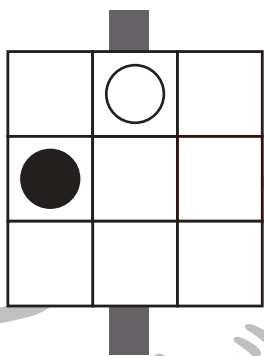
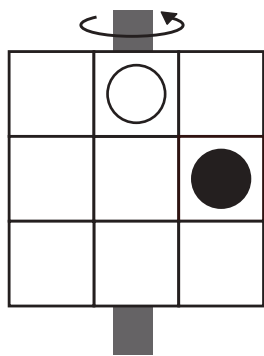


おうちで、やろう。

Study at home. 小学校受験の家庭学習教材

図形：反転 6

左の四角は透明な板です。この板を矢印の方向へくると裏返しにした時の見え方を考えて右にかきます。



※1. このプリントは、しながわ・目黒こどもスクールのウェブサイトでダウンロードができます。無断複写・引用はご遠慮ください。
※2. このプリントを活用したオンライン授業のスケジュールは、しながわ・目黒こどもスクールのウェブサイトでご確認ください。



おうちで、やろう。

Study at home. 小学校受験の家庭学習教材

数量：置き換え3

上の四角が約束です。左の太い四角の中の数だけ飴を持っているとき、右の四角の中の洋服は何着買うことができますか。その数だけ○をかきます。

		<input type="radio"/> × 2
--	--	---------------------------

		<input type="radio"/> × 2
--	--	---------------------------

		<input type="radio"/> × 4
--	--	---------------------------

		<input type="radio"/> × 2
--	--	---------------------------

※1. このプリントは、しながわ・目黒こどもスクールのウェブサイトでダウンロードができます。無断複写・引用はご遠慮ください。
 ※2. このプリントを活用したオンライン授業のスケジュールは、しながわ・目黒こどもスクールのウェブサイトでご確認ください。



おうちで、やろう。

Study at home. 小学校受験の家庭学習教材

数量：置き換え4

上の四角が約束です。左の太い四角の中だけ飴を持っているとき、右の四角の中の洋服を買うことができる数だけ〇をかきます。

		<input type="radio"/> × 5
--	--	---------------------------

		<input type="radio"/> × 3
--	--	---------------------------

		<input type="radio"/> × 4
--	--	---------------------------

		<input type="radio"/> × 5
--	--	---------------------------

※1. このプリントは、しながわ・目黒こどもスクールのウェブサイトでダウンロードができます。無断複写・引用はご遠慮ください。

※2. このプリントを活用したオンライン授業のスケジュールは、しながわ・目黒こどもスクールのウェブサイトでご確認ください。