



おうちで、やろう。

Study at home. 小学校受験の家庭学習教材

図形：移動 19

丸で囲んである点から上の四角の中の矢印の方向へ進み点と点を線で結びます。そして最後についた点を○で囲みます。
上の四角の矢印は左から順番に見ていきます。

→ ↓ ↓ → → ↓ ← ↓

↑ ← ↓ ↓ → → ↓ ←

↑ ↑ ← ← ↑ → → →

↓ ↓ ↓ ← ↑ → → ↓

※1. このプリントは、しながわ・目黒こどもスクールのウェブサイトでダウンロードができます。無断複写・引用はご遠慮ください。
※2. このプリントを活用したオンライン授業のスケジュールは、しながわ・目黒こどもスクールのウェブサイトでご確認ください。



おうちで、やろう。

Study at home. 小学校受験の家庭学習教材

図形：移動 20

丸で囲んである点から上の四角の中の矢印の方向へ進み点と点を線で結びます。そして最後についた点を○で囲みます。
上の四角の矢印は左から順番に見ていきます。

→ ↓ ↓ ↓ → ↑ ↑

↑ ← ↓ ↓ → → ↓ ←

↑ → → ↓ → ↓ →

→ → ↓ ← ↑ ↑ →

※1. このプリントは、しながわ・目黒こどもスクールのウェブサイトでダウンロードができます。無断複写・引用はご遠慮ください。
 ※2. このプリントを活用したオンライン授業のスケジュールは、しながわ・目黒こどもスクールのウェブサイトでご確認ください。

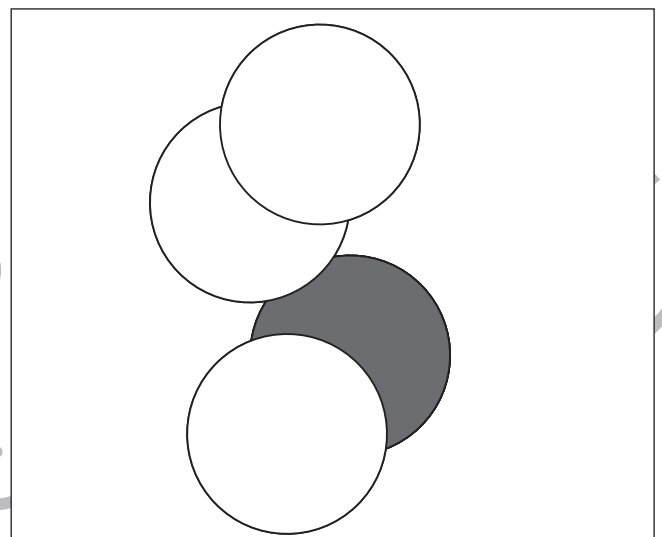
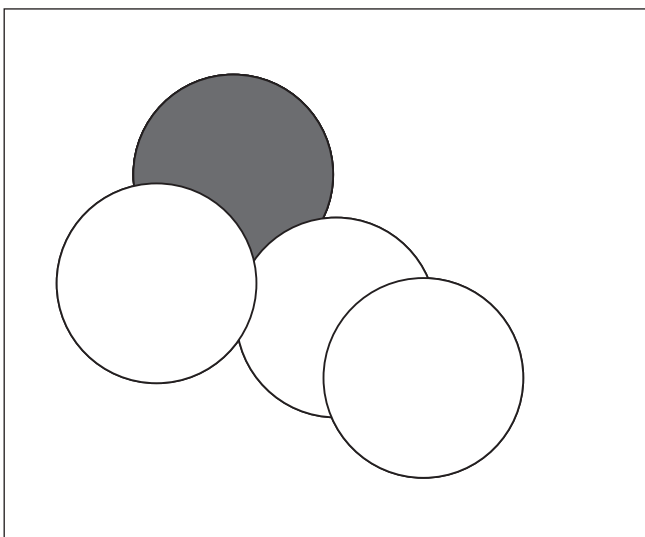
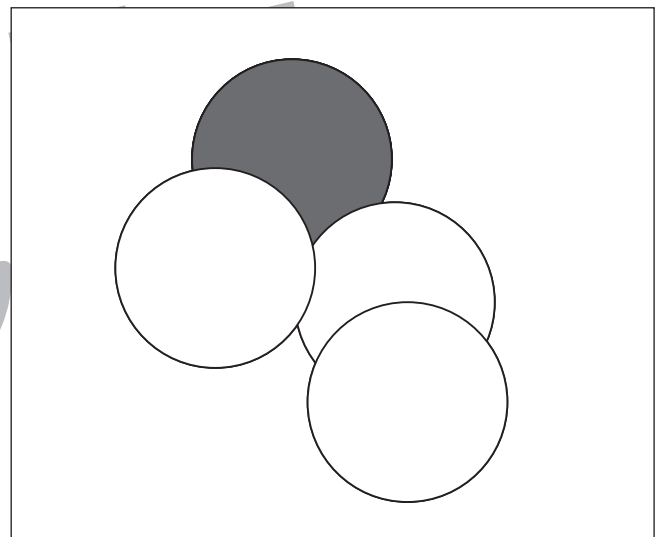
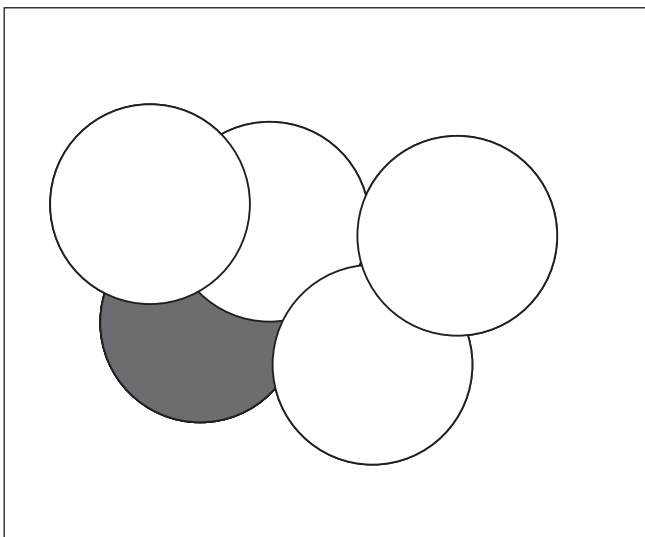
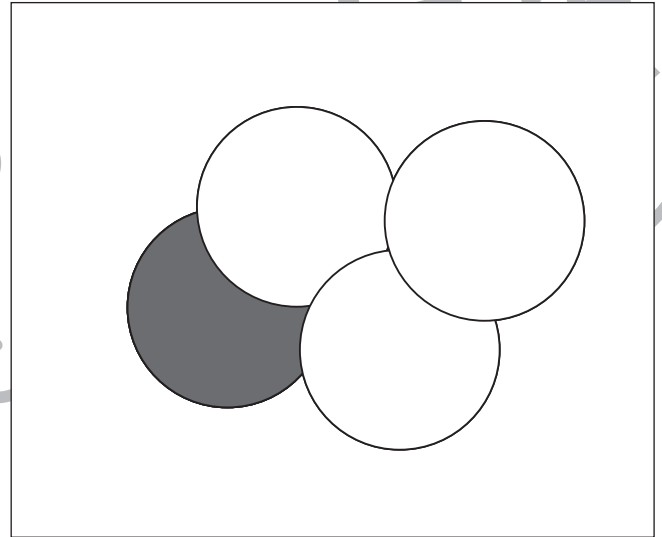
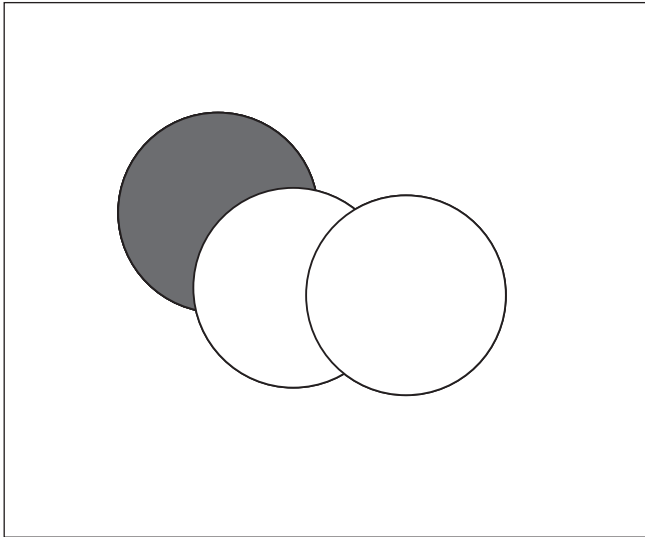


おうちで、やろう。

Study at home. 小学校受験の家庭学習教材

図形：重なり 12

四角の中には丸い紙が重なってあります一番下に重なっている紙を塗ります。



※1. このプリントは、しながわ・目黒こどもスクールのウェブサイトからダウンロードできます。無断複写・引用はご遠慮ください。
※2. このプリントを活用したオンライン授業のスケジュールは、しながわ・目黒こどもスクールのウェブサイトでご確認ください。

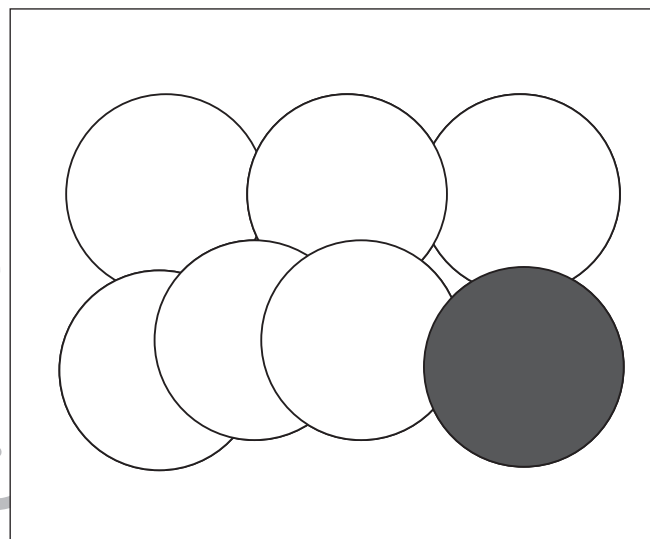
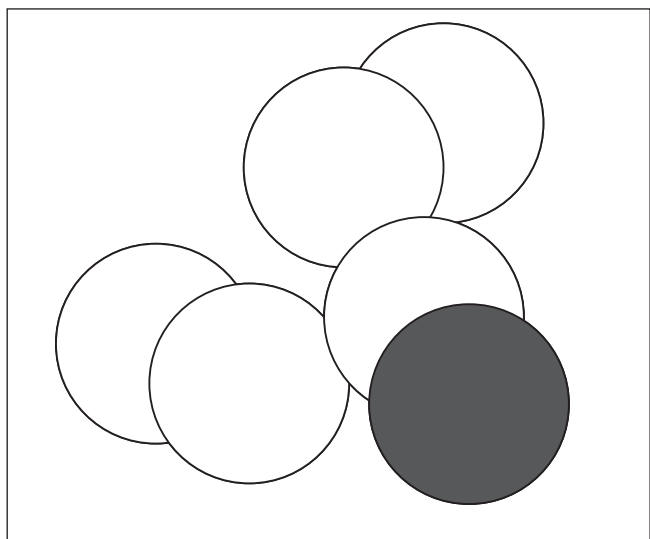
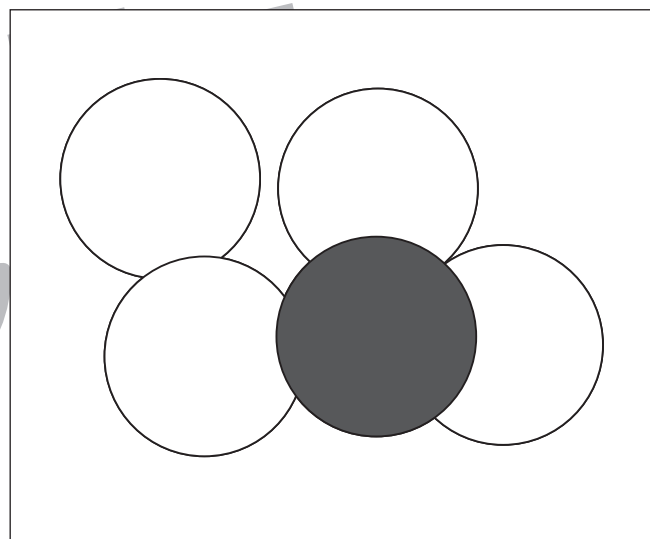
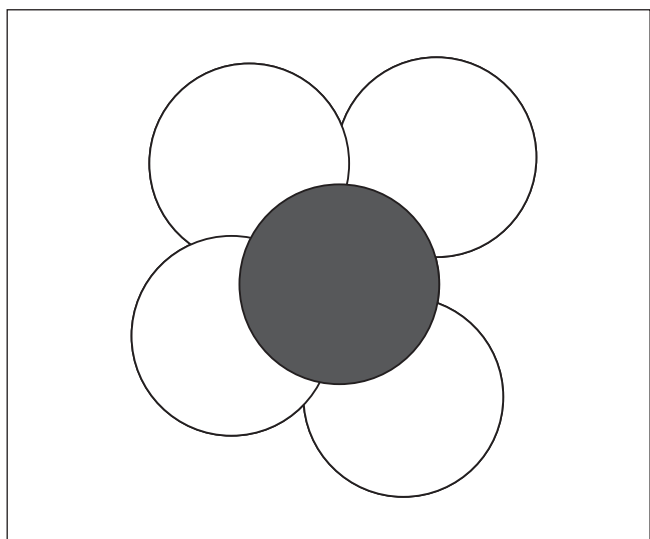

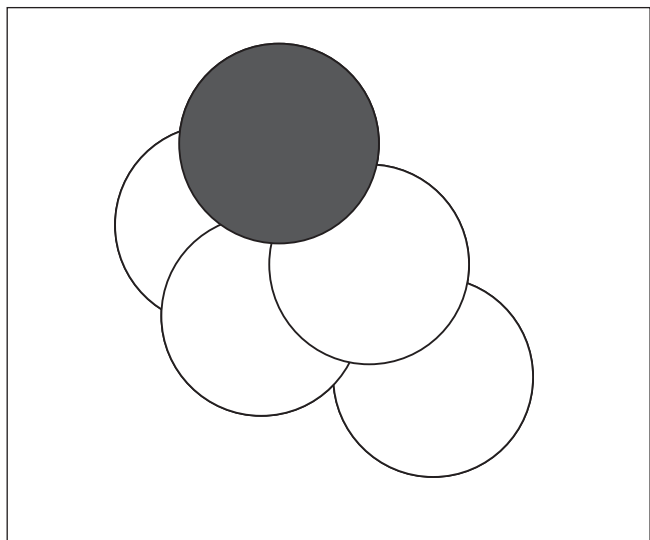


おうちで、やろう。

Study at home. 小学校受験の家庭学習教材

図形：重なり 13

四角の中には丸い紙が重なってあります。一番上に重なっている紙を塗ります。



※1. このプリントは、しながわ・目黒こどもスクールのウェブサイトからダウンロードできます。無断複写・引用はご遠慮ください。
※2. このプリントを活用したオンライン授業のスケジュールは、しながわ・目黒こどもスクールのウェブサイトでご確認ください。




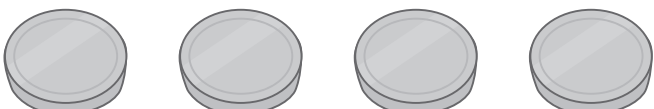

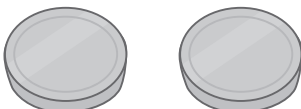


おうちで、やろう。


Study at home. 小学校受験の家庭学習教材

数量：数の置き換え3

ミカン、バナナ、メロンはそれぞれの絵の右の四角の中にあるコインの枚数で買うことができます。
下の太い四角の中の果物を買うのに必要なコインの枚数だけ右の四角に○をかきます。

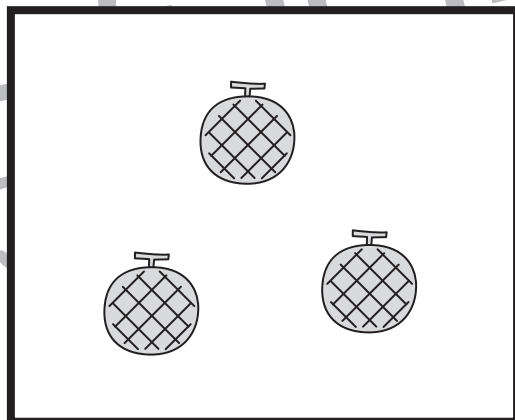
	
	
	

①



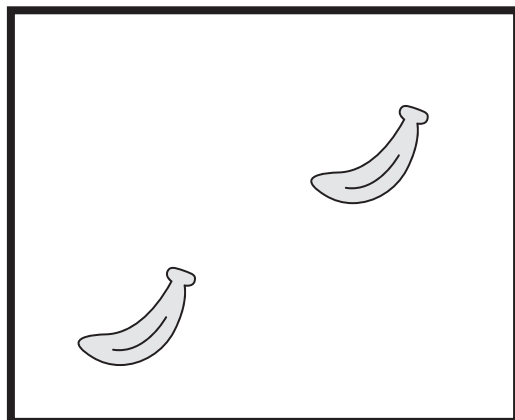
$$\bigcirc \times 6$$

②



$$\bigcirc \times 6$$

③



$$\bigcirc \times 8$$

※1. このプリントは、しながわ・目黒こどもスクールのウェブサイトでダウンロードができます。無断複写・引用はご遠慮ください。

※2. このプリントを活用したオンライン授業のスケジュールは、しながわ・目黒こどもスクールのウェブサイトでご確認ください。




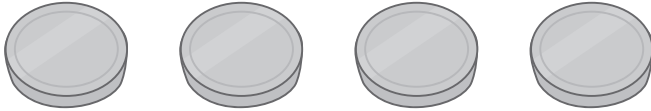




おうちで、やろう。

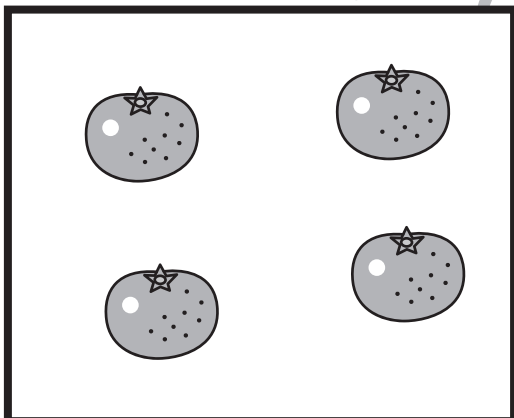
Study at home. 小学校受験の家庭学習教材

数量：数の置き換え4

ミカン、バナナ、メロンはそれぞれの絵の右の四角の中にあるコインの枚数で買うことができます。
下の太い四角の中の果物を買うのに必要なコインの枚数だけ右の四角に○をかきます。

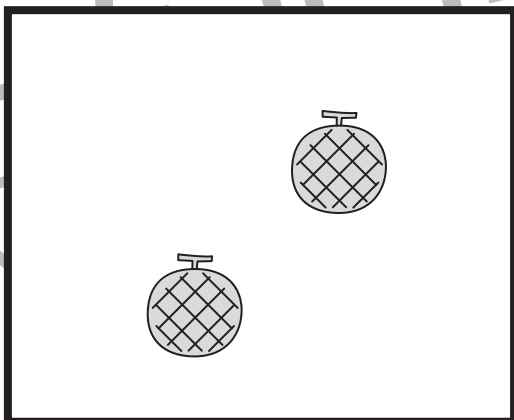
	
	
	

①



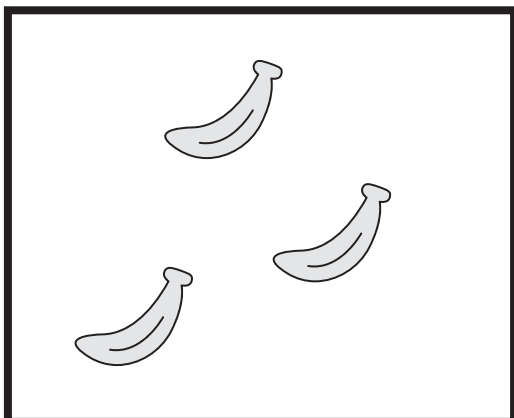
$$\bigcirc \times 4$$

②



$$\bigcirc \times 10$$

③



$$\bigcirc \times 12$$

※1. このプリントは、しながわ・目黒こどもスクールのウェブサイトからダウンロードできます。無断複写・引用はご遠慮ください。

※2. このプリントを活用したオンライン授業のスケジュールは、しながわ・目黒こどもスクールのウェブサイトでご確認ください。