






おうちで、やろう。

Study at home. 小学校受験の家庭学習教材

言語：数え方 4

太い四角の絵と同じ数え方をするものを、右から選んで○をつけましょう。



※1. このプリントは、しながわ・目黒こどもスクールのウェブサイトでダウンロードができます。無断複写・引用はご遠慮ください。
※2. このプリントを活用したオンライン授業のスケジュールは、しながわ・目黒こどもスクールのウェブサイトでご確認ください。



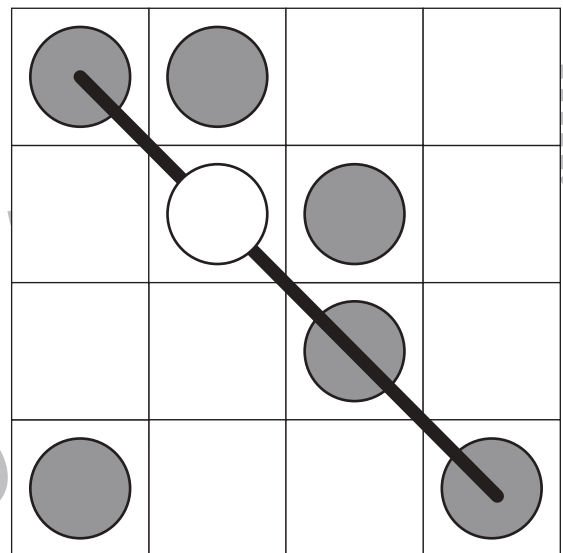
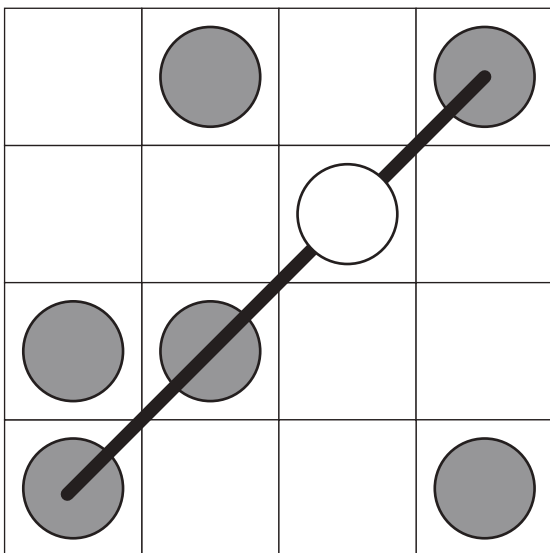
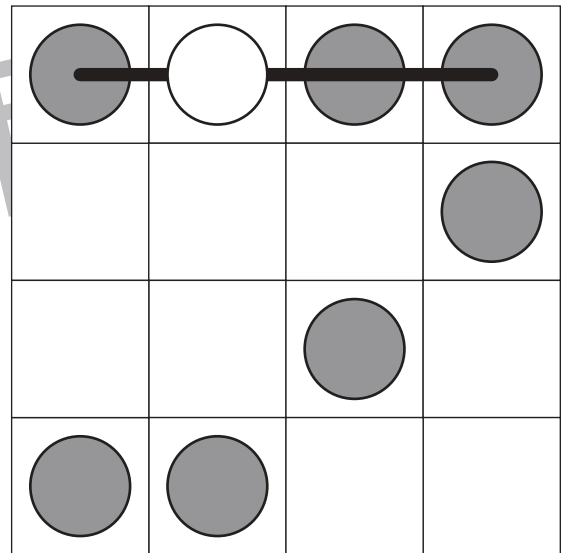
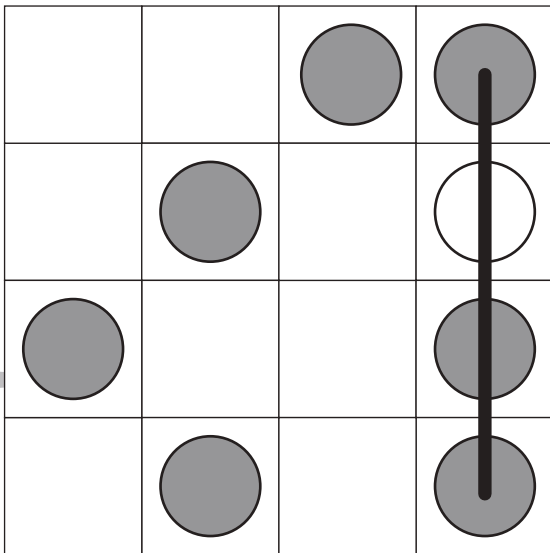
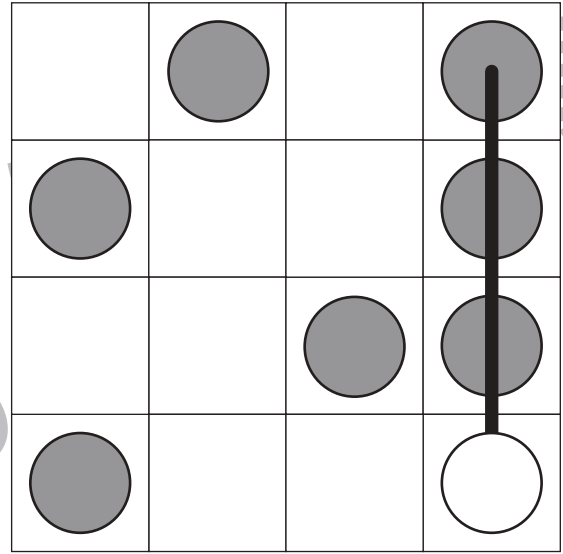
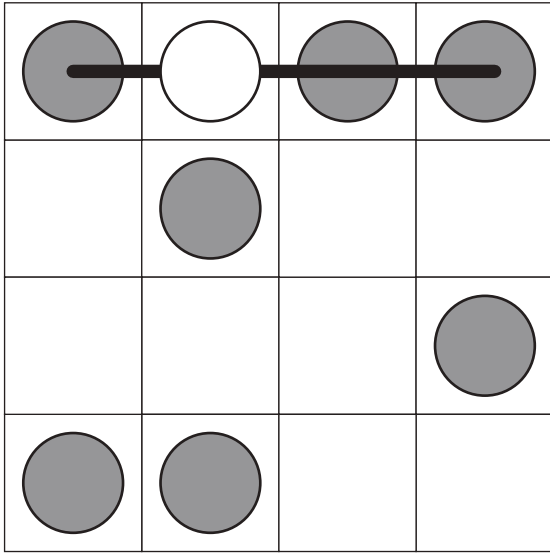


おうちで、やろう。

Study at home. 小学校受験の家庭学習教材

図形：ビンゴ1

縦、横、斜めのうちどこか1列に○が並ぶように空いているマスにひとつだけ○をかきます。



※1. このプリントは、しながわ・目黒こどもスクールのウェブサイトでダウンロードができます。無断複写・引用はご遠慮ください。
 ※2. このプリントを活用したオンライン授業のスケジュールは、しながわ・目黒こどもスクールのウェブサイトでご確認ください。



おうちで、やろう。

Study at home. 小学校受験の家庭学習教材

図形：重ね点図形 15

左の2枚の点図形を重ねた形を考えて、矢印の右の四角にかきます。

		▶	
		▶	
		▶	
		▶	

※1. このプリントは、しながわ・目黒こどもスクールのウェブサイトからダウンロードできます。無断複写・引用はご遠慮ください。

※2. このプリントを活用したオンライン授業のスケジュールは、しながわ・目黒こどもスクールのウェブサイトでご確認ください。



おうちで、よろう。

Study at home. 小学校受験の家庭学習教材

図形：重ね点図形 16

左の2枚の点図形を重ねた形を考えて、矢印の右の四角にかきます。

※1. このプリントは、しながわ・目黒こどもスクールのウェブサイトでダウンロードができます。無断複写・引用はご遠慮ください。

※2. このプリントを活用したオンライン授業のスケジュールは、しながわ・目黒こどもスクールのウェブサイトでご確認ください。



おうちで、やろう。

Study at home. 小学校受験の家庭学習教材

推理：あみだくじ 1

上のライオンがあみだくじを進んでいくと下のどの果物につきますか。ついた果物に○をつけます。

※あみだくじのルール：①上から下へ進みます。道は戻ってはいけません。②途中で曲がり角があったら必ず曲がります。

A maze puzzle with a lion at the top left. The maze consists of vertical and horizontal lines forming a path. At the bottom, there are five fruit icons: a banana, a watermelon (circled in black), an orange, an apple, and a bunch of grapes.

A second maze puzzle with a lion at the top center. The maze consists of vertical and horizontal lines forming a path. At the bottom, there are five fruit icons: a banana, a watermelon, an orange, an apple, and a bunch of grapes (circled in black).

※1. このプリントは、しながわ・目黒こどもスクールのウェブサイトでダウンロードができます。無断複写・引用はご遠慮ください。
 ※2. このプリントを活用したオンライン授業のスケジュールは、しながわ・目黒こどもスクールのウェブサイトでご確認ください。



おうちで、やろう。

Study at home. 小学校受験の家庭学習教材

推理：あみだくじ2

上のライオンとキリンがあみだくじを進んでいくと下のどの果物につきますか。

ライオンが着いた果物に△、キリンが着いた果物に×をつけます。

※あみだくじのルール：①上から下へ進みます。②途中で曲がり角があったら必ず曲がります。

このあみだくじでは、ライオンとキリンの道が途中で交差しています。ライオンは△、キリンは×を付けた果物に着きます。

このあみだくじでは、ライオンとキリンの道が途中で交差しています。ライオンは×、キリンは△を付けた果物に着きます。

※1. このプリントは、しながわ・目黒こどもスクールのウェブサイトからダウンロードできます。無断複写・引用はご遠慮ください。
 ※2. このプリントを活用したオンライン授業のスケジュールは、しながわ・目黒こどもスクールのウェブサイトでご確認ください。

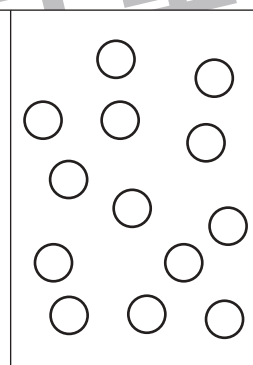

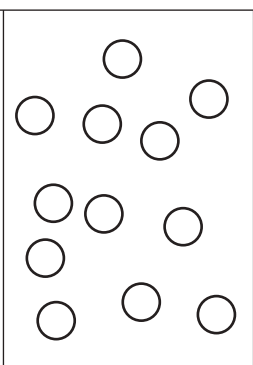
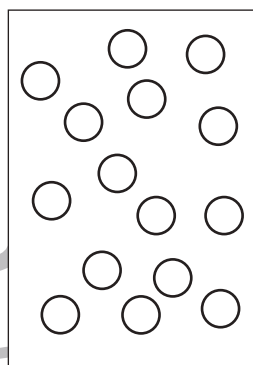

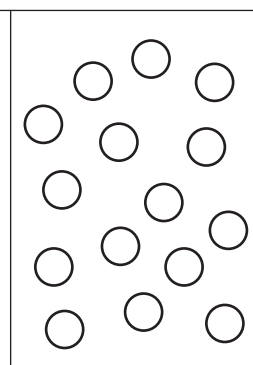
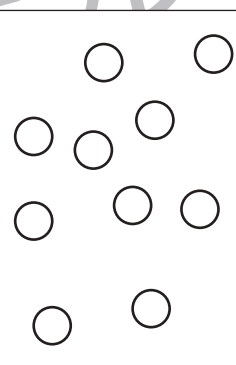
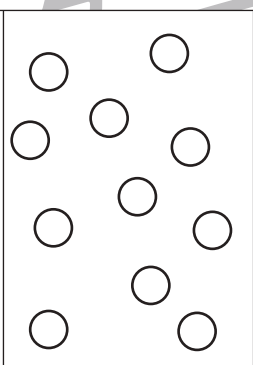
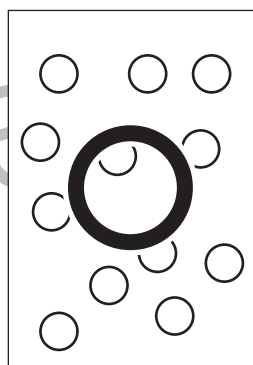

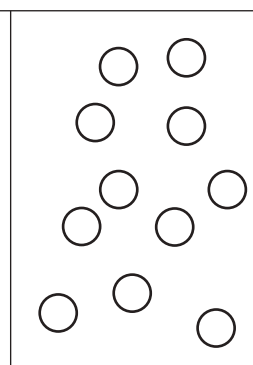

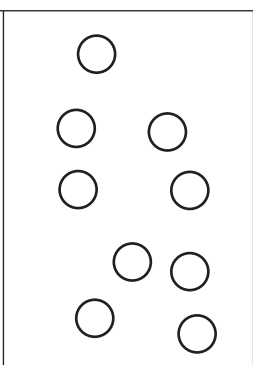
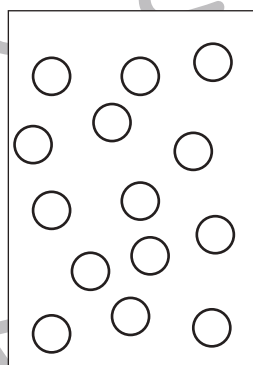

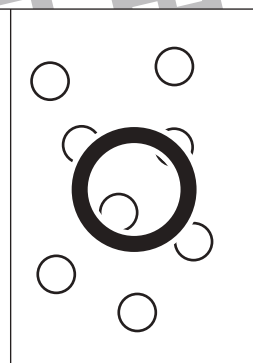
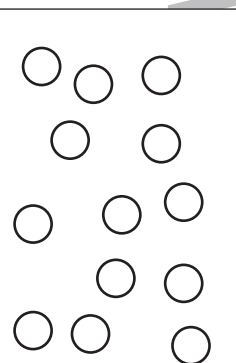
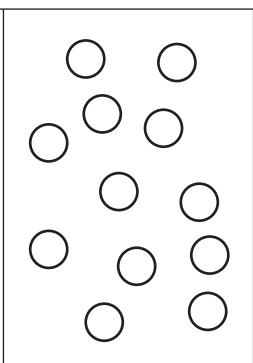
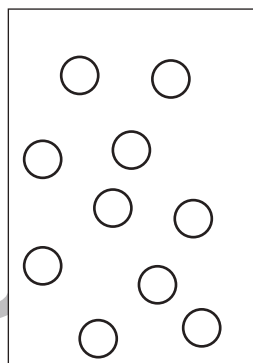



おうちで、やろう。

Study at home. 小学校受験の家庭学習教材

数量：同数 6

左の四角の中の絵と同じ数の四角を右の4つの中から見つけて○をつけます。



※1. このプリントは、しながわ・目黒こどもスクールのウェブサイトでダウンロードができます。無断複写・引用はご遠慮ください。
※2. このプリントを活用したオンライン授業のスケジュールは、しながわ・目黒こどもスクールのウェブサイトでご確認ください。