



おうちで、やろう。


Study at home. 小学校受験の家庭学習教材

記憶：絵の記憶 9 記憶用紙


別紙『記憶 - 絵の記憶 9』を行う際に使用します。記憶用紙は点線で折って(切って)、①、②、③の問題の際にそれぞれ 20 秒間ずつ記憶させてください。記憶する際は問題用紙は裏返しにします。記憶後①、②、③それぞれの問題に答えましょう。

①②それぞれの動物が持っていたもので点と点を線で結びます。

①



②



※ 1. このプリントは、しながわ・目黒こどもスクールのウェブサイトでダウンロードができます。無断複写・引用はご遠慮ください。
※ 2. このプリントを活用したオンライン授業のスケジュールは、しながわ・目黒こどもスクールのウェブサイトでご確認ください。












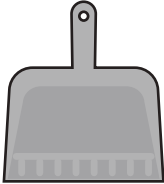
おうちで、やろう。

Study at home. 小学校受験の家庭学習教材






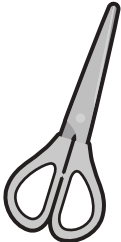


記憶：絵の記憶9

別紙『記憶 - 絵の記憶9記憶用紙』を使用します。記憶用紙の形を見た後に①、②、③の問題に取り組みましょう。
※このプリントの解答は記憶用紙で確認してください。

①

			
●	●	●	●
●	●	●	●
			

②

			
●	●	●	●
●	●	●	●
			

※1. このプリントは、しながわ・目黒こどもスクールのウェブサイトからダウンロードができます。無断複写・引用はご遠慮ください。

※2. このプリントを活用したオンライン授業のスケジュールは、しながわ・目黒こどもスクールのウェブサイトでご確認ください。

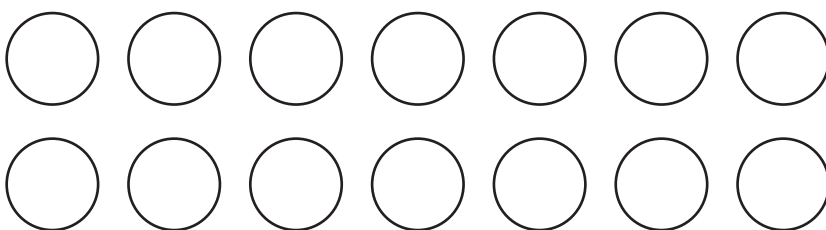

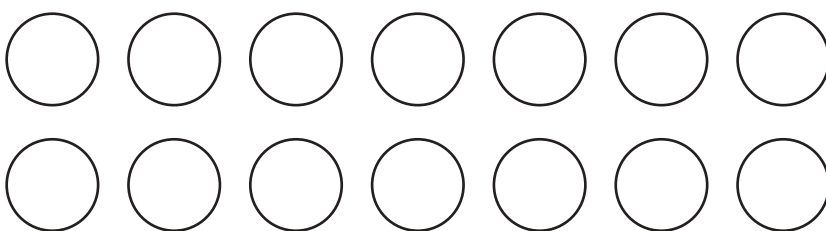

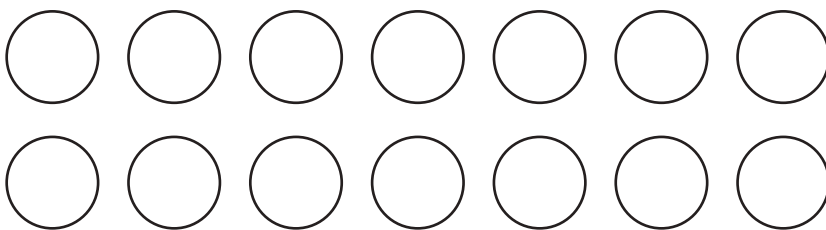

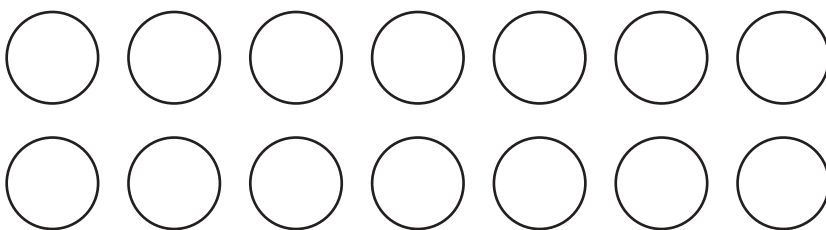

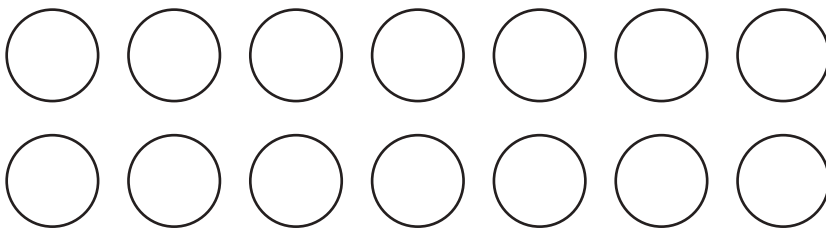



おうちで、やろう。

Study at home. 小学校受験の家庭学習教材

言語：音の数 16

太い四角の中の絵の音の数を合わせるといくつになるかを考えて、その数だけ右の四角の中の○を塗ります。



※1. このプリントは、しながわ・目黒こどもスクールのウェブサイトからダウンロードできます。無断複写・引用はご遠慮ください。
※2. このプリントを活用したオンライン授業のスケジュールは、しながわ・目黒こどもスクールのウェブサイトでご確認ください。





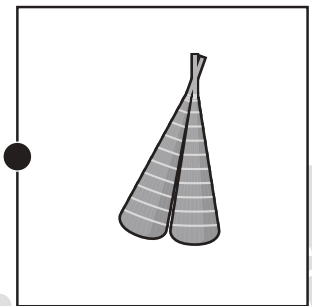
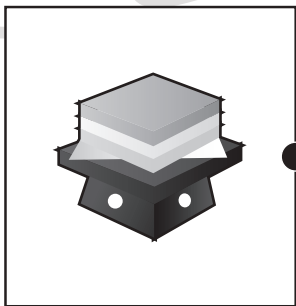
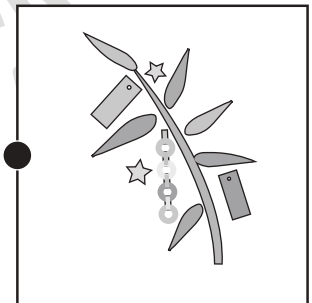





おうちで、やろう。

Study at home. 小学校受験の家庭学習教材

常識：行事1

左の四角の中の行事と関係のあるものを四角の中から選んで点と点を線で結びます。



※1. このプリントは、しながわ・目黒こどもスクールのウェブサイトでダウンロードができます。無断複写・引用はご遠慮ください。
※2. このプリントを活用したオンライン授業のスケジュールは、しながわ・目黒こどもスクールのウェブサイトでご確認ください。





おうちで、やろう。

Study at home. 小学校受験の家庭学習教材

推理：ブラックボックス4

上の太い四角の中が約束です。黒い星、白い星の箱の中に黒や白の○が入ると、数が変わったり色が変わって出てきます。この約束で星の箱を通して出てきた○はどちらの色でいくつになるのでしょうか。その数だけ、その色で○をかきます。

--	--

--	--

--	--

--	--

※1. このプリントは、しながわ・目黒こどもスクールのウェブサイトからダウンロードできます。無断複写・引用はご遠慮ください。
 ※2. このプリントを活用したオンライン授業のスケジュールは、しながわ・目黒こどもスクールのウェブサイトでご確認ください。



おうちで、やろう。

Study at home. 小学校受験の家庭学習教材

推理：ブラックボックス5

上の太い四角の中が約束です。黒い星、白い星の箱の中に黒や白の○が入ると、数が変わったり色が変わって出てきます。この約束で星の箱を通して出てきた○はどちらの色でいくつになるのでしょうか。その数だけ、その色で○をかきます。

--	--

--	--

--	--

--	--

※1. このプリントは、しながわ・目黒こどもスクールのウェブサイトでダウンロードができます。無断複写・引用はご遠慮ください。

※2. このプリントを活用したオンライン授業のスケジュールは、しながわ・目黒こどもスクールのウェブサイトでご確認ください。












おうちで、やろう。

Study at home. 小学校受験の家庭学習教材

推理：影3

左の太い四角の中には、動物が影になって重なっています。左の四角の中に見えない動物を見つけて○をつけます。



※1. このプリントは、しながわ・目黒こどもスクールのウェブサイトからダウンロードできます。無断複写・引用はご遠慮ください。
※2. このプリントを活用したオンライン授業のスケジュールは、しながわ・目黒こどもスクールのウェブサイトでご確認ください。



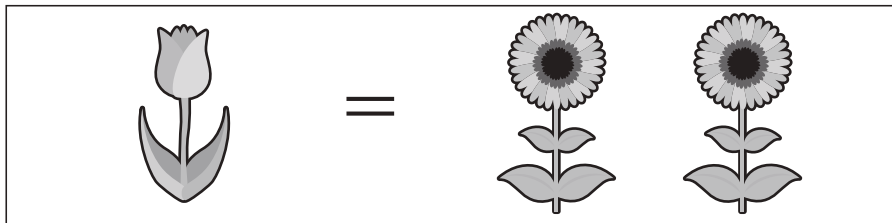


おうちで、やろう。

Study at home. 小学校受験の家庭学習教材

数量：置き換え7

上の四角が約束です。それぞれの果物を買うには真ん中の四角の中にあるチューリップとひまわりが必要です。全てひまわりで果物を買うには何本必要か考えて、その数だけ一番右の四角に○をかきます。



①			
②			
③			
④			

※1. このプリントは、しながわ・目黒こどもスクールのウェブサイトでダウンロードができます。無断複写・引用はご遠慮ください。

※2. このプリントを活用したオンライン授業のスケジュールは、しながわ・目黒こどもスクールのウェブサイトでご確認ください。

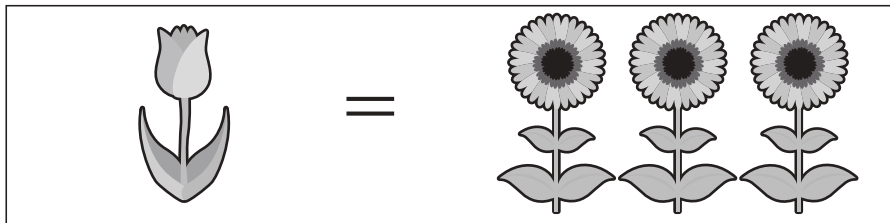


おうちで、やろう。

Study at home. 小学校受験の家庭学習教材

数量：置き換え8

上の四角が約束です。それぞれの果物を買うには真ん中の四角の中にあるチューリップとひまわりが必要です。全てひまわりで果物を買うには何本必要か考えて、その数だけ一番右の四角に○をかきます。



①			
②			
③			
④			

※1. このプリントは、しながわ・目黒こどもスクールのウェブサイトでダウンロードができます。無断複写・引用はご遠慮ください。

※2. このプリントを活用したオンライン授業のスケジュールは、しながわ・目黒こどもスクールのウェブサイトでご確認ください。



おうちで、やろう。

Study at home. 小学校受験の家庭学習教材

処理：運筆 8

●から○まで一本の線をかきます。この時、壁にぶつからないようにきれいに素早く線をかきます。(1分～1分30秒)
※この問題に解答はありません。



※1. このプリントは、しながわ・目黒こどもスクールのウェブサイトからダウンロードできます。無断複写・引用はご遠慮ください。
※2. このプリントを活用したオンライン授業のスケジュールは、しながわ・目黒こどもスクールのウェブサイトでご確認ください。




おうちで、やろう。

Study at home. 小学校受験の家庭学習教材

処理：計数 10

大きな四角の中の乗り物を数えます。その数だけ下の四角に○をかきます。








※1. このプリントは、しながわ・目黒こどもスクールのウェブサイトでダウンロードができます。無断複写・引用はご遠慮ください。
※2. このプリントを活用したオンライン授業のスケジュールは、しながわ・目黒こどもスクールのウェブサイトでご確認ください。