



# おうちで、やろう。

Study at home. 小学校受験の家庭学習教材

言語：音の数 16

太い四角の中の絵の音の数を合わせるといくつになるかを考えて、その数だけ右の四角の中の○を塗ります。

	<table border="1"> <tr> <td>●</td><td>●</td><td>●</td><td>●</td><td>●</td><td>●</td><td>○</td> </tr> <tr> <td>○</td><td>○</td><td>○</td><td>○</td><td>○</td><td>○</td><td>○</td> </tr> </table>	●	●	●	●	●	●	○	○	○	○	○	○	○	○
●	●	●	●	●	●	○									
○	○	○	○	○	○	○									

	<table border="1"> <tr> <td>●</td><td>●</td><td>●</td><td>●</td><td>●</td><td>●</td><td>●</td> </tr> <tr> <td>●</td><td>●</td><td>○</td><td>○</td><td>○</td><td>○</td><td>○</td> </tr> </table>	●	●	●	●	●	●	●	●	●	○	○	○	○	○
●	●	●	●	●	●	●									
●	●	○	○	○	○	○									

	<table border="1"> <tr> <td>●</td><td>●</td><td>●</td><td>●</td><td>●</td><td>●</td><td>●</td> </tr> <tr> <td>●</td><td>●</td><td>●</td><td>●</td><td>○</td><td>○</td><td>○</td> </tr> </table>	●	●	●	●	●	●	●	●	●	●	●	○	○	○
●	●	●	●	●	●	●									
●	●	●	●	○	○	○									

	<table border="1"> <tr> <td>●</td><td>●</td><td>●</td><td>●</td><td>●</td><td>●</td><td>●</td> </tr> <tr> <td>●</td><td>●</td><td>○</td><td>○</td><td>○</td><td>○</td><td>○</td> </tr> </table>	●	●	●	●	●	●	●	●	●	○	○	○	○	○
●	●	●	●	●	●	●									
●	●	○	○	○	○	○									

	<table border="1"> <tr> <td>●</td><td>●</td><td>●</td><td>●</td><td>●</td><td>●</td><td>●</td> </tr> <tr> <td>●</td><td>●</td><td>●</td><td>●</td><td>●</td><td>●</td><td>○</td> </tr> </table>	●	●	●	●	●	●	●	●	●	●	●	●	●	○
●	●	●	●	●	●	●									
●	●	●	●	●	●	○									

※1. このプリントは、しながわ・目黒こどもスクールのウェブサイトからダウンロードできます。無断複写・引用はご遠慮ください。  
 ※2. このプリントを活用したオンライン授業のスケジュールは、しながわ・目黒こどもスクールのウェブサイトでご確認ください。

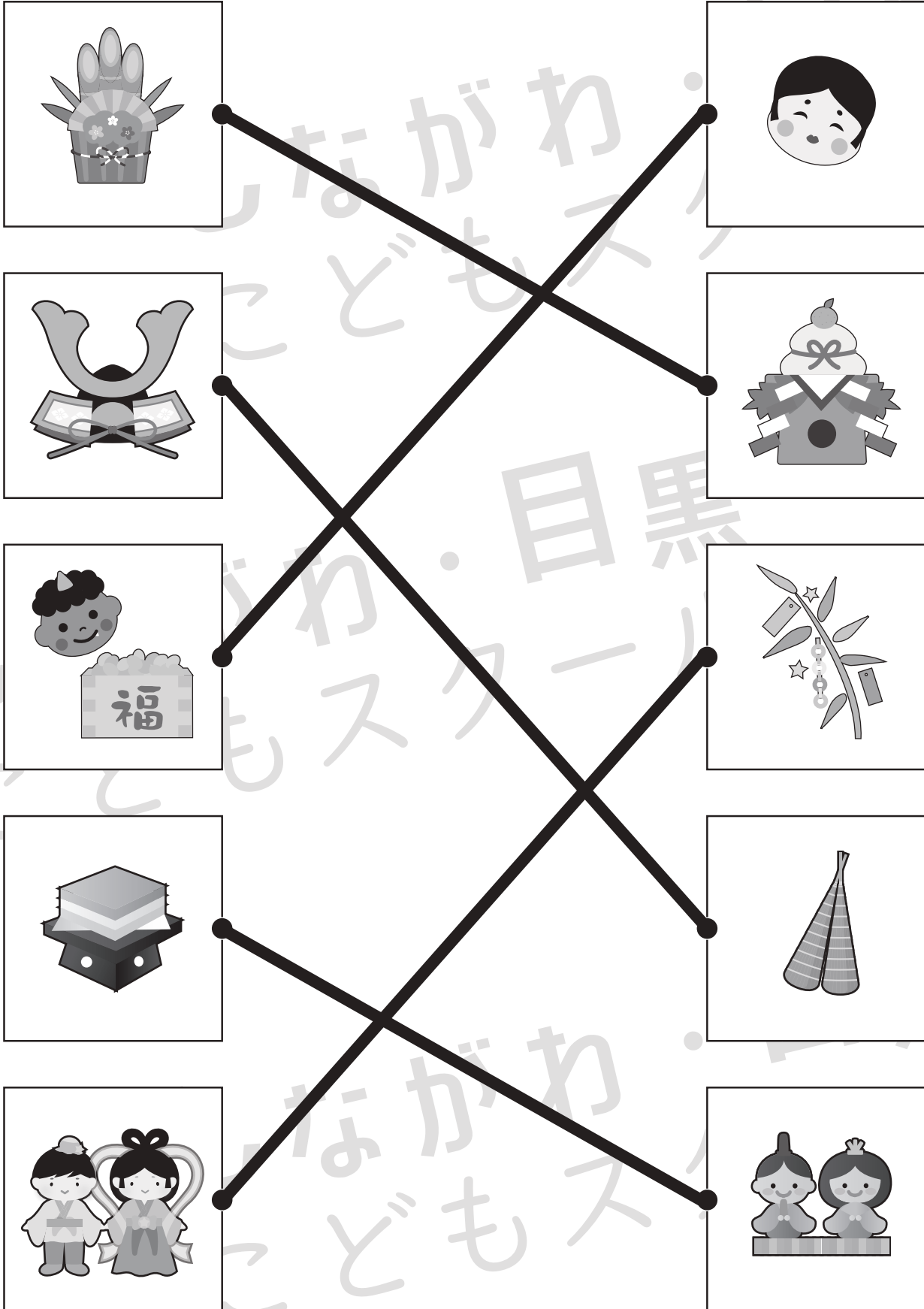


# おうちで、やろう。

Study at home. 小学校受験の家庭学習教材

## 常識：行事1

左の四角の中の行事と関係のあるものを四角の中から選んで点と点を線で結びます。



※1. このプリントは、しながわ・目黒こどもスクールのウェブサイトでダウンロードができます。無断複写・引用はご遠慮ください。

※2. このプリントを活用したオンライン授業のスケジュールは、しながわ・目黒こどもスクールのウェブサイトでご確認ください。



# おうちで、よろう。

Study at home. 小学校受験の家庭学習教材

## 推理：ブラックボックス4

上の太い四角の中が約束です。黒い星、白い星の箱の中に黒や白の○が入ると、数が変わったり色が変わって出てきます。この約束で星の箱を通して出てきた○はどちらの色でいくつになるでしょうか。その数だけ、その色で○をかきます。


--

--

--

--

※1. このプリントは、しながわ・目黒こどもスクールのウェブサイトでダウンロードができます。無断複写・引用はご遠慮ください。

※2. このプリントを活用したオンライン授業のスケジュールは、しながわ・目黒こどもスクールのウェブサイトでご確認ください。



# おうちで、やろう。

Study at home. 小学校受験の家庭学習教材

## 推理：ブラックボックス5

上の太い四角の中が約束です。黒い星、白い星の箱の中に黒や白の○が入ると、数が変わったり色が変わって出てきます。この約束で星の箱を通して出てきた○はどちらの色でいくつになるでしょうか。その数だけ、その色で○をかきます。


--

--

--

--

※1. このプリントは、しながわ・目黒こどもスクールのウェブサイトでダウンロードができます。無断複写・引用はご遠慮ください。  
 ※2. このプリントを活用したオンライン授業のスケジュールは、しながわ・目黒こどもスクールのウェブサイトでご確認ください。













# おうちで、やろう。

Study at home. 小学校受験の家庭学習教材

推理：影3

左の太い四角の中には、動物が影になって重なっています。左の四角の中にいない動物を見つけて○をつけます。



※1. このプリントは、しながわ・目黒こどもスクールのウェブサイトでダウンロードができます。無断複写・引用はご遠慮ください。  
※2. このプリントを活用したオンライン授業のスケジュールは、しながわ・目黒こどもスクールのウェブサイトでご確認ください。



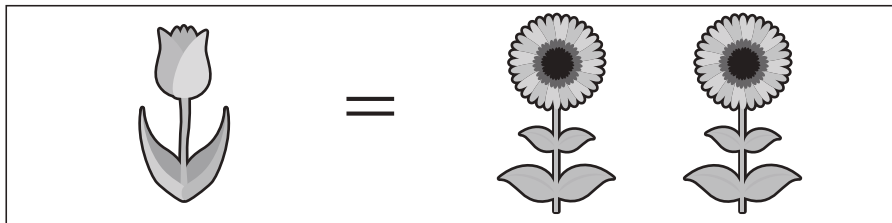


# おうちで、やろう。

Study at home. 小学校受験の家庭学習教材

数量：置き換え7

上の四角が約束です。それぞれの果物を買うには真ん中の四角の中にあるチューリップとひまわりが必要です。全てひまわりで果物を買うには何本必要か考えて、その数だけ一番右の四角に〇をかきます。



①			$\bigcirc \times 2$
②			$\bigcirc \times 4$
③			$\bigcirc \times 5$
④			$\bigcirc \times 6$

※1. このプリントは、しながわ・目黒こどもスクールのウェブサイトでダウンロードができます。無断複写・引用はご遠慮ください。

※2. このプリントを活用したオンライン授業のスケジュールは、しながわ・目黒こどもスクールのウェブサイトでご確認ください。

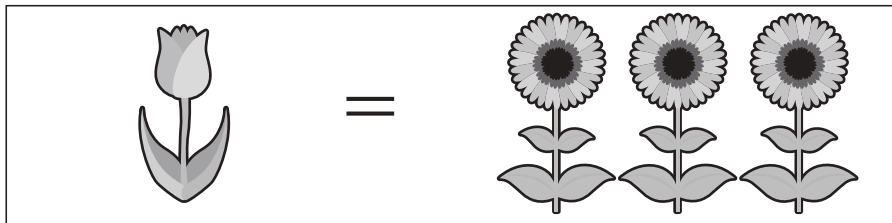


# おうちで、やろう。

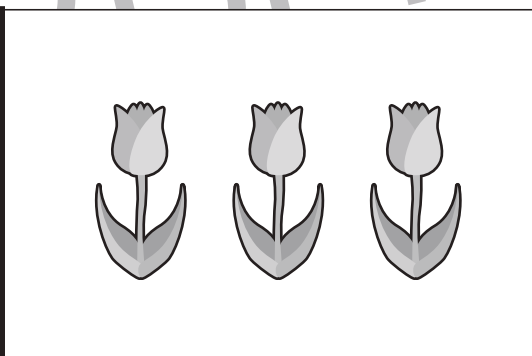

Study at home. 小学校受験の家庭学習教材

数量：置き換え8

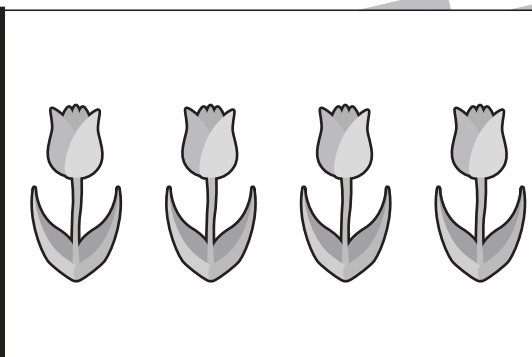

上の四角が約束です。それぞれの果物を買うには真ん中の四角の中にあるチューリップとひまわりが必要です。全てひまわりで果物を買うには何本必要か考えて、その数だけ一番右の四角に〇をかきます。





①




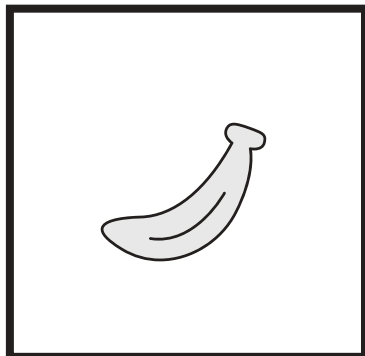
②



③



④



※1. このプリントは、しながわ・目黒こどもスクールのウェブサイトでダウンロードができます。無断複写・引用はご遠慮ください。

※2. このプリントを活用したオンライン授業のスケジュールは、しながわ・目黒こどもスクールのウェブサイトでご確認ください。










# おうちで、よろう。

Study at home. 小学校受験の家庭学習教材

処理：計数 10

大きな四角の中の乗り物を数えます。その数だけ下の四角に○をかきます。



	○ × 5
	○ × 6
	○ × 6
	○ × 8

※1. このプリントは、しながわ・目黒こどもスクールのウェブサイトでダウンロードができます。無断複写・引用はご遠慮ください。  
 ※2. このプリントを活用したオンライン授業のスケジュールは、しながわ・目黒こどもスクールのウェブサイトでご確認ください。