


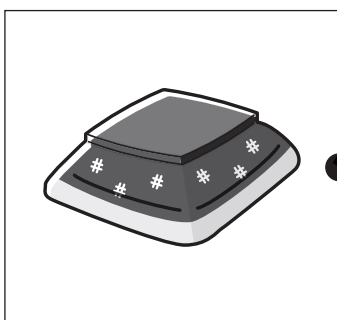
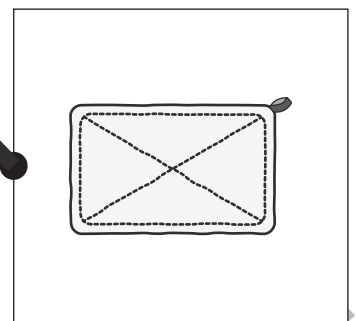
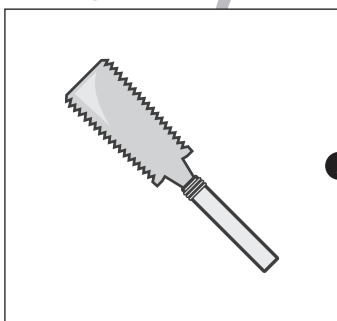
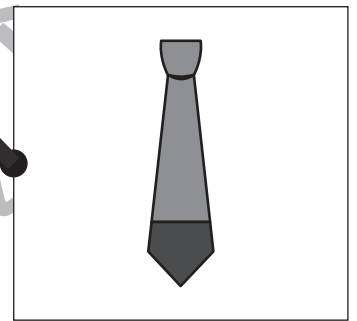

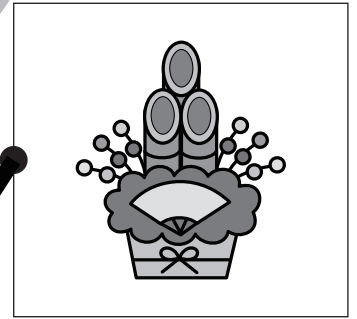
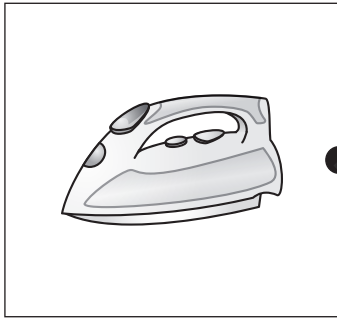

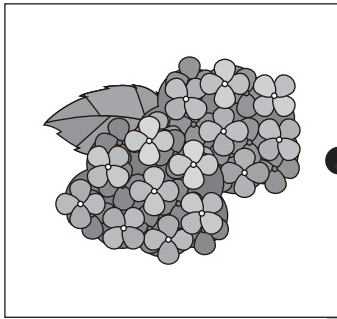


おうちで、やろう。

Study at home. 小学校受験の家庭学習教材

言語：音の理解 11

左の四角の中の絵のおわりの音と同じ音でおわる絵を、右の四角の中からみつけて線で結びます。



※1. このプリントは、しながわ・目黒こどもスクールのウェブサイトでダウンロードができます。無断複写・引用はご遠慮ください。
※2. このプリントを活用したオンライン授業のスケジュールは、しながわ・目黒こどもスクールのウェブサイトでご確認ください。


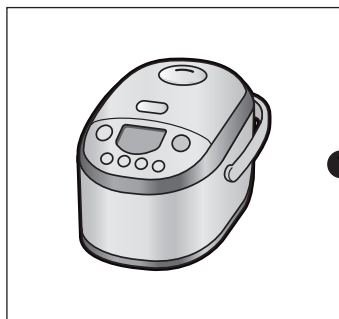
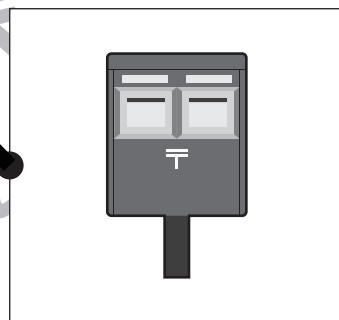
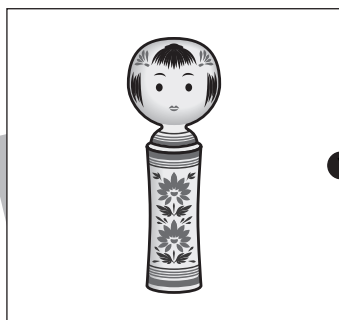

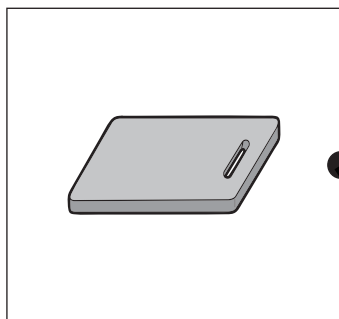




おうちで、やろう。

Study at home. 小学校受験の家庭学習教材

言語：音の理解 12

左の四角の中の絵のおわりの音と同じ音でおわる絵を、右の四角の中からみつけて線で結びます。



※1. このプリントは、しながわ・目黒こどもスクールのウェブサイトでダウンロードができます。無断複写・引用はご遠慮ください。
※2. このプリントを活用したオンライン授業のスケジュールは、しながわ・目黒こどもスクールのウェブサイトでご確認ください。





おうちで、やろう。

Study at home. 小学校受験の家庭学習教材

常識：行事 2

太い四角の中の行事と関係のあるものを右の四角から全て選んで○をつけます。

※1. このプリントは、しながわ・目黒こどもスクールのウェブサイトでダウンロードができます。無断複写・引用はご遠慮ください。

※2. このプリントを活用したオンライン授業のスケジュールは、しながわ・目黒こどもスクールのウェブサイトでご確認ください。


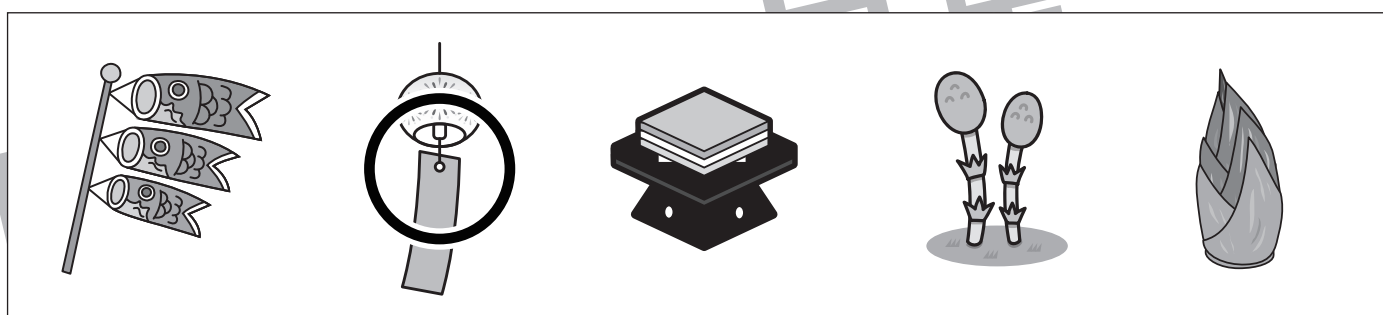


おうちで、やろう。

Study at home. 小学校受験の家庭学習教材

常識：季節 12

四角の絵の中で、違う季節のものを見つけて○をつけます。



※1. このプリントは、しながわ・目黒こどもスクールのウェブサイトでダウンロードができます。無断複写・引用はご遠慮ください。
 ※2. このプリントを活用したオンライン授業のスケジュールは、しながわ・目黒こどもスクールのウェブサイトでご確認ください。



おうちで、よろう。


Study at home. 小学校受験の家庭学習教材

推理：系列完成 8


記号がある順番通りに並んでいます。灰色の四角の中の並び方を考えて正しいものを下の四角の中から選んで○をつけます。

△ × ○ ○ △ × ○ ○  ○ △


△ ○ ×	△ × ○	○ × ×
-------	-------	-------

○ □ / △ ◎ ○ □ /  □ / △

◎ △ ○	△ ○ /	△ ◎ ○
-------	-------	-------

 ◎ / × △ □ ◎ / × △ □ ◎

× △ □	× ◎ □	□ ◎ /
-------	-------	-------

▽ ○ × △ □  △ □ ▽ ○ ×

□ ▽ ○	▽ ○ ×	× ◎ □
-------	-------	-------

※1. このプリントは、しながわ・目黒こどもスクールのウェブサイトでダウンロードができます。無断複写・引用はご遠慮ください。
 ※2. このプリントを活用したオンライン授業のスケジュールは、しながわ・目黒こどもスクールのウェブサイトでご確認ください。



おうちで、やろう。

Study at home. 小学校受験の家庭学習教材

数量：余る数 4

左の四角の中にお友だちが真ん中の大きな四角の中の果物を仲良く同じ数になるように分けます。果物が余るときは○、ぴったり分けられるときは×を一番右の四角にかきます。

※1. このプリントは、しながわ・目黒こどもスクールのウェブサイトダウンロードができます。無断複写・引用はご遠慮ください。

※2. このプリントを活用したオンライン授業のスケジュールは、しながわ・目黒こどもスクールのウェブサイトでご確認ください。



おうちで、やろう。

Study at home. 小学校受験の家庭学習教材

数量：余る数5

左の四角の中にお友だちが真ん中の大きな四角の中の2種類の果物を仲良く同じ数になるように分けます。果物が2つとも余るときは×、ひとつだけ余るときは△、ぴったり分けられるときは○を一番右の四角にかきます。

※1. このプリントは、しながわ・目黒こどもスクールのウェブサイトでダウンロードができます。無断複写・引用はご遠慮ください。

※2. このプリントを活用したオンライン授業のスケジュールは、しながわ・目黒こどもスクールのウェブサイトでご確認ください。

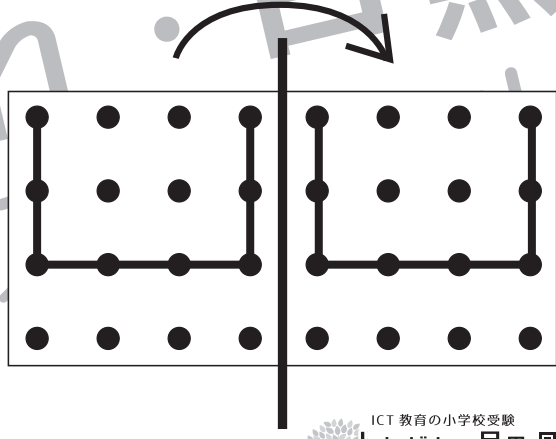
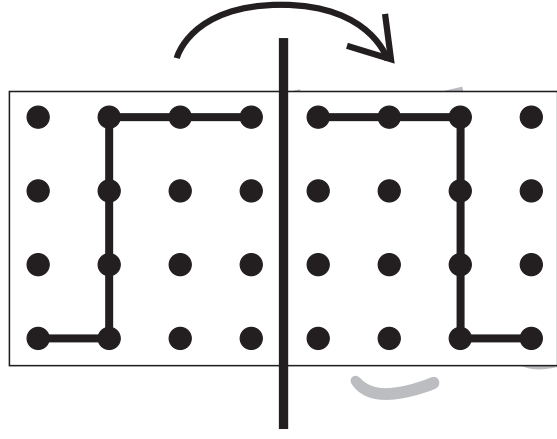
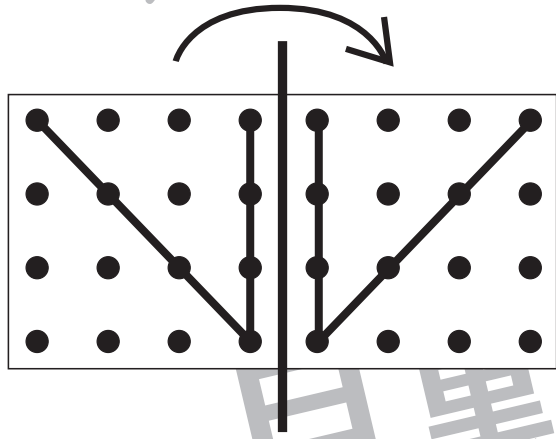
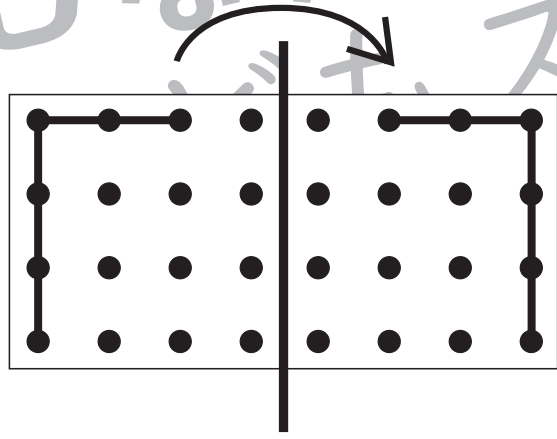
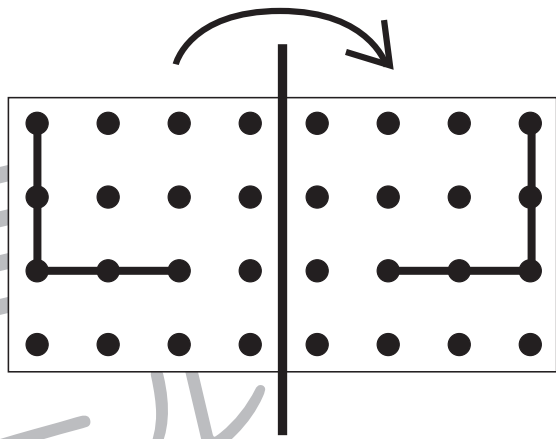
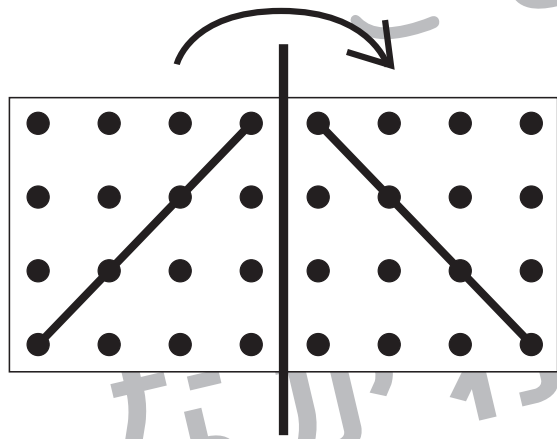
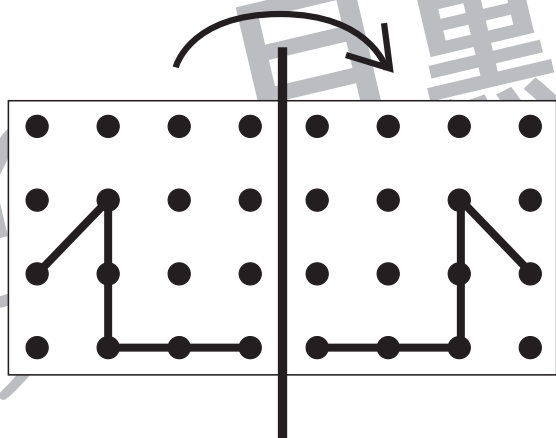
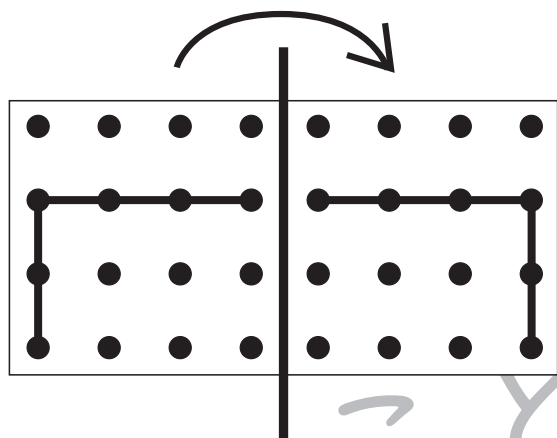


おうちで、よろう。

Study at home. 小学校受験の家庭学習教材

図形：折り重ね点図形1

左の四角を真ん中の太い線で矢印の方向へ折り重ねた時の見え方を考えて、線をかきます。



※1. このプリントは、しながわ・目黒こどもスクールのウェブサイトでダウンロードができます。無断複写・引用はご遠慮ください。
※2. このプリントを活用したオンライン授業のスケジュールは、しながわ・目黒こどもスクールのウェブサイトでご確認ください。



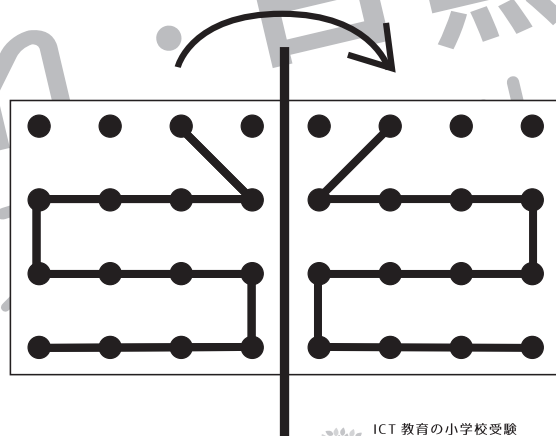
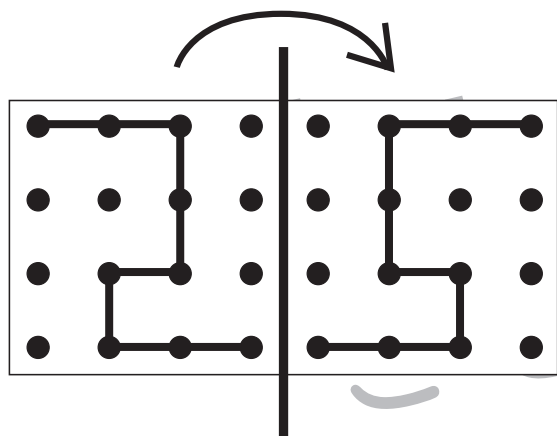
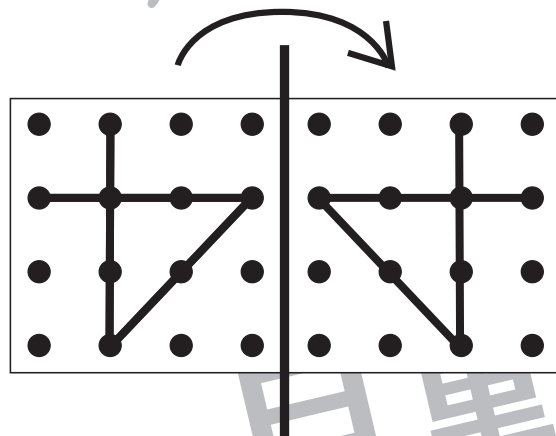
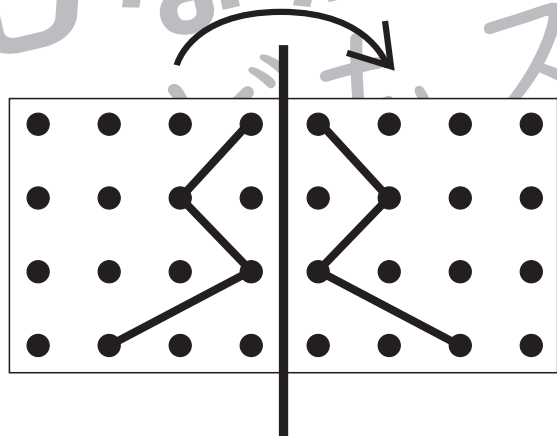
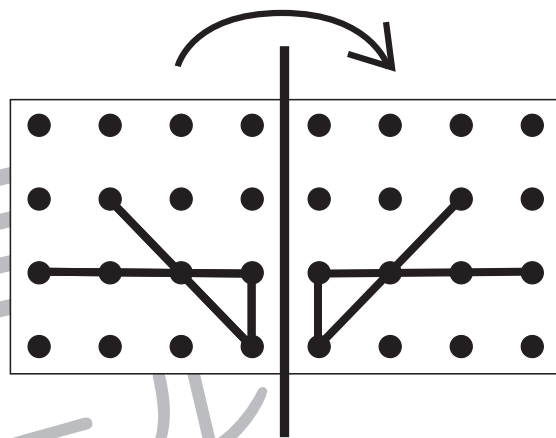
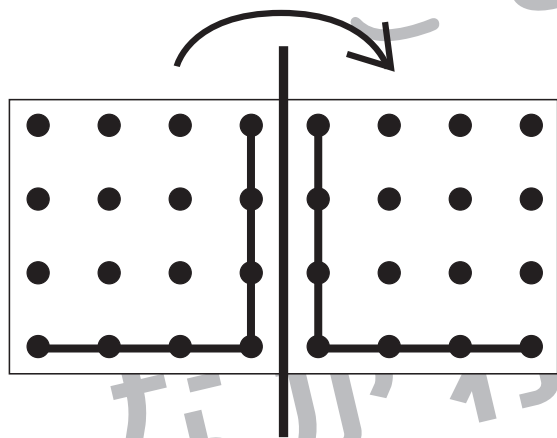
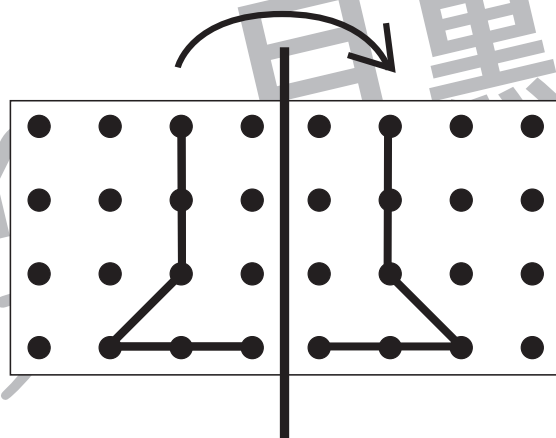
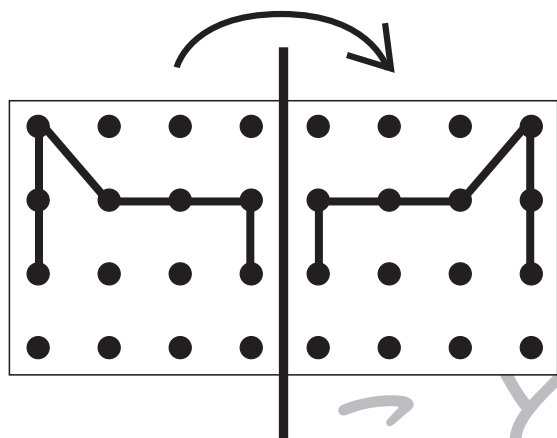


おうちで、やろう。

Study at home. 小学校受験の家庭学習教材

図形：折り重ね点図形2

左の四角を真ん中の太い線で矢印の方向へ折り重ねた時の見え方を考えて、線をかきます。



※1. このプリントは、しながわ・目黒こどもスクールのウェブサイトでダウンロードができます。無断複写・引用はご遠慮ください。

※2. このプリントを活用したオンライン授業のスケジュールは、しながわ・目黒こどもスクールのウェブサイトでご確認ください。

