



# おうちで、やろう。

Study at home. 小学校受験の家庭学習教材

それぞれの設問に答えましょう。指示は1度ですべて読み上げます。しっかり聞いて取り組みましょう。

- ①一番下の段の左から2番目のマスに緑のクーピーで○をかきます。
- ②上から3段目の右から4番目のマスに赤のクーピーで○をかきます。
- ③下から4段目の右から2番目のマスを黄色のクーピーで塗ります。
- ④上から2段目の右から3番目のマスに黒のクーピーで△をかきます。
- ⑤下から5段目の左から4番目のマスを青のクーピーで塗ります。

			青色で 塗る	
			黄色で 塗る	
				

※1. このプリントは、しながわ・目黒こどもスクールのウェブサイトでダウンロードができます。無断複写・引用はご遠慮ください。

※2. このプリントを活用したオンライン授業のスケジュールは、しながわ・目黒こどもスクールのウェブサイトでご確認ください。





# おうちで、やろう。

Study at home. 小学校受験の家庭学習教材

言語：しりとり 11

左上の「リス」から左下の「くるま」まで順番にしりとりをしながらつなげていきます。このとき、印が描かれている場所に入る絵を下の四角の中から選び、それぞれの印をつけます。



※1. このプリントは、しながわ・目黒こどもスクールのウェブサイトからダウンロードできます。無断複写・引用はご遠慮ください。  
 ※2. このプリントを活用したオンライン授業のスケジュールは、しながわ・目黒こどもスクールのウェブサイトでご確認ください。



# おうちで、やろう。

Study at home. 小学校受験の家庭学習教材

左の見本を真ん中の太い線の上に鏡を置いて見た時の見え方を考えます。白い丸だけを右の四角にかきます。


※1. このプリントは、しながわ・目黒こどもスクールのウェブサイトでダウンロードができます。無断複写・引用はご遠慮ください。  
 ※2. このプリントを活用したオンライン授業のスケジュールは、しながわ・目黒こどもスクールのウェブサイトでご確認ください。



# おうちで、やろう。

Study at home. 小学校受験の家庭学習教材

## 図形：鏡 12

左の見本を真ん中の太い線の上に鏡を置いて見た時の見え方を考えます。白い丸だけを右の四角にかきます。


※1. このプリントは、しながわ・目黒こどもスクールのウェブサイトでダウンロードができます。無断複写・引用はご遠慮ください。

※2. このプリントを活用したオンライン授業のスケジュールは、しながわ・目黒こどもスクールのウェブサイトでご確認ください。



# おうちで、やろう。

Study at home. 小学校受験の家庭学習教材

図形：構成 7

左の太い四角の中がお手本です。このお手本の形を真ん中の点線の四角の中の形と右の四角の中の形を組み合わせで作ります。右の四角の中から正しいものを1つつけて○をつけます。


※1. このプリントは、しながわ・目黒こどもスクールのウェブサイトでダウンロードができます。無断複写・引用はご遠慮ください。  
 ※2. このプリントを活用したオンライン授業のスケジュールは、しながわ・目黒こどもスクールのウェブサイトでご確認ください。




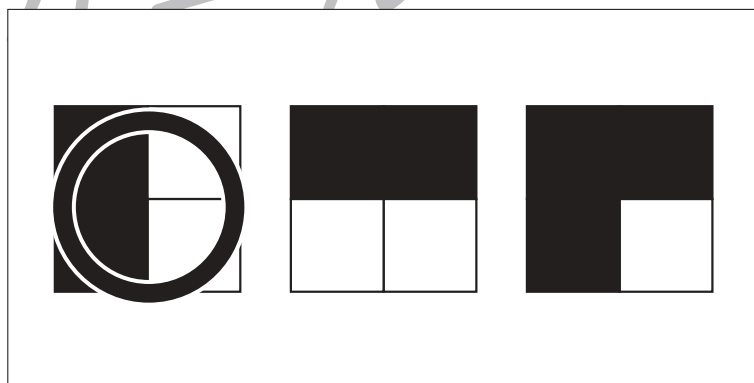


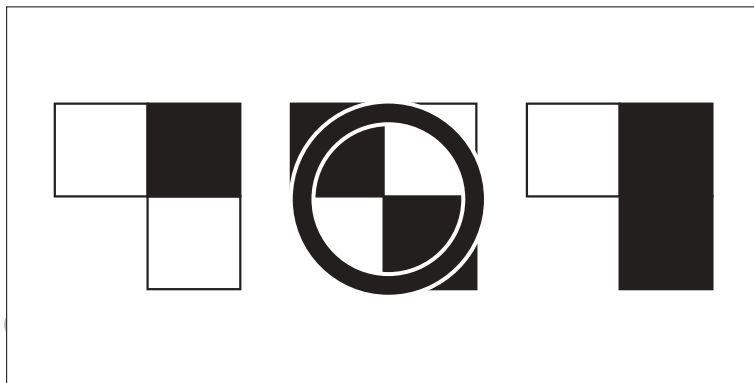


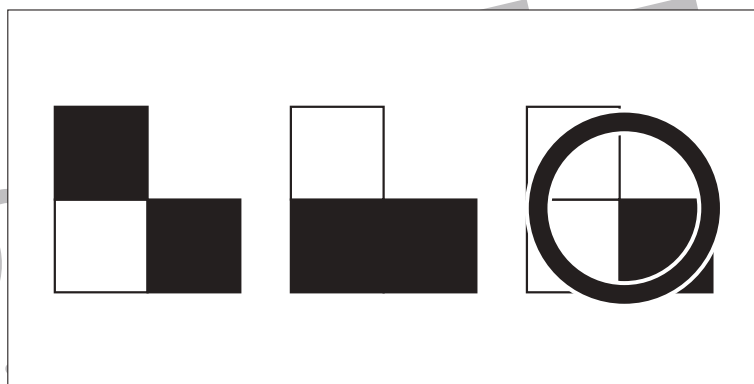




# おうちで、やろう。

Study at home. 小学校受験の家庭学習教材

## 図形：構成 8

左の太い四角の中がお手本です。このお手本の形を真ん中の点線の四角の中の形と右の四角の中の形を組み合わせで作ります。  
右の四角の中から正しいものを1つつけて○をつけます。



※1. このプリントは、しながわ・目黒こどもスクールのウェブサイトでダウンロードができます。無断複写・引用はご遠慮ください。  
※2. このプリントを活用したオンライン授業のスケジュールは、しながわ・目黒こどもスクールのウェブサイトでご確認ください。





# おうちで、やろう。

Study at home. 小学校受験の家庭学習教材

数量：広さ7

左上の太い四角の中の灰色のマスのより広いものを探して○をつけます。


※1. このプリントは、しながわ・目黒こどもスクールのウェブサイトからダウンロードできます。無断複写・引用はご遠慮ください。  
 ※2. このプリントを活用したオンライン授業のスケジュールは、しながわ・目黒こどもスクールのウェブサイトでご確認ください。



# おうちで、やろう。

Study at home. 小学校受験の家庭学習教材

数量：広さ 8

左上の太い四角の中の灰色のマスのよりも広いものには○同じ広さのものには×をつけます。


※1. このプリントは、しながわ・目黒こどもスクールのウェブサイトでダウンロードができます。無断複写・引用はご遠慮ください。  
 ※2. このプリントを活用したオンライン授業のスケジュールは、しながわ・目黒こどもスクールのウェブサイトでご確認ください。





# おうちで、やろう。

Study at home. 小学校受験の家庭学習教材

図形：分割7

四角の中のお菓子を太い四角の中の○の数ずつ分けるとき何人で分けることができますか。  
その数だけ右の四角に○をかきます。

○○

○ × 4

○○○

○ × 3

○○○○

○ × 3

○○○○

○ × 4

※1. このプリントは、しながわ・目黒こどもスクールのウェブサイトでダウンロードができます。無断複写・引用はご遠慮ください。  
 ※2. このプリントを活用したオンライン授業のスケジュールは、しながわ・目黒こどもスクールのウェブサイトでご確認ください。