

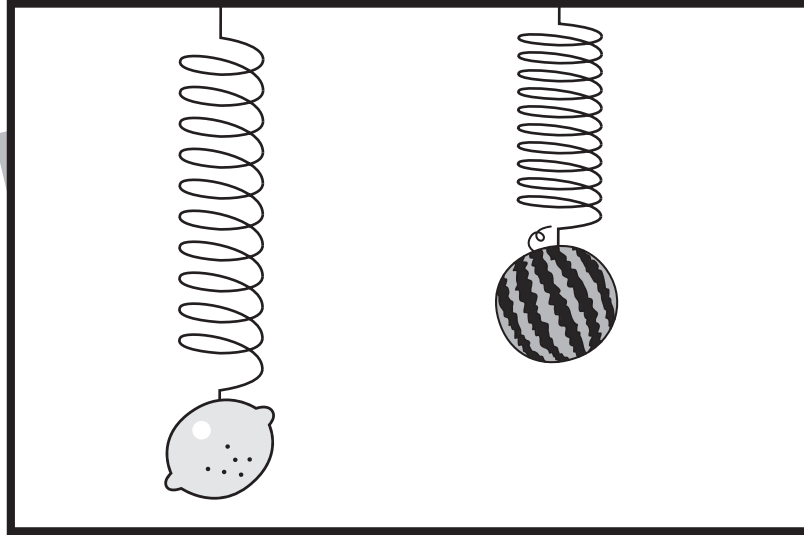


おうちで、やろう。 年中児版

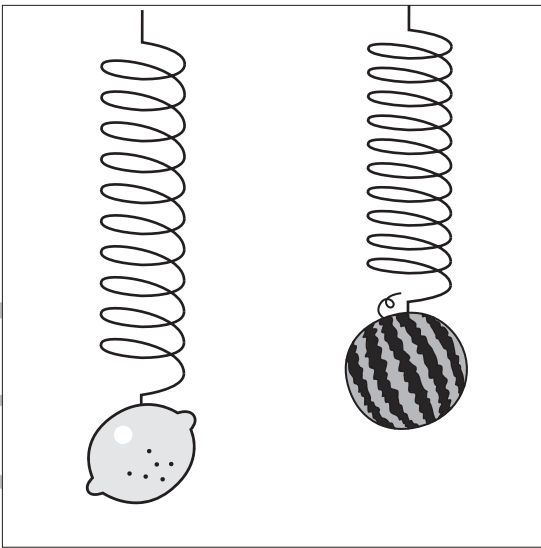
Study at home. 小学校受験の家庭学習教材

推理：重さ5

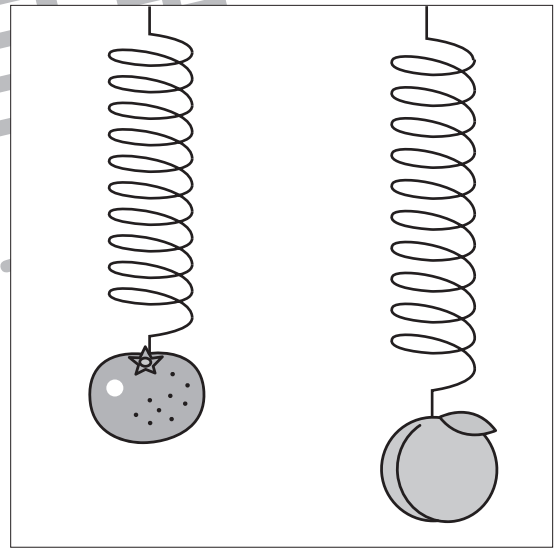
太い四角の中はバネを使って食べものの重さ比べをしている様子です。下に向かってバネがよく伸びている食べ物の方が重くなります。この約束でそれぞれの四角の中の食べものを重さ比べしたとき重い食べものに○をつけます。



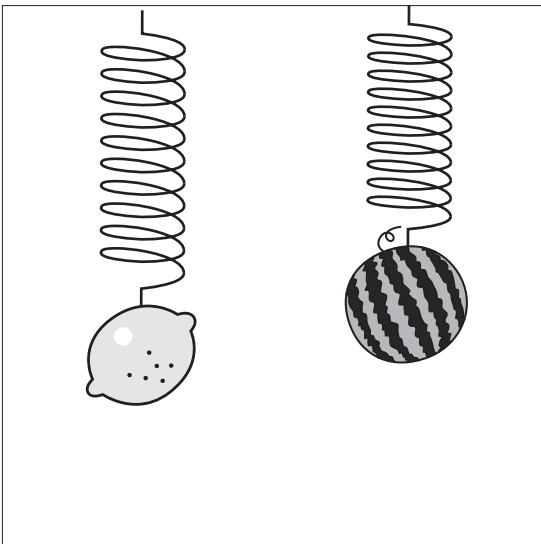
①



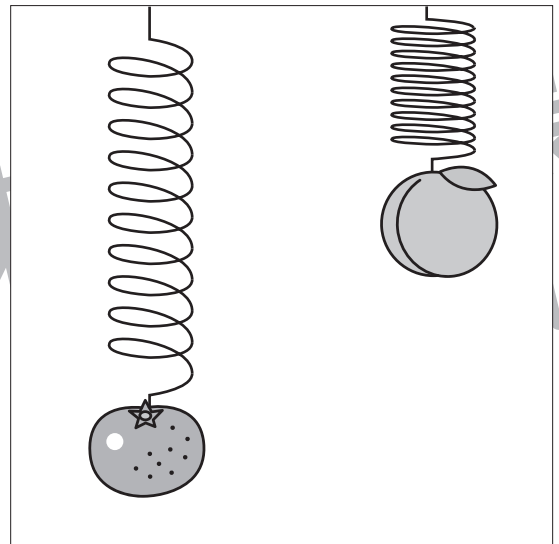
②



③



④



※1.このプリントは、しながわ・目黒こどもスクールのウェブサイトでダウンロードができます。無断複写・引用はご遠慮ください。
※2.このプリントを活用したオンライン授業のスケジュールは、しながわ・目黒こどもスクールのウェブサイトでご確認ください。



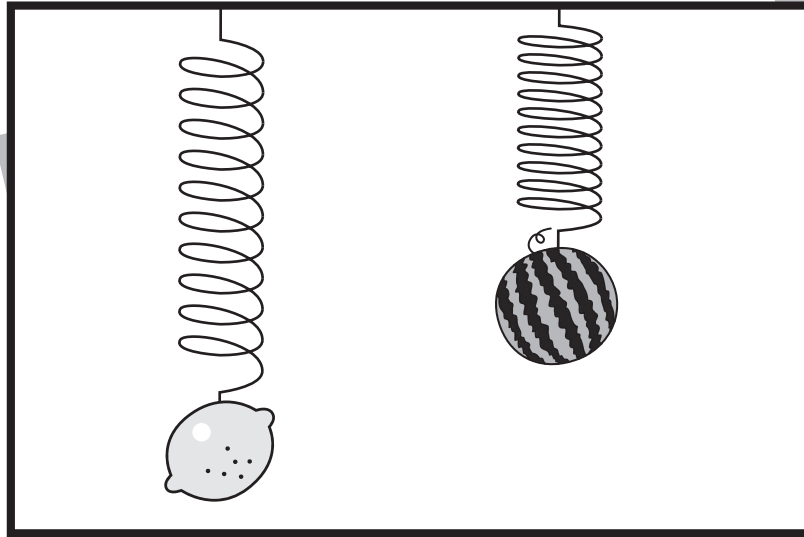


おうちで、やろう。 年中児版

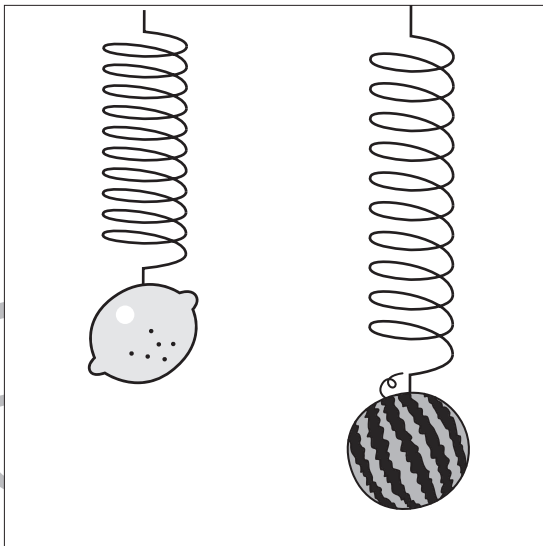
Study at home. 小学校受験の家庭学習教材

推理：重さ6

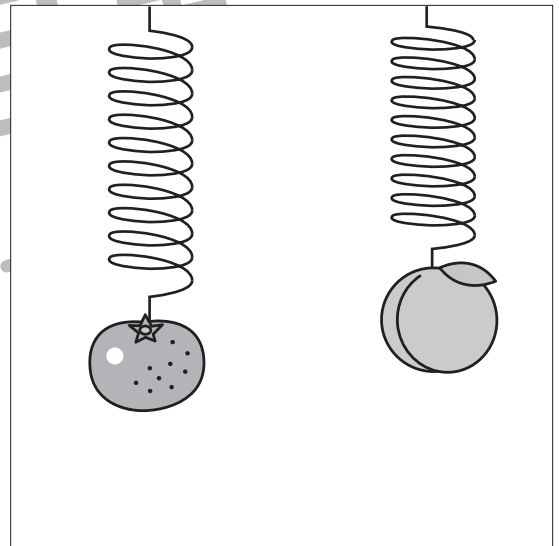
太い四角の中はバネを使って食べものの重さ比べをしている様子です。下に向かってバネがよく伸びている食べ物の方が重くなります。この約束でそれぞれの四角の中の食べものを重さ比べしたとき重い食べものに○をつけます。



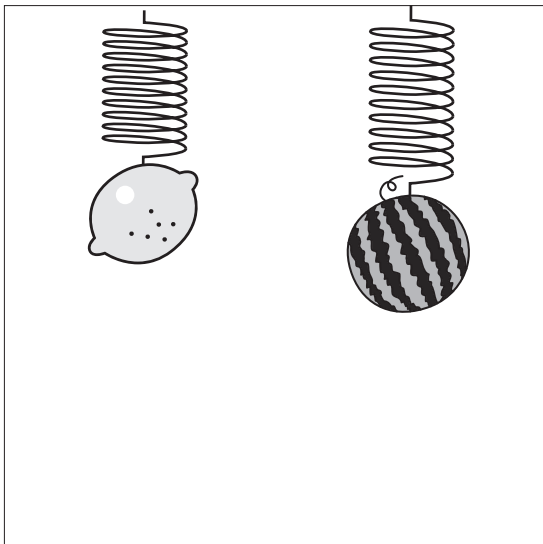
①



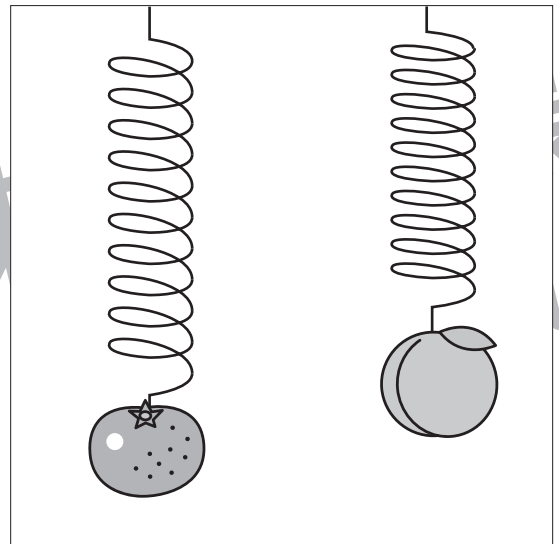
②



③



④



※1.このプリントは、しながわ・目黒こどもスクールのウェブサイトでダウンロードができます。無断複写・引用はご遠慮ください。
※2.このプリントを活用したオンライン授業のスケジュールは、しながわ・目黒こどもスクールのウェブサイトでご確認ください。





おうちで、やろう。 年中児版

Study at home. 小学校受験の家庭学習教材

推理：順位付け1

- ①お皿の上のリンゴが1番多いものに○、2番目に多いものに×をつけます。
- ②吹き出しの中を見たとき、持っているリンゴの数が一番多い人に○、一番少ない人に×をつけます。
- ③4つの木の中でリンゴが一番多くなっている木に○、リンゴが2番目に多くなっている木に×をつけます。

①

②

③

※1. このプリントは、しながわ・目黒こどもスクールのウェブサイトでダウンロードができます。無断複写・引用はご遠慮ください。
 ※2. このプリントを活用したオンライン授業のスケジュールは、しながわ・目黒こどもスクールのウェブサイトでご確認ください。



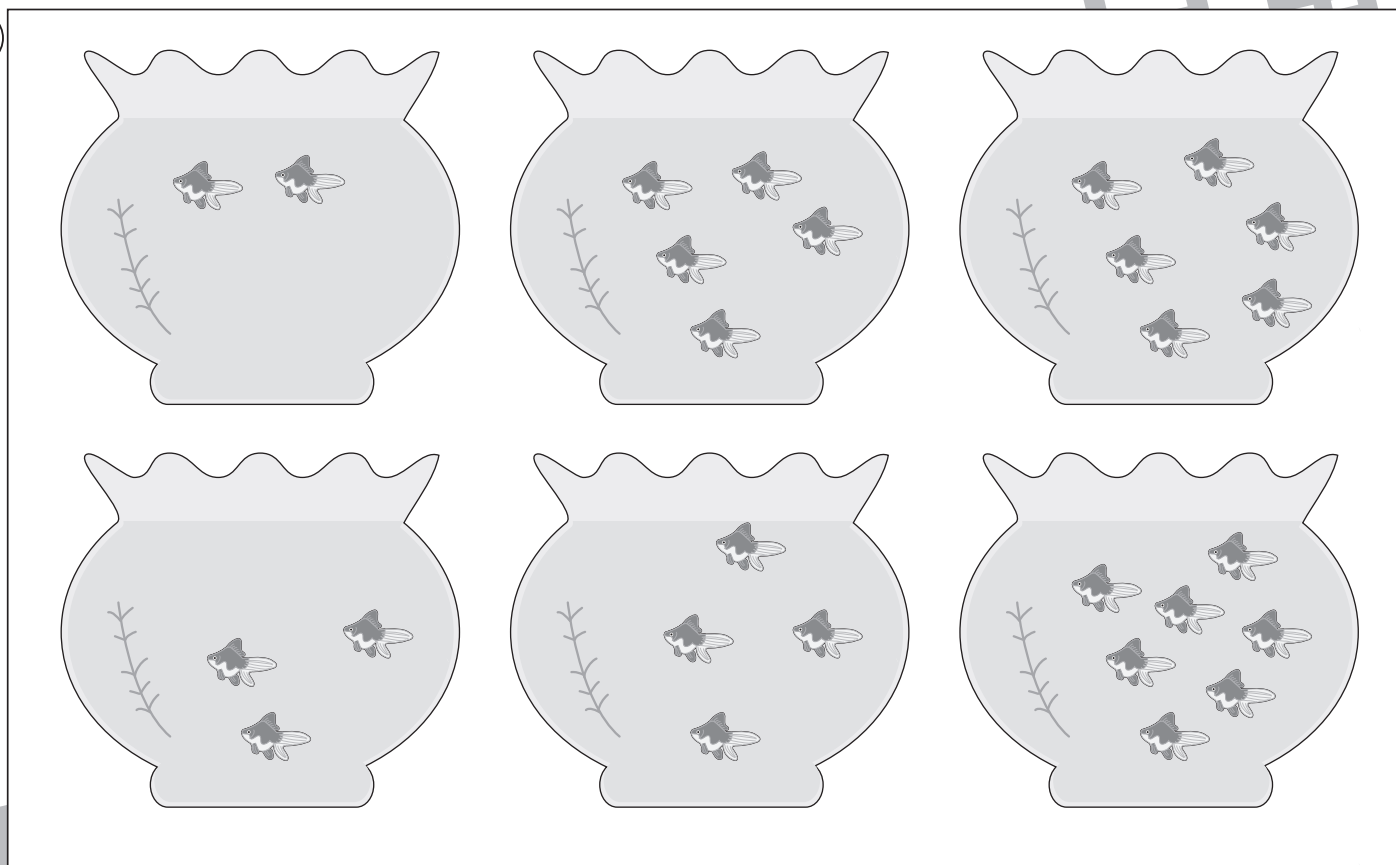
おうちで、やろう。 年中児版

Study at home. 小学校受験の家庭学習教材

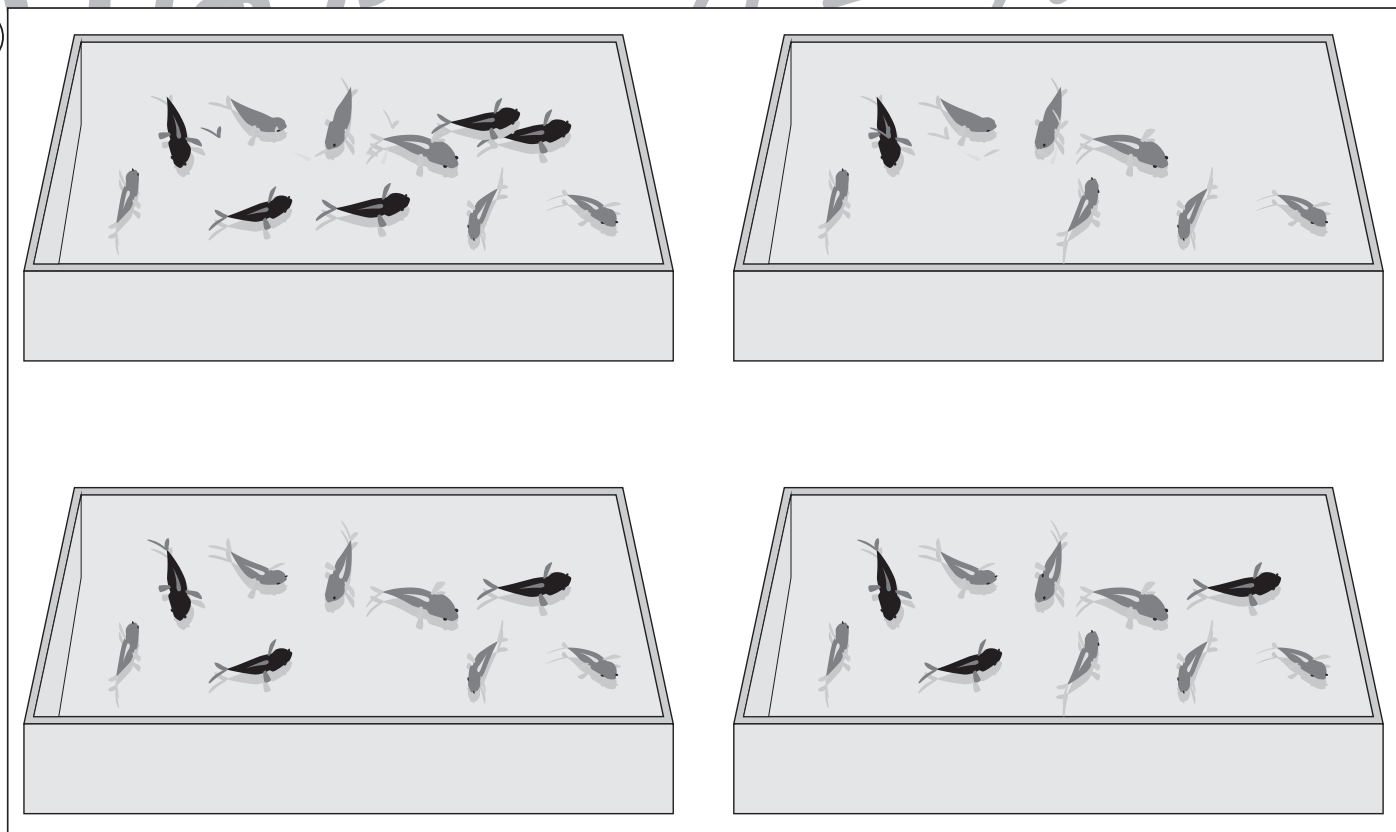
推理：順位付け2

- ① 6つの水槽の中で金魚の数が一番少ない水槽に○、金魚の数が2番目に少ない水槽 × をつけます。
- ② 金魚の数が一番多い容器に○をつけます。

1



2



※1. このプリントは、しながわ・目黒こどもスクールのウェブサイトでダウンロードができます。無断複写・引用はご遠慮ください。
 ※2. このプリントを活用したオンライン授業のスケジュールは、しながわ・目黒こどもスクールのウェブサイトでご確認ください。


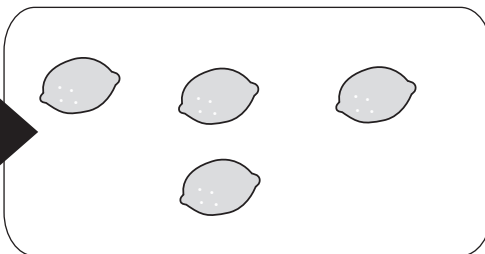
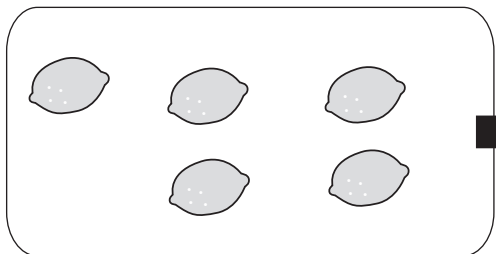
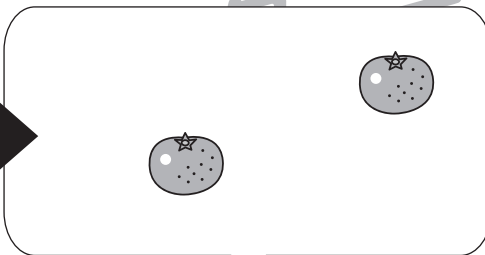
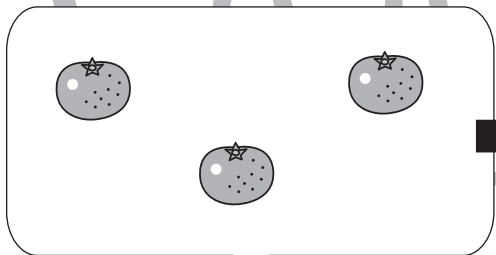








おうちで、やろう。 年中児版

Study at home. 小学校受験の家庭学習教材

数量：加減6

ウサギの上の吹き出しの食べ物の数だけ右の動物に渡すと右の動物の吹き出しの食べ物の数は合わせていくつになりますか。
その数だけ一番右の四角に○をかきます。



※1. このプリントは、しながわ・目黒こどもスクールのウェブサイトでダウンロードができます。無断複写・引用はご遠慮ください。
※2. このプリントを活用したオンライン授業のスケジュールは、しながわ・目黒こどもスクールのウェブサイトでご確認ください。




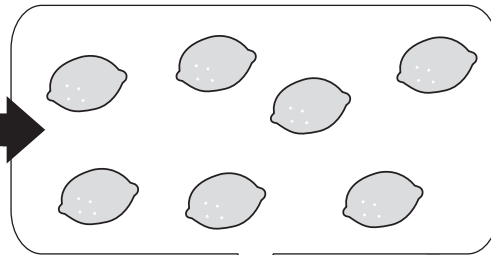
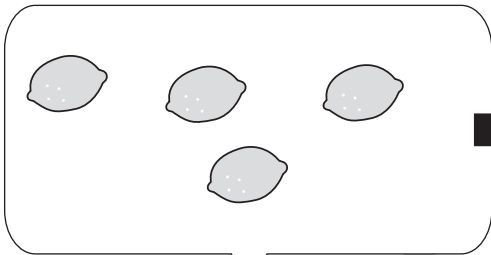
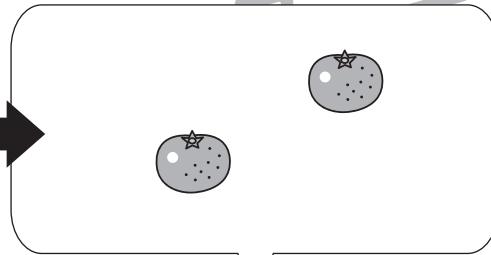
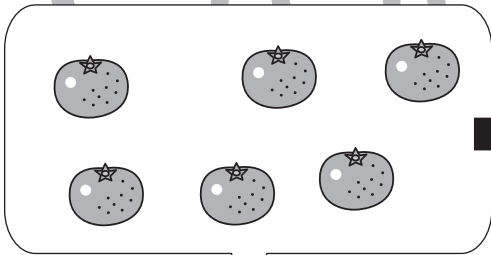







おうちで、やろう。 年中児版

Study at home. 小学校受験の家庭学習教材

数量：加減7

ウサギの上の吹き出しの食べ物の数だけ右の動物に渡すと右の動物の吹き出しの食べ物の数合わせていくつになりますか。
その数だけ一番右の四角に○をかきます。



※1. このプリントは、しながわ・目黒こどもスクールのウェブサイトでダウンロードができます。無断複写・引用はご遠慮ください。
※2. このプリントを活用したオンライン授業のスケジュールは、しながわ・目黒こどもスクールのウェブサイトでご確認ください。



おうちで、やろう。年中児版

Study at home. 小学校受験の家庭学習教材

条件画：1

別紙にあるチューリップを好きな色で塗ったあと、はさみで切ります。切ったチューリップを使って絵をかきます。
※チューリップはのりで用紙に貼りましょう。また用紙は縦向き、横向きどちらでもかまいません。

※1. このプリントは、しながわ・目黒こどもスクールのウェブサイトでダウンロードができます。無断複写・引用はご遠慮ください。
※2. このプリントを活用したオンライン授業のスケジュールは、しながわ・目黒こどもスクールのウェブサイトでご確認ください。



おうちで、やろう。年中児版

Study at home. 小学校受験の家庭学習教材

条件画：2

別紙にあるリンゴを好きな色で塗ったあと、はさみで切ります。切ったリンゴを使って絵をかきます。
※リンゴはのりで用紙に貼りましょう。また用紙は縦向き、横向きどちらでもかまいません。



※1. このプリントは、しながわ・目黒こどもスクールのウェブサイトでダウンロードができます。無断複写・引用はご遠慮ください。
※2. このプリントを活用したオンライン授業のスケジュールは、しながわ・目黒こどもスクールのウェブサイトでご確認ください。



おうちで、やろう。 年中児版

Study at home. 小学校受験の家庭学習教材

巧緻性：1・2





(別紙)

この用紙は巧緻性1、巧緻性2のプリントで使用します。

下の絵は黒い太線をはさみで切って条件画1で使用します。 ※チューリップは何本使用してもかまいません。



下の絵は黒い太線をはさみで切って条件画2で使用します。 ※リンゴは何個使用してもかまいません。



※1. このプリントは、しながわ・目黒こどもスクールのウェブサイトでダウンロードができます。無断複写・引用はご遠慮ください。

※2. このプリントを活用したオンライン授業のスケジュールは、しながわ・目黒こどもスクールのウェブサイトでご確認ください。