



おうちで、やろう。





Study at home. 小学校受験の家庭学習教材

記憶：絵の記憶 10 記憶用紙




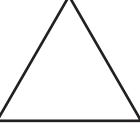

別紙『記憶 - 絵の記憶 10』を行う際に使用します。記憶用紙は点線で折って(切って)、①、②の問題の際にそれぞれ 20 秒間ずつ記憶させてください。記憶する際は問題用紙は裏返しにします。記憶後①、②、③それぞれの問題に答えましょう。

①②今見た場所と全く同じ場所に記号をかきます。

①

②

※ 1. このプリントは、しながわ・目黒こどもスクールのウェブサイトでダウンロードができます。無断複写・引用はご遠慮ください。

※ 2. このプリントを活用したオンライン授業のスケジュールは、しながわ・目黒こどもスクールのウェブサイトでご確認ください。



おうちで、やろう。

Study at home. 小学校受験の家庭学習教材

記憶：絵の記憶 10

別紙『記憶 - 絵の記憶 10 記憶用紙』を使用します。記憶用紙の形を見た後に①、②の問題に取り組みましょう。
※このプリントの解答は記憶用紙で確認してください。

①

②

※1. このプリントは、しながわ・目黒こどもスクールのウェブサイトからダウンロードができます。無断複写・引用はご遠慮ください。
※2. このプリントを活用したオンライン授業のスケジュールは、しながわ・目黒こどもスクールのウェブサイトでご確認ください。








おうちで、やろう。

Study at home. 小学校受験の家庭学習教材

言語：しりとり 12

四角の中の絵をしりとりでつなぎます。○の中の絵が最後になるようにつなぐとき、一番初めの絵に○をつけます。



※1. このプリントは、しながわ・目黒こどもスクールのウェブサイトでダウンロードができます。無断複写・引用はご遠慮ください。

※2. このプリントを活用したオンライン授業のスケジュールは、しながわ・目黒こどもスクールのウェブサイトでご確認ください。



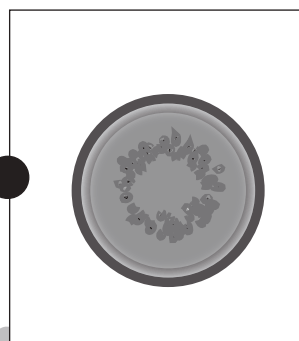


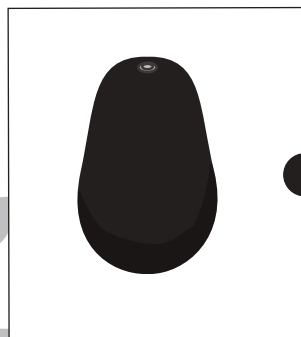

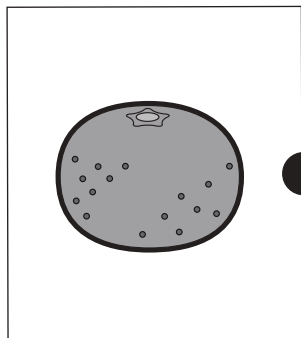
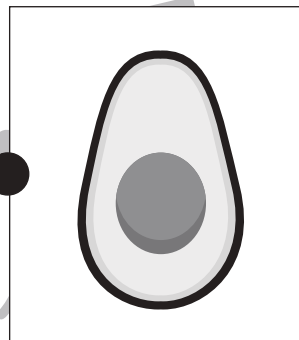



おうちで、やろう。

Study at home. 小学校受験の家庭学習教材

常識：果物6

左の四角の中の果物を半分に切ったときの見え方を考えて点と点を線で結びます。



※1. このプリントは、しながわ・目黒こどもスクールのウェブサイトでダウンロードができます。無断複写・引用はご遠慮ください。
※2. このプリントを活用したオンライン授業のスケジュールは、しながわ・目黒こどもスクールのウェブサイトでご確認ください。



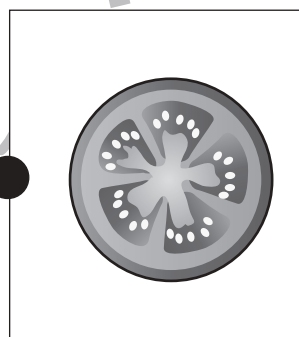
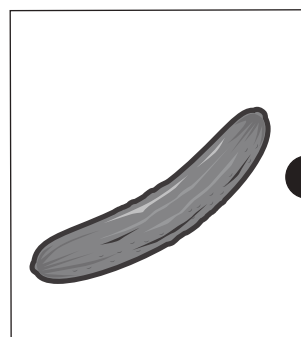
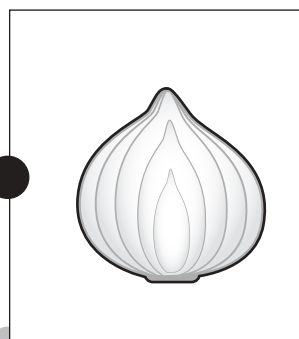
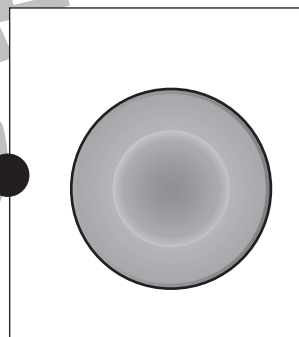
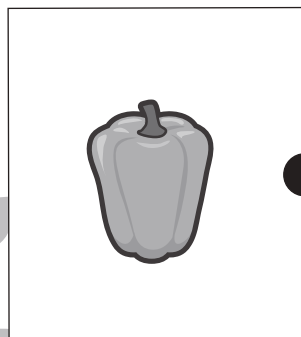
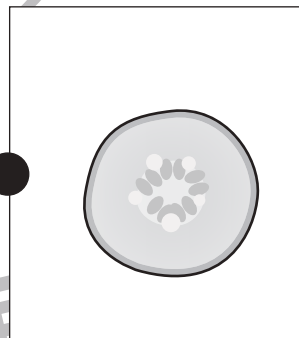
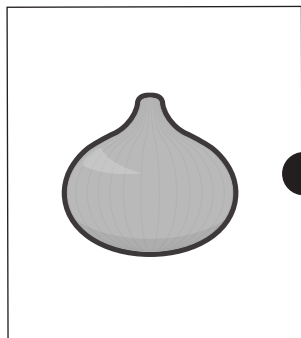
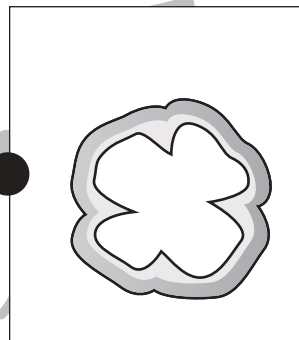



おうちで、やろう。

Study at home. 小学校受験の家庭学習教材

常識：野菜1

左の四角の中の野菜を半分に切ったときの見え方を考えて点と点を線で結びます。



※1. このプリントは、しながわ・目黒こどもスクールのウェブサイトでダウンロードができます。無断複写・引用はご遠慮ください。

※2. このプリントを活用したオンライン授業のスケジュールは、しながわ・目黒こどもスクールのウェブサイトでご確認ください。



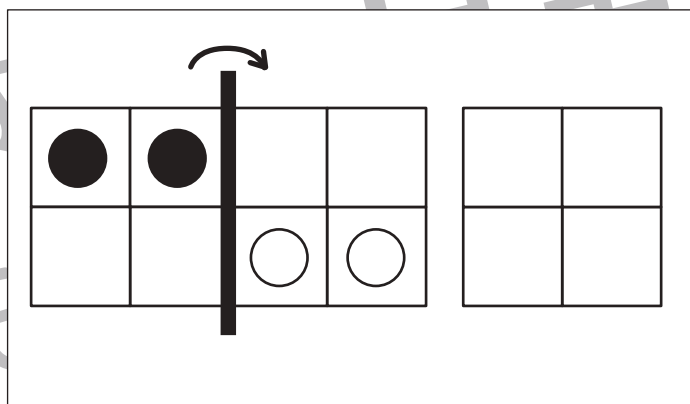
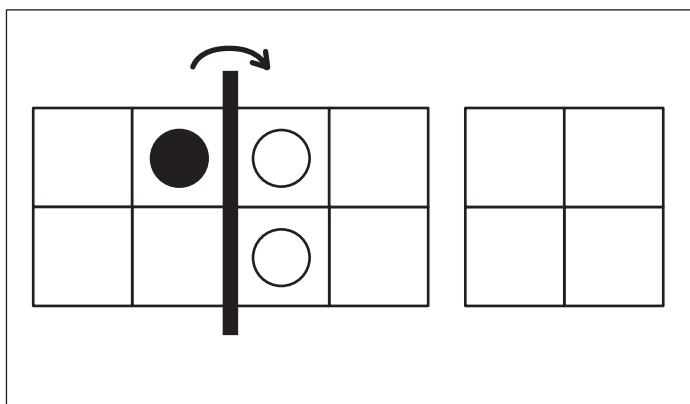
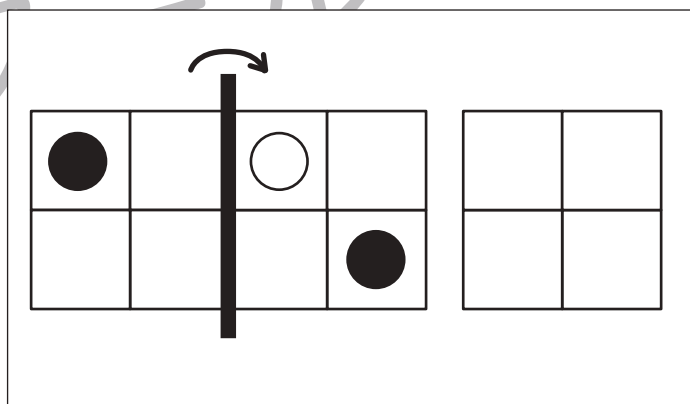
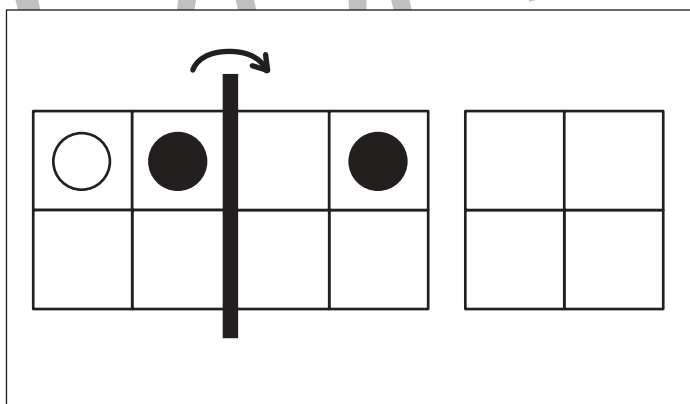
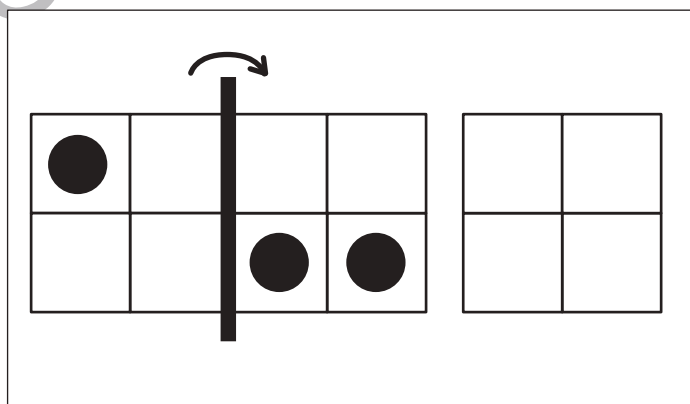
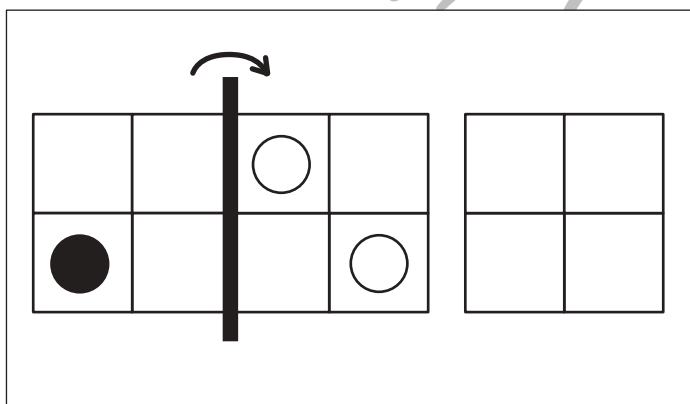
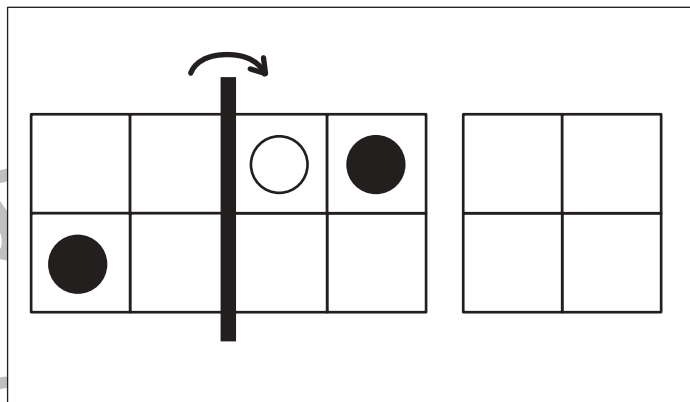
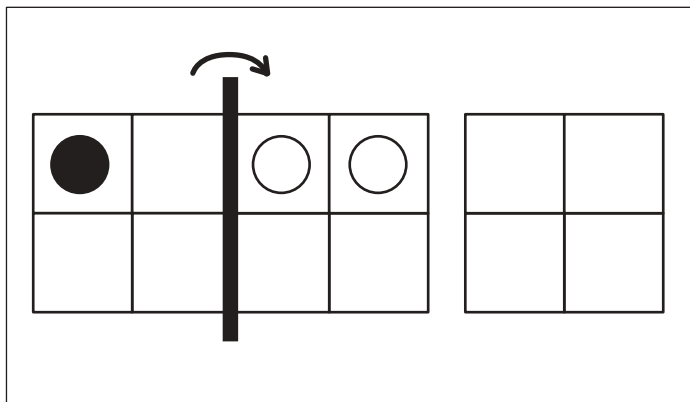


おうちで、やろう。

Study at home. 小学校受験の家庭学習教材

図形：折り重ね 17

左の四角を真ん中の太い線で矢印の方向へ折り重ねた時の見え方を考えて、一番右の四角にかきます。



※1. このプリントは、しながわ・目黒こどもスクールのウェブサイトでダウンロードができます。無断複写・引用はご遠慮ください。
 ※2. このプリントを活用したオンライン授業のスケジュールは、しながわ・目黒こどもスクールのウェブサイトでご確認ください。

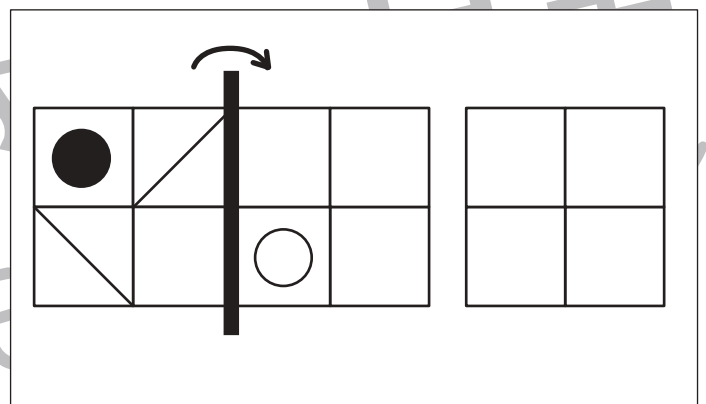
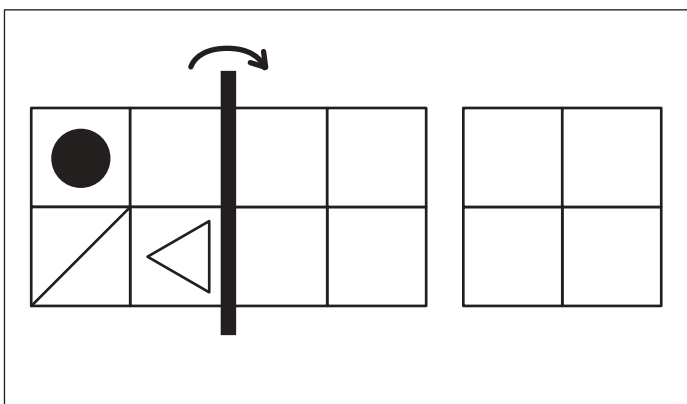
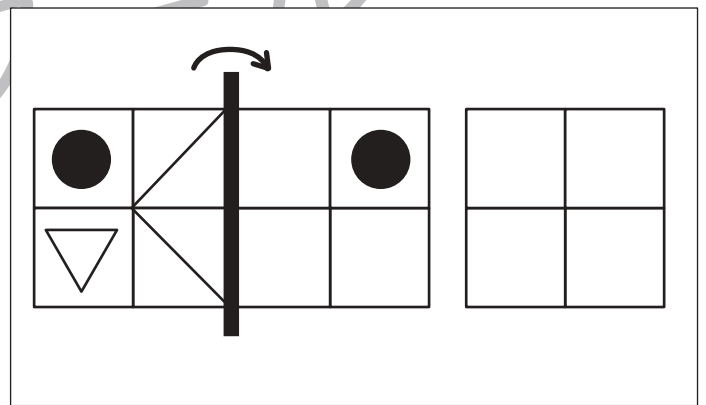
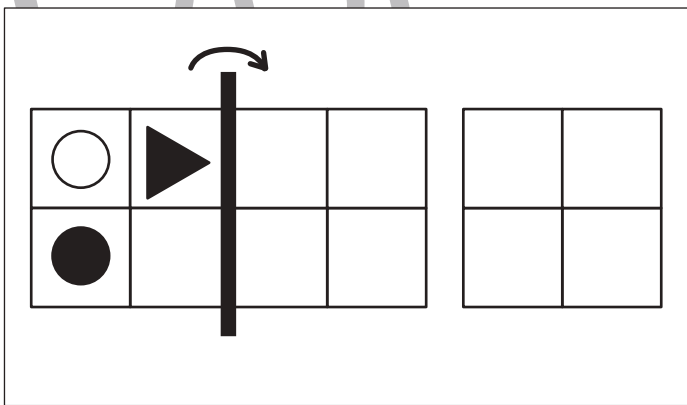
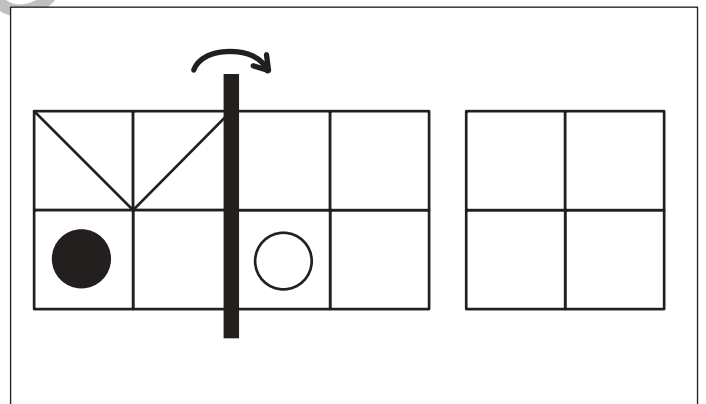
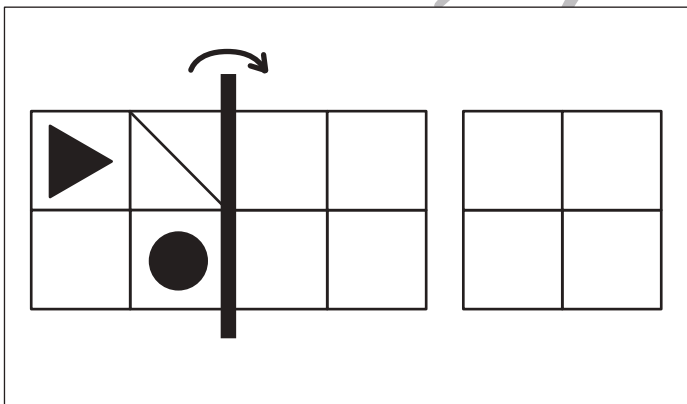
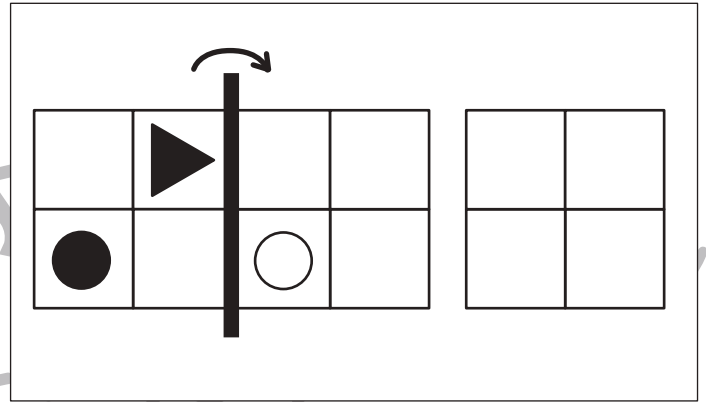
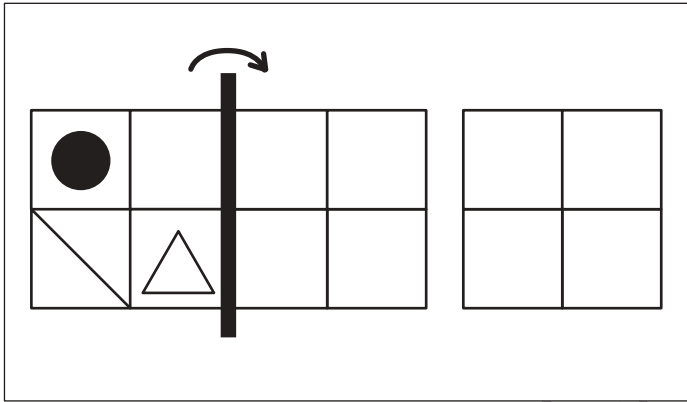


おうちで、やろう。

Study at home. 小学校受験の家庭学習教材

図形：折り重ね 18

左の四角を真ん中の太い線で矢印の方向へ折り重ねた時の見え方を考えて、一番右の四角にかきます。



※1. このプリントは、しながわ・目黒こどもスクールのウェブサイトでダウンロードができます。無断複写・引用はご遠慮ください。
 ※2. このプリントを活用したオンライン授業のスケジュールは、しながわ・目黒こどもスクールのウェブサイトでご確認ください。



おうちで、やろう。

Study at home. 小学校受験の家庭学習教材

推理：系列完成9

それぞれの絵がある順番通りに並んでいます。空いている四角には何の絵が入るか考えて、吹き出しの中から選んで○をつけます。

吹き出し:

--	--	--	--	--	--	--	--	--

吹き出し:

--	--	--	--	--	--	--	--	--

吹き出し:

--	--	--	--	--	--	--	--	--

※1. このプリントは、しながわ・目黒こどもスクールのウェブサイトでダウンロードができます。無断複写・引用はご遠慮ください。

※2. このプリントを活用したオンライン授業のスケジュールは、しながわ・目黒こどもスクールのウェブサイトでご確認ください。




おうちで、やろう。

Study at home. 小学校受験の家庭学習教材

数量：置き換え9

上の四角が約束です。それぞれの野菜を買うには真ん中の四角の中にあるタンポポとクローバーが必要です。全てタンポポで野菜を買うには何本必要か考えて、その数だけ一番右の四角に○をかきます。



①			
②			
③			
④			

※1. このプリントは、しながわ・目黒こどもスクールのウェブサイトでダウンロードができます。無断複写・引用はご遠慮ください。

※2. このプリントを活用したオンライン授業のスケジュールは、しながわ・目黒こどもスクールのウェブサイトでご確認ください。




おうちで、やろう。

Study at home. 小学校受験の家庭学習教材

数量：置き換え 10

上の四角が約束です。それぞれの野菜を買うには真ん中の四角の中にタンポポとクローバーが必要です。全てタンポポで野菜を買うには何本必要か考えて、その数だけ一番右の四角に○をかきます。



①			
②			
③			
④			

※1. このプリントは、しながわ・目黒こどもスクールのウェブサイトでダウンロードができます。無断複写・引用はご遠慮ください。

※2. このプリントを活用したオンライン授業のスケジュールは、しながわ・目黒こどもスクールのウェブサイトでご確認ください。





おうちで、やろう。

Study at home. 小学校受験の家庭学習教材

運筆：塗り4

- ①梅の花を桃色のクーピーで塗ります。
 - ②梅の花の雄しべを黄色のクーピーで塗ります。
 - ③ひし餅の1段目を桃色、3段目を緑色のクーピーで塗ります。
 - ④ひし餅の皿を黒のクーピーで塗ります。
- ※塗るときは線からはみ出ないようにしましょう。
※この問題に答えはありません。

しながわ・目黒



※1. このプリントは、しながわ・目黒こどもスクールのウェブサイトでダウンロードができます。無断複写・引用はご遠慮ください。
※2. このプリントを活用したオンライン授業のスケジュールは、しながわ・目黒こどもスクールのウェブサイトでご確認ください。