


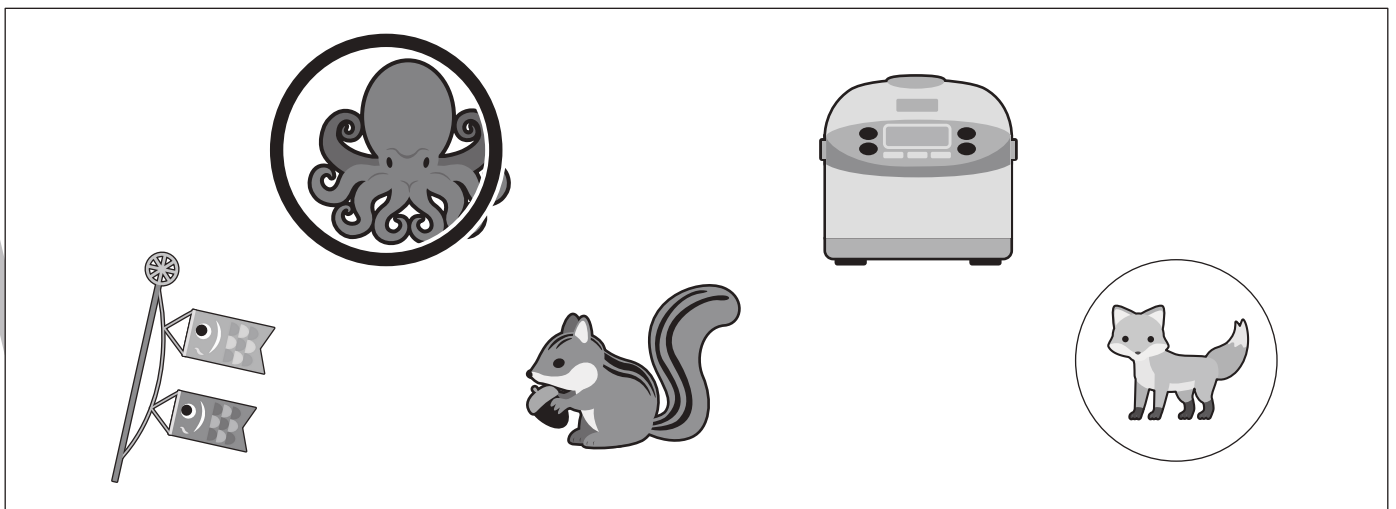



おうちで、やろう。

Study at home. 小学校受験の家庭学習教材

言語：しりとり 12

四角の中の絵をしりとりでつなぎます。○の中の絵が最後になるようにつなぐとき、一番初めの絵に○をつけます。



※1. このプリントは、しながわ・目黒こどもスクールのウェブサイトでダウンロードができます。無断複写・引用はご遠慮ください。

※2. このプリントを活用したオンライン授業のスケジュールは、しながわ・目黒こどもスクールのウェブサイトでご確認ください。



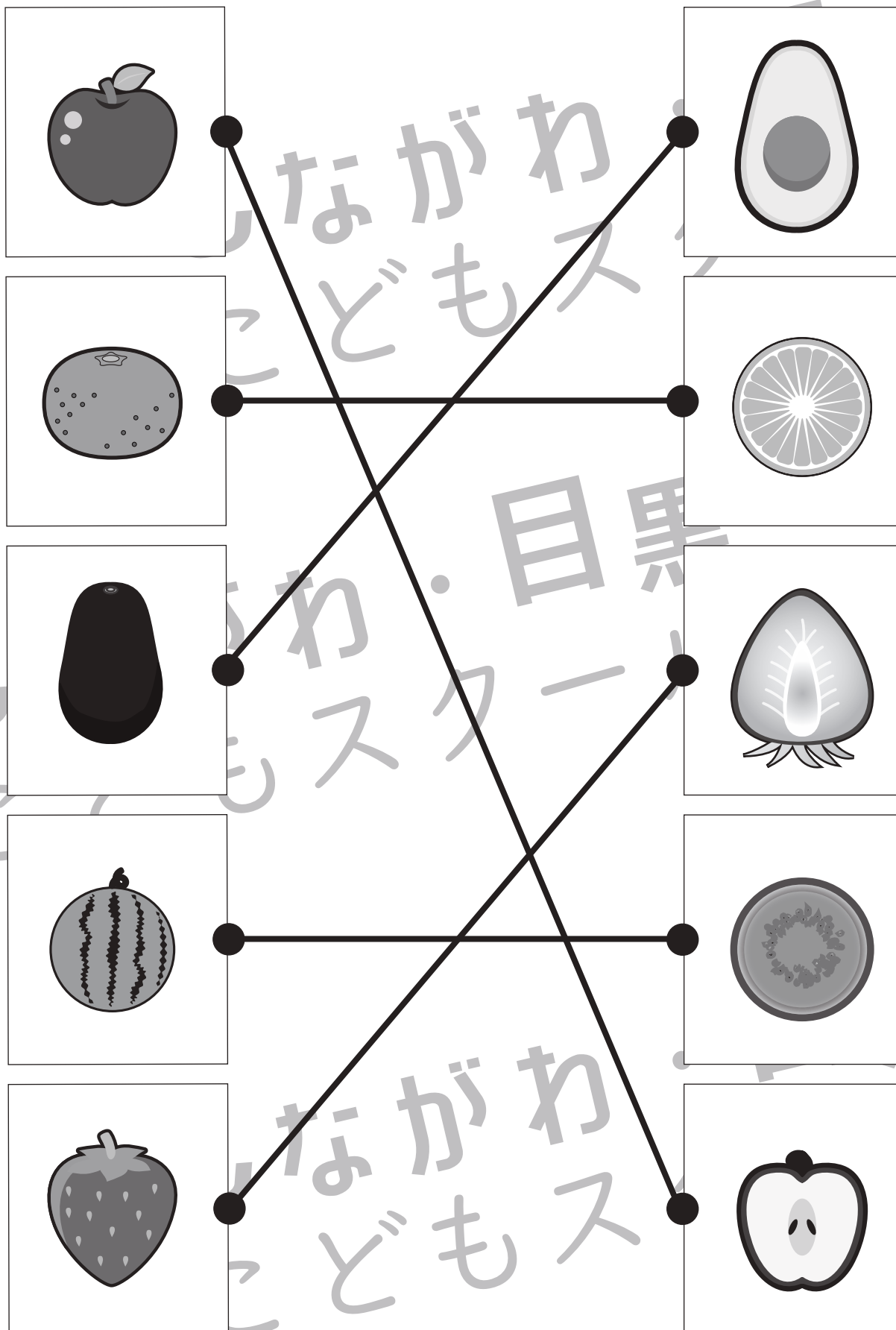


おうちで、やろう。

Study at home. 小学校受験の家庭学習教材

常識：果物6

左の四角の中の果物を半分に切ったときの見え方を考えて点と点を線で結びます。



※1. このプリントは、しながわ・目黒こどもスクールのウェブサイトでダウンロードができます。無断複写・引用はご遠慮ください。

※2. このプリントを活用したオンライン授業のスケジュールは、しながわ・目黒こどもスクールのウェブサイトでご確認ください。

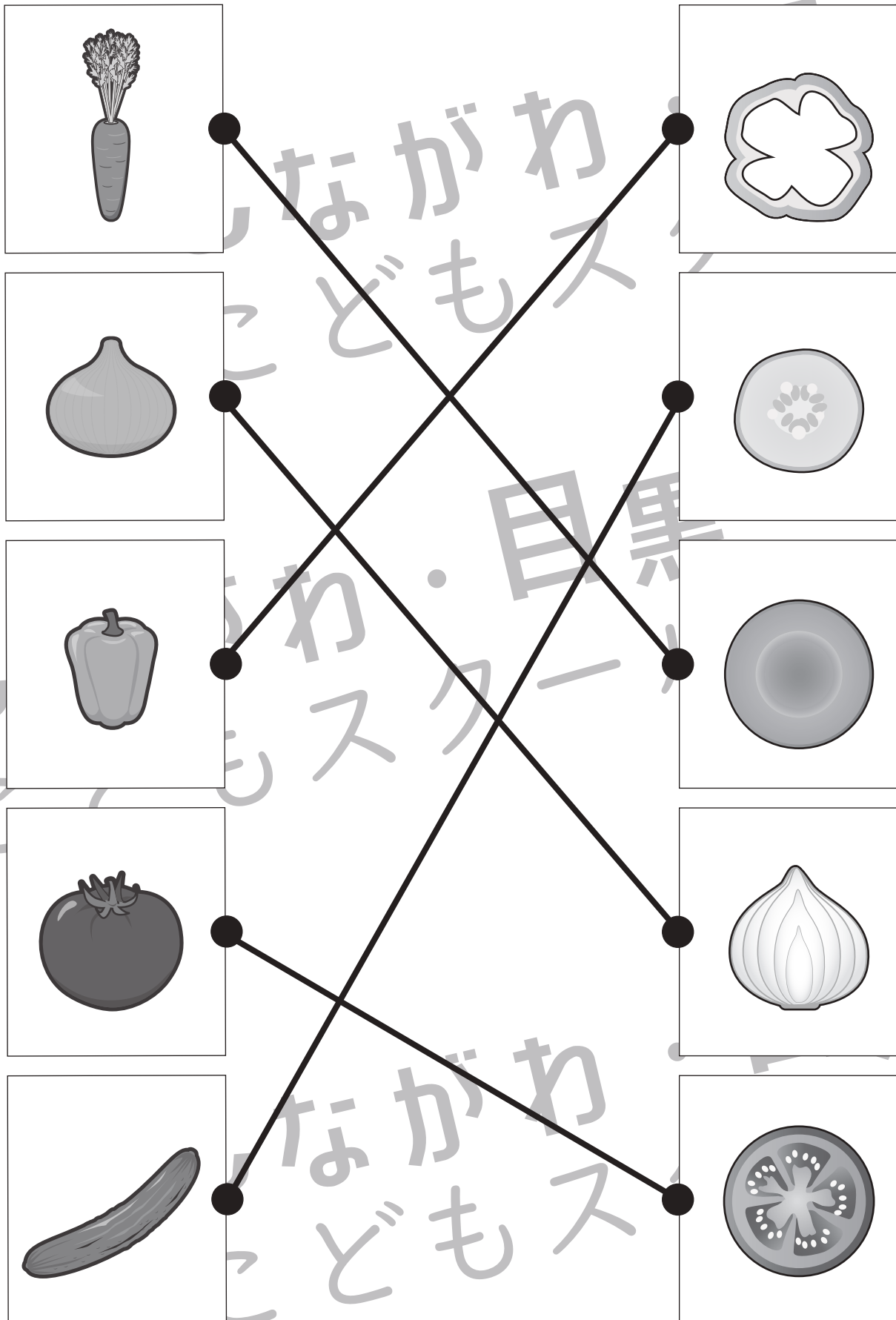


おうちで、やろう。

Study at home. 小学校受験の家庭学習教材

常識：野菜1

左の四角の中の野菜を半分に切ったときの見え方を考えて点と点を線で結びます。



※1. このプリントは、しながわ・目黒こどもスクールのウェブサイトでダウンロードができます。無断複写・引用はご遠慮ください。

※2. このプリントを活用したオンライン授業のスケジュールは、しながわ・目黒こどもスクールのウェブサイトでご確認ください。

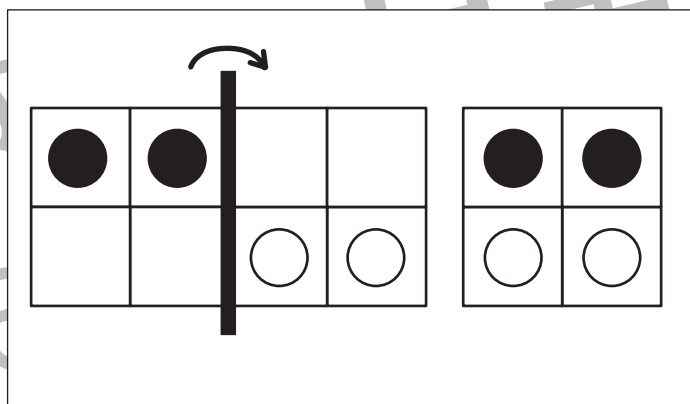
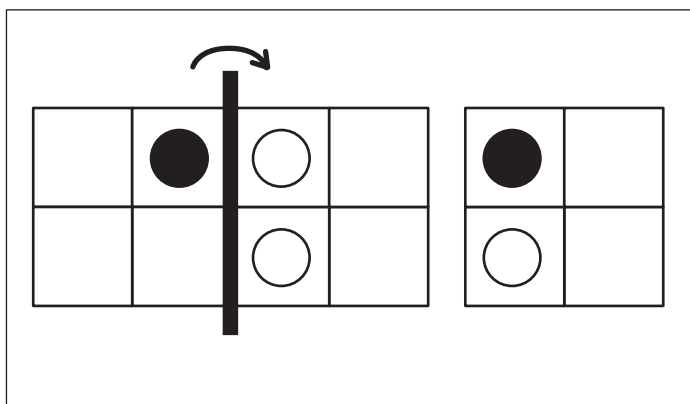
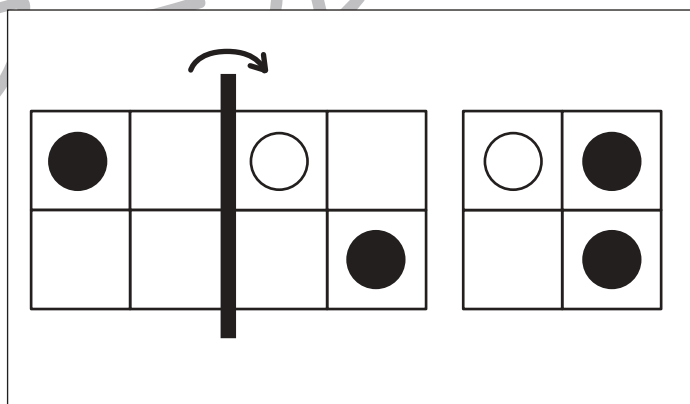
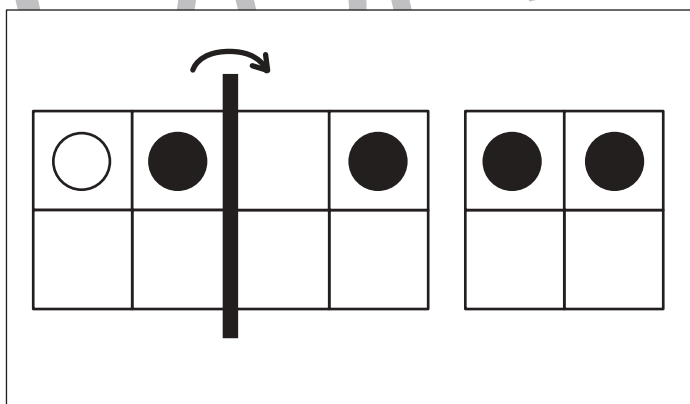
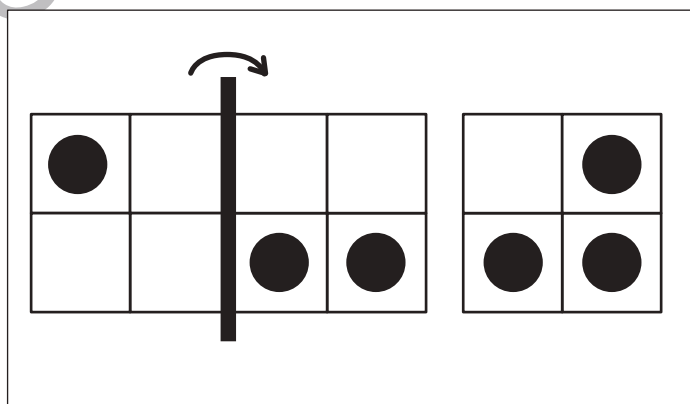
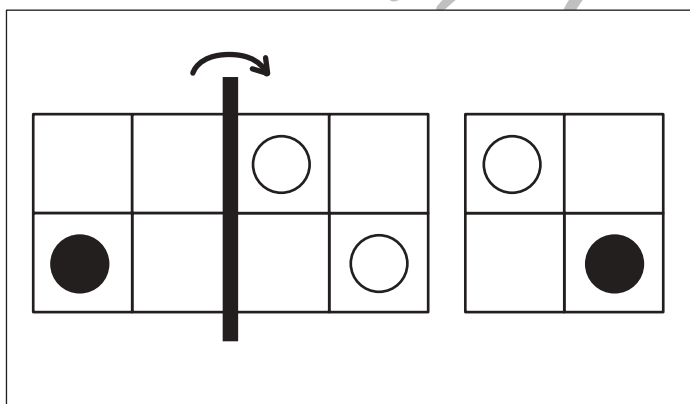
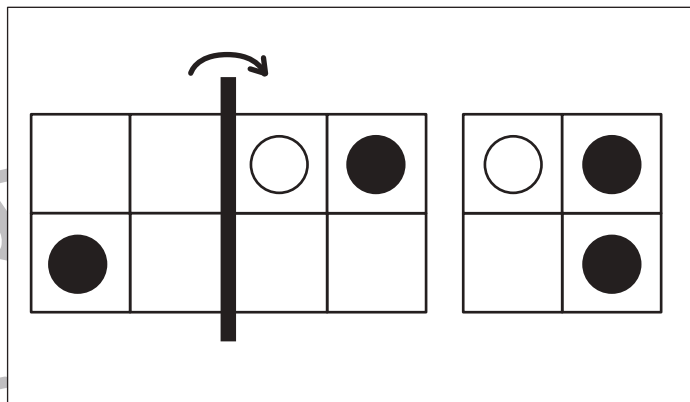
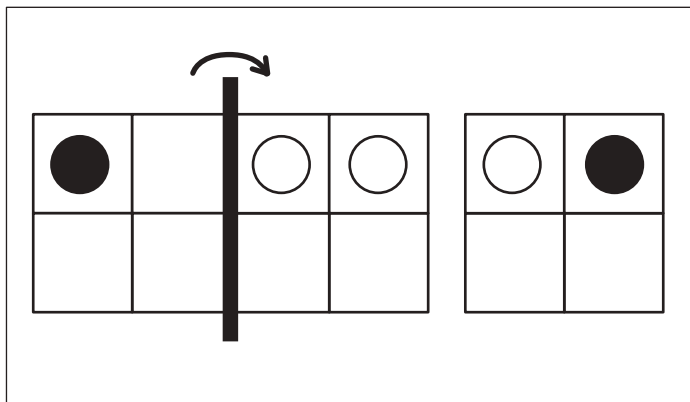


おうちで、よろう。

Study at home. 小学校受験の家庭学習教材

図形：折り重ね 17

左の四角を真ん中の太い線で矢印の方向へ折り重ねた時の見え方を考えて、一番右の四角にかきます。



※1. このプリントは、しながわ・目黒こどもスクールのウェブサイトでダウンロードができます。無断複写・引用はご遠慮ください。
 ※2. このプリントを活用したオンライン授業のスケジュールは、しながわ・目黒こどもスクールのウェブサイトでご確認ください。

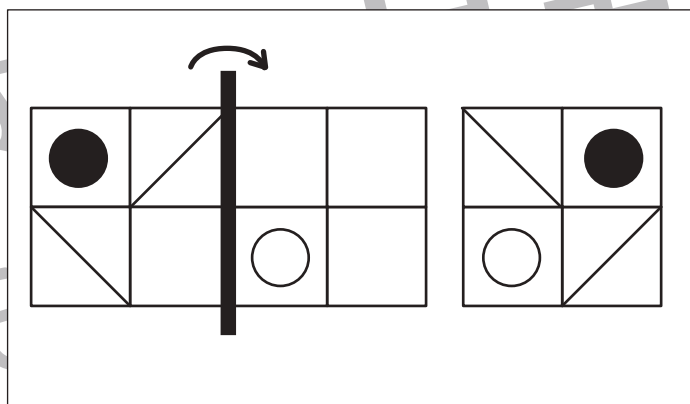
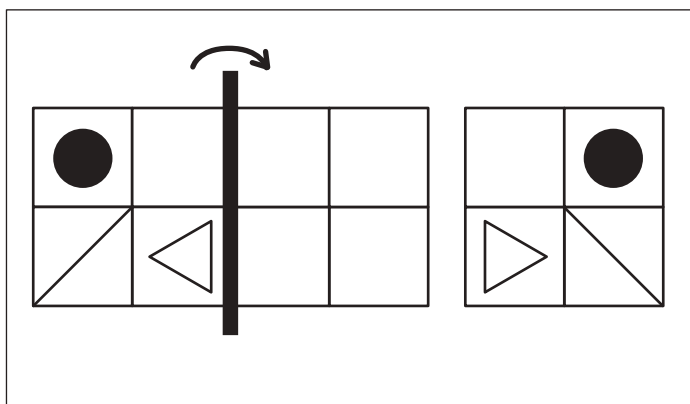
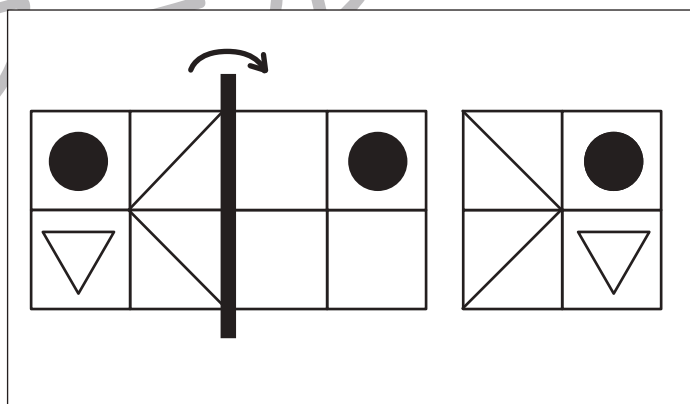
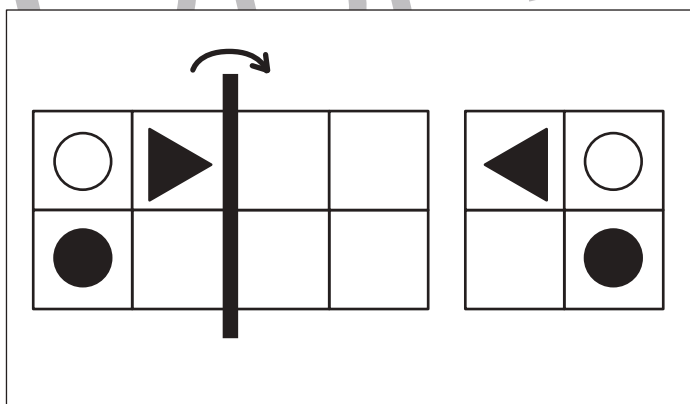
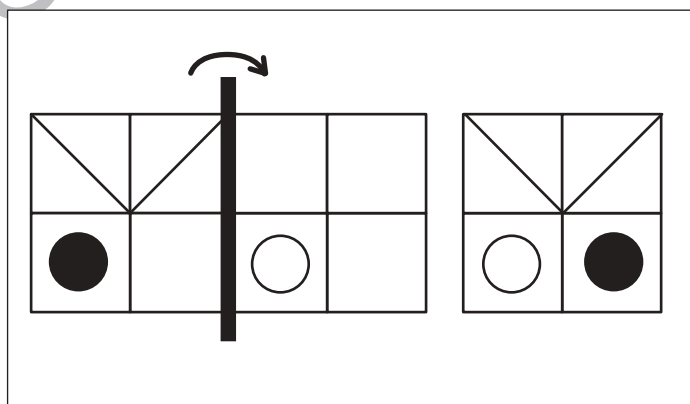
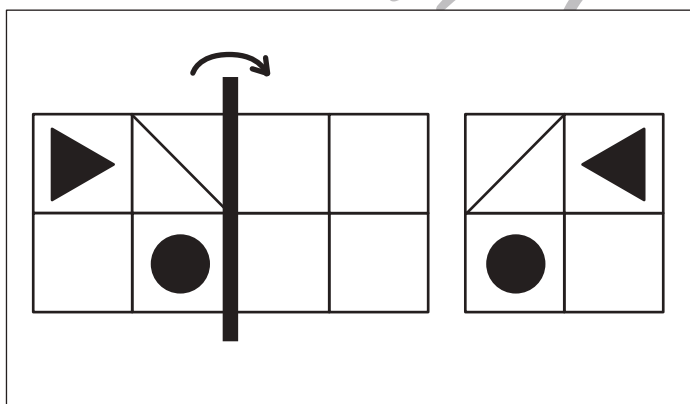
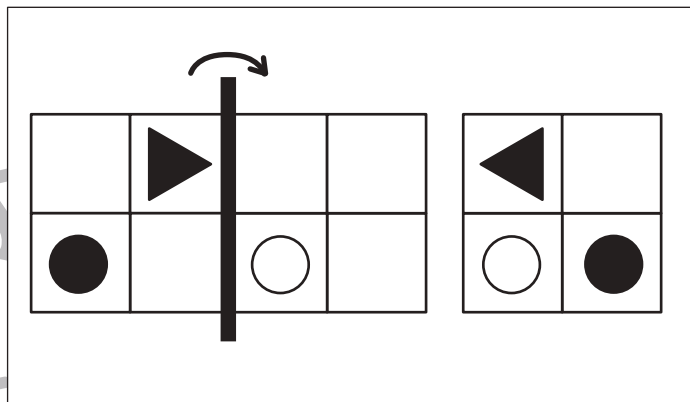
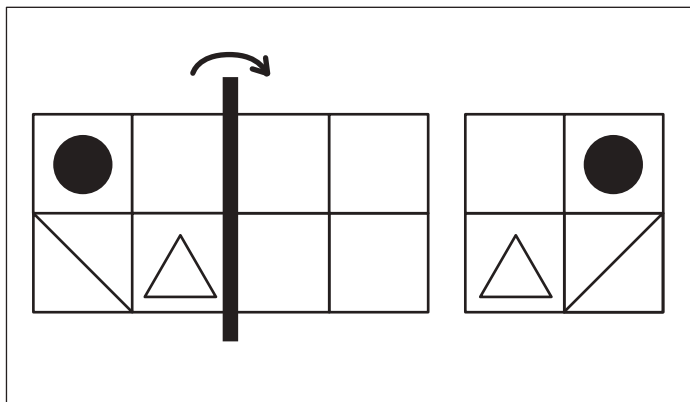


おうちで、よろう。

Study at home. 小学校受験の家庭学習教材

図形：折り重ね 18

左の四角を真ん中の太い線で矢印の方向へ折り重ねた時の見え方を考えて、一番右の四角にかきます。



※1. このプリントは、しながわ・目黒こどもスクールのウェブサイトでダウンロードができます。無断複写・引用はご遠慮ください。
 ※2. このプリントを活用したオンライン授業のスケジュールは、しながわ・目黒こどもスクールのウェブサイトでご確認ください。



おうちで、やろう。

Study at home. 小学校受験の家庭学習教材

推理：系列完成9

それぞれの絵がある順番通りに並んでいます。空いている四角には何の絵が入るか考えて、吹き出しの中から選んで○をつけます。

吹き出し:

--	--	--	--	--	--	--	--	--

吹き出し1: (Orange is circled)

吹き出し2: (Orange is circled)

--	--	--	--	--	--	--	--	--

吹き出し1: (Pineapple is circled)

吹き出し2: (Orange is circled)

--	--	--	--	--	--	--	--	--

※1. このプリントは、しながわ・目黒こどもスクールのウェブサイトでダウンロードができます。無断複写・引用はご遠慮ください。

※2. このプリントを活用したオンライン授業のスケジュールは、しながわ・目黒こどもスクールのウェブサイトでご確認ください。




おうちで、やろう。



Study at home. 小学校受験の家庭学習教材

数量：置き換え9



上の四角が約束です。それぞれの野菜を買うには真ん中の四角の中にあるタンポポとクローバーが必要です。全てタンポポで野菜を買うには何本必要か考えて、その数だけ一番右の四角に○をかきます。





①





②



③



④



※1. このプリントは、しながわ・目黒こどもスクールのウェブサイトでダウンロードができます。無断複写・引用はご遠慮ください。

※2. このプリントを活用したオンライン授業のスケジュールは、しながわ・目黒こどもスクールのウェブサイトでご確認ください。






おうちで、やろう。



Study at home. 小学校受験の家庭学習教材

数量：置き換え 10



上の四角が約束です。それぞれの野菜を買うには真ん中の四角の中にタンポポとクローバーが必要です。全てタンポポで野菜を買うには何本必要か考えて、その数だけ一番右の四角に○をかきます。




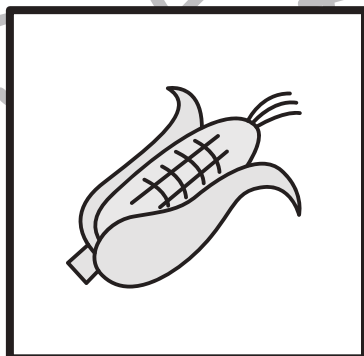
①





②



③



④



※1. このプリントは、しながわ・目黒こどもスクールのウェブサイトでダウンロードができます。無断複写・引用はご遠慮ください。

※2. このプリントを活用したオンライン授業のスケジュールは、しながわ・目黒こどもスクールのウェブサイトでご確認ください。

