




# おうちで、やろう。

Study at home. 小学校受験の家庭学習教材


言語：音の理解 14

- ①「あ・い・う・え・お」が音の中に入っている絵を四角の中から探して○をつけます。
- ②「ま・み・む・め・も」が音の中に入っている絵を四角の中から探して○をつけます。
- ③「さ・し・す・せ・そ」が音の中に入っている絵を四角の中から探して○をつけます。
- ④「ら・り・る・れ・ろ」が音の中に入っている絵を四角の中から探して○をつけます。
- ⑤「ば・び・ぶ・べ・ぼ」が音の中に入っている絵を四角の中から探して○をつけます。

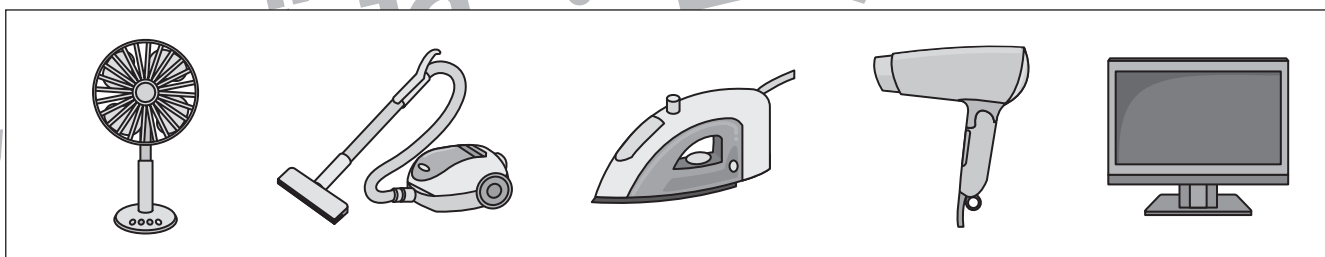
①




②



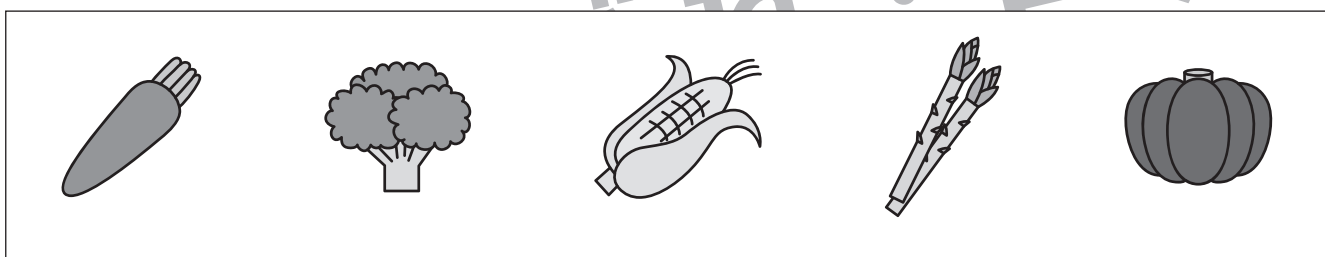
③



④



⑤



※1. このプリントは、しながわ・目黒こどもスクールのウェブサイトでダウンロードができます。無断複写・引用はご遠慮ください。  
 ※2. このプリントを活用したオンライン授業のスケジュールは、しながわ・目黒こどもスクールのウェブサイトでご確認ください。



# おうちで、やろう。

Study at home. 小学校受験の家庭学習教材

## 図形：折り重ね 19

左の四角を真ん中の太い線で矢印の方向へ折り重ねた時の見え方を考えて、一番右の四角にかきます。

The exercise consists of eight panels arranged in a 4x2 grid. Each panel shows a 4x8 grid of dots with a vertical line in the center and an arrow pointing to the right. The left side of the grid shows a shape to be folded over the line. The right side shows the resulting shape after folding.

- Row 1, Left: A shape starting at (1,1), going down to (4,1), then right to (4,4), and up to (1,4).
- Row 1, Right: The shape after folding, now on the right side of the line.
- Row 2, Left: A square shape from (1,1) to (4,4).
- Row 2, Right: The square after folding, now on the right side of the line.
- Row 3, Left: A shape starting at (1,1), going down to (2,1), then right to (2,4), and down to (2,4).
- Row 3, Right: The shape after folding, now on the right side of the line.
- Row 4, Left: A shape starting at (1,4), going down to (4,4), then left to (4,1), and up to (1,1).
- Row 4, Right: The shape after folding, now on the right side of the line.

※1. このプリントは、しながわ・目黒こどもスクールのウェブサイトでダウンロードができます。無断複写・引用はご遠慮ください。  
 ※2. このプリントを活用したオンライン授業のスケジュールは、しながわ・目黒こどもスクールのウェブサイトでご確認ください。



# おうちで、やろう。

Study at home. 小学校受験の家庭学習教材

## 図形：折り重ね 20

左の四角を真ん中の太い線で矢印の方向へ折り重ねた時の見え方を考えて、一番右の四角にかきます。

※1. このプリントは、しながわ・目黒こどもスクールのウェブサイトでダウンロードができます。無断複写・引用はご遠慮ください。  
 ※2. このプリントを活用したオンライン授業のスケジュールは、しながわ・目黒こどもスクールのウェブサイトでご確認ください。



# おうちで、よろう。

Study at home. 小学校受験の家庭学習教材

## 推理：四方観察 6

左の太い四角の積み木を矢印の方から見たときの見え方を考えて右の四角の積み木に○をつけます。


※1. このプリントは、しながわ・目黒こどもスクールのウェブサイトでダウンロードができます。無断複写・引用はご遠慮ください。  
 ※2. このプリントを活用したオンライン授業のスケジュールは、しながわ・目黒こどもスクールのウェブサイトでご確認ください。



# おうちで、やろう。

Study at home. 小学校受験の家庭学習教材

## 推理：四方観察 7

左の太い四角の積み木を矢印の方から見たときの見え方を考えて右の四角の積み木に○をつけます。


※1. このプリントは、しながわ・目黒こどもスクールのウェブサイトでダウンロードができます。無断複写・引用はご遠慮ください。

※2. このプリントを活用したオンライン授業のスケジュールは、しながわ・目黒こどもスクールのウェブサイトでご確認ください。

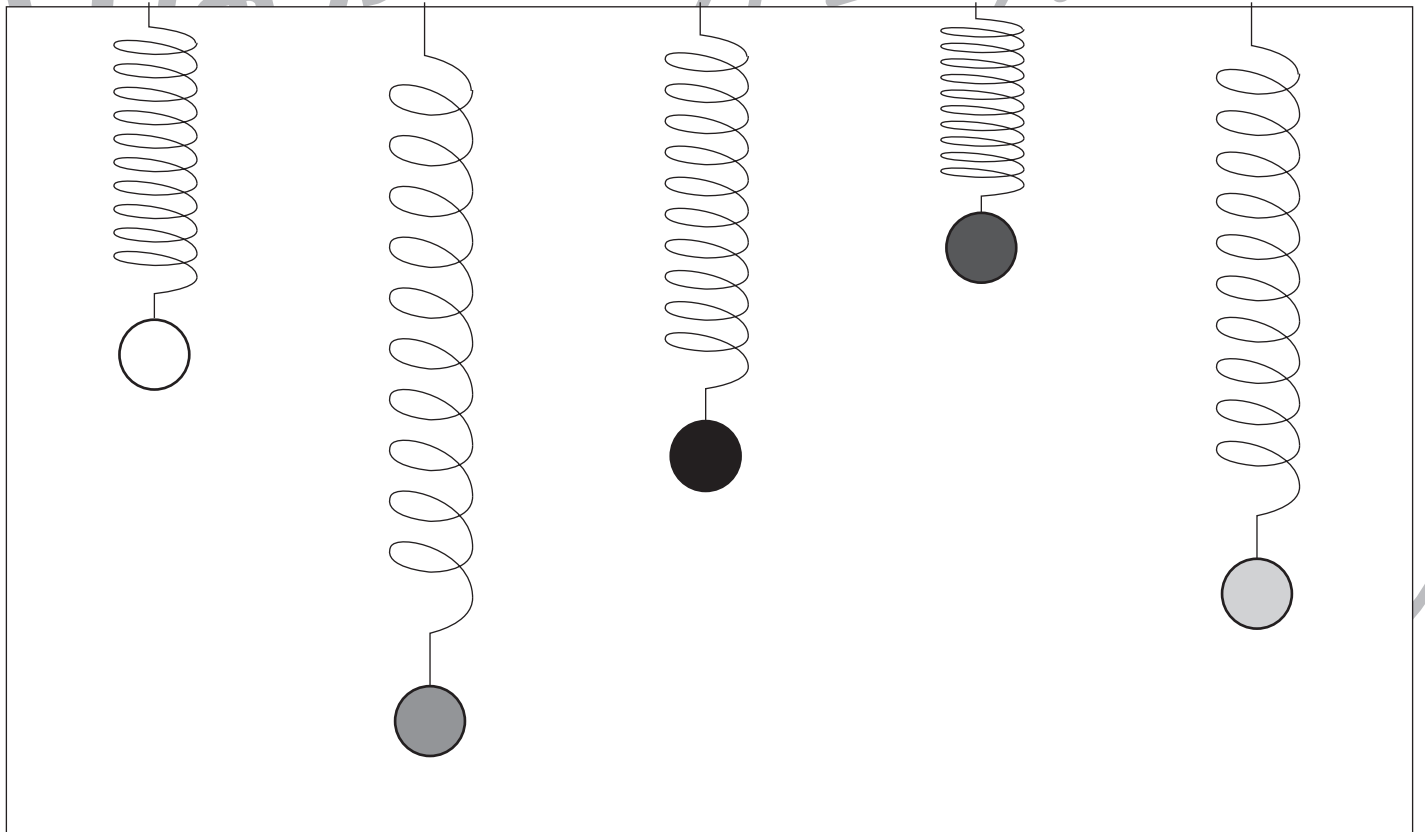
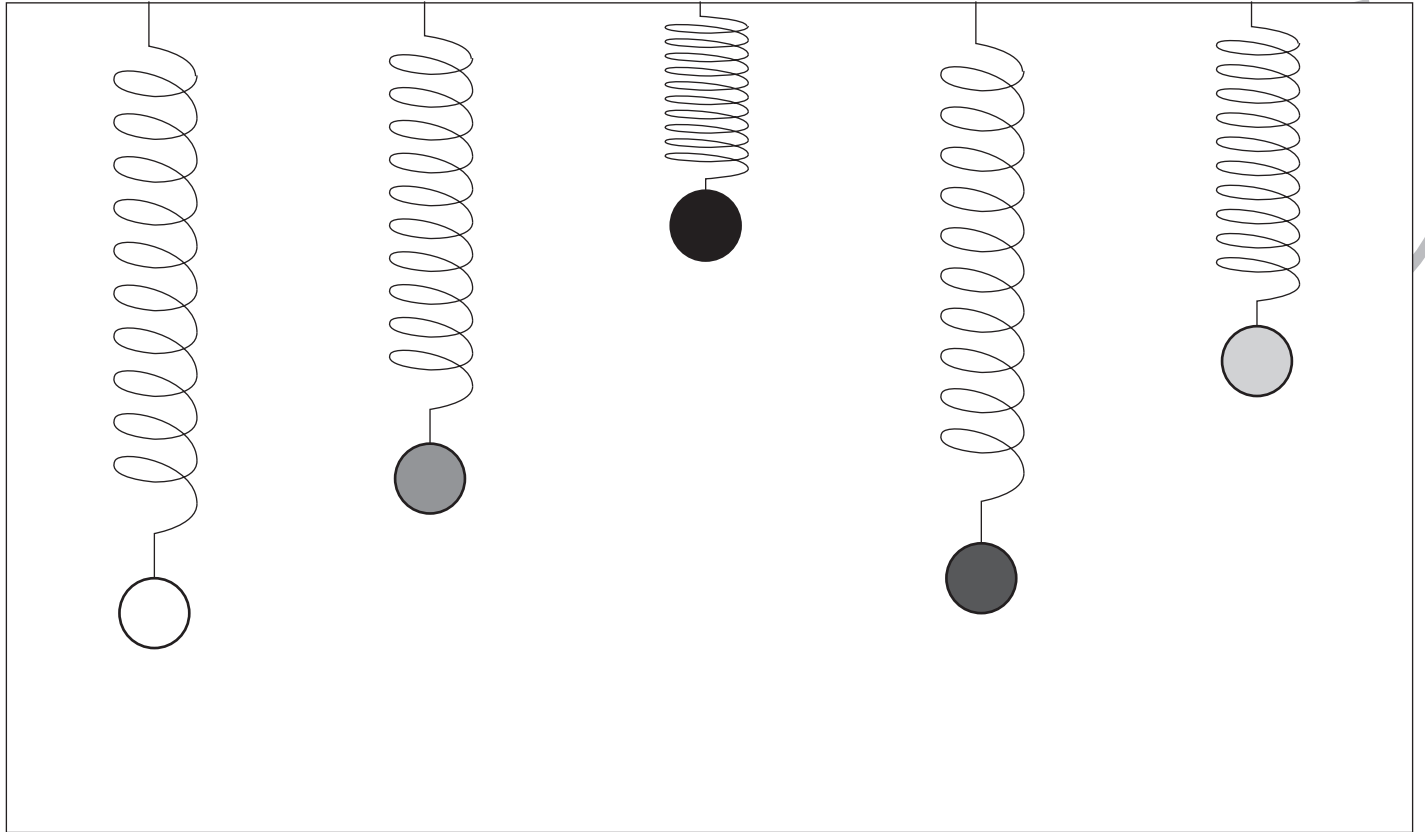


# おうちで、やろう。

Study at home. 小学校受験の家庭学習教材

推理：重さ7

バネを使って重さ比べをしました。一番軽いボールに○、一番重いボールに×をつけます。



※1. このプリントは、しながわ・目黒こどもスクールのウェブサイトでダウンロードができます。無断複写・引用はご遠慮ください。  
 ※2. このプリントを活用したオンライン授業のスケジュールは、しながわ・目黒こどもスクールのウェブサイトでご確認ください。

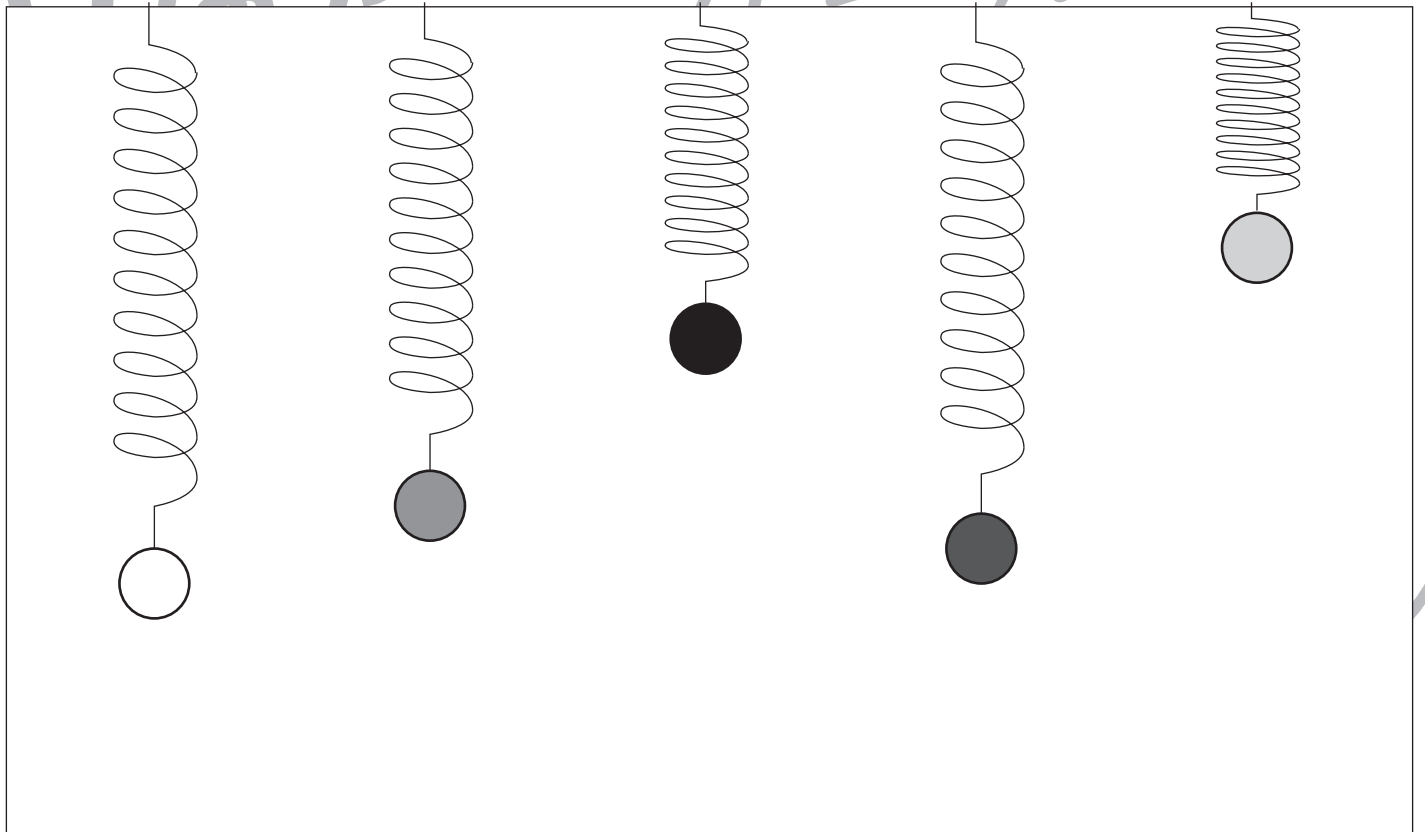
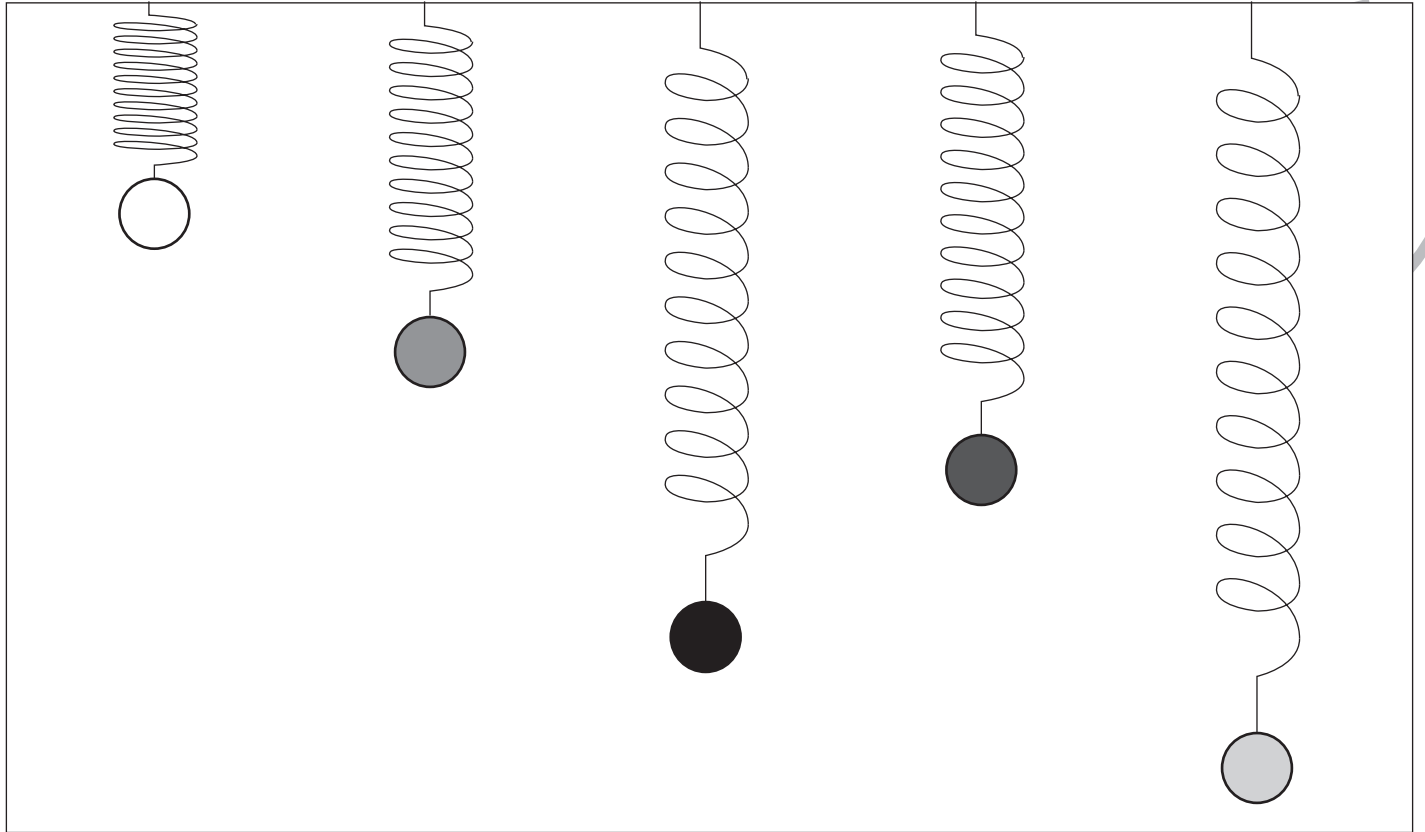


# おうちで、やろう。

Study at home. 小学校受験の家庭学習教材

推理：重さ8

バネを使って重さ比べをしました。二番目に軽いボールに○、二番目に重いボールに×をつけます。



※1. このプリントは、しながわ・目黒こどもスクールのウェブサイトでダウンロードができます。無断複写・引用はご遠慮ください。  
 ※2. このプリントを活用したオンライン授業のスケジュールは、しながわ・目黒こどもスクールのウェブサイトでご確認ください。



# おうちで、やろう。

Study at home. 小学校受験の家庭学習教材

数量：多少 11

横に並んだ 4 つの四角の中で灰色のマスが一番多い四角に○一番少ない四角に×をつけます。

--	--	--	--

--	--	--	--

--	--	--	--

--	--	--	--

※1. このプリントは、しながわ・目黒こどもスクールのウェブサイトでダウンロードができます。無断複写・引用はご遠慮ください。  
 ※2. このプリントを活用したオンライン授業のスケジュールは、しながわ・目黒こどもスクールのウェブサイトでご確認ください。





# おうちで、やろう。

Study at home. 小学校受験の家庭学習教材

数量：多少 12

横に並んだ 4 つの四角の中で灰色のマスが一番多い四角に○、二番少ない四角に×をつけます。

--	--	--	--

--	--	--	--

--	--	--	--

--	--	--	--

※1. このプリントは、しながわ・目黒こどもスクールのウェブサイトでダウンロードができます。無断複写・引用はご遠慮ください。  
 ※2. このプリントを活用したオンライン授業のスケジュールは、しながわ・目黒こどもスクールのウェブサイトでご確認ください。




# おうちで、やろう。


Study at home. 小学校受験の家庭学習教材

巧緻性：ちぎり9


- ①さくらの花びらを桃色、イチゴのヘタを緑色、実を赤色のクーピーで塗ります。
- ②下の細い線をはさみで切ります。
- ③太い線をちぎり、上の点線の場所にのりで貼ります。



さくら



いちご



※1. このプリントは、しながわ・目黒こどもスクールのウェブサイトからダウンロードができます。無断複写・引用はご遠慮ください。  
※2. このプリントを活用したオンライン授業のスケジュールは、しながわ・目黒こどもスクールのウェブサイトでご確認ください。