




おうちで、やろう。

Study at home. 小学校受験の家庭学習教材


言語：音の理解 14

- ①「あ・い・う・え・お」が音の中に入っている絵を四角の中から探して○をつけます。
- ②「ま・み・む・め・も」が音の中に入っている絵を四角の中から探して○をつけます。
- ③「さ・し・す・せ・そ」が音の中に入っている絵を四角の中から探して○をつけます。
- ④「ら・り・る・れ・ろ」が音の中に入っている絵を四角の中から探して○をつけます。
- ⑤「ば・び・ぶ・べ・ぼ」が音の中に入っている絵を四角の中から探して○をつけます。

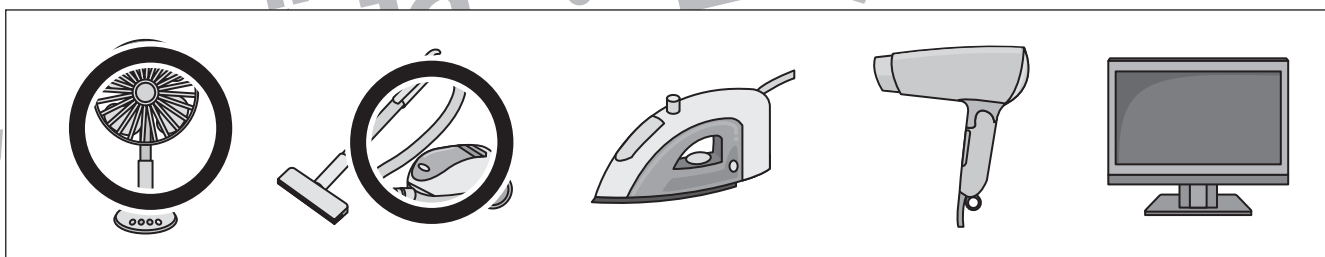
①



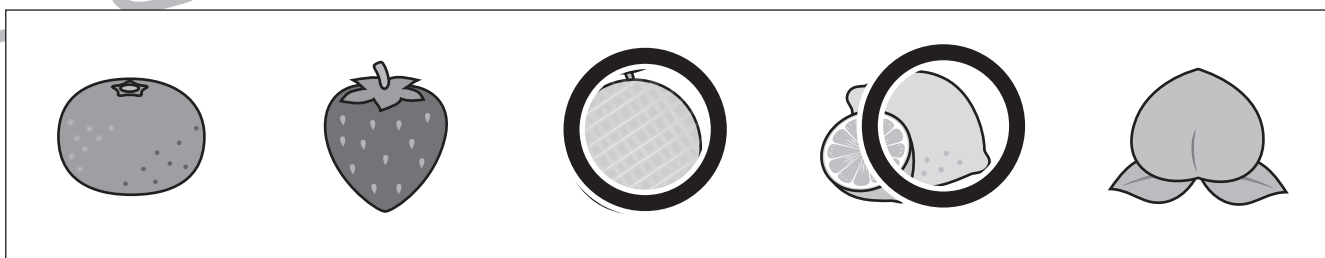
②



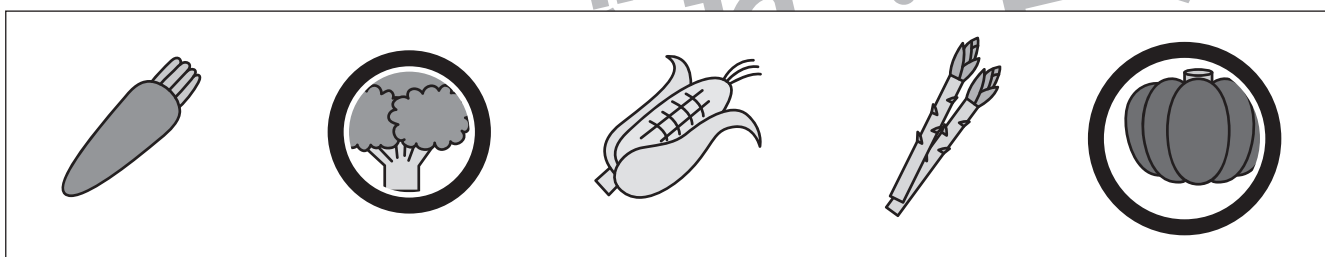
③



④



⑤



※1. このプリントは、しながわ・目黒こどもスクールのウェブサイトでダウンロードができます。無断複写・引用はご遠慮ください。
 ※2. このプリントを活用したオンライン授業のスケジュールは、しながわ・目黒こどもスクールのウェブサイトでご確認ください。

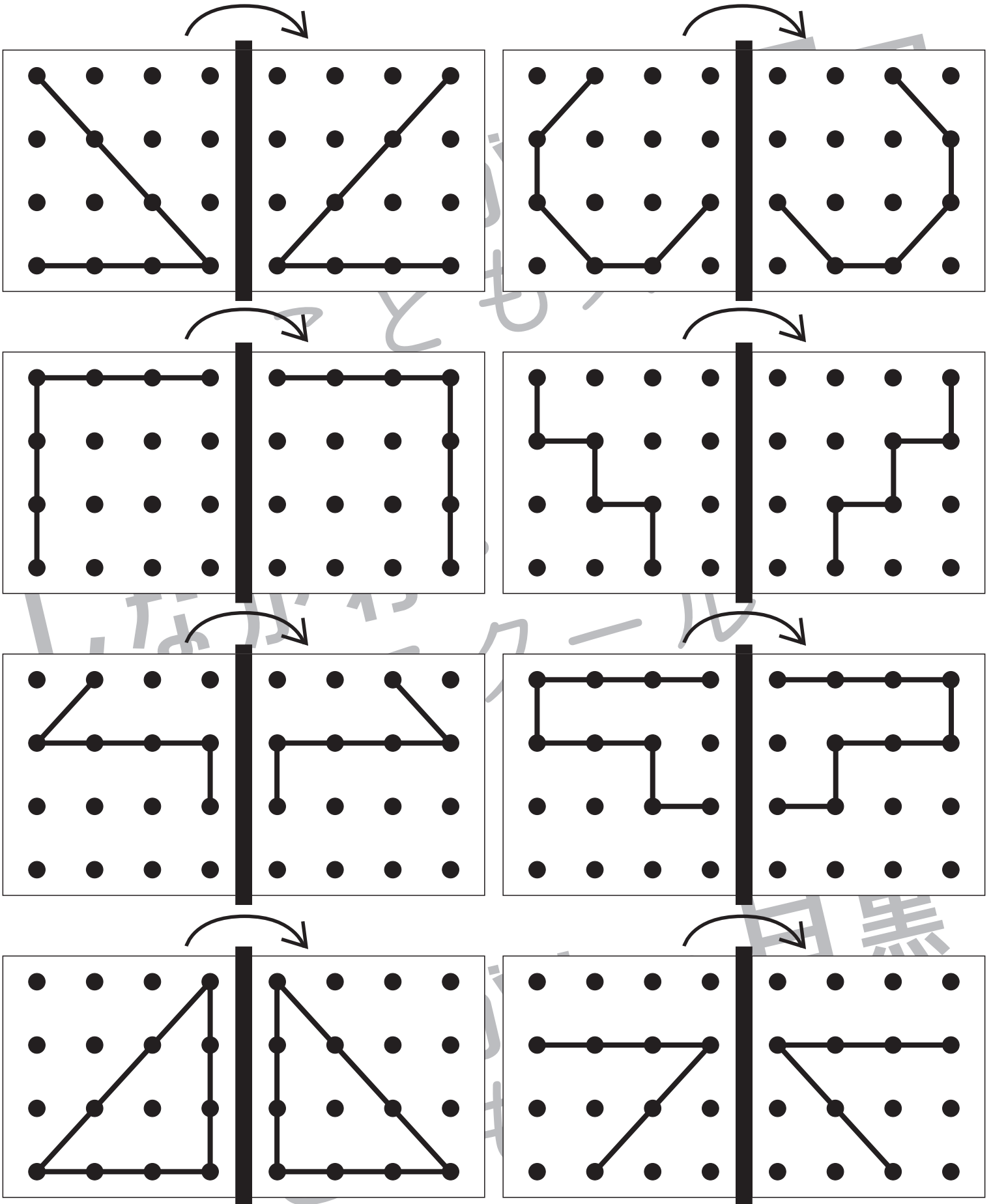


おうちで、やろう。

Study at home. 小学校受験の家庭学習教材

図形：折り重ね 19

左の四角を真ん中の太い線で矢印の方向へ折り重ねた時の見え方を考えて、一番右の四角にかきます。



※1. このプリントは、しながわ・目黒こどもスクールのウェブサイトからダウンロードできます。無断複写・引用はご遠慮ください。
 ※2. このプリントを活用したオンライン授業のスケジュールは、しながわ・目黒こどもスクールのウェブサイトでご確認ください。



おうちで、よろう。

Study at home. 小学校受験の家庭学習教材

図形：折り重ね 20

左の四角を真ん中の太い線で矢印の方向へ折り重ねた時の見え方を考えて、一番右の四角にかきます。

The puzzles are arranged in four rows and two columns. Each puzzle shows a 4x4 grid of dots with a vertical line in the center. Arrows above each grid indicate a fold from the left side towards the center. The puzzles show various geometric shapes and patterns that are partially obscured by the fold line.

※1. このプリントは、しながわ・目黒こどもスクールのウェブサイトでダウンロードができます。無断複写・引用はご遠慮ください。
 ※2. このプリントを活用したオンライン授業のスケジュールは、しながわ・目黒こどもスクールのウェブサイトでご確認ください。



おうちで、やろう。

Study at home. 小学校受験の家庭学習教材

推理：四方観察 6

左の太い四角の積み木を矢印の方から見たときの見え方を考えて右の四角の積み木に○をつけます。

※1. このプリントは、しながわ・目黒こどもスクールのウェブサイトでダウンロードができます。無断複写・引用はご遠慮ください。

※2. このプリントを活用したオンライン授業のスケジュールは、しながわ・目黒こどもスクールのウェブサイトでご確認ください。



おうちで、やろう。

Study at home. 小学校受験の家庭学習教材

推理：四方観察 7

左の太い四角の積み木を矢印の方から見たときの見え方を考えて右の四角の積み木に○をつけます。

※1. このプリントは、しながわ・目黒こどもスクールのウェブサイトでダウンロードができます。無断複写・引用はご遠慮ください。

※2. このプリントを活用したオンライン授業のスケジュールは、しながわ・目黒こどもスクールのウェブサイトでご確認ください。

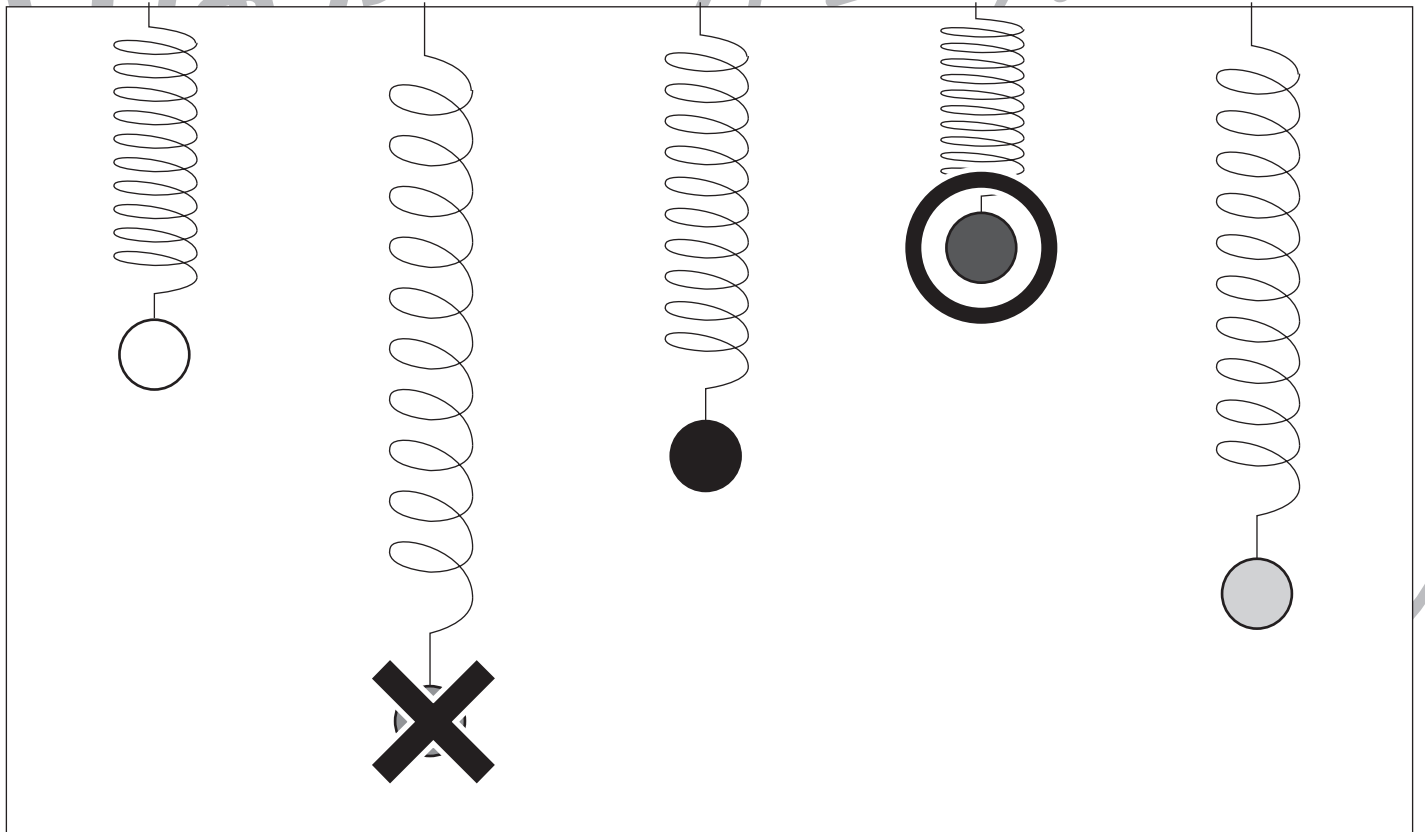
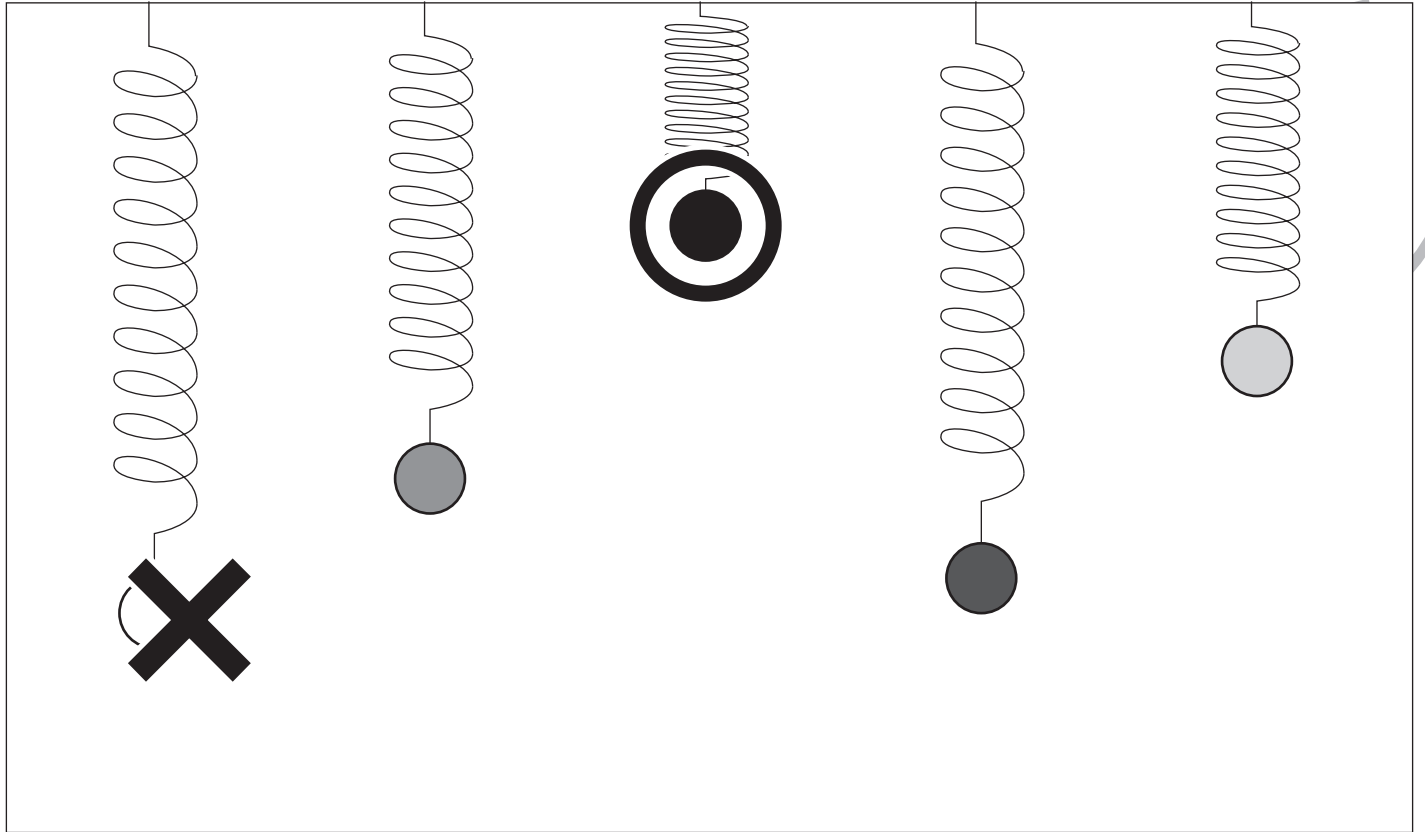


おうちで、やろう。

Study at home. 小学校受験の家庭学習教材

推理：重さ7

バネを使って重さ比べをしました。一番軽いボールに○、一番重いボールに×をつけます。



※1. このプリントは、しながわ・目黒こどもスクールのウェブサイトでダウンロードができます。無断複写・引用はご遠慮ください。
 ※2. このプリントを活用したオンライン授業のスケジュールは、しながわ・目黒こどもスクールのウェブサイトでご確認ください。

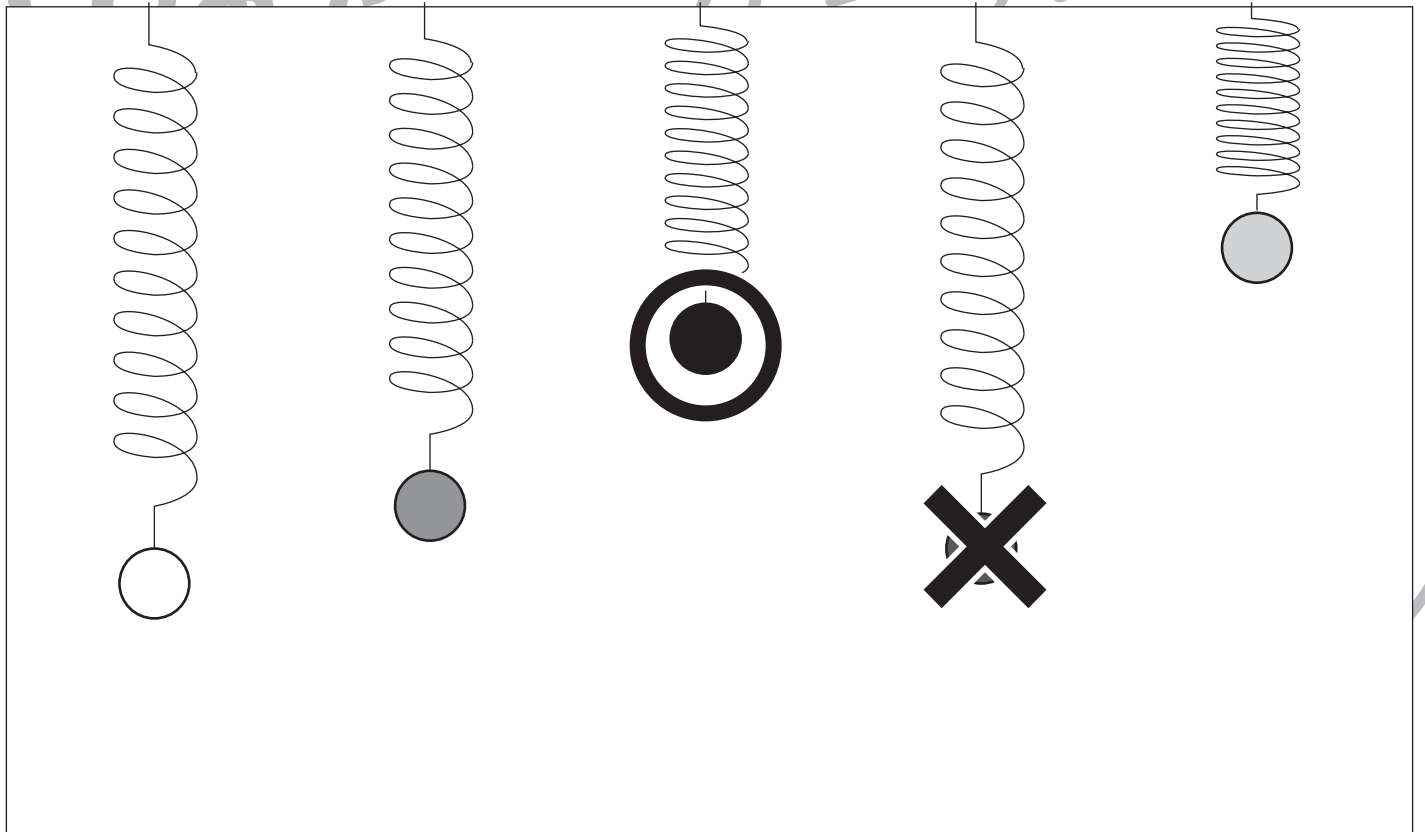
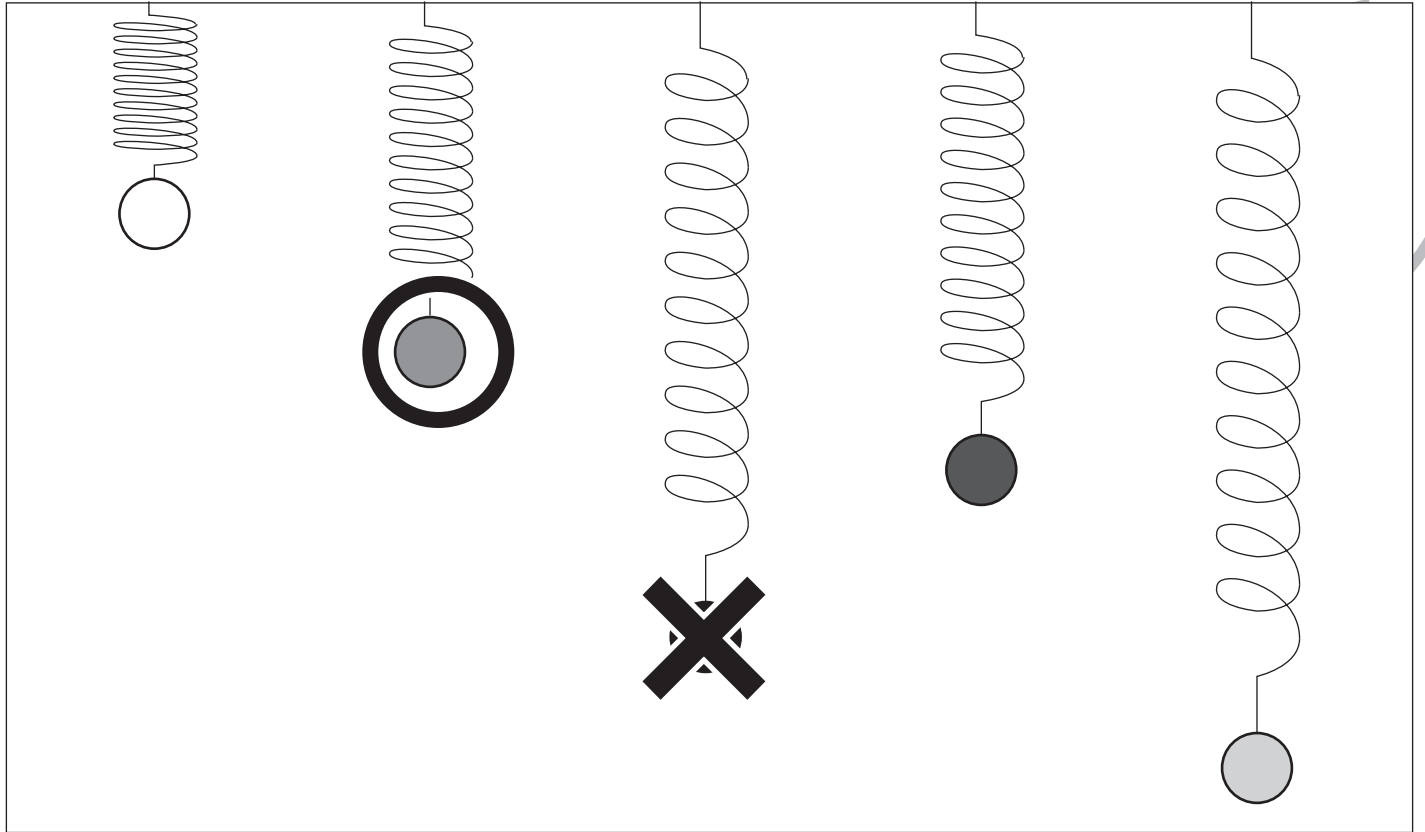


おうちで、やろう。

Study at home. 小学校受験の家庭学習教材

推理：重さ8

バネを使って重さ比べをしました。二番目に軽いボールに○、二番目に重いボールに×をつけます。



※1. このプリントは、しながわ・目黒こどもスクールのウェブサイトでダウンロードができます。無断複写・引用はご遠慮ください。
 ※2. このプリントを活用したオンライン授業のスケジュールは、しながわ・目黒こどもスクールのウェブサイトでご確認ください。



おうちで、やろう。

Study at home. 小学校受験の家庭学習教材

数量：多少 11

横に並んだ 4 つの四角の中で灰色のマスが一番多い四角に○一番少ない四角に×をつけます。

--	--	--	--

--	--	--	--

--	--	--	--

--	--	--	--

※1. このプリントは、しながわ・目黒こどもスクールのウェブサイトでダウンロードができます。無断複写・引用はご遠慮ください。
 ※2. このプリントを活用したオンライン授業のスケジュールは、しながわ・目黒こどもスクールのウェブサイトでご確認ください。



おうちで、やろう。

Study at home. 小学校受験の家庭学習教材

数量：多少 12

横に並んだ 4 つの四角の中で灰色のマスが一番多い四角に○、二番少ない四角に×をつけます。

--	--	--	--

--	--	--	--

--	--	--	--

--	--	--	--

※1. このプリントは、しながわ・目黒こどもスクールのウェブサイトでダウンロードができます。無断複写・引用はご遠慮ください。
 ※2. このプリントを活用したオンライン授業のスケジュールは、しながわ・目黒こどもスクールのウェブサイトでご確認ください。